

اسم الطالب / رقم الجلوس /

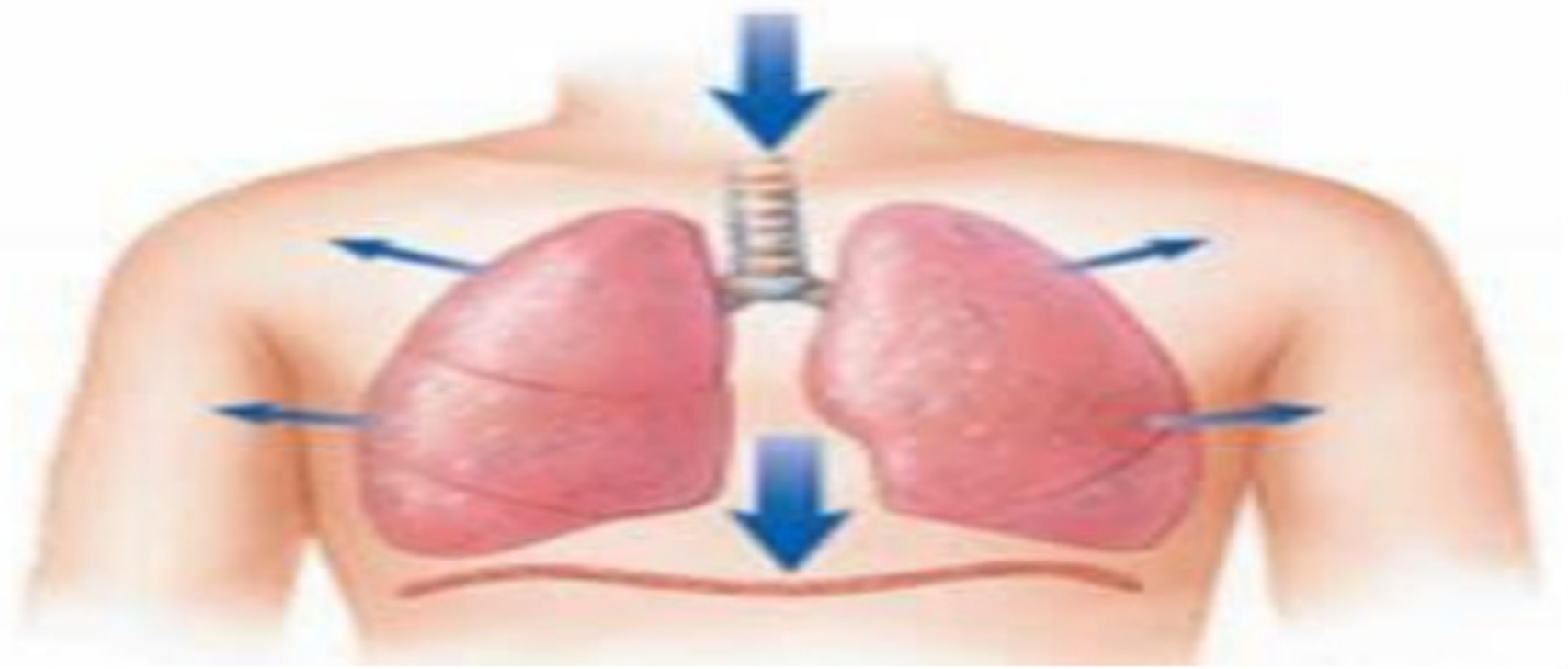
سم الله واستعن به ثم اجب عن جميع الأسئلة التالية بالتظليل في ورقة الإجابة مستخدماً المرسام (قلم رصاص HB)

عدد الأسئلة 3 في 3 صفحات

السؤال الأول الاختيار من متعدد من الفقرة (1) إلى الفقرة (25) : اختر الإجابة الصحيحة فيما يلي بتظليل الدائرة التي ترمز لها في ورقة الإجابة :-

1	أوامر رد الفعل المنعكس يتحكم فيها :	أ	الدماغ	ب	الحبل الشوكي	ج	العين	د	الاذن
2	الفترة من أخصاب البويضة حتى حدوث عملية الولادة :	أ	الحيض	ب	سن اليأس	ج	الحمل	د	الاباضة
3	المسافة القصيرة التي تفصل بين عصبون والعصبون الذي يليه تسمى :	أ	العرف الانبولي	ب	الشق التشابكي	ج	المحور الاسطواني	د	المخاريط
4	أي الفصائل الدم تعد مانحة عام ؟	أ	AB	ب	A	ج	B	د	O
5	المادة التي تفرزها الغدد الصماء :	أ	الانزيم	ب	الخلايا الهدف	ج	الهرمون	د	اللعاب
6	ما الذي يغلف اطراف العظام؟	أ	السمحاق	ب	الغضروف	ج	الاربطة	د	الاورتار
7	القلب عضلة تنقسم الى :	أ	حجرتين	ب	ثلاث حجرات	ج	اربع حجرات	د	خمس حجرات
8	البنكرياس يحوي انسجة صماء تسمى :	أ	ميلاتونين	ب	جزر لانجرهانز	ج	الاستروجين	د	التستوستيرون
9	ما نوع المفصل الموجود بالركبة :	أ	كروي	ب	محوري	ج	الرزبي	د	انزلاقي
10	يمكن تحديد جنس الجنين في الشهر :	أ	الثاني	ب	الرابع	ج	السادس	د	السابع
11	أين يدخل الدم محمل بالأكسجين أولاً ؟	أ	الاذين الايسر	ب	الاذين الأيمن	ج	البطين الأيمن	د	البطين الايسر
12	يسمى تسخين سائل لقتل البكتيريا الضارة فيه	أ	الفلتره	ب	البسترة	ج	الكيموس	د	الترشيح

13	أ	القلبية	ب	الجسمية	ج	الرئوية	د	الكبدية	الدورة ... هي جريان الدم من القلب الى الرئتين والعكس.
14	أ	الاثنا عشر	ب	المعدة	ج	الكبد	د	الأمعاء الغليظة	ما الجزء الذي يحدث فيه معظم الهضم الكيميائي ؟
15	أ	الفم	ب	الأمعاء الدقيقة	ج	الكبد	د	المعدة	أي الأعضاء ملحق بالقناة الهضمية ؟
16	أ	القصيبات	ب	القصبه الهوائية	ج	الشعيبات	د	الحويصلات	التراكيب التي يحدث بينها وبين الشعيرات الدموية عملية تبادل الغازات هي :
17	أ	أ	ب	ب	ج	د	د	د	أي الفيتامينات التالية تصنع في الجلد؟
18	أ	القرنية	ب	الشبكية	ج	البؤبؤ	د	العدسات	أي الأجزاء التالية جزء يتجمع عليه الضوء ؟
19	أ	المشيمة	ب	قناة البيض	ج	الرحم	د	المبيض	عملية تبادل المواد بين دم الام ودم الجنين تحدث في :
20	أ	الاباضة	ب	الاخصاب	ج	دورة الحيض	د	البلوغ	ماذا يسمى اتحاد البويضة والحيوان المنوي ؟
21	أ	الغدة النخامية	ب	الغدة الدرقية	ج	المبيضان	د	الغدة الكظرية	الغدة المسيطرة على معظم النشاطات الحيوية في الجسم هي :
22	أ	الاذن الداخلية	ب	الاذن الخارجية	ج	المطرقة	د	السندان	العضو الذي يتحكم في التوازن هو :
23	أ	البروجستيرون	ب	الادرينالين	ج	الميلاتونين	د	التستوستيرون	هرمون يعمل كالساعة في تنظيم نمط النوم والاسيقاظ :
24	أ	الهيموجلوبين	ب	الميلانين	ج	الانسولين	د	السيتوسين	ما الصبغة التي تحمي الجسم وتكسبه لونه؟
25	أ	الشهيق	ب	الزفير	ج	البلع	د	الامتصاص	من الصورة التي امامك. ماذا تسمى العملية التي تتم في الرئة:



السؤال الثاني الصواب و الخطأ من الفقرة (1) إلى الفقرة (10) : ظلل حرف (ص) إذا كانت العبارة صحيحة و (خ) إذا كانت العبارة خاطئة في ورقة الإجابة :-

1	الدماغ والحبل الشوكي من أجزاء الجهاز العصبي المركزي	()
2	من المفاصل الثابتة عظام الجمجمة والحوض	()
3	المناعة الاصطناعية تحدث عندما يكون الجسم اجسام مضادة خاصة فيه	()
4	العضلات التي يمكن التحكم فيها تسمى عضلات ارادية	()
5	المسنول عن امتصاص الماء هي الأمعاء الدقيقة	()
6	سرطان الدم يصيب خلايا الدم الحمراء	()
7	عند التعرض لجرح تفرز الصفائح الدموية عوامل تخثر الدم	()
8	المراهقة مرحلة توقف الاباضة والدورة الشهرية عن المرأة	()
9	الهضم الكيميائي يشمل عمليات التقطيع والطحن	()
10	الادمة هي الطبقة الخارجية من الجلد	()

السؤال الثالث المزوجة : اختر للعمود الأول ما يناسبه من العمود الثاني وظلل في ورقة الإجابة :-

م	الأول	م	الثاني
1	الجهاز الهيكلي	أ	يسيطر على أجهزة الجسم .
2	الجهاز العصبي	ب	يعطي الجسم الشكل والدعامة.
3	الجهاز الإخراجي	ج	يحرك الصدر لإدخال الهواء للرئة .
4	الجهاز التنفسي	د	ينظم درجة حرارة الجسم .
5	الجلد	هـ	يخلص الجسم من الفضلات .

إنتهت الأسئلة ,,
تمنيتي لكم بالتوفيق والنجاح
معلمة المادة /

اسم الطالب / رقم الجلوس /

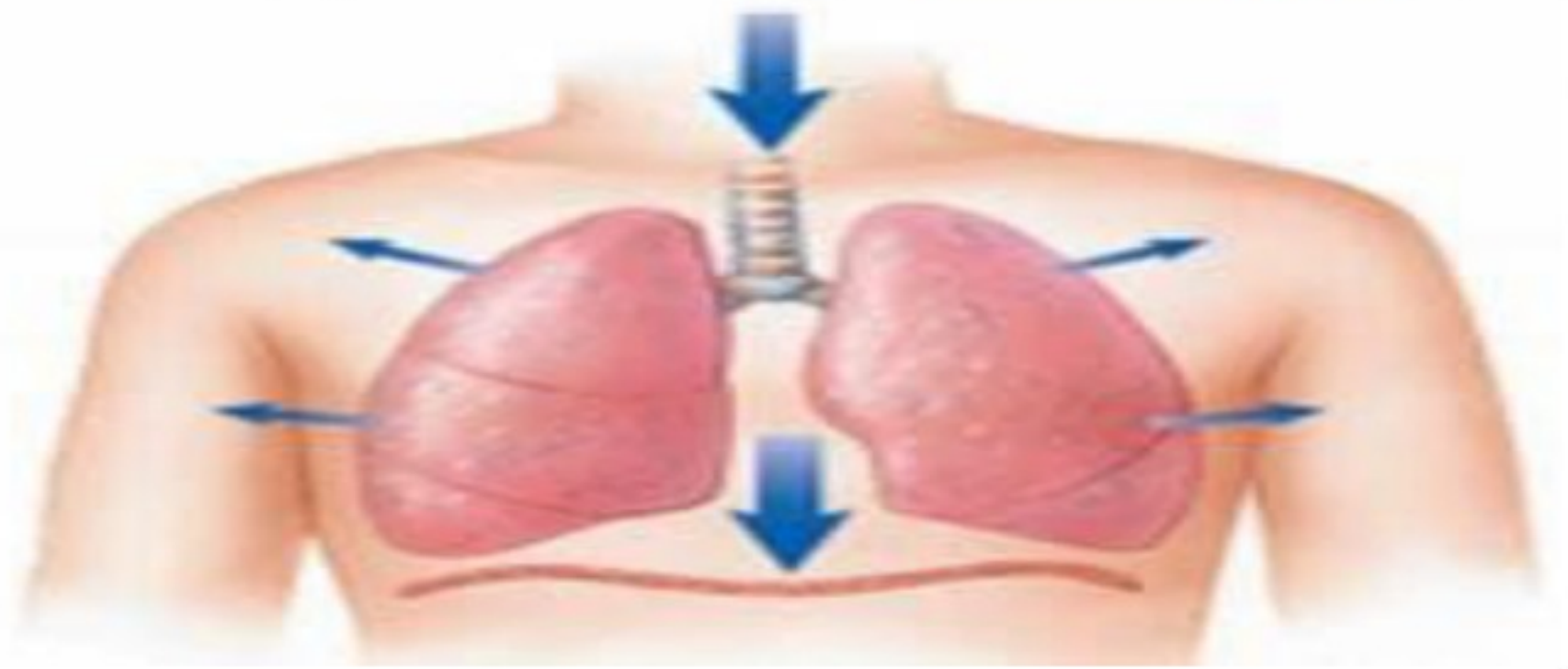
سم الله واستعن به ثم اجب عن جميع الأسئلة التالية بالتظليل في ورقة الإجابة مستخدماً المراسم (قلم رصاص HB)

عدد الأسئلة 3 في 3 صفحات

السؤال الأول الاختيار من متعدد من الفقرة (1) إلى الفقرة (25) : اختر الإجابة الصحيحة فيما يلي بتظليل الدائرة التي ترمز لها في ورقة الإجابة :-

1	أوامر رد الفعل المنعكس يتحكم فيها :	أ الدماغ	ب الحبل الشوكي	ج العين	د الأذن
2	الفترة من أخصاب البويضة حتى حدوث عملية الولادة :	أ الحيض	ب سن اليأس	ج الحمل	د الإباضة
3	المسافة القصيرة التي تفصل بين عصبون والعصبون الذي يليه تسمى :	أ العرف الانبولي	ب الشق التشابكي	ج المحور الاسطواني	د المخاريط
4	أي الفصائل الدم تعد مانحة عام ؟	أ AB	ب A	ج B	د O
5	المادة التي تفرزها الغدد الصماء :	أ الانزيم	ب الخلايا الهدف	ج الهرمون	د اللعاب
6	ما الذي يغلف اطراف العظام؟	أ السمحاق	ب الغضروف	ج الاربطة	د الاوتار
7	القلب عضلة تنقسم الى :	أ حجرتين	ب ثلاث حجرات	ج اربع حجرات	د خمس حجرات
8	البنكرياس يحوي انسجة صماء تسمى :	أ ميلاتونين	ب جزر لانجرهانز	ج الاستروجين	د التستوستيرون
9	ما نوع المفصل الموجود بالركبة :	أ كروي	ب محوري	ج الرزي	د انزلاقي
10	يمكن تحديد جنس الجنين في الشهر :	أ الثاني	ب الرابع	ج السادس	د السابع
11	أين يدخل الدم محمل بالأكسجين أولاً ؟	أ الأذين الايسر	ب الأذين الأيمن	ج البطين الأيمن	د البطين الايسر
12	يسمى تسخين سائل لقتل البكتيريا الضارة فيه	أ الفلتره	ب البسترة	ج الكيموس	د الترشيح

13	أ	القلبية	ب	الجسمية	ج	الرئوية	د	الكبدية	الدورة ... هي جريان الدم من القلب الى الرئتين والعكس.
14	أ	الاثنا عشر	ب	المعدة	ج	الكبد	د	الأمعاء الغليظة	ما الجزء الذي يحدث فيه معظم الهضم الكيميائي ؟
15	أ	الفم	ب	الأمعاء الدقيقة	ج	الكبد	د	المعدة	أي الأعضاء ملحق بالقناة الهضمية ؟
16	أ	القصيبات	ب	القصبه الهوائية	ج	الشعبيات	د	الحويصلات	التراكيب التي يحدث بينها وبين الشعيرات الدموية عملية تبادل الغازات هي :
17	أ	أ	ب	ب	ج	د	د	د	أي الفيتامينات التالية تصنع في الجلد؟
18	أ	القرنية	ب	الشبكية	ج	البؤبؤ	د	العدسات	أي الأجزاء التالية جزء يتجمع عليه الضوء ؟
19	أ	المشيمة	ب	قناة البيض	ج	الرحم	د	المبيض	عملية تبادل المواد بين دم الام ودم الجنين تحدث في :
20	أ	الاباضة	ب	الاخصاب	ج	دورة الحيض	د	البلوغ	ماذا يسمى اتحاد البويضة والحيوان المنوي ؟
21	أ	الغدة النخامية	ب	الغدة الدرقية	ج	المبيضان	د	الغدة الكظرية	الغدة المسيطرة على معظم النشاطات الحيوية في الجسم هي :
22	أ	الاذن الداخلية	ب	الاذن الخارجية	ج	المطرقة	د	السندان	العضو الذي يتحكم في التوازن هو :
23	أ	البروجستيرون	ب	الادرينالين	ج	الميلاتونين	د	التستوستيرون	هرمون يعمل كالساعة في تنظيم نمط النوم والاسيقاظ :
24	أ	الهيموجلوبين	ب	الميلانين	ج	الانسولين	د	السيتوسين	ما الصبغة التي تحمي الجسم وتكسبه لونه؟
25	أ	الشهيق	ب	الزفير	ج	البلع	د	الامتصاص	من الصورة التي امامك. ماذا تسمى العملية التي تتم في الرئة:



السؤال الثاني الصواب و الخطأ من الفقرة (1) إلى الفقرة (10) : ظلل حرف (ص) إذا كانت العبارة صحيحة و (خ) إذا كانت العبارة خاطئة في ورقة الإجابة :-

1	الدماغ والحبل الشوكي من أجزاء الجهاز العصبي المركزي	(ص)
2	من المفاصل الثابتة عظام الجمجمة والحوض	(ص)
3	المناعة الاصطناعية تحدث عندما يكون الجسم اجسام مضادة خاصة فيه	(خ)
4	العضلات التي يمكن التحكم فيها تسمى عضلات ارادية	(ص)
5	المسنول عن امتصاص الماء هي الأمعاء الدقيقة	(خ)
6	سرطان الدم يصيب خلايا الدم الحمراء	(خ)
7	عند التعرض لجرح تفرز الصفائح الدموية عوامل تخثر الدم	(ص)
8	المراهقة مرحلة توقف الاباضة والدورة الشهرية عن المرأة	(خ)
9	الهضم الكيميائي يشمل عمليات التقطيع والطحن	(خ)
10	الادمة هي الطبقة الخارجية من الجلد	(خ)

السؤال الثالث المزوجة : اختر للعمود الأول ما يناسبه من العمود الثاني وظلل في ورقة الإجابة :-

م	الأول	م	الثاني
1	الجهاز الهيكلي (ب)	أ	يسيطر على أجهزة الجسم .
2	الجهاز العصبي (أ)	ب	يعطي الجسم الشكل والدعامة.
3	الجهاز الإخراجي (هـ)	ج	يحرك الصدر لإدخال الهواء للرئة .
4	الجهاز التنفسي (ج)	د	ينظم درجة حرارة الجسم .
5	الجلد (د)	هـ	يخلص الجسم من الفضلات .

إنتهت الأسئلة ,,
تمنيتي لكم بالتوفيق والنجاح
معلمة المادة /



اسم الطالب	رقم الجلوس					
أسئلة اختبار لمادة العلوم الفصل الدراسي الثاني الدور (الأول) للعام الدراسي ١٤٤٣ هـ						
الدرجة	رقم	كتاب	اسم المصحح	التوقيع	اسم المراجع	التوقيع
	٤٠					

..... / ٨ درجة

السؤال الأول: اختر الإجابة الصحيحة مما يلي :

١. مادة كيميائية توجد في خلايا الدم الحمراء :						
أ	الهيموجلوبين	ب	الهستامين	ج	الإيدز	د
٢. المعدة تفرز حمض فتقوم بالهضم الكيميائي.						
أ	الكبريتيك	ب	النيتريك	ج	الكربونيك	د
٣. أي الأعضاء التالية محلقة بالجهاز الهضمي :						
أ	الفم	ب	المعدة	ج	الأمعاء الغليظة	د
٤. تنتج مادة كيميائية تسمى وهي صبغة تحمي الجلد وتكسبه لونه.						
أ	البشرة	ب	فيتامين د	ج	الغدد العرقية	د
٥. غشاء صلب يغطي العظم , تحمل الاوعية الدموية الغذاء لداخل العظم وتعمل الأعصاب على إصدار الإشارات هو :						
أ	السمحاق	ب	العظم الكثيف	ج	العظم الإسفنجي	د
٦. يتركب الجهاز العصبي من وحدات وظيفية أساسية تسمى :						
أ	الخلايا العصبية	ب	الخلايا الدهنية	ج	الخلايا العظمية	د
٧. أي الأجزاء التالية جزء من الأذن الداخلية :						
أ	السندان	ب	الركاب	ج	القوقعة	د
٨. أين ينمو الجنين ويتطور.....						
أ	قناة البيض	ب	المبيض	ج	المهبل	د

..... / ٩ درجة

السؤال الثاني: صغ علامة (✓) أمام العبارة الصحيحة , وعلامة (✗) أمام العبارة الخاطئة مما يلي :

١. الإيدز فايروس يهاجم جهاز المناعة والدم وسوائل الجسم المختلفة. ()
٢. الأنيميا (فقر الدم) تصيب خلايا الحمراء وتصبح غير قادرة على نقل الأكسجين. ()
٣. من أمراض الجهاز التنفسي الربو. ()
٤. العضلات (إرادية) هي عضلات التي يمكن التحكم فيها. ()
٥. القرنية هي مقطع شفاف في مقدمة العين. ()
٦. الغدة النخامية توجد فوق الكلية. ()
٧. يتكون الحيوان المنوي من ذيل فقط ويساعد في حركة الحيوان المنوي. ()
٨. الطلق هي عملية انقباض عضلات الرحم ومع زيادة قوة الانقباض. ()
٩. من وظائف الجهاز الهيكلي تنظيم وثبات درجة الحرارة. ()

تابع خلف الورقة

السؤال الثالث: أكمل العبارات التالية من بين القوسين :

..... / ٩ درجة

{ الاخصاب - الغدد القنوية - الإنزيمات - البيضاء - الصفائح الدموية - رد الفعل المنعكس - الحمل - الفيتامينات - الحمراء - الأوردة }

١. الأوعية الدموية التي تعيد الدم إلى القلب هي
٢. أجزاء خلوية تساعد على تخثر الدم
٣. مواد غذائية تحتاج إليها بكميات قليلة هي
٤. تحدث عملية الهضم الكيميائي بسبب وجود
٥. هو استجابة لا إرادية تلقائية سريعة للمنبه هو
٦. تصب إفرازاتها في الجسم عبر أنبوب صغير هي
٧. تسمى الفترة الواقعة بين إخصاب البويضة حتى حدوث عملية الولادة
٨. يسمى اتحاد الحوان المنوي والبويضة
٩. الخلايا التي تهاجم مسببات المرض هي خلايا

السؤال الرابع: (أ) أجب عن الأسئلة التالية :

..... / ١٤ درجة

١. أذكر مكونات الدم؟

.....
.....

٢. اذكر أنواع التوائم؟

.....
.....

(ب) علل لما يلي :

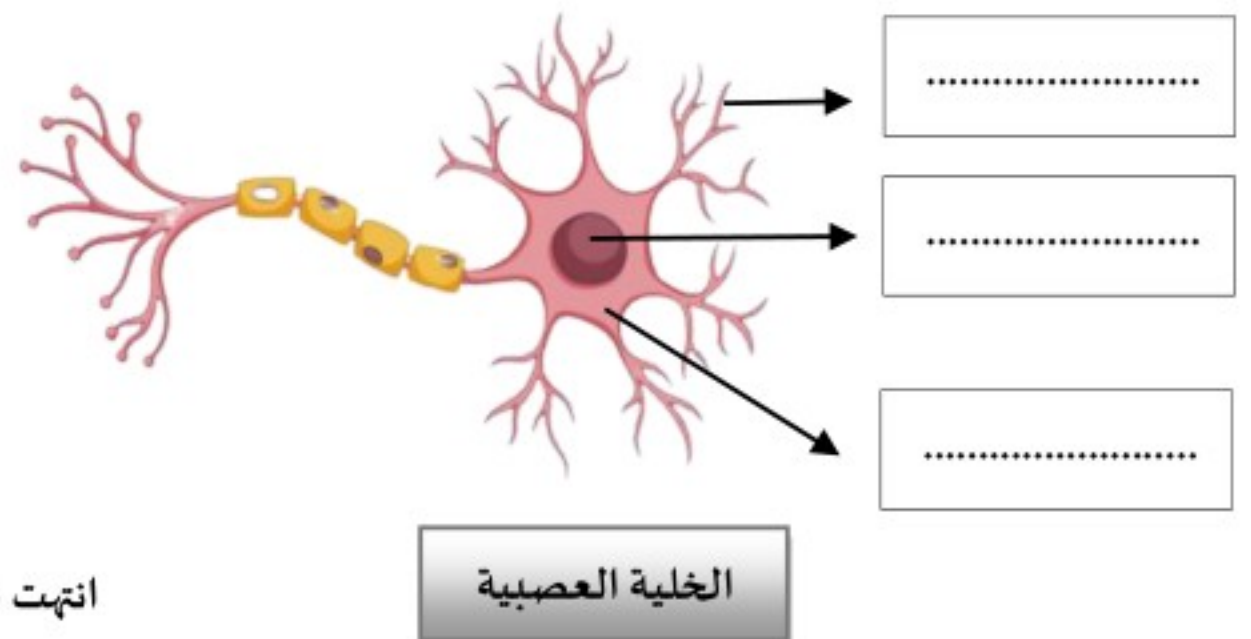
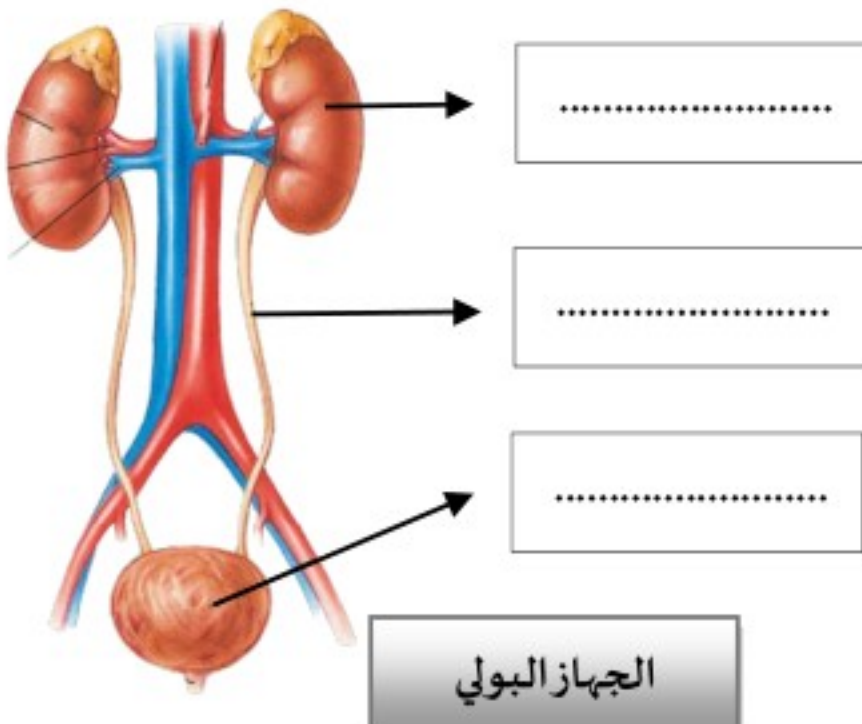
١. يُطلق على الشخص الذي فصيلة دمه O المانح العام.

.....
.....

٢. ظهور اللون الأصفر في أثناء شفاء الكدم.

.....
.....

(ج) أكمل البيات على الصورة التالية :



انتهت الأسئلة