

الدراسات الاجتماعية	المادة	١٤٤١/١٤٤٠ هـ	العام الدراسي
ساعتان	الزمن	الأول	الفصل الدراسي
٣	عدد الأوراق	الأول	الدور
٣	عدد الأسئلة	الثاني المتوسط	الصف
٣٠	عدد الفقرات		رقم اللجنة

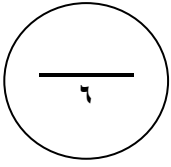
اسم الطالب	رقم الجلوس
------------	------------

بيان تقدير الدرجات						
المراجع		المصحح		الدرجة المستحقة		رقم السؤال
التوقيع	الاسم	التوقيع	الاسم	كتابة	رقماً	
						١
						٢
						٣
		راجعه:	جمعه:			المجموع
			التوقيع:		_____	الدرجة بعد المراجعة

نموذج إجابة

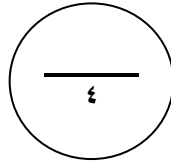
مستعينا بالله ، أجب عما يأتي :

السؤال الأول /



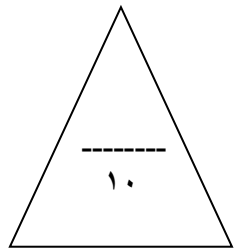
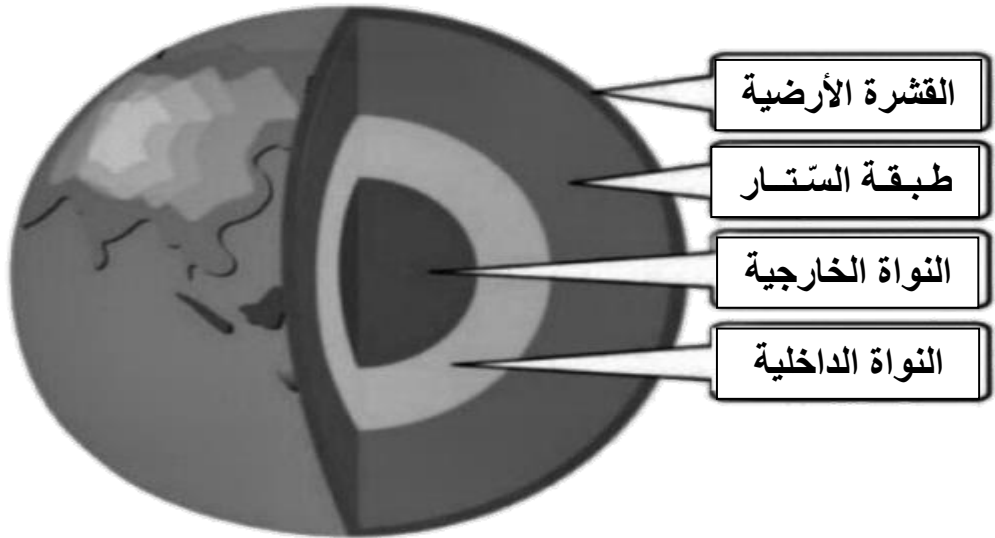
أ) ضع دائرة حول الإجابة الصحيحة فيما يأتي :

- ١- تنازل الحسن رضي الله عنه عن الخلافة لـ : (معاوية - المهدي - الوليد - المتوكل)
- ٢- كانت نهاية حكم الدولة العباسية على يد : (النصارى - المغول - الأمويين - الثوّار)
- ٣- يعد عثمان بن أرطغرل هو مؤسس الدولة : (العباسية - الأيوبية - العثمانية - الأموية)
- ٤- الغلاف الغازي الذي يحيط بالكرة الأرضية هو الغلاف : (الجوى - البحري - الصخري - البري)
- ٥- النشاط أو الاهتمام الذي يمارس في وقت الفراغ هو : (المهنة - الدراسة - الهواية - العبادة)
- ٦- تحرك الصخور والترربة بعد انكسارها يسمى : (التحلية - الالتواء - التسوية - التعرية)

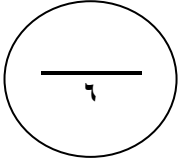


ب) حدد على الشكل الآتي ، العناصر التالية :

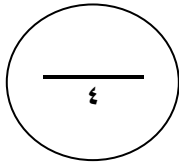
- ١- النواة الخارجية .
- ٢- النواة الداخلية .
- ٣- القشرة الأرضية .
- ٤- طبقة السّتار .



السؤال الثاني /

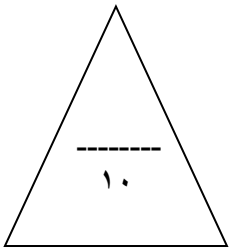


- أ () ضع علامة (√) أمام العبارة الصحيحة أو (x) أمام العبارة الخاطئة :
- ١- يعد عبدالملك بن مروان من أهم خلفاء الدولة العثمانية . (x)
 - ٢- من العمليات الداخلية البطيئة لتشكيل سطح الأرض : الإنكسارات . (√)
 - ٣- يقصد النبي بقوله (دعوها فإنها منتنة) : العصبية القبلية . (√)
 - ٤- تمكن القائد محمد الثاني (الفاتح) من فتح القسطنطينية . (√)
 - ٥- الإعصار هو : هواء خفيف لطيف حلزوني الشكل . (x)
 - ٦- الأولويات هي : ترتيب الأعمال والأنشطة وفق هوى الشخص . (x)



ب () أكمل الفراغات التالية ، بالكلمات المناسبة فيما يأتي :

- ١- من أقسام الأقاليم الحيوية : الإقليم الحار أو الإقليم المعتدل أو الإقليم البارد
- ٢- من مشكلات البيئة : تدهور التربة أو الحرائق أو التلوث أو الصيد الجائر
- ٣- من آثار ونتائج الزلازل : تدمير المدن والقرى أو حدوث شقوق في الأرض أو ظهور الينابيع أو اختفاؤها
- ٤- من أنواع الصخور : الصخور النارية أو الصخور المتحولة أو الصخور الرسوبية



السؤال الثالث /

٦

أ) اختر الرقم المناسب من العمود (أ) ثم ضعه أمام ما يناسب من العمود (ب) .

(ب)

- (٤) استعاد بيت المقدس من الصليبيين .
(٥) هو جهاز قياس الحرارة .
() هو جهاز قياس الضغط الجوي .
(١) عهده يمثل ذروة الحضارة الإسلامية .
(٣) يعد المؤسس الحقيقي للدولة العباسية .
(٢) من أهم خلفاء الدولة الأموية .
(٦) هو جهاز قياس الرطوبة .

(أ)

- ١- هارون الرشيد :
٢- عمر بن عبدالعزيز :
٣- أبو جعفر المنصور :
٤- صلاح الدين الأيوبي :
٥- الترمومتر الإلكتروني :
٦- الهيجرومتر (المرطاب) :

ب) عرف المصطلحات التالية :

- ١- التجوية هي : عملية خارجية تؤدي إلى تفكك الصخور أو تكسرها أو تحللها أو نحتها
٢- الطقس هو : وصف حالة الجو بعناصره المختلفة في منطقة محددة في مدة زمنية قصيرة

٢

ج) قارن بين طبقات الغلاف الجوي وفق ما يلي .:

أوجه المقارنة	الطبقة الأولى	الطبقة الثانية
اسمها	التروبوسفير	الستراتوسفير
خصائصها	تجميع الأبخرة وتحويلها لأمطار	تحمي كوكب الأرض من الأشعة فوق البنفسجية

١٠