

قررت وزارة التعليم تدريس
هذا الكتاب وطبعه على نفقتها

كيمياء ٤

التعليم الثانوي- نظام المقررات
(مسار العلوم الطبيعية)



قام بالتأليف والمراجعة
فريق من المتخصصين

يُوزع مجاناً ولا يُبَاع

طبعة ١٤٤٢-٢٠٢٠

ح) وزارة التعليم ، ١٤٣٩هـ

فهرسة مكتبة الملك فهد الوطنية أثناء النشر
وزارة التعليم

الكيمياء ٤ التعليم الثانوي ، نظام المقررات ، مسار العلوم الطبيعية.
وزارة التعليم. الرياض ، ١٤٣٩هـ .

٢٤٦ص : ٢٧,٥ X ٢١ سم

ردمك : ٩٧٨-٦٠٣-٥٠٨-٦٦٦-٠

١- الكيمياء - مناهج - السعودية
السعودية. أ - العنوان

١٤٣٩/٩٥٢٩

ديوي ٥٤٠,٧١٢

رقم الإيداع : ١٤٣٩/٩٥٢٩

ردمك : ٩٧٨-٦٠٣-٥٠٨-٦٦٦-٠

حقوق الطبع والنشر محفوظة لوزارة التعليم

www.moe.gov.sa

مواد إثرائية وداعمة على "منصة عين"



IEN.EDU.SA

تواصل بمقترحاتك لتطوير الكتاب المدرسي



FB.T4EDU.COM



بِسْمِ اللَّهِ الرَّحْمَنِ الرَّحِيمِ

المخاطر والاحتياطات اللازم مراعاتها

رموز السلامة	المخاطر	الأمثلة	الاحتياطات	العلاج
 التخلص من المخلفات	مخلفات التجربة قد تكون ضارة بالإنسان.	بعض المواد الكيميائية، والمخلوقات الحية.	لا تتخلص من هذه المواد في المغسلة أو في سلة المهملات.	تخلص من المخلفات وفق تعليمات المعلم.
 ملوثات حيوية بيولوجية	مخلوقات ومواد حية قد تسبب ضرراً للإنسان.	البكتيريا، الفطريات، الدم، الأنسجة غير المحفوظة، المواد النباتية.	تجنب ملامسة الجلد لهذه المواد، وارتد كمامة وقفازين.	أبلغ معلمك في حالة حدوث ملامسة للجسم، واغسل يديك جيداً.
 درجة الحرارة المؤذية	الأشياء التي قد تحرق الجلد بسبب حرارتها أو برودتها الشديتين.	غليان السوائل، السخانات الكهربائية، الجليد الجاف، النيتروجين السائل.	استعمال قفازات واقية.	اذهب إلى معلمك طلباً للإسعاف الأولي.
 الأجسام الحادة	استعمال الأدوات والزجاجات التي تجرح الجلد بسهولة.	المقصات، الشفرات، السكاكين، الأدوات المدببة، أدوات التشريح، الزجاج المكسور.	تعامل بحكمة مع الأداة، واتبع إرشادات استعمالها.	اذهب إلى معلمك طلباً للإسعاف الأولي.
 الأبخرة الضارة	خطر محتمل على الجهاز التنفسي من الأبخرة.	الأمونيا، الأستون، الكبريت الساخن، كرات العث (النفثالين).	تأكد من وجود تهوية جيدة، ولا تشم الأبخرة مباشرة، وارتد كمامة.	اترك المنطقة، وأخبر معلمك فوراً.
 الكهرباء	خطر محتمل من الصعقة الكهربائية أو الحريق.	تأريض غير صحيح، سواحل منسكبة، تماس كهربائي، أسلاك معزاة.	تأكد من التوصيلات الكهربائية للأجهزة بالتعاون مع معلمك.	لا تحاول إصلاح الأعطال الكهربائية، واستعن بمعلمك فوراً.
 المواد المهيجة	مواد قد تهيج الجلد أو الغشاء المخاطي للقناة التنفسية.	حبوب اللقاح، كرات العث، سلك المواعين، ألياف الزجاج، برمنجنات البوتاسيوم.	ضع واقياً للقفاز، وارتد قفازين، وتعامل مع المواد بحرص شديد.	اذهب إلى معلمك طلباً للإسعاف الأولي.
 المواد الكيميائية	المواد الكيميائية التي قد تتفاعل مع الأنسجة والمواد الأخرى وتلتفها.	المبيضات مثل فوق أكسيد الهيدروجين والأحماض كحمض الكبريتيك، القواعد كالأمونيا وهيدروكسيد الصوديوم.	ارتد نظارة واقية، وقفازين، والبس معطف المختبر.	اغسل المنطقة المصابة بالماء، وأخبر معلمك بذلك.
 المواد السامة	مواد تسبب التسمم إذا ابتلعت أو استنشقت أو لمست.	الزئبق، العديد من المركبات الفلزية، اليود، النباتات السامة.	اتبع تعليمات معلمك.	اغسل يديك جيداً بعد الانتهاء من العمل، واذهب إلى معلمك طلباً للإسعاف الأولي.
 مواد قابلة للاشتعال	بعض الكيماويات يسهل اشتعالها باللهب، أو بالشرر، أو عند تعرضها للحرارة.	الكحول، الكيروسين، الأستون، برمنجنات البوتاسيوم، الملابس، الشعر.	تجنب مناطق اللهب عند استخدام الكيماويات.	أبلغ معلمك طلباً للإسعاف الأولي، واستخدم مطفأة الحريق إن وجدت.
 اللهب المشتعل	ترك اللهب مفتوحاً يسبب الحريق.	الشعر، الملابس، الورق، المواد القابلة للاشتعال.	اربط الشعر إلى الخلف (للطالبات)، ولا تلبس الملابس الفضفاضة، واتبع تعليمات المعلم عند إشعال اللهب أو إطفائه.	أبلغ معلمك طلباً للإسعاف الأولي، واستخدم مطفأة الحريق إن وجدت.

 غسل اليدين	 نشاط إشعاعي	 وقاية الملابس	 سلامة العين
اغسل يديك بعد كل تجربة بالماء والصابون قبل نزع النظارة الواقية.	يظهر هذا الرمز عند استعمال مواد مشعة.	يظهر هذا الرمز عندما تسبب المواد بقعاً أو حريقاً للملابس.	يجب دائماً ارتداء نظارة واقية عند العمل في المختبر.

الإسعافات الأولية في المختبر

أخبر معلمك في الحال عن أي حوادث قد تقع، وعليك أن تكون على علم بما يلي:

- احتياطات السلامة في المختبر.
- كيف ومتى تبلغ عن حادث، أو إصابة أو جرح، أو مادة مسكوية.
- مكان صندوق الإسعافات الأولية ومستلزماتها، ومواقع كل من أجهزة إنذار الحريق والهاتف ومكتب الممرض في المدرسة.

الموقف	الاستجابة الآمنة
الحروق	يُسكب عليها الماء البارد بغزارة .
الجروح والكدمات	اتباع التعليمات والإرشادات الموجودة في صندوق الإسعافات الأولية.
الصدمة الكهربائية	تزويد الشخص بالهواء المنعش، وتمديد الشخص المصاب في وضع يكون فيه الرأس منخفضاً عن باقي الجسم، وإجراء عملية التنفس الاصطناعي إذا كان ضرورياً.
الإغماء أو الإنهيار	ارجع إلى الإستجابة في موقف الصدمة الكهربائية.
الحريق	إقفال جميع مصادر اللهب وإغلاق صناديق الغاز، ولف المصاب ببطانية الحريق، استعمال طفاية الحريق لإخماد النار. لا يجب استخدام الماء لإطفاء الحريق؛ لأن الماء يتفاعل مع المواد المحترقة، مما يتسبب في ازدياد الحريق.
مادة مجهولة في العين	غسل العين بالماء النظيف.
التسمم	معرفة العامل المسبب للتسمم، وإبلاغ المعلم للقيام باللائم.
النزف الشديد	الضغط على الجرح لوقف النزيف، وطلب المساعدة الطبية في الحال.
المواد المسكوية	غسل المنطقة المصابة بكمية كبيرة من الماء.

بِسْمِ اللَّهِ الرَّحْمَنِ الرَّحِيمِ

الحمد لله رب العالمين، والصلاة والسلام على أشرف الأنبياء والمرسلين، وعلى آله وصحبه أجمعين، وبعد:

يأتي اهتمام المملكة بتطوير المناهج الدراسية وتحديثها من منطلق أحد التزامات رؤية المملكة العربية السعودية (٢٠٣٠) وهو: "إعداد مناهج تعليمية متطورة تركز على الممارسات الأساسية بالإضافة إلى تطوير المواهب وبناء الشخصية"، وذلك من منطلق تطوير التعليم وتحسين مخرجاته ومواكبة التطورات العالمية على مختلف الصعد.

ويأتي كتاب كيمياء ٤ للتعليم الثانوي (نظام المقررات) داعماً لرؤية المملكة العربية السعودية (٢٠٣٠) نحو الاستثمار في التعليم "عبر ضمان حصول كل طالب على فرص التعليم الجيد وفق خيارات متنوعة"، بحيث يكون الطالب فيها هو محور العملية التعليمية التعلمية. وقد جاء هذا الكتاب في ستة فصول، هي: الغازات، والمخاليط والمحاليل، والأحماض والقواعد، وتفاعلات الأكسدة والاختزال، والكيمياء الكهربائية، والمركبات العضوية الحيوية.

والكيمياء فرع من العلوم الطبيعية يتعامل مع بنية المادة ومكوناتها وخصائصها النشطة. ولأن المادة هي كل شيء يشغل حيزاً في الفراغ وله كتلة، إذن فالكيمياء تهتم بدراسة كل شيء يحيط بنا، ومن ذلك السوائل التي نشربها، والغازات التي نتنفسها، والمواد التي يتكون منها جهازنا الخلوي، وطبيعة الأرض تحت أقدامنا. كما تهتم بدراسة جميع التغيرات والتحويلات التي تطرأ على المادة. فالنفط الخام يحوّل إلى منتجات نفطية قابلة للاستخدام بطرائق كيميائية، وكذلك تحويل بعض المنتجات النفطية إلى مواد بلاستيكية. والمواد الخام المعدنية يستخلص منها الفلزات التي تستخدم في العديد من الصناعات الدقيقة، وفي صناعة السيارات والطائرات. والأدوية المختلفة تستخلص من مصادر طبيعية ثم تفصل وتركب في مختبرات كيميائية. ويتم في هذه المختبرات تعديل مواصفات هذه الأدوية لتتوافق مع المواصفات الصيدلانية، وتلبي متطلبات الطب الحديث. وقد تم بناء محتوى كتاب الطالب بطريقة تتيح ممارسة العلم كما يمارسه العلماء، وجاء تنظيم المحتوى بأسلوب مشوق يعكس الفلسفة التي بنيت عليها سلسلة مناهج العلوم من حيث إتاحة الفرص المتعددة للطالب لممارسة الاستقصاء العلمي بمستوياته المختلفة، المبني والموجه والمفتوح. فقبل البدء في دراسة محتوى كل فصل من فصول الكتاب، يقوم الطالب بالاطلاع على الفكرة العامة للفصل التي تقدم صورة شاملة عن محتواه. ثم يقوم بتنفيذ أحد أشكال الاستقصاء المبني تحت عنوان التجربة الاستهلالية التي تساعد أيضاً على تكوين النظرة الشاملة عن محتوى الفصل. وتتيح التجربة الاستهلالية في نهايتها ممارسة شكل آخر من أشكال الاستقصاء الموجه

من خلال سؤال الاستقصاء المطروح. وتتضمن النشاطات التمهيديّة للفصل إعداد مطوية تساعد على تلخيص أبرز الأفكار والمفاهيم التي سيتناولها الفصل. وهناك أشكال أخرى من النشاطات الاستقصائية الأخرى التي يمكن تنفيذها من خلال دراسة المحتوى، ومنها مختبرات تحليل البيانات، أو حل المشكلات، أو التجارب العملية السريعة، أو مختبر الكيمياء في نهاية كل فصل، الذي يتضمن استقصاءً مفتوحاً في نهايته، بما يُعزز أيضاً مبدأ رؤية (٢٠٣٠) "نتعلّم لنعمل".

وعندما تبدأ دراسة المحتوى تجد في كل قسم ربطاً بين المفردات السابقة والمفردات الجديدة، وفكرة رئيسية خاصة بكل قسم ترتبط مع الفكرة العامة للفصل. وستجد أدوات أخرى تساعدك على فهم المحتوى، منها ربط المحتوى مع واقع الحياة، أو مع العلوم الأخرى، وشرحاً وتفسيراً للمفردات الجديدة التي تظهر مظلمة باللون الأصفر، وتجد أيضاً أمثلة محلولة يليها مسائل تدريبية تعمّق معرفتك وخبراتك في فهم محتوى الفصل. وتضمّن كل قسم مجموعة من الصور والأشكال والرسوم التوضيحية بدرجة عالية الوضوح تعزز فهمك للمحتوى. وتجد أيضاً مجموعة من الشروح والتفسيرات في هوامش الكتاب، ومنها ما يتعلق بالربط بمحاور رؤية (٢٠٣٠) وأهدافها الاستراتيجية، وبالمهن أو التمييز بين الاستعمال العلمي والاستعمال الشائع لبعض المفردات، أو إرشادات للتعامل مع المطوية التي تعدّها في بداية كل فصل.

وقد وظفت أدوات التقويم الواقعي في مستويات التقويم بأنواعه الثلاثة، التمهيدي والتكويني والختامي؛ إذ يمكن توظيف الصورة الافتتاحية في كل فصل بوصفها تقويمًا تمهيدياً لتعرف ما يعرفه الطلاب عن موضوع الفصل، أو من خلال مناقشة الأسئلة المطروحة في التجربة الاستهلاكية. ومع التقدم في دراسة كل جزء من المحتوى تجد سؤالاً تحت عنوان «ماذا قرأت؟»، وتجد تقويمًا خاصًا بكل قسم من أقسام الفصل يتضمن أفكار المحتوى، وأسئلة تعزز فهمك لما تعلمت وما ترغب في تعلمه في الأقسام اللاحقة. وفي نهاية الفصل تجد دليلاً لمراجعة الفصل يتضمن تذكيراً بالفكرة العامة والأفكار الرئيسة والمفردات الخاصة بأقسام الفصل، وخلاصة بالأفكار الرئيسة التي وردت في كل قسم. ثم تجد تقويمًا للفصل في صورة أسئلة متنوعة تهدف إلى إتقان المفاهيم، وحل المسائل، وأسئلة خاصة بالتفكير الناقد، والمراجعة العامة، والمراجعة التراكمية، ومسائل تحدّ، وتقويمًا إضافيًا يتضمن تقويم مهارات الكتابة في الكيمياء، وأسئلة خاصة بالمستندات تتعلق بنتائج بعض التقارير أو البحوث العلمية. وفي نهاية كل فصل تجد اختباراً مقنناً يهدف إلى تقويم فهمك للموضوعات التي قمت بتعلمها سابقاً.

والله نسأل أن يحقق الكتاب الأهداف المرجوة منه، وأن يوفق الجميع لما فيه خير الوطن وتقدمه وازدهاره.

قائمة المحتويات

دليل الطالب

كيف تستفيد من كتاب الكيمياء؟ 9

الفصل 1

الغازات 12

1-1 قوانين الغازات 14

1-2 قانون الغاز المثالي 25

1-3 الحسابات المتعلقة بالغازات 33

الكيمياء والصحة: الصحة والضغط 38

الفصل 2

المخاليط والمحاليل 48

2-1 أنواع المخاليط 50

2-2 تركيز المحلول 55

2-3 العوامل المؤثرة في الذوبان 65

2-4 الخواص الجامعة للمحاليل 74

في الميدان: مهن: كيميائي البيئة 81

الفصل 3

الأحماض والقواعد 90

3-1 مقدمة في الأحماض والقواعد 92

3-2 قوة الأحماض والقواعد 102

3-3 أيونات الهيدروجين والرقم الهيدروجيني 108

3-4 التعادل 117

الكيمياء من واقع الحياة: تفاعلات الأحماض

والقواعد وعملية الخبز 127

الفصل 4

تفاعلات الأكسدة والاختزال 138

4-1 الأكسدة والاختزال 140

4-2 وزن معادلات الأكسدة والاختزال 149

في الميدان: المهنة: محقق البحث الجنائي 157

الفصل 5

الكيمياء الكهربائية 168

5-1 الخلايا الجلفانية 170

5-2 البطاريات 180

5-3 التحليل الكهربائي 190

كيف تعمل الأشياء؟ منظم ضربات القلب 195

الفصل 6

المركبات العضوية الحيوية 206

6-1 البروتينات 208

6-2 الكربوهيدرات 214

6-3 الليبيدات 217

6-4 الأحماض النووية 222

في الميدان: المهنة: عالم البيولوجيا الجزيئية 226

الملاحق

المصطلحات 236

الجدول الدوري 244



كيف تستفيد من كتاب الكيمياء؟

هذا الكتاب ليس كتاباً أدبياً أو رواية خيالية، بل يصف ظواهر ونظريات وقوانين وحقائق علمية، ويربطها بحياة الناس، وتطبيقات تقنية؛ لذا فأنت تقرؤه طلباً للعلم والمعلومات. وفيما يلي بعض الأفكار والإرشادات التي تساعدك على قراءته:

قبل أن تقرأ

اقرأ كلاً من **الفكرة العامة** و**الفكرة الرئيسية** و**التجربة الاستهلاكية**؛ فهي تزودك بنظرة عامة تمهيدية لهذا الفصل.

لكل فصل **فكرة عامة** تقدم صورة شاملة عنه. ولكل قسم من أقسام الفصل **فكرة رئيسية** تدعم فكرته العامة.

الفصل 1

الغازات

Gases



الفكرة العامة تستجيب الغازات لتغيرات كل من الضغط ودرجة الحرارة والحجم وعده الجسيمات بطرائق يمكن التنبؤ بها.

1-1 قوانين الغازات

الفكرة الرئيسية إن تغير الضغط أو درجة الحرارة أو الحجم لكمية ثابتة من غاز ستؤثر على المتغيرين الآخرين.

1-2 قانون الغاز المثالي

الفكرة الرئيسية يربط قانون الغاز المثالي بين هذه المولات مع كل من الضغط ودرجة الحرارة والحجم.

1-3 الحسابات المتعلقة بالغازات

الفكرة الرئيسية عندما تتفاعل الغازات فإن المعاملات في المعادلات الكيميائية الموزونة التي تشمل هذه التفاعلات تشير إلى أعداد المولات والحجوم النسبية للغازات.

حقائق كيميائية

- درجة حرارة الهواء في المتطاد كافية لثقل الماء.
- استخدم العالم جوزيف جاي-لوساك في القرن التاسع عشر متطاد الهواء الساخن في أبحاثه وتجاربه، في حين استخدم العالم جاك شارل متطاد الهيدروجين في تجاربه.
- يحتوي متطاد الهواء الساخن في المتوسط على 2.5 مليون لتر من الغاز.

سلة المتطاد

موقد الهيدروجين

يبدأ كل فصل بتجربة استهلاكية تقدم المادة التي يتناولها. نفذ **التجربة الاستهلاكية**، لتكتشف المفاهيم التي سيتناولها الفصل.

لتحصل على رؤية عامة عن الفصل

- اقرأ عنوان الفصل لتتعرف موضوعاته.
- تصفح الصور والرسوم والتعليقات والجداول.
- ابحث عن المفردات البارزة والمظللة باللون الأصفر.
- اعمل مخططاً للفصل باستخدام العناوين الرئيسية والعناوين الفرعية.

نشاطات تمهيدية

المطلوبات
معدات المختبر
قوانين الغازات اصمبل الطويات الآتية لتساعدك على تنظيم دراسة قوانين الغاز.

- الخطوة 1** أحضر ثلاث ورقات، وضع بعضها فوق بعض، ودع حوافها العليا متباعدة رأسياً بمقدار 2 cm
- الخطوة 2** اثن الأطراف السفلية للأوراق على أن تكون خمس طيات متساوية. ثم اضغط على الطيات لتثبيتها في أماكنها.

الخطوة 3 ثبت الطوية، كما في الشكل، وحنون الطيات على النحو الآتي: قوانين الغازات، بويل، شارل، جاي-لوساك، القانون العام، قانون الغاز المثالي.

ملاحظة استخدم هذه الطوية في إنشاء قراءة القصص 1-1 و 2-1. خمس قوانين الغازات بكلماتك الخاصة.

تجربة استهلاكية

كيف تؤثر درجة الحرارة على حجم الغاز؟
تعمل شعلة المتطاد - انظر الصفحة اليمنى - على رفع درجة حرارة الهواء داخله ليقيى معلقاً في الجو.



خطوات العمل

1. اقرأ تعليمات السلامة في المختبر.
2. التلع بالوناً ثم اربطه.
3. اسكب ماء بارداً في دلو إلى منتصفه، ثم أضف إليه قطع من الثلج.
4. استخدم عيلاً لقياس محيط البالون.
5. حرك الماء والثلج في الدلو جيداً، حتى تبتت درجة حرارته، ثم اغمس البالون في الماء والثلج مدة 15 دقيقة.
6. أخرج البالون من الماء، ثم قس محيطه.

التحليل

1. صف ما حدث لحجم البالون عندما غُمر في حوض الماء والثلج.
 2. توقع ما يحدث لحجم البالون لو كان الدلو يحتوي ماء ساخناً.
- استنتج ما إذا يحدث إذا ملأت البالون بالهيليوم بدلاً من الهواء، وأجريت التجربة مرة أخرى؟

عندما تقرأ

ستجد في كل قسم أداة تعمق فهمك للموضوعات التي ستدرسها، وأدوات أخرى لاختبار مدى استيعابك لها.

الربط مع الحياة: يصف ارتباط المحتوى مع الواقع.

1-1

الأهداف

- اكتساب العلاقة بين الضغط ودرجة الحرارة والحجم للغاز ثابت من الغاز.
- تطبيق قوانين الغاز على المسائل التي تتضمن الضغط ودرجة الحرارة والحجم لتقدير عدد من الغاز.

مراجعة المفردات

القانون العكسي، يصف علاقة في الطبيعة تدعمها عدة تجارب.

المفردات الجديدة

- قانون بويل
- العصر المطلق
- قانون شارل
- قانون جاي-لوساك
- القانون العام للغازات

قوانين الغازات The Gas Laws

الفكرة العامة ▶ إن تغير الضغط أو درجة الحرارة أو الحجم لكمية ثابتة من غاز متوحد على التغيرين الآخرين.

الربط مع الحياة ▶ ماذا يحدث لغاز في بالون إذا قللت حجمه بالضغط عليه؟ مستشعر بزيادة في المقاومة، وقد نشاهد انفتاحاً في جزء من البالون.

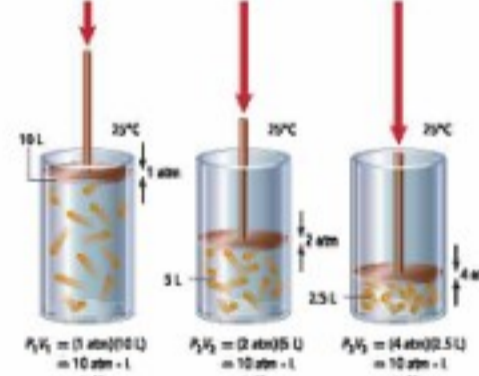
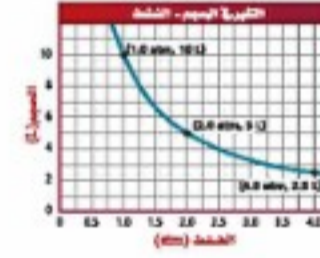
قانون بويل Boyle's Law

ضغط الغاز وحجمه مترابطان. وقد وصف العالم الأيرلندي روبرت بويل (1627-1691م) هذه العلاقة.

كيف يرتبط الضغط مع الحجم؟ لقد صمم بويل تجربة كالمبينة في الشكل 1-1، ووضح من خلالها أنه إذا كانت كمية الغاز ودرجة الحرارة ثابتين فإن مضاعفة الضغط الواقع على الغاز يقلل من حجمه إلى النصف. ومن ناحية أخرى فإن تقليل الضغط الواقع على الغاز إلى النصف يضاعف حجم الغاز. وتتميز العلاقة التي يزيد فيها أحد المتغيرين عندما يقل الآخر بعلاقة التناسب العكسي.

ينص **قانون بويل** على أن حجم كمية محددة من الغاز يتناسب عكسياً مع الضغط الواقع عليه عند ثبوت درجة حرارته. بين الشكل 1-1 العلاقة العكسية بين الضغط والحجم، حيث يتجه المنحنى إلى أسفل.

الشكل 1-1 عندما يزيد الضغط الخارجي على مكبس الأسطوانة يقل حجم الغاز داخل الأسطوانة. ويوضح الرسم البياني الآتي العلاقة العكسية بين الضغط والحجم.



استخدم الرسم البياني طبق استخدم الرسم لتحديد الحجم، إذا كان مقدار الضغط (2.5 atm).

14

الأمثلة المحلولة تنقلك تدريجياً إلى حل مسائل في الكيمياء. عزز المهارات التي اكتسبتها بحل التدريبات.

مهارات قرائية

- اسأل نفسك: ما الفكرة العامة؟ وما الفكرة الرئيسية؟
- اربط المعلومات التي درستها في هذا الكتاب مع المجالات العلمية الأخرى.
- توقع أحداثاً ونتائج من خلال توظيف المعلومات التي تعرفها من قبل.
- غير توقعاتك وأنت تقرأ وتجمع معلومات جديدة.

مثال 1-3

قانون جاي-لوساك إذا كان ضغط غاز الأكسجين داخل الأسطوانة 5.00 atm عند درجة 25.0 °C، ووضعت الأسطوانة في خيمة على قمة جبل إلرست، حيث تكون درجة الحرارة 10.0 °C - فما الضغط الجديد داخل الأسطوانة؟

تحليل المسألة

ينص قانون جاي-لوساك على أنه إذا انخفضت درجة حرارة الغاز المحصور فإن ضغطه ينخفض إذا بقي حجمه ثابتاً. لذلك يقل الضغط في أسطوانة الأكسجين. يجب ضرب مقدار الضغط الابتدائي في نسبة درجة حرارة أقل من 1.

المعطيات	$P_1 = 5.00 \text{ atm}$
$T_1 = 25.0 \text{ }^\circ\text{C}$	
$T_2 = -10.0 \text{ }^\circ\text{C}$	
المطلوب	$P_2 = ? \text{ atm}$

حساب المطلوب

حول درجات الحرارة السيليزية إلى مطلقة

$$T_K = 273 + T_C$$

$$T_1 = 273 + 25.0 \text{ }^\circ\text{C} = 298.0 \text{ K}$$

$$T_2 = 273 + (-10.0 \text{ }^\circ\text{C}) = 263.0 \text{ K}$$

استخدم قانون جاي-لوساك لإيجاد قيمة P_2 وعرض بالقيم المعروفة في المعادلة التي أعيد ترتيبها.

$$\frac{P_1}{T_1} = \frac{P_2}{T_2}$$

$$P_2 = P_1 \left(\frac{T_2}{T_1} \right)$$

$$P_2 = 5.00 \text{ atm} \left(\frac{263.0 \text{ K}}{298.0 \text{ K}} \right)$$

$$P_2 = 5.00 \text{ atm} \left(\frac{263.0 \text{ K}}{298.0 \text{ K}} \right) = 4.41 \text{ atm}$$

اضرب الأرقام والوحدات وانفسها.

تقويم الإجابة

تقل درجة الحرارة المطلقة، لذا يقل الضغط. وحدة الضغط atm، وهناك ثلاثة أرقام معنوية.

مسائل تدريبية

افترض أن الحجم و كمية الغاز ثابتان في المسائل الآتية:

8. إذا كان ضغط إطار سيارة 1.88 atm عند درجة حرارة 25 °C، فكم يكون الضغط إذا ارتفعت درجة الحرارة إلى 37.0 °C؟

9. يوجد غاز هيليوم في أسطوانة حجمها 2L، تحت تأثير ضغط جوي مقدار 1.12 atm، فإذا أصبح ضغط الغاز 2.56 atm، عند درجة حرارة 36.5 °C، فما قيمة درجة حرارة الغاز الابتدائية؟

10. ضعيف إذا كان ضغط عينة من الغاز يساوي 30.7 KPa عند درجة حرارة 00.0 °C، فكم ينبغي أن ترتفع درجة الحرارة السيليزية للعينة حتى يتضاعف ضغطها؟

21

كيف تستفيد من كتاب الكيمياء؟

بعدها قرأت

اقرأ الخلاصة، وأجب عن الأسئلة لتقويم مدى فهمك لما درسته.

الجدول 1-1	قوانين الغازات			
القانون	بويل	شارل	جاي لوساك	القانون العام
الصيغة	$P_1V_1 = P_2V_2$	$\frac{V_1}{T_1} = \frac{V_2}{T_2}$	$\frac{P_1}{T_1} = \frac{P_2}{T_2}$	$\frac{P_1V_1}{T_1} = \frac{P_2V_2}{T_2}$
ما التغيرات؟	كمية الغاز ودرجة الحرارة	كمية الغاز والضغط	كمية الغاز والحجم	كمية الغاز
رسم توضيحي				

مقاييس درجة الحرارة وقوانين الغازات لا بد أنك لاحظت أن العمل الذي قام به كل من شارل وجاي-لوساك قد سبق تطوير التدرج بالكلفن (K)، على الرغم من أن قانونيهما تطلبا استخدام درجة الحرارة بالكلفن (K). حيث استخدم العلماء في القرن 17 وبدايات القرن 18 مقاييس حرارة مختلفة. فعمل سيبيل المثال استخدم لتدرج رومر في فرنسا حتى في العصر نفسه الذي عاش فيه شارل تقريباً. وباستخدام هذا التدرج أو أي تدرج لا يعتمد على الصفر المطلق تصبح المعادلة التي تعبر عن قانون شارل أكثر تعقيداً فهي تحتاج إلى ثابتين إضافة إلى الحجم V ودرجة الحرارة T. وقد بسط التدرج المطلق الأمور، وتبنت قوانين الغازات المستخدمة الآن. عرفت الآن كيف تؤثر متغيرات الضغط ودرجة الحرارة والحجم في عينة من الغاز. ويمكنك أيضاً استخدام قوانين الغازات التي تم تلخيصها في الجدول 1-1 إذا كانت كمية الغاز ثابتة، لكن ماذا يحدث إذا تغيرت كمية الغاز؟ هذا ما سنتلوه لاحقاً.

التقويم 1-1

- الخلاصة**
14. وضع العلاقة بين الضغط ودرجة الحرارة وحجم كمية ثابتة من الغاز.
 15. اشرح أي المتغيرات الثلاثة، التي تؤثر في كمية ثابتة من الغاز، تتناسب تناسباً طردياً، وأياً تتناسب عكسياً؟
 16. حلل أطلاق بالون ممتلئ إلى الغلاف الجوي، وأنت تعرف كلاً من حجمه الابتدائي ودرجة حرارته ووضعه للغواصة. ما المعلومات التي تحتاج إليها لحساب الحجم النهائي للبالون عندما يصل إلى أقصى ارتفاع له؟ وأي القوانين تستخدم لحساب الحجم؟
 17. استنتج لماذا تُخفف الغازات التي تستخدم في المستشفيات، ومنها الأكسجين؟ ولماذا يجب حمايتها من ارتفاع درجات الحرارة؟ وماذا يجب أن يحدث للأكسجين المضغوط قبل استنشاقه؟
 18. احسب بحري إزاء بلاستيكي صلب على 1.00 L من غاز الميثان عند ضغط جوي مقدار 660 torr، ودرجة حرارة 22.0°C، ما مقدار الضغط الذي يبدله الغاز عند ارتفاع درجة الحرارة إلى 44.6°C؟
 19. صمم خريطة مفاهيمية توضح فيها العلاقات بين الضغط والحجم ودرجة الحرارة في قوانين بويل، وشارل، وجاي-لوساك.

ستجد في نهاية كل فصل دليلاً للمراجعة متضمناً المفردات والمفاهيم الرئيسية. استعمل هذا الدليل للمراجعة وللتأكد من مدى استيعابك.

طرائق أخرى للمراجعة

- اكتب الفكرة العامة
- اربط الفكرة الرئيسية مع الفكرة العامة
- استعمل كلماتك الخاصة لتوضح ما قرأت.
- وظف المعلومات التي تعلمتها في المنزل، أو في موضوعات أخرى تدرسها.
- حدد المصادر التي يمكن أن تستخدمها للبحث عن مزيد من المعلومات حول الموضوع.

يختتم كل قسم بتقويم يحتوي على خلاصة وأسئلة. الخلاصة تراجع المفاهيم الرئيسية، بينما تختبر الأسئلة فهمك لما درسته.

دليل مراجعة الفصل

الفصل 1

تستجيب الغازات لتغيرات كل من الضغط ودرجة الحرارة والحجم وعدد الجسيمات بطرائق يمكن التنبؤ بها.

1-1 قوانين الغازات

الفكرة الرئيسية إن تغير الضغط أو درجة الحرارة أو الحجم لكمية ثابتة من غاز ستؤثر على المتغيرين الآخرين.

المفردات

- قانون بويل
- الصفر المطلق
- قانون شارل
- قانون جاي-لوساك
- القانون العام للغازات

المفاهيم الرئيسية

- ينص قانون بويل على أن حجم كمية محددة من الغاز يتناسب عكسياً مع ضغطه عند ثبوت درجة الحرارة.
- ينص قانون شارل على أن حجم كمية محددة من الغاز يتناسب طردياً مع درجة حرارته المطلقة عند ثبوت الضغط.
- ينص قانون جاي-لوساك على أن ضغط كمية محددة من الغاز يتناسب طردياً مع درجة حرارته المطلقة عند ثبات الحجم.
- يربط القانون العام للغازات كلاً من درجة الحرارة والضغط والحجم في معادلة واحدة.

$$P_1V_1 = P_2V_2$$

$$\frac{V_1}{T_1} = \frac{V_2}{T_2}$$

$$\frac{P_1}{T_1} = \frac{P_2}{T_2}$$

$$\frac{P_1V_1}{T_1} = \frac{P_2V_2}{T_2}$$

1-2 قانون الغاز المثالي

الفكرة الرئيسية يربط قانون الغاز المثالي عدد المولات مع كل من الضغط ودرجة الحرارة والحجم.

المفردات

- مبدأ أفوجادرو
- الحجم المولاري
- ثابت الغاز المثالي (R)
- قانون الغاز المثالي

المفاهيم الرئيسية

- ينص مبدأ أفوجادرو على أن الحجم المتساوية من الغازات عند نفس الضغط ودرجة الحرارة تحتوي على العدد نفسه من الجسيمات.
- يربط قانون الغاز المثالي كمية الغاز مع ضغطه ودرجة حرارته وحجمه.
- يمكن استخدام قانون الغاز المثالي لإيجاد الكتلة المولية للغاز إذا كانت كتلة الغاز معروفة، ويمكن استخدامه أيضاً لإيجاد كثافة الغاز إذا كانت كتلته المولية معروفة.
- تسلك الغازات الحقيقية عند الضغط العالي ودرجات الحرارة المنخفضة سلوكاً مغايراً لسلوك الغاز المثالي.

$$PV = nRT$$

$$M = \frac{nRT}{PV} \quad D = \frac{MP}{RT}$$

1-3 الحسابات المتعلقة بالغازات

الفكرة الرئيسية عندما تتعامل الغازات فإن العوامل في المعادلات الكيميائية الموزونة النسب الحجمية للغازات المتفاعلة والمعادلات الكيميائية الموزونة التي تمثل هذه التفاعلات تشير إلى أعداد المولات والحجم النسبية للغازات.

المفاهيم الرئيسية

- تحدد العوامل في المعادلات الكيميائية الموزونة النسب الحجمية للغازات المتفاعلة والناتجة.
- يمكن أن تستخدم قوانين الغازات مع المعادلة الكيميائية الموزونة لحساب كميات الغازات المتفاعلة أو الناتجة عن التفاعل.

الفكرة العامة تستجيب الغازات لتغيرات كل من الضغط ودرجة الحرارة والحجم وعدد الجسيمات بطرائق يمكن التنبؤ بها.

1-1 قوانين الغازات

الفكرة الرئيسية إن تغير الضغط أو درجة الحرارة أو الحجم لكمية ثابتة من غاز ستؤثر على المتغيرين الآخرين.

1-2 قانون الغاز المثالي

الفكرة الرئيسية يربط قانون الغاز المثالي بين عدد المولات مع كل من الضغط ودرجة الحرارة والحجم.

1-3 الحسابات المتعلقة بالغازات

الفكرة الرئيسية عندما تتفاعل الغازات فإن المعاملات في المعادلات الكيميائية الموزونة التي تمثل هذه التفاعلات تشير إلى أعداد المولات والحجوم النسبية للغازات.

حقائق كيميائية

- درجة حرارة الهواء في المنطاد كافية لغلي الماء.
- استخدم العالم جوزيف جاي-لوساك في القرن التاسع عشر منطاد الهواء الساخن في أبحاثه وتجاربه، في حين استخدم العالم جاك شارل منطاد الهيدروجين في تجاربه.
- يحتوي منطاد الهواء الساخن في المتوسط على 2.5 مليون لتر من الغاز.



سلة المنطاد

موقد البروبان



نشاطات تمهيدية

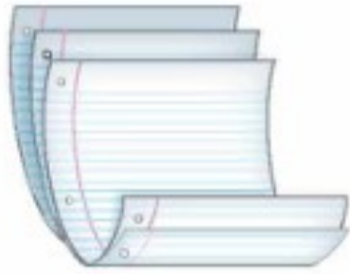
قوانين الغاز اعمل
المطويات الآتية لتساعدك
على تنظيم دراسة قوانين
الغاز.

المطويات

منظمات الأهلكار



الخطوة 1 أحضر ثلاث
ورقات، وضع بعضها فوق
بعض، ودع حوافها العليا
متباعدة رأسياً بمقدار 2 cm



الخطوة 2 اثن الأطراف
السفلية للأوراق على
أن تكون خمس طيات
متساوية. ثم اضغط على
الثنيات لتثبيتها في أماكنها.

قوانين الغازات
قانون بويل
قانون شارل
قانون جاي-لوساك
القانون العام
القانون المثالي

الخطوة 3 ثبت المطوية،
كما في الشكل، وعنون
الطيّات على النحو الآتي:
قوانين الغاز، بويل،
شارل، جاي-لوساك، القانون العام، قانون
الغاز المثالي.

المطويات
استخدم هذه المطوية في أثناء
قراءة القسمين 1-1 و 1-2. لخص قوانين
الغازات بكلماتك الخاصة.

تجربة استهلاكية

كيف تؤثر درجة الحرارة في حجم الغاز؟

تعمل شعلة المنطاد - انظر الصفحة اليمنى - على رفع درجة
حرارة الهواء داخله ليبقى محلقاً في الجو.



خطوات العمل

1. اقرأ تعليمات السلامة في المختبر.
2. انفخ بالوناً ثم اربطه.
3. اسكب ماءً بارداً في دلو إلى منتصفه، ثم أضف إليه قطع
من الثلج.
4. استخدم خيطاً لقياس محيط البالون في درجة حرارة الغرفة.
5. حرك الماء والثلج في الدلو جيداً، حتى تثبت درجة
حرارته، ثم اغمر البالون في الماء والثلج مدة 15 دقيقة.
6. أخرج البالون من الماء، ثم قس محيطه.

التحليل

1. صف ما حدث لحجم البالون عندما غمر في حوض
الماء والثلج.
 2. توقع ما يحدث لحجم البالون لو كان الدلو يحتوي ماءً
ساخنًا.
- استقصاء** ماذا يحدث إذا ملأت البالون بالهيليوم بدلاً من
الهواء، وأجريت التجربة مرة أخرى؟



1-1

قوانين الغازات The Gas Laws

الأهداف

- تكتب العلاقة بين الضغط ودرجة الحرارة والحجم لمقدار ثابت من الغاز.
- تطبق قوانين الغاز على المسائل التي تتضمن الضغط ودرجة الحرارة والحجم لمقدار محدد من الغاز.

الفكرة الرئيسية إن تغير الضغط أو درجة الحرارة أو الحجم لكمية ثابتة من غاز ستؤثر على المتغيرين الآخرين.

الربط مع الحياة ماذا يحدث لغاز في بالون إذا قللت حجمه بالضغط عليه؟ ستشعر بزيادة في المقاومة، وقد تشاهد انتفاخاً في جزء من البالون.

قانون بويل Boyle's Law

ضغط الغاز وحجمه مترابطان. وقد وصف العالم الأيرلندي روبرت بويل (1627-1691م) هذه العلاقة.

كيف يرتبط الضغط مع الحجم؟ لقد صمّم بويل تجربة كالمبينة في الشكل 1-1، ووضح من خلالها أنه إذا كانت كمية الغاز ودرجة الحرارة ثابتتين فإن مضاعفة الضغط الواقع على الغاز يقلل من حجمه إلى النصف. ومن ناحية أخرى فإن تقليل الضغط الواقع على الغاز إلى النصف يضاعف حجم الغاز. وتعرّف العلاقة التي يزيد فيها أحد المتغيرين عندما يقل الآخر بعلاقة التناسب العكسي.

ينص **قانون بويل** على أن حجم كمية محددة من الغاز يتناسب عكسياً مع الضغط الواقع عليه عند ثبوت درجة حرارته. يبين الشكل 1-1 العلاقة العكسية بين الضغط والحجم، حيث يتجه المنحنى إلى أسفل.

مراجعة المفردات

القانون العلمي: يصف علاقة في الطبيعة تدعمها عدة تجارب.

المفردات الجديدة

قانون بويل

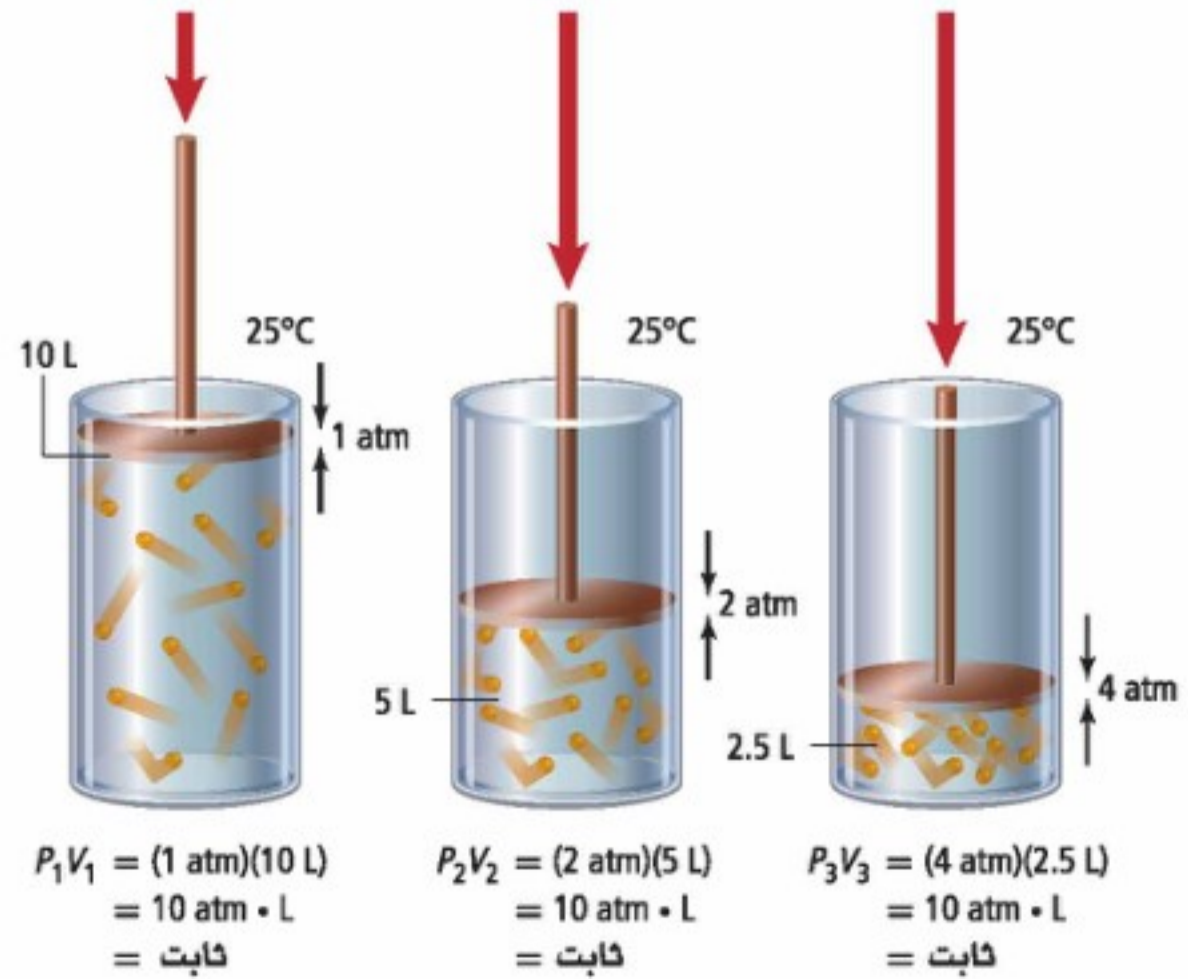
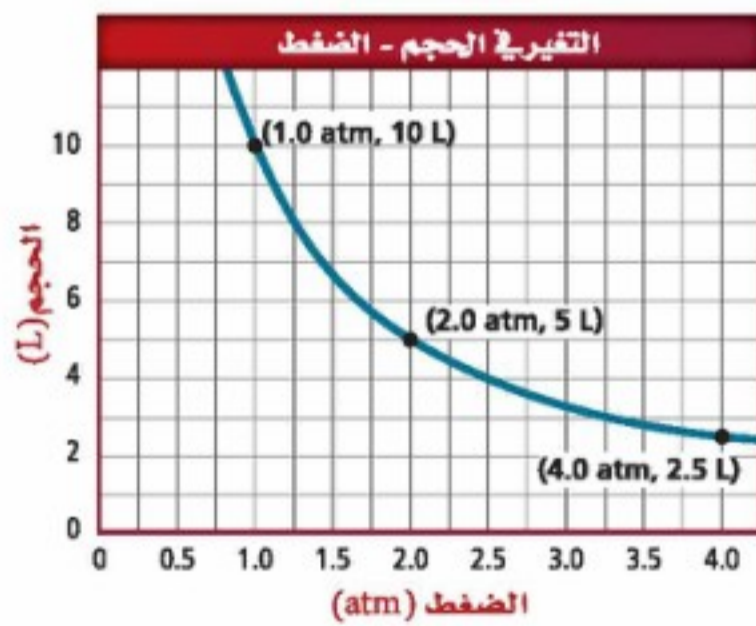
الصفير المطلق

قانون شارل

قانون جاي - لوساك

القانون العام للغازات

الشكل 1-1 عندما يزيد الضغط الخارجي على مكبس الأسطوانة يقل حجم الغاز داخل الأسطوانة. ويوضح الرسم البياني الآتي العلاقة العكسية بين الضغط والحجم.



استخدم الرسم البياني طبق

استخدم الرسم لتحديد الحجم، إذا كان مقدار الضغط (2.5 atm).



لاحظ أن ناتج ضرب الضغط في الحجم عند كل نقطة في الشكل 1-1 يساوي 10 atm.L
لذا يمكن التعبير عن قانون بويل رياضياً على النحو الآتي:

قانون بويل

$$P_1V_1 = P_2V_2 \quad P: \text{تمثل الضغط}, V: \text{تمثل الحجم}$$

حاصل ضرب ضغط كمية محددة من الغاز في حجمها عند ثبوت درجة حرارتها يساوي كمية ثابتة.

يمثل كل من P_1 و V_1 الضغط والحجم الابتدائيين، في حين يمثل كل من P_2 و V_2 الضغط والحجم الجديدين، فإذا علمت ثلاثة من المتغيرات الموجودة في المعادلة أمكنك معرفة قيمة المتغير الرابع.

مثال 1-1

قانون بويل ينفخ غواص وهو على عمق 10m تحت الماء فقاعة هواء حجمها 0.75 L، وعندما ارتفعت فقاعة الهواء إلى السطح تغير ضغطها من 2.25 atm إلى 1.03 atm، ما حجم فقاعة الهواء عند السطح؟

1 تحليل المسألة

بالاعتماد على قانون بويل، بنقصان الضغط على فقاعة الهواء يزداد حجمها، لذا يجب ضرب الحجم الابتدائي لها في نسبة ضغط أكبر من 1.

المعطيات

$$V_1 = 0.75 \text{ L}$$

$$P_1 = 2.25 \text{ atm}$$

$$P_2 = 1.03 \text{ atm}$$

المطلوب

$$V_2 = ? \text{ L}$$

2 حساب المطلوب

استخدم قانون بويل لإيجاد قيمة V_2 واحسب الحجم الجديد.

$$P_1V_1 = P_2V_2$$

$$V_2 = V_1 \left(\frac{P_1}{P_2} \right)$$

$$V_2 = 0.75 \text{ L} \left(\frac{2.25 \text{ atm}}{1.03 \text{ atm}} \right)$$

$$V_2 = 0.75 \text{ L} \left(\frac{2.25 \text{ atm}}{1.03 \text{ atm}} \right) = 1.6 \text{ L}$$

ضع نص قانون بويل

جد قيمة

$$V_1 = 0.75 \text{ L}, P_1 = 2.25 \text{ atm}, P_2 = 1.03 \text{ atm}$$

اضرب الأرقام والوحدات واقسمها

3 تقويم الإجابة قل الضغط بمقدار النصف تقريباً، لذا فإن الحجم سيزيد إلى الضعف، ويعبر عن الإجابة بوحدة اللتر، وهي وحدة قياس الحجم، وتحتوي الإجابة على رقمين معنويين، وهذا صحيح.

مسائل تدريبية

افترض أن درجة الحرارة وكمية الغاز ثابتان في المسائل الآتية:

- إذا كان حجم غاز عند ضغط 99.0 kPa هو 300.0 mL، وأصبح الضغط 188 kPa فما الحجم الجديد؟
- إذا كان ضغط عينة من غاز الهيليوم في إناء حجمه 1.00 L هو 0.988 atm فما مقدار ضغط هذه العينة إذا نُقلت إلى وعاء حجمه 2.00 L؟
- تحفيز إذا كان مقدار حجم غاز محصور تحت مكبس أسطوانة 145.7 L، وضغطه 1.08 atm، فما حجمه الجديد عندما يزداد الضغط بمقدار 25%؟

مختبر حل المشكلات

تطبيق التفسيرات العلمية

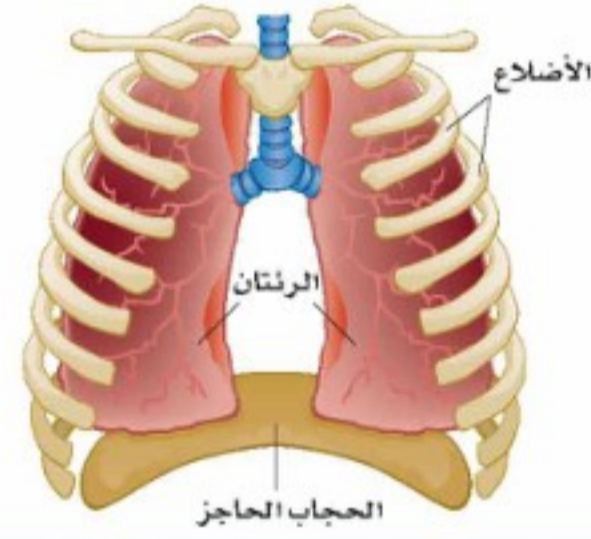
التفكير الناقد

1. **طبّق** قانون بويل لتفسير السبب الذي يجعل الهواء يدخل إلى الرئتين عند الشهيق ويخرج منها عند الزفير.
2. **وضّح** ما يحدث داخل الرئتين عندما يتعرض الإنسان لضربة على البطن، ويخرج الهواء منه. استخدم قانون بويل لتفسير إجابتك.
3. **استنتج** تَفَقّد بعض أجزاء الرئتين مرونتها وتتضخم، وينتج عن ذلك مرض انتفاخ الرئتين. كيف تستدل من قانون بويل على أن هذا الأمر يؤثر في عملية التنفس؟
4. **فسّر** السبب في تعليم الغواصين المبتدئين الذين يحملون جهاز التنفس تحت الماء عدم حبس أنفاسهم في أثناء صعودهم من المياه العميقة.

ما علاقة قانون بويل بالتنفس؟ أنت تتنفس 20 مرة في الدقيقة، وتستبدل بغاز ثاني أكسيد الكربون غاز الأكسجين لتحافظ على حياتك. فكيف يتغير الضغط والحجم في رئتيك في أثناء تنفسك؟

التحليل

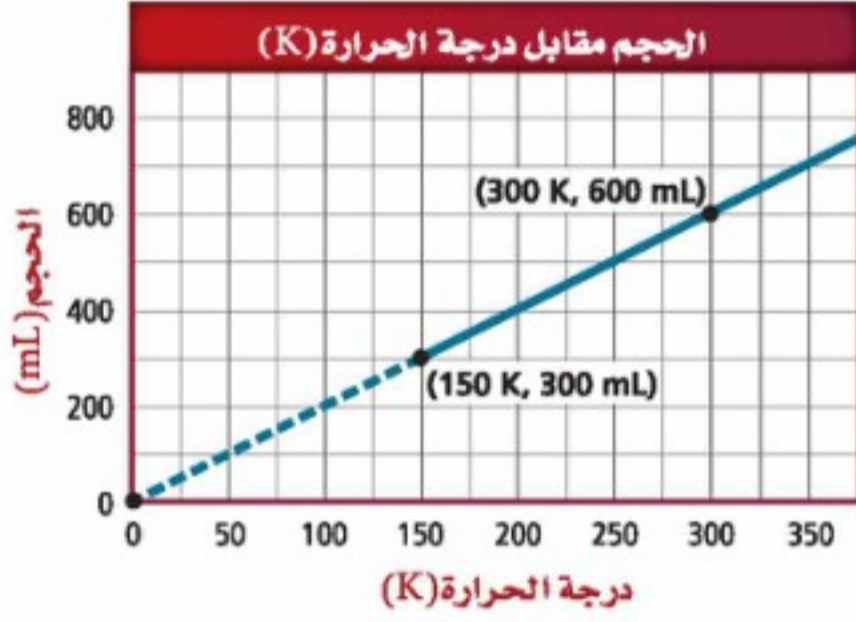
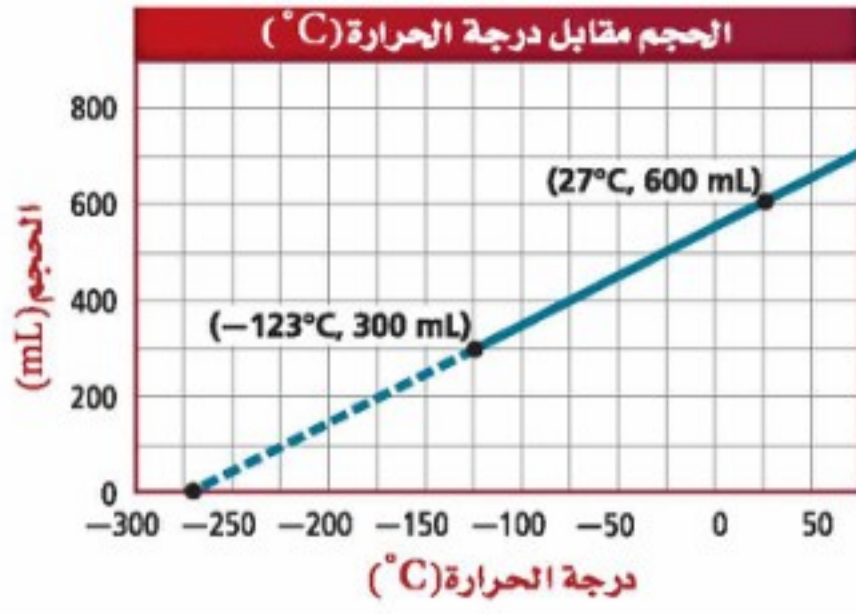
يسمح النسيج الإسفنجي المرن الذي تتكون منه الرئتان بتمدد الرئتين وانقباضهما؛ لتستجيب لحركة الحجاب الحاجز، وهو العضلة القوية الموجودة أسفلها. فعندما يتحرك الحجاب الحاجز إلى أسفل يزداد حجم الرئتين، وبذلك يتمكن من الشهيق، كما يقلص حجم الرئتين عندما يتحرك الحجاب الحاجز إلى أعلى، وبذلك تتمكن من الزفير.



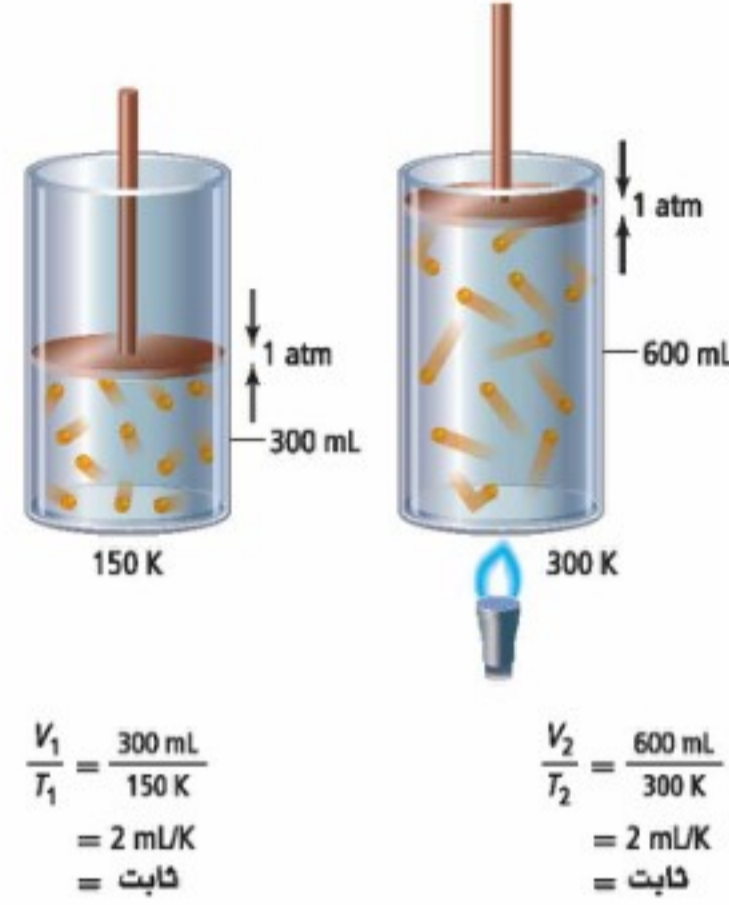
قانون شارل Charles's Law

لاحظت في التجربة الاستهلالية أن محيط البالون قد قل بعد غمره في الماء والثلج. لماذا حدث ذلك؟ كما أنك تلاحظ أن كرة القدم تظهر غير منتفخة جيداً إذا تركتها في مكان بارد فترة من الوقت، في حين تراها منتفخة جيداً إذا تركت في مكان مشمس. فلماذا يختلف مظهر الكرة؟ يمكن الإجابة عن هذه الأسئلة من خلال تطبيق قانون شارل.

كيف يرتبط الحجم مع درجة الحرارة؟ درس جاك شارل (1746-1823م) الفيزيائي الفرنسي العلاقة بين الحجم ودرجة الحرارة، حيث لاحظ أن كلاً من درجة حرارة وحجم عينة من الغاز يزداد عندما يبقى كل من كمية العينة والضغط ثابتين. يمكن تفسير هذه الخاصية بناءً على نظرية الحركة الجزيئية: فعندما تزداد درجة الحرارة تتحرك جسيمات الغاز وتصطدم أسرع بجدار الإناء الذي توجد فيه وبقوة أكبر. ولأن الضغط يعتمد على عدد اصطدامات جسيمات الغاز بجدار الإناء فإن هذا يؤدي إلى زيادة الضغط، وحتى يبقى الضغط ثابتاً لا بد أن يزيد الحجم؛ إذ تحتاج الجسيمات إلى الانتقال إلى مسافات أبعد قبل أن تصطدم بالجدار، مما يقلل من عدد اصطدامات الجسيمات بجدار الإناء. توضح الأسطوانات في الشكل 2-1 كيف يتغير حجم كمية محددة من الغاز بتسخينه.



الشكل 1-2 عند تسخين الأسطوانة تزداد الطاقة الحركية لجسيمات الغاز، فتدفع الجسيمات المكبس إلى أعلى. يوضح الرسم البياني الآتي علاقة الحجم بدرجة الحرارة السيليزية ودرجة الحرارة المطلقة.



وعلى عكس الشكل 1-1 إذ يؤثر في المكبس ضغط خارجي بالإضافة إلى الضغط الجوي، فقد بقي المكبس في الشكل 1-2 حر الحركة. وهذا يعني قيام الغاز الموجود في الأسطوانة برفع المكبس إلى أن يتساوى الضغط الواقع عليه مع الضغط الجوي.

وكما تلاحظ يزداد حجم الغاز المحصور عند 1 atm بزيادة درجة الحرارة في الأسطوانة، لذا تكون المسافة التي يتحركها المكبس مقياساً لزيادة حجم الغاز عندما يسخن.

رسم العلاقة بين درجة الحرارة والحجم يوضح الشكل 1-2 أيضاً العلاقة بين درجة الحرارة والحجم لمقدار محدد من الغاز تحت تأثير ضغط ثابت؛ حيث إن منحنى درجة الحرارة مع الحجم خطاً مستقيماً، فيمكنك توقع درجة الحرارة التي يصبح الحجم عندها 0 L، وذلك بتمديد الخط إلى درجات حرارة أدنى من الدرجات التي تم قياسها.

في الرسم البياني الأول، درجة الحرارة التي يكون عندها الحجم 0 L تساوي -273°C ، لذا فهذه العلاقة خطية، لكنها ليست تناسباً مباشراً. فمثلاً يمكنك ملاحظة عدم مرور الخط المستقيم بنقطة الأصل، كما أن مضاعفة درجة الحرارة من 25°C إلى 50°C لا تؤدي إلى مضاعفة الحجم.

يبين الرسم البياني في الشكل 1-2 أن العلاقة بين درجة الحرارة المقاسة بالكلفن (K) والحجم علاقة طردية والتناسب مباشر؛ إذ تقابل درجة الحرارة 0 K حجماً مقداره 0 mL، وعند مضاعفة درجة الحرارة يتضاعف الحجم. ويعرف الصفر على تدرج كلفن **بالصفر المطلق**، وهو يمثل أقل قيمة ممكنة لدرجة الحرارة التي تكون عندها طاقة الذرات أقل ما يمكن.

✓ **اختبار الرسم البياني** فسّر لماذا يوضح الرسم البياني الثاني في الشكل 1-2 تناسباً طردياً مباشراً، في حين لا يوضح الرسم البياني الأول ذلك.

استخدام قانون شارل ينص **قانون شارل** على أن حجم كمية محددة من الغاز يتناسب طرديًا مع درجة حرارته بالكلفن عند ثبوت الضغط، ويمكن التعبير عن قانون شارل بالعلاقة الرياضية الآتية:

قانون شارل

$$\frac{V_1}{T_1} = \frac{V_2}{T_2}$$

V تمثل الحجم
T تمثل درجة الحرارة بالكلفن

حاصل قسمة حجم كمية محددة من الغاز على درجة حرارته بالكلفن عند ثبوت ضغطه يساوي كمية ثابتة.

تتمثل V_1, T_1 في المعادلة أعلاه درجة الحرارة والحجم الابتدائيين، في حين تمثل V_2, T_2 درجة الحرارة والحجم الجديدين، كما في قانون بويل، فإذا عرفت ثلاث متغيرات أمكنك حساب المتغير الرابع.

وعند استخدام قانون شارل يجب التعبير عن درجة الحرارة بالكلفن. وكما قرأت سابقًا، عليك إضافة 273 إلى درجة الحرارة السيليزية لتحويل درجة الحرارة من التدرج السيليزي إلى التدرج بالكلفن:

$$T_K = 273 + T_C$$

مثال 1-2

قانون شارل إذا كان حجم بالون هيليوم 2.32 L داخل سيارة مغلقة، عند درجة حرارة 40.0°C ، فإذا وقفت السيارة في ساحة البيت في يوم حار وارتفعت درجة الحرارة داخلها إلى 75.0°C ، فما الحجم الجديد للبالون إذا بقي الضغط ثابتًا؟

1 تحليل المسألة

ينص قانون شارل على أن حجم مقدار محدد من الغاز يزداد بزيادة درجة حرارته إذا بقي الضغط ثابتًا. لذا يزداد حجم البالون، ويجب ضرب الحجم الابتدائي في نسبة درجة حرارة أكبر من واحد.

المطلوب
 $V_2 = ? \text{ L}$

المعطيات

$$T_2 = 40.0^\circ\text{C}$$

$$V_1 = 2.32 \text{ L}$$

$$T_2 = 75.0^\circ\text{C}$$

2 حساب المطلوب

حوّل درجة الحرارة السيليزية إلى الكلفن.

استخدم معامل التحويل

$$T_1 = 40.0^\circ\text{C} \text{ عوض بقيمة}$$

$$T_2 = 75.0^\circ\text{C} \text{ عوض بقيمة}$$

$$T_K = 273 + T_C$$

$$T_1 = 273 + 40.0^\circ\text{C} = 313.0 \text{ K}$$

$$T_2 = 273 + 75.0^\circ\text{C} = 348.0 \text{ K}$$

استخدم قانون شارل لإيجاد V_2 ، وعوض بالقيم المعروفة في المعادلة التي أُعيد ترتيبها.

$$\frac{V_1}{T_1} = \frac{V_2}{T_2}$$

اكتب نص قانون شارل

$$V_2 = V_1 \left(\frac{T_2}{T_1} \right)$$

جد قيمة V_2

$$V_2 = 2.32 \text{ L} \left(\frac{348.0 \text{ K}}{313.0 \text{ K}} \right)$$

عوض $V_1 = 2.32 \text{ L}$ ، $T_1 = 313.0 \text{ K}$ ، $T_2 = 348.0 \text{ K}$

$$V_2 = 2.32 \text{ L} \left(\frac{348.0 \text{ K}}{313.0 \text{ K}} \right) = 2.58 \text{ L}$$

اضرب واقسم الوحدات والأرقام

3 تقويم الإجابة

كانت الزيادة في درجة الحرارة بالكلفن صغيرة نسبيًا، لذا ستكون الزيادة في الحجم صغيرة أيضًا، وستستخدم وحدة (L) في الإجابة، وهي وحدة الحجم، وهناك ثلاثة أرقام معنوية.

مسائل تدريبية

افترض أن الضغط وكمية الغاز ثابتان في المسائل الآتية:

4. ما الحجم الذي يشغله الغاز في البالون الموجود على اليسار عند درجة 250 K؟
5. شغل غاز عند درجة حرارة 89 °C حجمًا مقداره (0.67 L). عند أي درجة حرارة سيليزية سيزيد الحجم ليصل إلى 1.12 L؟
6. إذا انخفضت درجة الحرارة السيليزية لعينة من الغاز حجمها 3.0 L من 80.0 °C إلى 30.0 °C فما الحجم الجديد للغاز؟
7. تحفيز يشغل غاز حجمًا مقداره 0.67 L عند درجة حرارة (350 K). ما درجة الحرارة اللازمة لخفض الحجم بمقدار 45%؟

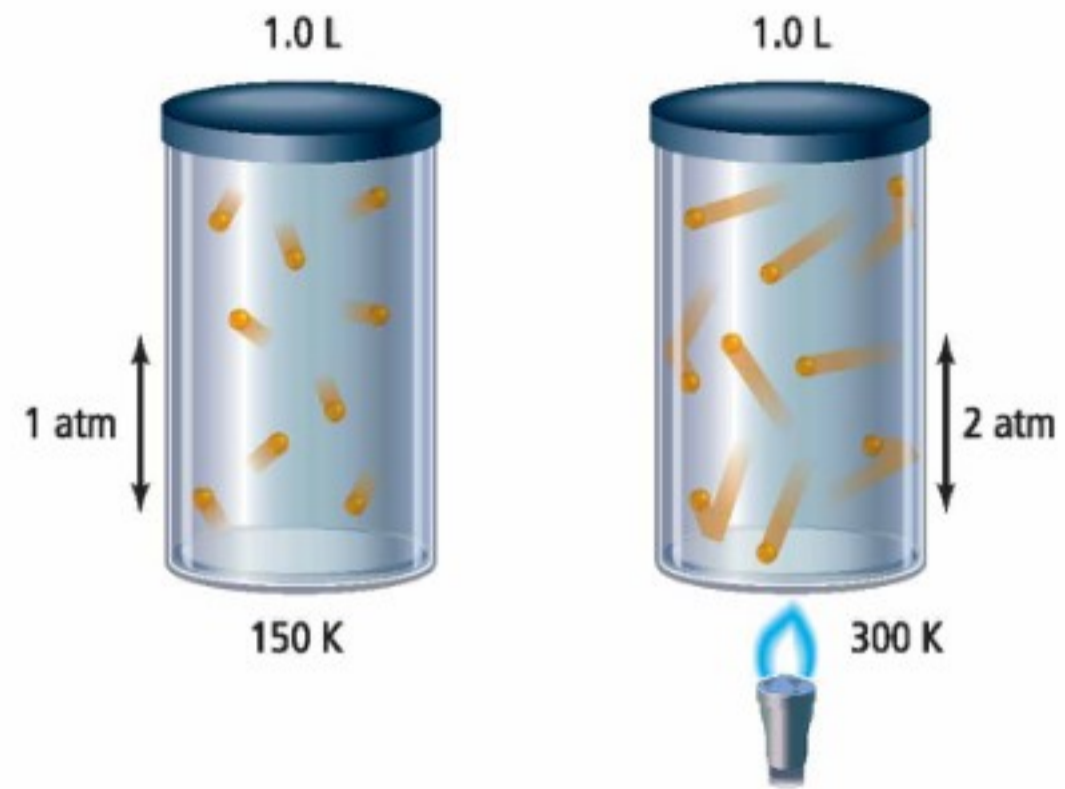
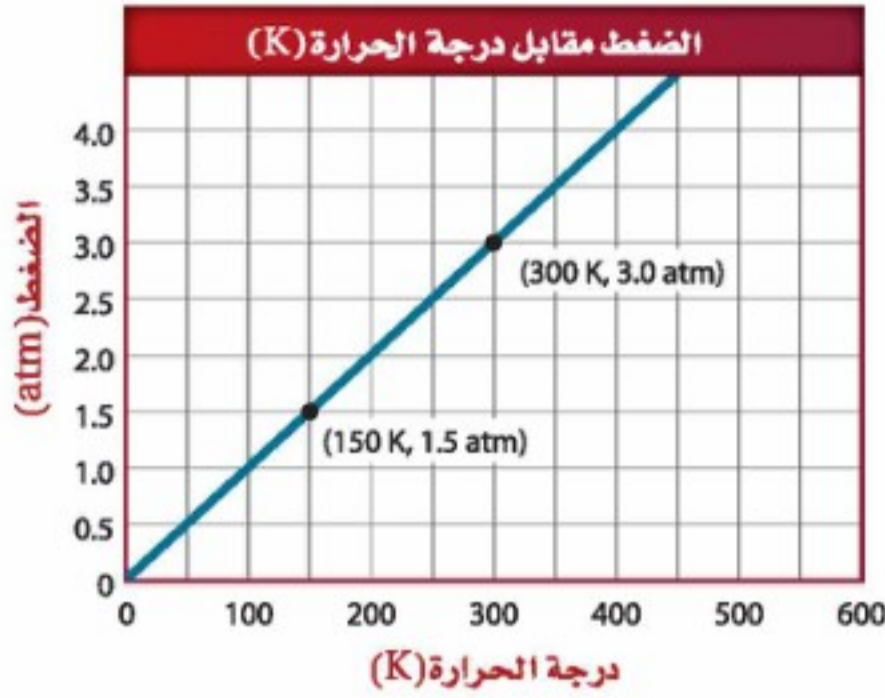


قانون جاي - لوساك Gay-Lussac's Law

لاحظت في التجربة الاستهلاكية تطبيقات على قانون شارل، فعند تغير درجة الحرارة يتغير حجم البالون، ولكن ماذا يمكن أن يحدث لو كان البالون صلبًا ثابتًا؟ وإذا كان حجمه ثابتًا فهل هناك علاقة بين درجة الحرارة والضغط؟ يمكن الإجابة عن هذا السؤال من خلال قانون جاي - لوساك.

كيف ترتبط درجة الحرارة مع ضغط الغاز؟ ينتج الضغط عن اصطدام جسيمات الغاز بجدران الوعاء؛ فكلما ارتفعت درجات الحرارة زاد عدد الاصطدامات وطاقتها. لذا تؤدي زيادة الحرارة إلى زيادة الضغط إذا لم يتغير الحجم.

الشكل 1-3 عند تسخين الأسطوانة تزداد الطاقة الحركية للجسيمات، مما يؤدي إلى زيادة اصطداماتها بجدار الإناء وزيادة قوتها. ولأن حجم الأسطوانة ثابت فإن ضغط الغاز يزداد.



استخدم الرسم البياني قارن بين الرسوم البيانية في الشكلين 1-2 و 1-3.

$$\frac{P_1}{T_1} = \frac{1.5 \text{ atm}}{150 \text{ K}} = 0.01 \text{ atm/K} = \text{ثابت}$$

$$\frac{P_2}{T_2} = \frac{3.0 \text{ atm}}{300 \text{ K}} = 0.01 \text{ atm/K} = \text{ثابت}$$

وقد وجد جاي لوساك (1778-1850م) أن درجة الحرارة المطلقة تتناسب طردياً مع الضغط، كما هو موضح في الشكل 1-3. وينص قانون جاي لوساك على أن ضغط مقدار محدد من الغاز يتناسب طردياً مع درجة الحرارة بالكلفن له، عند ثبوت الحجم. ويمكن التعبير عنه رياضياً كما يأتي:

قانون جاي لوساك

P تمثل الضغط

T تمثل درجة الحرارة بالكلفن


$$\frac{P_1}{T_1} = \frac{P_2}{T_2}$$

حاصل قسمة الضغط على درجة الحرارة بالكلفن لمقدار محدد من الغاز ذي حجم ثابت يساوي مقداراً ثابتاً.

وكما هو الحال في قانوني بويل وشارل، فإذا عرفت ثلاثة متغيرات أمكنك حساب المتغير الرابع باستخدام المعادلة. تذكر أن درجة الحرارة يجب أن تكون بالكلفن (K) أيها استخدمت في معادلات قوانين الغاز.

الكيمياء في واقع الحياة

قانون جاي-لوساك



أواني الضغط لوعاء الضغط غطاء محكم الإغلاق، وحجمه ثابت. وعند تسخينه يزداد الضغط في الإناء، وبزيادة الضغط تستمر درجة الحرارة في الارتفاع، فيتم بذلك طهو الطعام بسرعة أكبر.

قانون جاي- لوساك إذا كان ضغط غاز الأكسجين داخل الأسطوانة 5.00 atm عند درجة 25.0°C، ووضعت الأسطوانة في خيمة على قمة جبل إفرست، حيث تكون درجة الحرارة 10.0°C- فما الضغط الجديد داخل الأسطوانة؟

1 تحليل المسألة

ينص قانون جاي- لوساك على أنه إذا انخفضت درجة حرارة الغاز المحصور فإن ضغطه ينخفض إذا بقي حجمه ثابتاً. لذلك يقل الضغط في أسطوانة الأكسجين. يجب ضرب مقدار الضغط الابتدائي في نسبة درجة حرارة أقل من 1.

المطلوب

$$P_2 = ? \text{ atm}$$

المعطيات

$$P_1 = 5.00 \text{ atm}$$

$$T_1 = 25.0^\circ \text{C}$$

$$T_2 = -10.0^\circ \text{C}$$

2 حساب المطلوب

حول درجات الحرارة السيليزية إلى كلفن

$$T_K = 273 + T_C$$

استخدم معامل التحويل

$$T_1 = 273 + 25.0^\circ \text{C} = 298.0 \text{ K}$$

$$T_1 = 25.0^\circ \text{C} \text{ عوض}$$

$$T_2 = 273 + (-10.0^\circ \text{C}) = 263.0 \text{ K}$$

$$T_2 = 10.0^\circ \text{C} \text{ عوض}$$

استخدم قانون جاي لوساك؛ لإيجاد قيمة P_2 ، وعوض بالقيم المعروفة في المعادلة التي أعيد ترتيبها.

$$\frac{P_1}{T_1} = \frac{P_2}{T_2}$$

اكتب نص قانون جاي لوساك

$$P_2 = P_1 \left(\frac{T_2}{T_1} \right)$$

لإيجاد قيمة P_2

$$P_2 = 5.00 \text{ atm} \left(\frac{263.0 \text{ K}}{298.0 \text{ K}} \right)$$

$$P_1 = 5.00 \text{ atm}, T_1 = 298.0 \text{ K}, T_2 = 263.0 \text{ K} \text{ عوض}$$

$$P_2 = 5.00 \text{ atm} \left(\frac{263.0 \text{ K}}{298.0 \text{ K}} \right) = 4.41 \text{ atm}$$

اضرب الأرقام والوحدات واقسمها.

3 تقويم الإجابة

تقل درجة الحرارة المطلقة، لذا يقل الضغط. وحدة الضغط atm، وهناك ثلاثة أرقام معنوية.

مسائل تدريبية

افترض أن الحجم و كمية الغاز ثابتان في المسائل الآتية:

8. إذا كان ضغط إطار سيارة 1.88 atm عند درجة حرارة 25°C، فكم يكون الضغط إذا ارتفعت درجة الحرارة إلى 37.0°C؟

9. يوجد غاز هيليوم في أسطوانة حجمها 2L، تحت تأثير ضغط جوي مقداره 1.12 atm، فإذا أصبح ضغط الغاز 2.56 atm، عند درجة حرارة 36.5°C، فما قيمة درجة حرارة الغاز الابتدائية؟

10. تحفيز إذا كان ضغط عينة من الغاز يساوي 30.7 KPa عند درجة حرارة 00.0°C، فكم ينبغي أن ترتفع درجة الحرارة السيليزية للعينة حتى يتضاعف ضغطها؟



الشكل 4-1 تمتلك المملكة العربية السعودية ما يزيد عن 10 محطات رصد جوي والتي يُستخدم فيها بالون الطقس كما في الشكل المجاور والذي تتم تعبئته بالهيليوم أو الهيدروجين. -ويحمل بالون الطقس على متنه أجهزة تسمى (راديو سوند) ترسل بيانات تتعلق بدرجة حرارة الهواء والضغط والرطوبة في طبقات الجو العليا، إضافة لذلك، يُساعد متابعة العلماء في معرفة سرعة واتجاه الرياح على تلك الارتفاعات.

القانون العام للغازات The Combined Gas Law

يمكن أن يتغير كل من الضغط ودرجة الحرارة والحجم في العديد من التطبيقات العملية للغازات، كما في بالون الطقس في الشكل 4-1. كما يمكن جمع قانون بويل وقانون شارل وقانون جاي-لوساك في قانون واحد يطلق عليه **القانون العام للغازات**، وهو يحدّد العلاقة بين الضغط ودرجة الحرارة والحجم لكمية محدّدة من الغاز. ويوجد بين المتغيرات الثلاثة نفس العلاقة الموجودة في القوانين الأخرى. فالضغط يتناسب عكسيًا مع الحجم، وطرديًا مع درجة الحرارة. ويمكن التعبير عن القانون العام للغازات رياضياً على النحو الآتي:

القانون العام للغازات

$$\frac{P_1 V_1}{T_1} = \frac{P_2 V_2}{T_2}$$

$P =$ تمثل الضغط، $V =$ تمثل الحجم
 $T =$ تمثل درجة الحرارة بالكلفن

حيث حاصل ضرب الضغط في الحجم مقسومًا على درجة الحرارة بالكلفن لمقدار محدّد من الغاز يساوي مقدارًا ثابتًا.

استخدام القانون العام للغازات يساعدك القانون العام للغازات على حل المسائل التي تتضمن أكثر من متغير واحد، كما يقدم لك طريقة لتذكر القوانين الثلاثة الأخرى دون تذكر معادلاتها، يمكننا القانون العام للغازات من اشتقاق القوانين الأخرى من خلال تذكر المتغير الثابت في كل حالة.

مثلًا إذا بقيت درجة الحرارة ثابتة بينما تغير الضغط والحجم فإن $T_2 = T_1$. وبعد تبسيط قانون الغاز العام تحت هذه الظروف ستجد أن المعادلة أصبحت $P_1 V_1 = P_2 V_2$ ، والتي ينبغي أن تستنتج أنها قانون بويل.

✓ **ماذا قرأت؟ اشتق قانون شارل، وقانون جاي-لوساك من القانون العام للغازات.**

مهن في الكيمياء

الأرصاد الجوية العلاقات التي تربط الضغط ودرجة الحرارة مع الحجم تساعد علماء الأرصاد الجوية على فهم حالة الطقس والتنبؤ بها. فمثلًا، تنتج الرياح والجبهات الهوائية عن تغير الضغط الذي يسببه التسخين الشمسي غير المنتظم للغلاف الجوي المحيط بسطح الأرض.



القانون العام للغازات إذا كان حجم كمية من غاز ما تحت ضغط 110 kPa، ودرجة حرارة 30.0°C يساوي 2.00 L، وارتفعت درجة الحرارة إلى 80.0°C، وزاد الضغط وأصبح 440 kPa، فما مقدار الحجم الجديد؟

1 تحليل المسألة

تغير كل من درجة الحرارة والضغط؛ لذلك يجب أن تستخدم القانون العام للغازات. لقد زاد الضغط أربع مرات، لكن درجة الحرارة لم تتضاعف بنفس هذا المقدار، لذلك فإن الحجم الجديد سيكون أقل من الحجم الابتدائي.

المطلوب
 $V_2 = ? L$

المعطيات
 $P_1 = 110 \text{ kPa}$ $P_2 = 440 \text{ kPa}$
 $T_1 = 30.0^\circ\text{C}$ $T_2 = 80.0^\circ\text{C}$
 $V_1 = 2.00 \text{ L}$

2 حل المطلوب

حوّل درجات الحرارة من السيليزية إلى كلفن.

$$T_K = 273 + T_C$$

طبق معامل التحويل

$$T_1 = 273 + 30.0^\circ\text{C} = 303.0 \text{ K}$$

عوض $T_1 = 30.0^\circ\text{C}$

$$T_2 = 273 + 80.0^\circ\text{C} = 353.0 \text{ K}$$

عوض $T_2 = 80.0^\circ\text{C}$

استخدم قانون الغازات العام، لتجد قيمة V_2 ثم عوض القيم المعروفة في المعادلة التي أعيد ترتيبها.

$$\frac{P_1 V_1}{T_1} = \frac{P_2 V_2}{T_2}$$

اكتب القانون العام للغازات

$$V_2 = V_1 \left(\frac{P_1}{P_2} \right) \left(\frac{T_2}{T_1} \right)$$

حل لإيجاد V_2

$$V_2 = 2.00 \text{ L} \left(\frac{110 \text{ kPa}}{440 \text{ kPa}} \right) \left(\frac{353.0 \text{ K}}{303.0 \text{ K}} \right)$$

عوض $P_1 = 110 \text{ kPa}$, $P_2 = 440 \text{ kPa}$, $T_1 = 303.0 \text{ K}$,

$T_2 = 353.0 \text{ K}$

$$V_2 = 2.00 \text{ L} \left(\frac{110 \text{ kPa}}{440 \text{ kPa}} \right) \left(\frac{353.0 \text{ K}}{303.0 \text{ K}} \right) = 0.58 \text{ L}$$

اضرب الأرقام والوحدات واقسمها

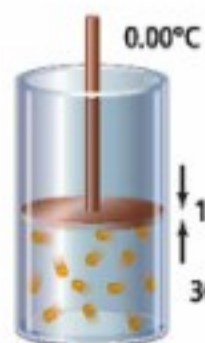
3 تقويم الإجابة

تغير الضغط بشكل أكبر من درجة الحرارة، لذا فقد قل الحجم. الوحدة هي (L)، وهي حدة قياس الحجم، وهناك رقمان معنويان.

مسائل تدريبية

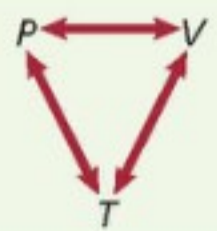
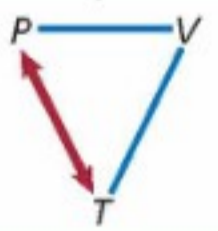
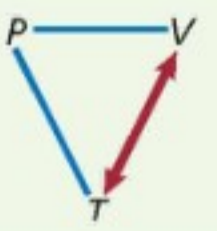
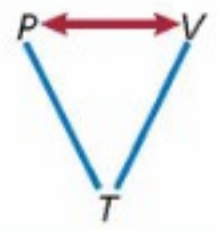
افترض أن كمية الغاز ثابتة في المسائل الآتية:

11. تُحدث عينة من الهواء في حقنة ضغطاً مقداره 1.02 atm، عند 22.0°C، ووضعت هذه الحقنة في حمام ماء يغلي (درجة حرارة 100.0°C) وازداد الضغط إلى 1.23 atm بدفع مكبس الحقنة إلى الخارج، مما أدى إلى زيادة الحجم إلى 0.224 mL فكم كان الحجم الابتدائي؟



12. يحتوي بالون على 146.0 mL من الغاز المحصور تحت ضغط مقداره 1.30 atm ودرجة حرارة 5.0°C فإذا تضاعف الضغط وانخفضت درجة الحرارة إلى 2.0°C فكم يكون حجم الغاز في البالون؟

13. تحفيز إذا زادت درجة الحرارة في الإسطوانة الموجودة على يسارك لتصل إلى 30.0°C، وزاد الضغط إلى 1.20 atm فهل يتحرك مكبس الأسطوانة إلى أعلى أم إلى أسفل؟

قوانين الغازات				الجدول 1-1
القانون العام	جاي لوساك	شارل	بويل	القانون
$\frac{P_1V_1}{T_1} = \frac{P_2V_2}{T_2}$	$\frac{P_1}{T_1} = \frac{P_2}{T_2}$	$\frac{V_1}{T_1} = \frac{V_2}{T_2}$	$P_1V_1 = P_2V_2$	الصيغة
كمية الغاز	كمية الغاز والحجم	كمية الغاز والضغط	كمية الغاز ودرجة الحرارة	ما الثابت؟
				رسم تنظيمي

مقاييس درجة الحرارة وقوانين الغازات لا بد أنك لاحظت أن العمل الذي قام به كل من شارل وجاي- لوساك قد سبق تطوير التدرج بالكلفن (K)، على الرغم من أن قانونيهما تطلبا استخدام درجة الحرارة بالكلفن (K). حيث استخدم العلماء في القرن 17 وبدايات القرن 18 مقاييس حرارة مختلفة. فعلى سبيل المثال استخدم تدرج ريومر في فرنسا حتى في العصر نفسه الذي عاش فيه شارل تقريباً. وباستخدام هذا التدرج أو أي تدرج لا يعتمد على الصفر المطلق تصبح المعادلة التي تعبر عن قانون شارل أكثر تعقيداً؛ فهي تحتاج إلى ثابتين إضافة إلى الحجم V ودرجة الحرارة T. وقد بسّط التدرج بالكلفن الأمور، ونتجت قوانين الغازات المستخدمة الآن. عرفت الآن كيف تؤثر متغيرات الضغط والحرارة والحجم في عينة من الغاز. ويمكنك أيضاً استخدام قوانين الغازات التي تم تلخيصها في الجدول 1-1 إذا كانت كمية الغاز ثابتة، لكن ماذا يحدث إذا تغيرت كمية الغاز؟ هذا ما ستدرسه لاحقاً.

المطويات

أدخل معلومات من هذا القسم في مطويتك.

التقويم 1-1

الخلاصة

14. **الفكرة الرئيسية** وضع العلاقة بين الضغط ودرجة الحرارة وحجم كمية ثابتة من الغاز.
 15. اشرح أي المتغيرات الثلاثة، التي تؤثر في كمية ثابتة من الغاز، تتناسب تناسباً طردياً، وأيها تتناسب عكسياً؟
 16. **حلل** أطلق بالون طقس إلى الغلاف الجوي، وأنت تعرف كلاً من حجمه الابتدائي ودرجة حرارته وضغط الهواء فيه. ما المعلومات التي تحتاج إليها لحساب الحجم النهائي للبالون عندما يصل إلى أقصى ارتفاع له؟ وأي القوانين تستخدم لحساب الحجم؟
 17. **استنتج** لماذا تُضغَط الغازات التي تستخدم في المستشفيات، ومنها الأكسجين؟ ولماذا يجب حمايتها من ارتفاع درجات الحرارة؟ وماذا يجب أن يحدث للأكسجين المضغوط قبل استنشاقه؟
 18. **احسب** يحتوي إناء بلاستيكي صلب على 1.00 L من غاز الميثان عند ضغط جوي مقداره 660 torr، ودرجة حرارة 22.0°C، ما مقدار الضغط الذي يحدثه الغاز عند ارتفاع درجة الحرارة إلى 44.6°C؟
 19. **صمّم** خريطة مفاهيمية توضح فيها العلاقات بين الضغط والحجم ودرجة الحرارة في قوانين بويل، وشارل، وجاي- لوساك.
- ينص قانون بويل على أن حجم مقدار محدد من الغاز يتناسب عكسياً مع ضغطه عند ثبوت درجة الحرارة.
 - ينص قانون شارل على أن حجم كمية محددة من الغاز يتناسب طردياً مع درجة حرارته بالكلفن عند ثبوت الضغط.
 - ينص قانون جاي- لوساك على أن ضغط مقدار محدد من الغاز يتناسب طردياً مع درجة الحرارة بالكلفن عند ثبوت الحجم.
 - يربط القانون العام للغازات بين الضغط ودرجة الحرارة والحجم في معادلة واحدة.



الأهداف

- تربط عدد الجسيمات بالحجم مستخدماً مبدأ أفوجادرو.
- تربط كمية الغاز بضغطه ودرجة حرارته وحجمه مستخدماً قانون الغاز المثالي.
- تقارن بين خصائص الغاز الحقيقي والغاز المثالي.

قانون الغاز المثالي The Ideal Gas Law

الفكرة الرئيسية يربط قانون الغاز المثالي بين عدد المولات وكل من الضغط ودرجة الحرارة والحجم.

الربط مع الحياة تعلم أن إضافة الهواء إلى إطار السيارة يزيد من ضغط الهواء في الإطار، ولكن هل تعلم أن قيمة الضغط المحددة للإطار هي قيمة الضغط في الإطار عندما يكون بارداً؟ فعندما تتحرك إطارات السيارات على الطريق يعمل الاحتكاك على رفع درجة الحرارة، فيزيد الضغط.


مبدأ أفوجادرو Avogadro's Principle

تختلف حجوم جسيمات الغازات، ومع ذلك تفترض نظرية الحركة الجزيئية أن جسيمات الغاز في أي عينة تكون متباعدة كثيراً جداً، بحيث يصبح تأثير حجم الجسيمات قليلاً جداً على الحجم الذي يشغله الغاز. فمثلاً يشغل 1000 جسيم من غاز الكربون الكبيرة نسبياً الحجم نفسه لـ 1000 جسيم من غاز الهيليوم الأصغر حجماً عند نفس درجة الحرارة والضغط. وكان أفوجادرو في عام 1811م أول من قدم هذه الفكرة. وينص **مبدأ أفوجادرو** على أن الحجوم المتساوية من الغازات المختلفة تحتوي العدد نفسه من الجسيمات عند نفس درجة الحرارة والضغط. ويبين الشكل 1-5 حجوماً متساوية من ثاني أكسيد الكربون والهيليوم والأكسجين.

الحجم وعدد المولات درست سابقاً أن المول الواحد من أي مادة يحتوي على 6.02×10^{23} من الجسيمات. والحجم المولاري لغاز هو الحجم الذي يشغله 1 mol منه عند الظروف المعيارية (standard temperature and pressure) ويرمز لها بالرمز STP $(0.0^\circ\text{C}) (1 \text{ atm})$.

وتعرف درجة الحرارة 0.0°C والضغط الجوي 1 atm بدرجة الحرارة والضغط المعياريين. هذا وقد بين أفوجادرو أن 1 mol من أي غاز يشغل حجماً مقداره 22.4 L، لذا يمكنك استعمال 22.4 L/mol بوصفه معامل تحويل عندما يكون الغاز في الظروف المعيارية. فإذا رغبت مثلاً في معرفة عدد المولات في عينة من غاز حجمها 3.72 L، في الظروف المعيارية، فيتعين عليك استخدام الحجم المولاري لتحويل وحدات الحجم إلى مولات.

$$3.72 \text{ L} \times \frac{1 \text{ mol}}{22.4 \text{ L}} = 0.166 \text{ mol}$$



الشكل 1-5 أسطوانات غاز متساوية في الحجم تحت تأثير ضغط ودرجة حرارة متساويين، تحتوي كميات متساوية من الغاز بفض النظر عن نوع الغاز الذي تحتويه كل منها.

استنتج لماذا لا ينطبق مبدأ أفوجادرو على السوائل والمواد الصلبة؟

الحجم المولاري المكون الرئيس للغاز الطبيعي المستخدم في المنازل لأغراض التدفئة والطهو هو الميثان CH_4 . احسب حجم 2.00 Kg من غاز الميثان في الظروف المعيارية STP.

1 تحليل المسألة

يمكن حساب عدد المولات من خلال قسمة كتلة العينة (m) على الكتلة المولية M. ولأن الغاز تحت الظروف المعيارية (STP)، لذا يمكنك استخدام الحجم المولاري لتحويل عدد المولات إلى حجم.

المطلوب

$$V = ? L$$

المعطيات

$$m = 2.00 \text{ kg}$$

$$T = 0.00^\circ C$$

$$P = 1.00 \text{ atm}$$

2 حساب المطلوب

حدّد الكتلة المولية للميثان

حدد الكتلة المولية

عبر عن الكتلة الجزيئية باستخدام

g/mol لتصل إلى الكتلة المولية.

حدّد عدد مولات الميثان

حوّل الكتلة المولية من وحدة Kg إلى g

اقسم على الكتلة المولية لإيجاد عدد المولات.

$$M = 1 \text{ C atom} \left(\frac{12.01 \text{ amu}}{1 \text{ C atom}} \right) + 4 \text{ H atoms} \left(\frac{1.01 \text{ amu}}{1 \text{ H atom}} \right)$$

$$= 12.01 \text{ amu} + 4.04 \text{ amu} = 16.05 \text{ amu} = 16.05 \text{ g/mol}$$

$$2.00 \text{ kg} \left(\frac{1000 \text{ g}}{1 \text{ kg}} \right) = 2.00 \times 10^3 \text{ g}$$

$$\frac{m}{M} = \frac{2.00 \times 10^3 \text{ g}}{16.05 \text{ g/mol}} = 125 \text{ mol}$$

استخدم الحجم المولاري لتحديد حجم الميثان في الظروف المعيارية STP.

$$V = 125 \text{ mol} \times \frac{22.4 \text{ L}}{1 \text{ mol}} = 2.80 \times 10^3 \text{ L}$$

استخدم الحجم المولاري 22.4 L/mol

للتحويل من المولات إلى الحجم.

3 تقويم الإجابة

مقدار الميثان الموجود أكبر من 1 mol؛ لذا يجب أن تتوقع حجماً كبيراً، وهذا يتفق مع الإجابة. الوحدة هي (L)، وهي وحدة قياس الحجم، وهناك ثلاثة أرقام معنوية.

مسائل تدريبية

20. ما حجم الوعاء اللازم لاحتواء 0.0459 mol من غاز النيتروجين N_2 في الظروف المعيارية STP؟
21. ما كتلة غاز ثاني أكسيد الكربون بالجرامات، الموجودة في بالون حجمه 1.0 L في الظروف المعيارية STP؟
22. ما الحيز (mL)، الذي يشغله غاز الهيدروجين الذي كتلته 0.00922 g في الظروف المعيارية STP؟
23. ما الحجم الذي تشغله كتلة مقدارها 0.416 g من غاز الكربتون في الظروف المعيارية STP؟
24. احسب الحجم الذي تشغله كتلة مقدارها 4.5 Kg من غاز الإيثيلين C_2H_4 في الظروف المعيارية STP؟
25. تحفيز إناء بلاستيكي مرن يحتوي 0.86 g من غاز الهيليوم بحجم (19.2 L). فإذا أخرج 0.205 g من غاز الهيليوم عند ضغط ودرجة حرارة ثابتين، فما الحجم الجديد؟



الشكل 6-1 يبقى حجم ودرجة حرارة هذا الإطار ثابتاً في أثناء إضافة الهواء، ولكن كلما ازدادت كمية الهواء ازداد الضغط.

المطويات

أدخل معلومات من هذا القسم في مطويتك.

الجدول 1-2	قيم R
قيمة R	وحدات R
0.0821	$\frac{\text{L}\cdot\text{atm}}{\text{mol}\cdot\text{K}}$
8.314	$\frac{\text{L}\cdot\text{kPa}}{\text{mol}\cdot\text{K}}$
62.4	$\frac{\text{L}\cdot\text{mmHg}}{\text{mol}\cdot\text{K}}$

التحول بين وحدات الضغط
 $1\text{atm} = 760\text{mmHg} = 760\text{Torr} = 1.01\text{Pa} = 101325\text{Pa} = 101.325\text{kPa}$

قانون الغاز المثالي The Ideal Gas Law

يمكن جمع كل من مبدأ أفوجادرو وقوانين بويل وشارل وجاي-لوساك في علاقة رياضية واحدة تصف العلاقة بين الضغط والحجم ودرجة الحرارة وعدد مولات الغاز. تعطي هذه الصيغة نتائج أفضل للغازات التي تنطبق عليها افتراضات نظرية الحركة الجزيئية، التي تعرف بالغازات المثالية. إن حجوم جسيمات الغازات صغيرة جداً، وبينها فراغات كبيرة لدرجة أن قوى التجاذب أو التنافر فيما بينها تصبح أقل ما يمكن.

من القانون العام للغازات إلى قانون الغازات المثالي يربط القانون العام للغازات بين متغيرات الضغط والحجم ودرجة الحرارة لمقدار محدد من الغاز.

$$\frac{P_1V_1}{T_1} = \frac{P_2V_2}{T_2}$$

وتبقى علاقة الضغط والحجم ودرجة الحرارة دائماً نفسها لعينة محددة من الغاز. ويمكن إعادة كتابة العلاقة الممثلة في القانون العام للغازات على النحو الآتي:

$$\frac{PV}{T} = \text{مقداراً ثابتاً}$$

يوضح الشكل 6-1 أن زيادة مقدار الغاز الموجود في العينة يؤدي إلى زيادة الضغط، إذا كانت درجة الحرارة والحجم ثابتين، كما أن الحجم يزداد عند إضافة المزيد من جسيمات الغاز. ونحن نعرف أن كلاً من الحجم والضغط يتناسبان تناسباً طردياً مع عدد المولات (n)، لذا يمكن وضع عدد المولات (n) في معادلة القانون العام للغازات، كما يأتي:

$$\frac{PV}{nT} = \text{ثابتاً}$$

ولقد حددت التجارب التي استخدمت فيها قيم معروفة لكل من P، T، V، n قيمة هذا الثابت، والذي يعرف بثابت الغاز المثالي، ويرمز له بالرمز R. فإذا كان الضغط مقيساً بوحدة atm فإن قيمة R هي 0.0821 L.atm/mol.K.

لاحظ أن وحدة R تجمع ببساطة وحدات المتغيرات الأربع. ويبين الجدول 1-2 القيم الرقمية لـ R بوحدات مختلفة للضغط.

✓ ماذا قرأت؟ فسر لماذا أضيف عدد المولات (n) إلى المقام في المعادلة أعلاه؟

عند التعويض عن R في المعادلة أعلاه، وعند إعادة ترتيب المتغيرات تنتج الصيغة الأكثر شيوعاً لقانون الغاز المثالي؛ حيث يصف قانون الغاز المثالي السلوك الفيزيائي للغاز المثالي من حيث الضغط والحجم ودرجة الحرارة وعدد مولات الغاز المتوافرة.

قانون الغاز المثالي

$$P = \text{الضغط.}$$

$$V = \text{الحجم.}$$

$$n = \text{عدد المولات.}$$

$$R = \text{ثابت الغاز المثالي.}$$

$$T = \text{درجة الحرارة بوحدات كلفن.}$$

$$PV = nRT$$

إن حاصل ضرب الضغط في الحجم مقسوماً على كمية معينة من الغاز عند درجة حرارة ثابتة يساوي مقداراً ثابتاً

قانون الغاز المثالي احسب عدد مولات غاز الأمونيا NH_3 الموجودة في وعاء حجمه 3.0 L عند $3.0 \times 10^2\text{ K}$ وضغط (1.5 atm) .

1 تحليل المسألة

أعطيت الحجم ودرجة الحرارة والضغط لعينة من الغاز. استخدم قانون الغاز المثالي، واختر قيمة الثابت R بالاعتماد على وحدة الضغط في السؤال. لاحظ أن قيم الضغط ودرجة الحرارة قريبة من الظروف المعيارية، لكن الحجم أصغر كثيراً من 22.4 L ، فعليك أن تتوقع أن الإجابة أقل كثيراً من مول واحد.

المطلوب
 $n = ?\text{ mol}$

المعطيات

$$V = 3.0\text{ L}$$

$$T = 3.00 \times 10^2\text{ K}$$

$$P = 1.50\text{ atm}$$

$$R = 0.0821 \frac{\text{L}\cdot\text{atm}}{\text{mol}\cdot\text{K}}$$

2 حساب المطلوب

استخدم قانون الغاز المثالي، ثم عوض بالقيم المعروفة لإيجاد قيمه (n)

$$PV = nRT$$

$$n = \frac{PV}{RT}$$

اكتب قانون الغاز المثالي

حل لإيجاد n

$$n = \frac{(1.50\text{ atm})(3.0\text{ L})}{\left(0.0821 \frac{\text{L}\cdot\text{atm}}{\text{mol}\cdot\text{K}}\right)(3.00 \times 10^2\text{ K})}$$

عوض $V = 3.0\text{ L}$, $T = 3.00 \times 10^2\text{ K}$, $P = 1.50\text{ atm}$

$$R = 0.0821\text{ L}\cdot\text{atm}/\text{mol}\cdot\text{K}$$

$$n = \frac{(1.50\text{ atm})(3.0\text{ L})}{\left(0.0821 \frac{\text{L}\cdot\text{atm}}{\text{mol}\cdot\text{K}}\right)(3.00 \times 10^2\text{ K})} = 0.18\text{ mol}$$

اضرب الأرقام والوحدات واقسمها

3 تقويم الإجابة

تتفق الإجابة مع توقع أن عدد المولات أقل كثيراً من 1 mol ، وحدة الإجابة mol ، وتحتوي رقمين معنويين.

مسائل تدريبية

26. ما درجة حرارة 2.49 mol من الغاز بوحدة سيلزيوس ($^\circ\text{C}$)، والموجود في إناء سعته 1.00 L ، وتحت ضغط مقداره 143 kPa ؟

27. احسب حجم 0.323 mol من غاز ما عند درجة حرارة 256 K وضغط جوي مقداره 0.90 atm ؟

28. ما مقدار ضغط 0.108 mol ، بوحدة الضغط الجوي (atm)، لعينة من غاز الهيليوم عند درجة حرارة 20.0°C ، إذا كان حجمها 0.050 L ؟

29. إذا كان ضغط غاز حجمه 0.044 L يساوي 3.81 atm عند درجة حرارة 25.0°C ، فما عدد مولات الغاز؟

30. تحفيز غاز مثالي حجمه 3.0 L ، فإذا تضاعف عدد مولاته ودرجة حرارته وبقي الضغط ثابتاً، فما حجمه الجديد؟



قانون الغاز المثالي - الكتلة المولية والكثافة

The Ideal Gas Law – Molar Mass and Density

المفردات

أصل الكلمة

المول Mole

جاءت من الكلمة الألمانية Mol، وهي

اختصار Molekulargewicht،

وتعني الوزن الجزيئي.

يمكن أن يستخدم قانون الغاز المثالي في إيجاد أي قيمة من قيم المتغيرات الأربعة P, V, T, n ، إذا كانت القيم الثلاث الأخرى معروفة. كما يمكن إعادة ترتيب المعادلة $PV = nRT$ لحساب الكتلة المولية والكثافة لعينة من الغاز.

الكتلة المولية وقانون الغاز المثالي لإيجاد الكتلة المولية لعينة غاز يجب أن يكون كلاً من الكتلة ودرجة الحرارة والضغط وحجم الغاز معروفاً. تذكر ما تعلمته سابقاً، حيث إن عدد مولات الغاز (n) تساوي الكتلة (m) بوحدة الجرام مقسومة على الكتلة المولية (M). لذلك يمكن التعويض عن n بمقدار m/M .

$$PV = nRT \quad n = \frac{m}{M} \quad PV = \frac{mRT}{M}$$

ويمكنك إعادة ترتيب المعادلة لتصبح على النحو الآتي:

$$M = \frac{mRT}{PV}$$

الكثافة وقانون الغاز المثالي تذكر أن كثافة أي مادة (D) تساوي كتلتها (m) في وحدة الحجم (V)، وبعد إعادة ترتيب معادلة الغاز المثالي لإيجاد الكتلة المولية يمكن التعويض عن (m/V) بالقيمة D .

$$M = \frac{mRT}{PV} \quad D = \frac{m}{V} \quad M = \frac{DRT}{P}$$

يمكنك إعادة ترتيب المعادلة لإيجاد الكثافة لتصبح على النحو التالي:

$$D = \frac{MP}{RT}$$

لماذا تحتاج إلى معرفة كثافة الغاز؟ فكر في طرائق إطفاء الحريق. تعتمد إحدى طرائق إطفاء الحريق على منع غاز الأكسجين من الوصول للمادة المحترقة من خلال تغطية الحريق بغاز آخر لا يحترق ولا يساعد على الاحتراق، كما هو موضح في الشكل 1-7. لذا يجب أن تكون كثافة هذا الغاز أكبر من كثافة الأكسجين ليحل محله.

الشكل 1-7 لإطفاء الحريق تحتاج إلى إبعاد الوقود أو الأكسجين أو الحرارة عن مصدر الحريق. تحتوي طفاية الحريق على ثاني أكسيد الكربون الذي يحل محل الأكسجين، لكنه لا يشتعل، وله تأثير مبرّد نتيجة تمدده السريع بمجرد إطلاقه.

اشرح لماذا يحل ثاني أكسيد الكربون محل الأكسجين؟



تجربة

إعداد نموذج لطفاية حريق

لماذا يستخدم غاز ثاني أكسيد الكربون لإطفاء الحريق؟

الخطوات

1. اقرأ تعليمات السلامة في المختبر.

2. قس درجة الحرارة باستخدام مقياس الحرارة، والضغط الجوي باستخدام البارومتر، ثم سجل البيانات التي حصلت عليها.

3. لفّ قطعة من ورق الألومنيوم أبعادها $23 \text{ cm} \times 30 \text{ cm}$ على أسطوانة ارتفاعها 30 cm ونصف قطرها 6 cm تقريباً ثم ألصق أطراف ورق الألومنيوم.

4. استخدم أعواد الثقاب لإشعال الشمعة. تحذير: اسكب الماء فوق أعواد الثقاب قبل رميها، وابتعد عن مصادر اللهب.

5. ضع 30 g من صودا الخبز NaHCO_3 في كأس كبيرة، وأضف إليها 40 mL من الخل CH_3COOH تركيزه (5%).

6. ضع الأسطوانة الملفوفة بورق الألومنيوم بسرعة فوق لهب الشمعة بزاوية مقدارها (45°) .

تحذير: لا تجعل نهاية طرف الأسطوانة يلامس الشمعة المشتعلة.

7. وبينما يستمر التفاعل في الكأس في إنتاج غاز ثاني أكسيد الكربون، مرر الغاز بحذر شديد، وليس السائل في الأسطوانة. سجل ملاحظاتك.



التحليل

1. طبق احسب الحجم المولاري لغاز ثاني أكسيد الكربون CO_2 عند درجة حرارة الغرفة والضغط الجوي العادي.
2. احسب كثافة كل من ثاني أكسيد الكربون والأكسجين والنيتروجين بوحدة g/L عند درجة حرارة الغرفة. تذكر أن عليك حساب الكتلة المولية لكل غاز حتى تتمكن من حساب كثافة كل غاز.
3. فسر هل تدعم ملاحظاتك وحساباتك استخدام ثاني أكسيد الكربون في مكافحة الحرائق؟ ولماذا؟

الغاز الحقيقي مقابل الغاز المثالي Real Versus Ideal Gases

ماذا يعني مصطلح الغاز المثالي؟ تتبع الغازات المثالية فرضيات نظرية الحركة الجزيئية التي درستها سابقاً. فحجم جسيمات الغاز المثالي يكاد يكون معدوماً، كما أن هذه الجسيمات لا تشغل حيزاً، ولا توجد قوى تجاذب بينها، ولا تتجاذب مع جدران الوعاء الموجودة فيه، ولا تتنافر معه. وتتحرك هذه الجسيمات حركة عشوائية دائمة في خطوط مستقيمة حتى يصطدم بعضها ببعض أو بجدار الوعاء الذي يحتويها، وهذه التصادمات مرنة، مما يعني أن الطاقة الحركية للنظام لا تتغير. ويتبع الغاز المثالي قوانين الغاز تحت كل الظروف من الضغط ودرجة الحرارة.

ولكن في الحقيقة ليس هناك غاز مثالي؛ فجسيمات الغاز لها حجم وإن كان صغيراً، وتوجد بينها قوى تجاذب، كما أن التصادمات فيما بينها وبين الوعاء ليست تصادمات مرنة تماماً. وعلى الرغم من ذلك تسلك معظم الغازات سلوك الغاز المثالي في نطاقات واسعة من الضغط ودرجة الحرارة. كما أن الحسابات التي تجري باستخدام قانون الغاز المثالي تقارب القياسات التجريبية.

✓ ماذا قرأت؟ فسر العلاقة بين نظرية الحركة الجزيئية والغاز المثالي.



استراتيجية حل المسائل

اشتقاق قوانين الغازات إذا أتقنت الاستراتيجيات الآتية، فإن عليك تذكر قانون الغاز المثالي فقط. خذ مثلاً، الكمية الثابتة من الغاز الموجودة تحت ضغط ثابت. استخدم قانون شارل لحل المسائل التي تتضمن الحجم ودرجة الحرارة.

1. استخدم قانون الغاز المثالي لكتابة معادلتين تصفان عينة الغاز عند درجة حرارة وحجم مختلفين (الكميات التي لا تتغير تظهر باللون الأحمر).

2. اعزل الحجم ودرجة الحرارة، وهما القيمتان اللتان تتغيران في الجهة نفسها من المعادلة.

3. ولأن كلاً من P, R, n ثابت تحت هذه الظروف، فإنه يمكنك جعل كل من الحجم ودرجة الحرارة متساويين لاشتقاق قانون شارل.

$$PV_1 = nRT_1 \quad PV_2 = nRT_2$$

$$\frac{V_1}{T_1} = \frac{nR}{P} \quad \frac{V_2}{T_2} = \frac{nR}{P}$$

$$\frac{V_1}{T_1} = \frac{V_2}{T_2}$$

تطبيق الاستراتيجية

اشتق قانون بويل وجاي-لوساك والقانون العام للغازات استناداً إلى القاعدة أعلاه.

أقصى ضغط ودرجة حرارة متى يكون قانون الغاز المثالي غير مناسب للاستخدام مع الغاز الحقيقي؟ تحيد معظم الغازات الحقيقية في سلوكها عن الغاز المثالي عند الضغط العالي ودرجات الحرارة المنخفضة. ويسلك غاز النيتروجين في الخزان الظاهر في الشكل 8-1 سلوك الغاز الحقيقي. وعند انخفاض درجات حرارة غاز النيتروجين تنخفض طاقة جسيماته الحركية، وهذا يعني أن قوى التجاذب بين هذه الجسيمات قوية، مما يجعلها تؤثر في سلوكها. وعندما تنخفض درجة الحرارة بقدر كاف يتكاثف الغاز الحقيقي مكوناً سائلاً. ويسلك غاز البروبان في الخزان الظاهر في الشكل 8-1 أيضاً سلوك الغاز الحقيقي. وتعمل زيادة الضغط على الغاز على إجبار جسيماته على الاقتراب بعضها من بعض، حتى يصبح من غير الممكن إهمال الحجم الذي تشغله الجسيمات. وتتحول الغازات الحقيقية - ومنها البروبان - إلى سائل إذا تعرضت لضغط كافٍ.

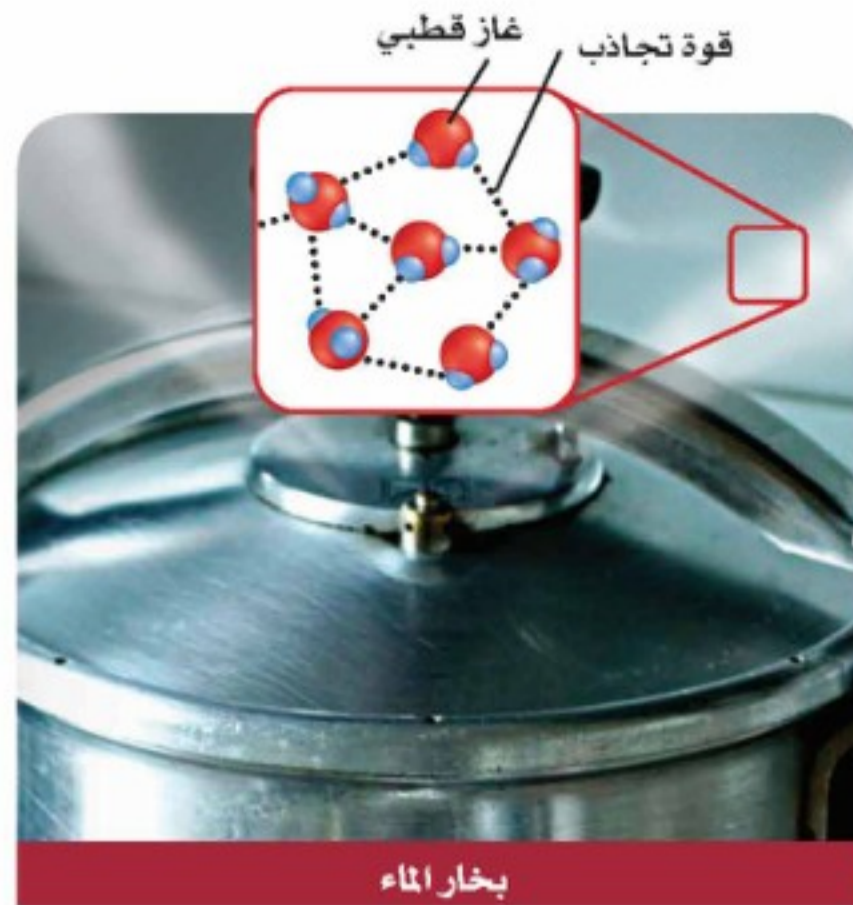
الشكل 8-1 لا يتبع الغاز الحقيقي قانون الغاز المثالي عند قيم الضغط ودرجات الحرارة كلها.



يتحول غاز النيتروجين إلى سائل عند درجة حرارة (-196°C) ويستطيع العلماء حفظ العينات البيولوجية. ومنها أنسجة الجسم. عند هذه الدرجة لإجراء البحوث والإجراءات الطبية الأخرى.



يمكن تخزين كمية من البروبان السائل أكبر 270 مرة منها في الحالة الغازية في الحجم نفسه. وتستخدم أسطوانات صغيرة من البروبان السائل وقوداً للطهي في المنازل.



الشكل 9-1 التجاذب بين جسيمات الغاز غير القطبي ضعيف بينما يكون التجاذب بين جسيمات الغازات القطبية مثل بخار الماء قوياً.

القطبية وحجم الجسيمات تؤثر طبيعة الجسيمات التي يتكوّن منها الغاز في سلوكه بطريقة مثالية. فمثلاً يوجد بين جسيمات الغاز القطبية كما في بخار الماء قوى تجاذب أكبر من القوى التي تكون بين جسيمات الغازات غير القطبية كالهيليوم. فتنجذب الأطراف المختلفة للجسيمات القطبية بعضها نحو بعض بقوى تجاذب كهروستاتيكية، كما في الشكل 9-1، لذا، لا تسلك الغازات القطبية سلوك الغاز المثالي. وتشغل جسيمات الغازات غير القطبية الكبيرة الحجم كالبيوتان C_4H_{10} حيزاً أكبر من الحيز الذي يشغله عدد مماثل من جسيمات غاز صغيرة الحجم كالهيليوم He . ولهذا السبب تميل جسيمات الغاز الكبيرة إلى الابتعاد عن السلوك المثالي أكثر من جسيمات الغاز الصغيرة.

التقويم 1-2

الخلاصة

- ينص مبدأ أفوجادرو على أن الحجم المتساوية من الغازات عند نفس الضغط ودرجة الحرارة تحتوي على العدد نفسه من الجسيمات.
- يربط قانون الغاز المثالي كمية الغاز مع ضغطه ودرجة حرارته وحجمه.
- يمكن استخدام قانون الغاز المثالي لإيجاد الكتلة المولية للغاز إذا كانت كتلة الغاز معروفة، ويمكن أيضاً استخدامه لإيجاد كثافة الغاز إذا كانت الكتلة المولية معروفة.
- تسلك الغازات الحقيقية عند الضغط العالي ودرجات الحرارة المنخفضة سلوكاً مغايراً لسلوك الغاز المثالي.

- 31. الفكرة الرئيسة** فسر لماذا ينطبق مبدأ أفوجادرو على الغازات التي تتكون من جزيئات صغيرة والتي تتكون من جزيئات كبيرة؟
- 32.** اكتب معادلة قانون الغاز المثالي.
- 33.** حلّ كيف ينطبق قانون الغاز المثالي على الغاز الحقيقي مستخدماً نظرية الحركة الجزيئية؟
- 34.** توقع الظروف التي يحتمل أن يختلف عندها سلوك الغاز الحقيقي عن سلوك الغاز المثالي؟
- 35.** ضع في قائمة، الوحدات الأكثر شيوعاً للمتغيرات في قانون الغاز المثالي.
- 36.** احسب كتلة غاز البروبان C_3H_8 الموجود في دورق حجمه 2.0 L عند ضغط جوي مقداره 1.00 atm ودرجة حرارة $-15.0^\circ C$.
- 37.** ارسم رسماً بيانياً واستخدمه لخفض ضغط إطارات السيارات بمقدار 1psi (14.7psi=1.0 atm) عند انخفاض درجة الحرارة بمقدار $6^\circ C$ ، ارسم رسماً بيانياً يوضح التغير في الضغط داخل الإطار، عندما تتغير درجات الحرارة من $20^\circ C$ إلى $-20^\circ C$ (افتراض أن الضغط يساوي 30 Psi عند درجة حرارة $20.0^\circ C$).



الحسابات المتعلقة بالغازات Gas Stoichiometry

الأهداف

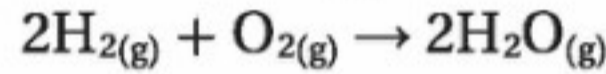
- تحديد النسب الحجمية للغازات المتفاعلة والنتيجة مستخدمًا المعاملات الموجودة في المعادلة الكيميائية.
- تطبيق قوانين الغازات لحساب كميات الغازات المتفاعلة والنتيجة في التفاعل الكيميائي.

الفكرة الرئيسية عندما تتفاعل الغازات فإن المعاملات في المعادلات الكيميائية الموزونة التي تمثل هذه التفاعلات تشير إلى عدد المولات والحجوم النسبية للغازات.

الربط مع الحياة لكي تقوم بصناعة الكيك من المهم أن تضيف المقادير بنسب صحيحة. وبطريقة مشابهة فإن نسبًا صحيحة من المتفاعلات تلزم في التفاعل الكيميائي للحصول على النتائج المطلوبة.

الحسابات الكيميائية للتفاعلات المتضمنة للغازات Stoichiometry of Reactions Involving Gases

تطبق قوانين الغازات في حساب المتفاعلات أو النواتج الغازية في التفاعلات الكيميائية. تذكر أن المعاملات في التفاعلات الكيميائية تمثل عدد مولات المواد المشاركة في التفاعل. على سبيل المثال يتفاعل غاز الهيدروجين مع غاز الأكسجين لإنتاج بخار الماء.

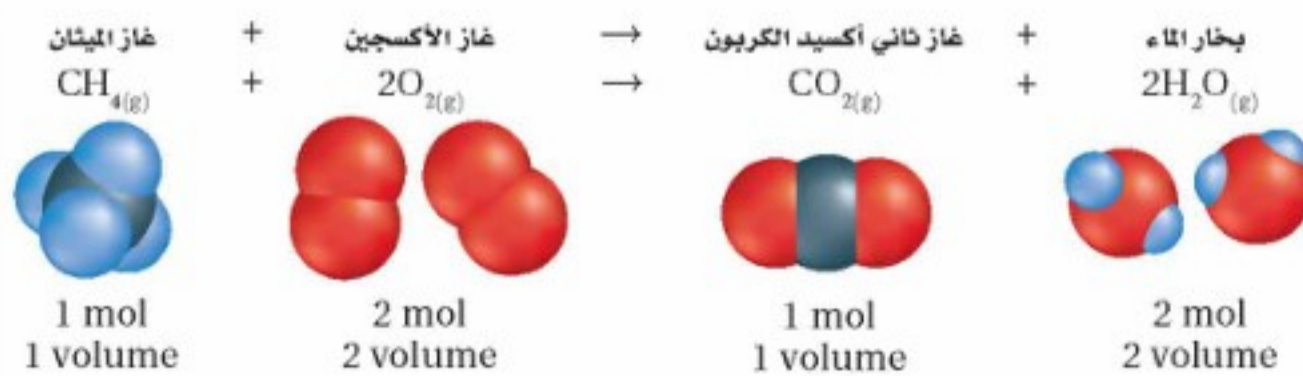


تخبرك المعادلة الكيميائية الموزونة بالنسب المولية للمواد في التفاعل؛ فمثلًا تبين معادلة التفاعل أعلاه أن 2 mol من غاز الهيدروجين تتفاعل مع 1 mol من غاز الأكسجين وينتج 2 mol من بخار الماء.

كما ينص مبدأ أفوجادرو على أن الحجوم المتساوية من الغازات المختلفة عند نفس درجة الحرارة والضغط لها عدد الجسيمات نفسه، وهكذا فإن معاملات المواد الغازية في المعادلة الكيميائية الموزونة لا تمثل عدد المولات فقط، وإنما تمثل الحجوم النسبية أيضًا. لهذا فإن 2 L من غاز الهيدروجين ستتفاعل مع 1 L من غاز الأكسجين لإنتاج 2 L من بخار الماء.

الحسابات الكيميائية: حساب الحجم Stoichiometry and Volume–Volume Problems

لإيجاد حجم غاز متفاعل أو ناتج في التفاعل الكيميائي يجب عليك معرفة المعادلة الكيميائية الموزونة لهذا التفاعل وحجم غاز آخر مشارك في التفاعل على الأقل. افحص التفاعل في الشكل 1-10، والذي يوضح احتراق غاز الميثان، وهذا التفاعل مألوف لك؛ إذ يحدث كلما أشعلت موقد بنزن.



الشكل 1-10 توضح المعاملات في المعادلة الكيميائية الموزونة العلاقة بين أعداد مولات المواد المتفاعلة والنتيجة والعلاقة بين حجوم أي من الغازات المتفاعلة أو الناتجة. بناءً على هذه المعاملات، يمكن استخدام النسبة الحجمية لأي زوج من الغازات المتفاعلة.

ولأن المعاملات تمثل النسب الحجمية للغازات المشاركة في التفاعل فإنه يمكنك أن تحدد أنه يلزم 2 L من غاز الأوكسجين لتتفاعل تمامًا مع 1 L من غاز الميثان. كما أن الاحتراق الكامل لـ 1 L من الميثان سوف ينتج 1 L من ثاني أكسيد الكربون و 2 L من بخار الماء.

لاحظ أنه لم يتم تحديد أي من الظروف مثل الضغط ودرجة الحرارة. فلا حاجة إليها في الحسابات الكيميائية؛ وذلك لأنه بعد الخلط سيكون كلا الغازين في نفس درجة الحرارة والضغط. ويمكن أن تتغير درجة الحرارة في أثناء التفاعل، لكن التغير في درجة الحرارة يؤثر في كل الغازات الموجودة في التفاعل بنفس الطريقة. لذا فإنك لا تحتاج لأخذ حالي الضغط ودرجة الحرارة بعين الاعتبار.

مثال 1-7

مسائل حساب الحجم ما حجم غاز الأوكسجين اللازم لإحراق 4.0 L من غاز البروبان C_3H_8 حرقًا كاملاً. افترض أن الضغط ودرجة الحرارة ثابتان.

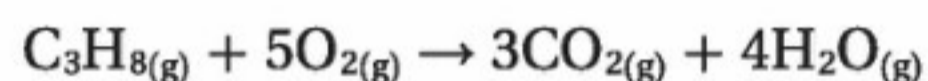
1 تحليل المسألة

لقد أعطيت حجم الغاز المتفاعل في المعادلة الكيميائية. تذكر أن المعاملات في المعادلة الكيميائية الموزونة تزودك بالنسب الحجمية للغازات المتفاعلة والنتيجة.

المعطيات	المطلوب
$V_{C_3H_8} = 4.00 \text{ L}$	$V_{O_2} = ? \text{ L}$

2 حساب المطلوب

استخدم المعادلة الموزونة لاحتراق C_3H_8 ، ثم جد النسبة الحجمية لكل من C_3H_8 و O_2 ، ثم جد حجم غاز O_2



اكتب المعادلة الموزونة

$$\frac{5 \text{ volume } O_2}{1 \text{ volume } C_3H_8}$$

جد النسبة الحجمية لـ O_2 ، C_3H_8

$$V_{O_2} = (4.00 \text{ L } C_3H_8) \times \frac{5 \text{ volume } O_2}{1 \text{ volume } C_3H_8}$$

اضرب حجم C_3H_8 المعروف بالنسبة

الحجمية لإيجاد حجم O_2

$$= 20.0 \text{ L } O_2$$

3 تقويم الإجابة

توضح المعاملات في معادلة تفاعل الاحتراق أن حجم غاز O_2 المستخدم في التفاعل أكبر كثيرًا من حجم C_3H_8 ، وهذا يتوافق مع الإجابة التي تم حسابها. وحدة الإجابة هي (L)، وهو وحدة حجم، وهناك ثلاثة أرقام معنوية.

مسائل تدريبية

38. كم لترًا من غاز البروبان C_3H_8 يلزم لكي تحترق حرقًا كاملاً مع 34.0 L من غاز الأوكسجين؟

39. ما حجم غاز الهيدروجين اللازم للتفاعل تمامًا مع 5.00 L من غاز الأوكسجين لإنتاج الماء؟

40. ما حجم غاز الأوكسجين اللازم لاحتراق 2.36 L من غاز الميثان CH_4 حرقًا كاملاً؟

41. تحفيز يتفاعل غازا النيتروجين والأوكسجين لإنتاج غاز أكسيد ثاني النيتروجين N_2O . ما حجم غاز O_2 اللازم لإنتاج 34 L من غاز N_2O ؟

الكيمياء في واقع الحياة

استخدام الحسابات الكيميائية



الأفران تلزم نسب صحيحة من الغازات في كثير من التفاعلات الكيميائية. ورغم أن كثيرًا من أفران صناعة الفخار يتم تغذيتها بغاز الميثان فإن مزيجًا محددًا من البروبان والهواء يمكن أن يستخدم وقودًا في هذه الأفران إن لم يتوافر الميثان.

الشكل 1-11 تعد الأمونيا مادة أساسية لإنتاج الأسمدة الغنية بالنيتروجين. ويؤدي وجود النيتروجين في التربة بمستوى ملائم إلى تحسين المحصول الزراعي.



الحسابات الكيميائية: حسابات الحجم – الكتلة Stoichiometry and Volume – Mass Problems

الربط مع علم الأحياء

يمكنك تطبيق ما تعلمته عن الحسابات الكيميائية على إنتاج الأمونيا NH_3 من غاز النيتروجين N_2 . فمصانع الأسمدة تستخدم الأمونيا لصناعة الأسمدة الغنية بالنيتروجين؛ فالنيتروجين عنصر مهم لنمو النباتات. ويعد تثبيت النباتات لنيتروجين الجو في التربة، وتحليل المواد العضوية، ومخلفات الحيوانات، من المصادر الطبيعية للنيتروجين في التربة. هذه المصادر لا توفر ما يكفي من النيتروجين لسد حاجة المزروعات. يوضح الشكل 1-11 مزارعاً يسمد الأرض بسماد غني بالنيتروجين، وهذا يجعل المزارع قادراً - بإذن الله - على إنتاج كميات أكثر من المحصول.

يوضح المثال 1-8 كيف يمكن استخدام غاز النيتروجين في إنتاج مقدار محدود من الأمونيا. تذكر عند حل هذا المثال أن المعادلة الكيميائية الموزونة تبين أعداد المولات والحجوم النسبية للغازات فقط، وليس كتلتها. لذا يجب أن يتم تحويل كل الكتل المعطاة إلى مولات أو حجوم قبل استخدامها جزءاً من النسبة. تذكر أيضاً أن وحدة درجة الحرارة يجب أن تكون بالكلفن.

المفردات

المفردات الأكاديمية

النسبة

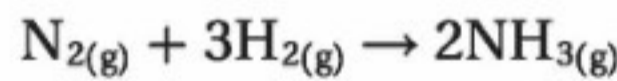
العلاقة الكمية بين شيئين.

النسبة بين الهيدروجين والأكسجين في

جزء الماء هي 2:1

مثال 1-8

حسابات الحجم- الكتلة تحضر الأمونيا من غاز الهيدروجين وغاز النيتروجين وفق المعادلة:



إذا تفاعل 5.00 L من غاز النيتروجين تماماً مع غاز الهيدروجين عند ضغط جوي 3.00 atm ودرجة حرارة 298 K، فما كمية الأمونيا (g) التي تنتج عن التفاعل؟

1 تحليل المسألة

لقد أعطيت الحجم والضغط، ودرجة الحرارة لعينة من الغاز، كما أن النسبة الحجمية والمولية للغازات المتفاعلة والنتيجة معطاة من خلال معاملاتها في المعادلة الكيميائية الموزونة. يمكن تحويل الحجم إلى مولات باستخدام قانون الغاز المثالي، ومن ثم حساب الكتلة باستخدام الكتلة المولية.

المطلوب
 $m_{NH_3} = ? g$

المعطيات
 $V_{N_2} = 5.00 L$
 $P = 3.00 atm$
 $T = 298 K$

2 حساب المطلوب

حدد عدد لترات غاز الأمونيا التي يمكن أن تنتج عن 5.00 L من غاز النيتروجين.

$$5.00 \text{ L N}_2 \left(\frac{2 \text{ vol NH}_3}{1 \text{ vol N}_2} \right) = 10.0 \text{ L NH}_3$$

جد النسبة الحجمية لـ NH_3 و N_2 مستخدماً المعادلة الموزونة
قم بضرب الحجم المعروف من N_2 في النسبة الحجمية لإيجاد حجم NH_3

استخدم قانون الغاز المثالي لإيجاد قيمة n . ومن ثم احسب عدد مولات NH_3

$$PV = nRT$$

اكتب نص قانون الغاز المثالي

$$n = \frac{PV}{RT}$$

جد قيمة n

$$n = \frac{(3.00 \text{ atm})(10.0 \text{ L})}{\left(0.0821 \frac{\text{L}\cdot\text{atm}}{\text{mol}\cdot\text{K}}\right)(298 \text{ K})}$$

عوض $V = 5.00 \text{ L}$, $P = 3.0 \text{ atm}$, $T = 298 \text{ K}$

$$n = \frac{(3.00 \text{ atm})(10.0 \text{ L})}{\left(0.0821 \frac{\text{L}\cdot\text{atm}}{\text{mol}\cdot\text{K}}\right)(298 \text{ K})} = 1.23 \text{ mol NH}_3$$

اضرب واقسم الأرقام والوحدات

$$M = \left(\frac{1 \text{ N atom} \times 14.01 \text{ amu}}{1 \text{ N atom}} \right) + \left(\frac{3 \text{ H atoms} \times 1.01 \text{ amu}}{1 \text{ H atom}} \right) = 17.04 \text{ amu}$$

جد الكتلة المولية لـ NH_3

عبر عن الكتلة المولية بوحدة g/mol

$$M = 17.04 \text{ g/mol}$$

حول مولات الأمونيا إلى جرامات الأمونيا

استخدم الكتلة المولية معاملاً للتحويل

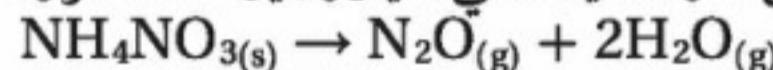
$$1.23 \text{ mol NH}_3 \times \frac{17.04 \text{ g NH}_3}{1 \text{ mol NH}_3} = 21.0 \text{ g NH}_3$$

3 تقويم الإجابة

لتفحص إجابتك، احسب حجم النيتروجين المتفاعل عند (STP)، ثم الحجم المولي والنسبة المولية بين N_2 ، NH_3 ؛ لتحديد عدد مولات NH_3 الناتجة. وحدة الإجابة هي الجرام، وهي وحدة قياس الكتلة، وهناك ثلاثة أرقام معنوية.

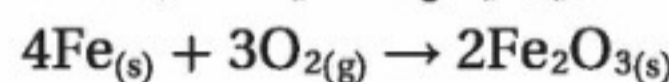
مسائل تدريبية

42. نترات الأمونيوم مكون شائع في الأسمدة الكيميائية. استخدم التفاعل التالي لحساب كتلة نترات الأمونيوم الصلبة التي يجب أن تستخدم للحصول على 0.100 L من غاز أكسيد ثنائي النيتروجين عند الظروف المعيارية (STP).



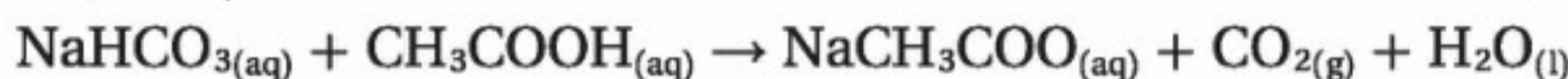
43. عند تسخين كربونات الكالسيوم CaCO_3 تتحلل لتكون أكسيد الكالسيوم CaO الصلب وغاز ثاني أكسيد الكربون CO_2 . ما عدد لترات ثاني أكسيد الكربون التي تتكون عند STP إذا تحلل 2.38 Kg من كربونات الكالسيوم تمامًا؟

44. عندما يصدأ الحديد يكون قد تفاعل مع الأكسجين ليكون أكسيد الحديد (III)



احسب حجم غاز الأكسجين عند STP اللازم ليتفاعل مع 52.0 g من الحديد تمامًا.

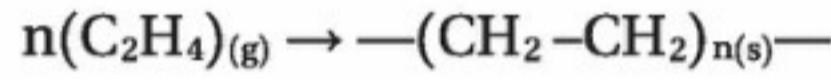
45. تحفيز أضيفت كمية فائضة من حمض الأسيتيك إلى 28g من كربونات الصوديوم الهيدروجينية عند درجة حرارة 25°C ، وضغط 1 atm وفي أثناء التفاعل برد الغاز بحيث أصبحت درجة حرارته (20°C). ما حجم غاز ثاني أكسيد الكربون الناتج؟



الشكل 1-12 لصناعة منتج ما
بفاعلية كهذه المنتجات البلاستيكية،
من الضروري إجابة الأسئلة الآتية:
ما مقدار المتفاعلات التي يجب
شراؤها؟ ما مقدار النواتج؟



تعتمد العمليات الصناعية على الحسابات الكيميائية التي درستها في الأمثلة السابقة؛ فغاز الإيثين C_2H_4 مثلاً، والذي يدعى أيضاً الإثيلين، هو المادة الخام لصناعة مبلمر البولي إيثيلين. ينتج البولي إيثيلين عندما تتحد مجموعة كبيرة من الوحدات الأساسية (جزيئات الإيثين $-CH_2-CH_2-$) في صورة نمط متكرر في سلاسل. وتستخدم هذه المبلمرات في صناعة الكثير من مستلزمات الحياة اليومية، كما يبين الشكل 1-12. والمعادلة التالية توضح الصيغة العامة لتفاعل البلمرة، حيث تمثل n عدد الوحدات المتكررة.



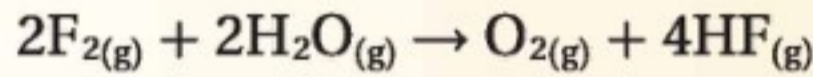
لو كنت مهندساً في مصنع لصناعة البولي إيثيلين فإنك ستحتاج لمعرفة بعض خصائص غاز الإثيلين، ومعرفة تفاعلات البلمرة أيضاً، وستساعدك المعلومات المتعلقة بقوانين الغازات على حساب كتلة وحجم المادة الخام اللازمة تحت درجات حرارة وضغط مختلفة لصناعة أنواع مختلفة من البولي إيثيلين.

التقويم 1-3

الخلاصة

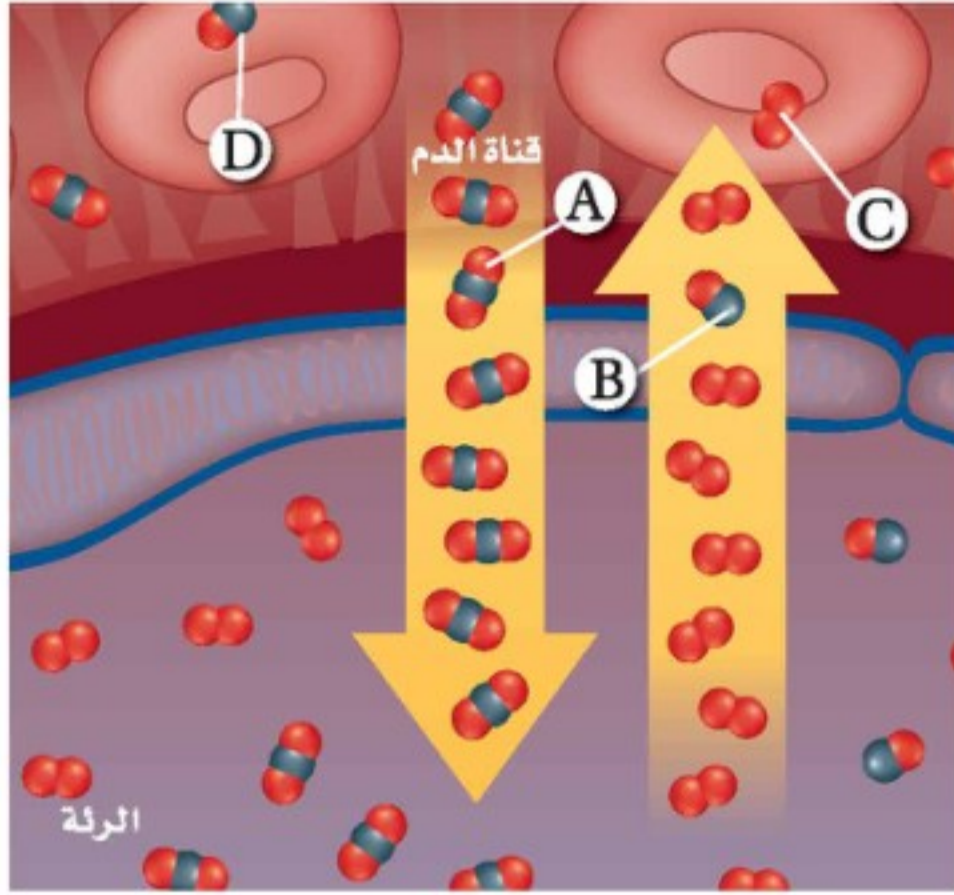
- تحدد المعاملات في المعادلة الكيميائية الموزونة النسب الحجمية للغازات المتفاعلة والناجمة.
- يمكن أن تستخدم قوانين الغازات مع المعادلات الكيميائية الموزونة لحساب كميات الغازات المتفاعلة أو الناتجة عن التفاعل.

46. الفكرة الرئيسية فسر عندما يتفاعل غاز الفلور مع بخار الماء يحدث التفاعل الآتي:



- فإذا بدأ التفاعل بـ 2 L من غاز الفلور فما حجم بخار الماء (L) اللازم للتفاعل مع غاز الفلور؟ وما حجم غاز الأكسجين وغاز فلوريد الهيدروجين الناتجين؟
- 47.** حلل هل يتناسب حجم الغاز تناسباً طردياً أو عكسياً مع عدد مولات الغاز عند درجة حرارة وضغط ثابتين؟ فسر إجابتك.
- 48.** احسب يشغل 1 mol من الغاز حجماً مقداره 22.4 L عند الظروف المعيارية (STP)، احسب درجة الحرارة والضغط اللازمين لإدخال 2 mol من الغاز في حجم 22.4 L.
- 49.** فسر البيانات يتفاعل غاز الإيثين C_2H_4 مع غاز الأكسجين ليكونا غاز ثاني أكسيد الكربون والماء. اكتب المعادلة الكيميائية الموزونة لهذا التفاعل، ثم جد النسبة المولية للمواد الموجودة على كل جهة من المعادلة.

الصحة والضغط



الشكل 2 تبادل الغازات بين الرئتين وجهاز الدوران.

التسمم بغاز أول أكسيد الكربون استخدم الشكل 2 لمعرفة كيف يساعد (HBOT) على علاج التسمم بغاز أول أكسيد الكربون.

التبادل الطبيعي للغاز ينتقل غاز O_2 من الرئتين إلى الدم، ويرتبط مع هيموجلوبين الدم في خلايا الدم الحمراء، فيتحرر ثاني أكسيد الكربون CO_2 كما يظهر عند الموضع A.

تبادل الغاز غير الطبيعي إذا دخل أول أكسيد الكربون إلى الدم كما يوضحه الرمز B، عوضاً عن الأكسجين فإنه يرتبط مع الهيموجلوبين، وتبدأ خلايا الجسم تموت نتيجة حرمانها من الأكسجين.

الأكسجين في بلازما الدم بالإضافة إلى الأكسجين الذي يحمله الهيموجلوبين يذوب الأكسجين في بلازما الدم كما هو مبين في C. وتساعد المعالجة بالأكسجين (HBOT) على زيادة تركيز الأكسجين المذاب إلى المقدار الذي يحافظ على الجسم سليماً.

التخلص من أول أكسيد الكربون يساعد الأكسجين المضغوط على التخلص من أول أكسيد الكربون المرتبط مع الهيموجلوبين، كما هو موضح في D.

تعيش حياتك اليومية وتعمل وتلعب في الهواء حيث يكون الضغط 1atm تقريباً، ونسبة الأكسجين 21%، فهل تساءلت يوماً: ماذا يمكن أن يحدث لو كان الضغط ونسبة الأكسجين في الهواء أكثر؟ هل كنت ستتعاوى من المرض أو الجروح بسرعة؟ هذه الأسئلة هي جوهر العلاج بالأكسجين المضغوط.

العلاج بالأكسجين المضغوط Hyperbaric medicine

إن كلمة (hyper) تعني عاليًا أو زائدًا. و (bar) هي وحدة الضغط، وتساوي 100 KPa، وهذا تقريباً الضغط الجوي الطبيعي. لهذا فإن المصطلح hyperbaric يشير إلى ضغط أعلى من الضغط الطبيعي. يتعرض المرضى الذين يعالجون بالأكسجين المضغوط لضغط أعلى من الضغط الجوي عند مستوى سطح البحر.

ضغط الأكسجين يرتبط ارتفاع الضغط غالباً مع ارتفاع تركيز الأكسجين الذي يتلقاه المرضى. ويشير العلاج بالأكسجين المضغوط (HBOT) إلى علاج بوساطة أكسجين تركيزه 100%. وبين الشكل 1 غرفة المعالجة بالأكسجين المضغوط؛ حيث يمكن أن يصل الضغط في هذه الغرفة إلى خمسة أو ستة أضعاف الضغط العادي. وتستخدم HBOT في معالجة الكثير من الحالات، ومنها الحروق والدوار والجروح التي لا تلتئم بسرعة والأنيميا وبعض الأمراض المعدية.



الشكل 1 يستلقي المريض في غرفة العلاج في أثناء (HBOT)، ويتحكم الفني في الضغط ونسبة الأكسجين.

الكتابة في الكيمياء أعد كتيب معلومات حول استخدام (HBOT) لعلاج الجروح التي لا تلتئم بسرعة.

مختبر الكيمياء

تحديد الضغط في حبات الفشار



الخلفية النظرية عندما يكون ضغط بخار الماء داخل حبات الذرة المجففة (الفشار) كبيراً بشكل كافٍ، تتحول الحبات إلى فشار وتطلق بخار ماء. ويمكن استخدام قانون الغاز المثالي في إيجاد الضغط في هذه الحبات عند انفجارها.

سؤال ما مقدار الضغط اللازم لتنفس حبات الفشار؟

المواد والأدوات

حبات ذرة (18-20)	مخبار مدرج 10 mL
زيت نباتي 1.5 mL	كأس زجاجية 250 mL
شبكة تسخين مربعة 2	ماسك كأس
موقد بنزن	ميزان
حامل حلقة	ماء مقطر
حلقة حديدية صغيرة	ورق تنشيف

احتياطات السلامة

خطوات العمل

1. اقرأ تعليمات السلامة في المختبر.
2. اعمل جدولاً لتسجيل البيانات.
3. ضع 5 mL تقريباً من الماء المقطر في مخبار مدرج، وسجل حجمه.
4. ضع 18-20 حبة فشار في المخبار المدرج مع الماء، وحرّك المخبار المدرج بلطف؛ لتجبر فقائع الهواء على الخروج، ثم سجل حجم الماء وحبات الذرة معاً.
5. أخرج الحبات من المخبار المدرج وجففها.
6. ضع الحبات الجافة مع 1.0 - 1.5 mL من الزيت النباتي في كأس زجاجية.
7. قس الكتلة الكلية للكأس والزيت وحبات الذرة.
8. ركب الجهاز، كما يظهر في الصورة.
9. سخن الكأس بهدوء باستخدام الموقد، وحرّك الموقد إلى الأمام والخلف لتسخين الزيت بالتساوي.
10. لاحظ التغيرات في حبات الذرة في أثناء التسخين، ثم أطفئ الموقد عندما تتفرقع حبات الذرة.
11. استخدم ماسك الكأس لإبعاد الكأس عن الحلقة، واتركه حتى يبرد تماماً.

12. قس الكتلة النهائية للكأس والزيت والفشار.

13. التنظيف والتخلص من الفضلات تخلص من حبات الذرة والزيت باتباع تعليمات معلمك. نظّف الأدوات المخبرية وضعها في أماكنها.

حلل واستنتج

1. احسب حجم حبات الذرة بالتر، وذلك من خلال إيجاد الفرق بين حجم الماء المقطر في المخبار قبل إضافة الذرة وبعده.
2. احسب الكتلة الكلية لبخار الماء المنطلق مستخدماً قياسات كتل الكأس والزيت وحبات الذرة قبل النفش وبعده.
3. حوّل استخدم الكتلة المولية للماء؛ لإيجاد عدد مولات الماء المتحررة.
4. استخدم الصيغ اعتبر أن درجة حرارة الزيت المغلي 225°C هي درجة حرارة الغاز، واحسب ضغط الغاز باستخدام قانون الغاز المثالي.
5. قارن بين الضغط الجوي وضغط بخار الماء في الحبات.
6. استنتج لماذا لم تنفس حبات الذرة جميعها؟
7. تحليل الخطأ حدّد مصادر الخطأ في هذه التجربة، واقترح طريقة لتصحيحها.

الاستقصاء

صمم تجربة لاختبار مقدار الضغط اللازم لفرقة أنواع مختلفة من حبوب الذرة.

الفكرة العامة تستجيب الغازات لتغيرات كل من الضغط ودرجة الحرارة والحجم وعدد الجسيمات بطرائق يمكن التنبؤ بها.

1-1 قوانين الغازات

المفاهيم الرئيسية

• ينص قانون بويل على أن حجم كمية محددة من الغاز يتناسب عكسيًا مع ضغطه عند ثبوت درجة الحرارة.

$$P_1V_1 = P_2V_2$$

• ينص قانون شارل على أن حجم كمية محددة من الغاز يتناسب طرديًا مع درجة حرارته المطلقة عند ثبوت الضغط.

$$\frac{V_1}{T_1} = \frac{V_2}{T_2}$$

• ينص قانون جاي-لوساك على أن ضغط كمية محددة من الغاز يتناسب طرديًا مع درجة حرارته المطلقة عند ثبات الحجم.

$$\frac{P_1}{T_1} = \frac{P_2}{T_2}$$

• يربط القانون العام للغازات كلاً من درجة الحرارة والضغط والحجم في معادلة واحدة.

$$\frac{P_1V_1}{T_1} = \frac{P_2V_2}{T_2}$$

الفكرة الرئيسية

إن تغير الضغط أو درجة الحرارة أو الحجم لكمية ثابتة من غاز ستؤثر على المتغيرين الآخرين.

المفردات

- قانون بويل
- الصفر المطلق
- قانون شارل
- قانون جاي-لوساك
- القانون العام للغازات

1-2 قانون الغاز المثالي

المفاهيم الرئيسية

• ينص مبدأ أفوجادرو على أن الحجم المتساوية من الغازات عند نفس الضغط ودرجة الحرارة تحتوي على العدد نفسه من الجسيمات.

• يربط قانون الغاز المثالي كمية الغاز مع ضغطه ودرجة حرارته وحجمه.

$$PV = nRT$$

• يمكن استخدام قانون الغاز المثالي لإيجاد الكتلة المولية للغاز إذا كانت كتلة الغاز معروفة، ويمكن استخدامه أيضًا لإيجاد كثافة الغاز إذا كانت كتلته المولية معروفة.

$$M = \frac{mRT}{PV} \quad D = \frac{MP}{RT}$$

• تسلك الغازات الحقيقية عند الضغط العالي ودرجات الحرارة المنخفضة سلوكًا مغايرًا لسلوك الغاز المثالي.

الفكرة الرئيسية

يربط قانون الغاز المثالي عدد المولات مع كل من الضغط ودرجة الحرارة والحجم.

المفردات

- مبدأ أفوجادرو
- الحجم المولاري
- ثابت الغاز المثالي (R)
- قانون الغاز المثالي

1-3 الحسابات المتعلقة بالغازات

المفاهيم الرئيسية

• تحدد المعاملات في المعادلات الكيميائية الموزونة النسب الحجمية للغازات المتفاعلة والنتيجة.

• يمكن أن تستخدم قوانين الغازات مع المعادلة الكيميائية الموزونة لحساب كميات الغازات المتفاعلة أو الناتجة عن التفاعل.

الفكرة الرئيسية

عندما تتفاعل الغازات فإن المعاملات في المعادلات الكيميائية الموزونة التي تمثل هذه التفاعلات تشير إلى أعداد المولات والحجوم النسبية للغازات.



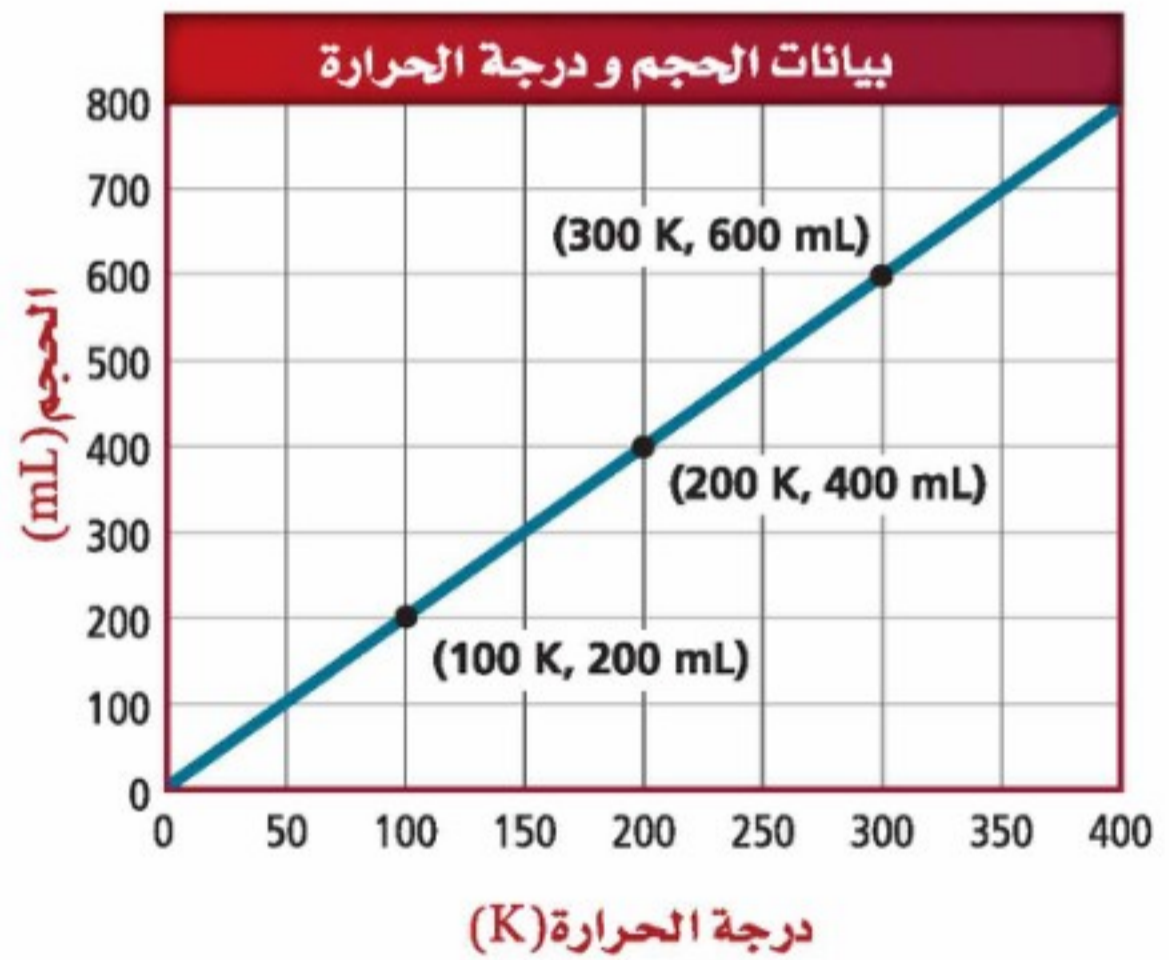
1-1

إتقان المفاهيم

50. اذكر نصوص قوانين بويل، وشارل، وجاي-لوساك والقانون العام للغازات، واكتب معادلاتها.
51. إذا تناسب متغيران تناسبًا عكسيًا فماذا يحدث لأحدهما إذا زاد الآخر؟
52. إذا تناسب متغيران تناسبًا طرديًا فماذا يحدث لأحدهما إذا زاد الآخر؟
53. ما الظروف المعيارية المستخدمة في حسابات الغازات؟
54. حدّد وحدات الضغط والحجم ودرجة الحرارة الأكثر استعمالاً.

إتقان المسائل

55. استعمل قانون شارل لتحديد صحة بيانات الشكل 1-13.



الشكل 1-13

56. بالونات الطقس أطلق بالون طقس، وكان حجمه 5.0×10^4 L عندما كان ضغطه 0.995 atm، ودرجة حرارة المحيط 32.0°C ، وبعد إطلاقه ارتفع إلى علو كان الضغط عنده 0.720 atm ودرجة الحرارة -12.0°C . احسب حجم البالون عند هذا الارتفاع.

57. استعمل قوانين بويل وشارل وجاي-لوساك لحساب القيم المفقودة في كل مما يأتي:

a. $V_1 = 2.0$ L, $P_1 = 0.82$ atm, $V_2 = 1.0$ L, $P_2 = ?$

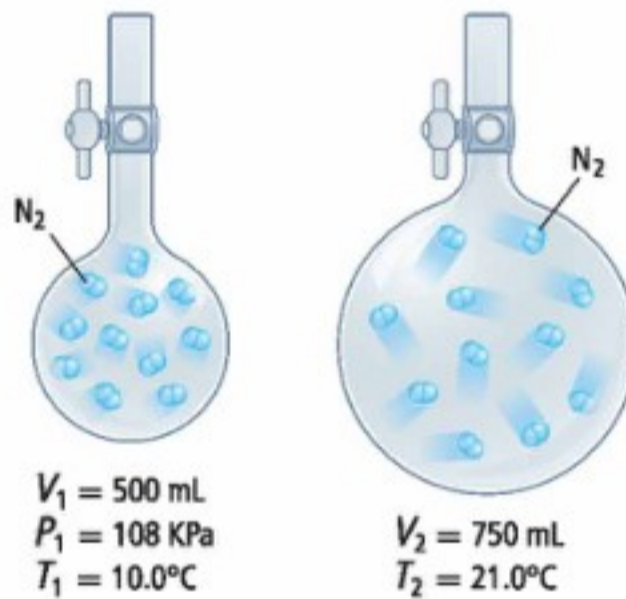
b. $V_1 = 250$ mL, $T_1 = ?$, $V_2 = 400$ mL, $T_2 = 298$ K

c. $V_1 = 0.55$ L, $P_1 = 740$ mm Hg, $V_2 = 0.80$ L, $P_2 = ?$

58. بالونات الهواء الساخن إذا كان حجم عينة من الهواء 2.5 L عند درجة حرارة 22.0°C ، فكم يصبح حجم هذه العينة إذا نقلت إلى بالون هواء ساخن، حيث تبلغ درجة الحرارة 43.0°C ؟ افترض أن الضغط ثابت داخل البالون.

59. ما ضغط حجم ثابت من غاز الهيدروجين عند درجة حرارة 30.0°C ، إذا كان ضغط غاز الهيدروجين 1.11 atm عند درجة حرارة مقدارها 15.0°C ؟

60. نقلت كمية من غاز النيتروجين من وعاء صغير إلى وعاء أكبر منه، كما هو مبين في الشكل 1-14. ما مقدار ضغط غاز النيتروجين في الوعاء الثاني؟



الشكل 1-14

1-2

إتقان المفاهيم

61. اذكر نص مبدأ أفوجادرو.
62. اذكر نص قانون الغاز المثالي.

72. حدّد كثافة غاز الكلور عند درجة 22.0°C وضغط جوي (1.00 atm).

73. أي الغازات في الشكل 1-15 يشغل الحجم الأكبر في الظروف المعيارية STP؟ فسر إجابتك.

74. إذا احتوى كل من الوعائين في الشكل 1-15 على 4.0L من الغاز فما مقدار الضغط في كل منهما؟ افترض أن الغازات مثالية.

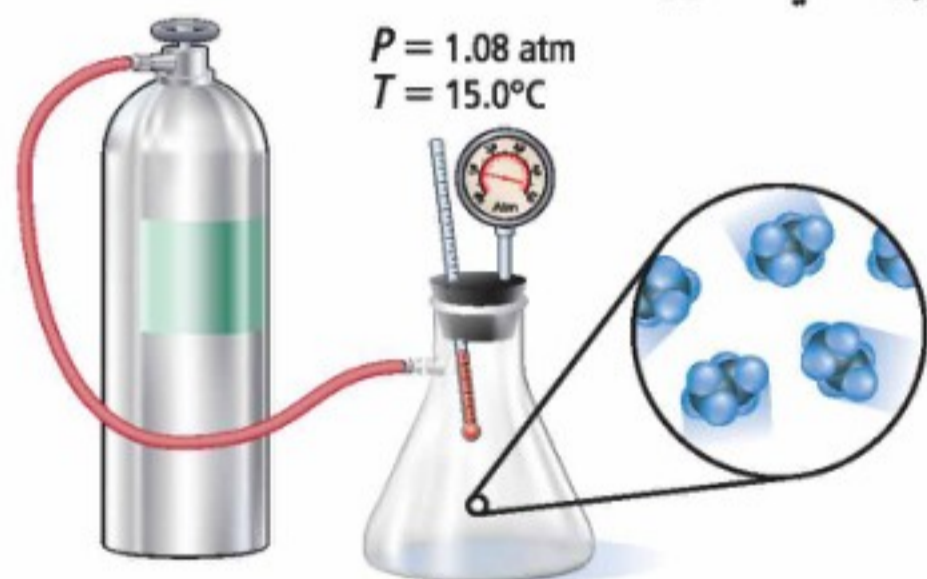


كتلة $\text{C}_3\text{H}_8 = 0.52\text{kg}$

كتلة $\text{N}_2 = 0.38\text{kg}$

الشكل 1-15

75. مُلئ دورق حجمه 2.00 L بغاز الإيثان C_2H_6 من أسطوانة صغيرة، كما يظهر في الشكل 1-16. ما كتلة الإيثان في الدورق؟



الشكل 1-16

76. ما كثافة عينة من غاز النيتروجين N_2 ، ضغطها 5.30 atm وفي وعاء حجمه 3.50 L عند درجة حرارة مقدارها 125°C ؟

77. ما عدد مولات غاز الهيليوم He اللازمة لتعبئة وعاء حجمه 22 L، عند درجة حرارة 35.0°C ، وضغط جوي مقداره 3.1 atm؟

63. ما حجم 1mol من الغاز في الظروف المعيارية؟ وما حجم 2mol من الغاز في الظروف المعيارية؟

64. ما المقصود بالغاز المثالي؟ ولماذا لا يوجد مثل هذا الغاز في الطبيعة؟

65. ما الشرطان اللذان لا يمكن أن يكون سلوك الغاز عندهما مثاليًا؟

66. ما وحدات الحرارة في معادلة قانون الغاز المثالي؟ فسر ذلك.

إتقان المسائل

67. غاز المنازل يستعمل غاز البروبان C_3H_8 في المنازل لأغراض الطهي والتدفئة.

a. احسب حجم 0.540 mol من البروبان في الظروف المعيارية.

b. فكر في حجم هذه الكمية ومقدار البروبان الموجود فيها، ثم فسر لماذا يتحول غاز البروبان إلى سائل قبل نقله؟

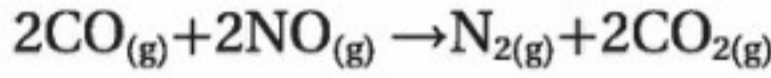
68. مهن في الكيمياء قاس كيميائي أقل ضغط يمكن الوصول إليه في المختبر فكان $1.0 \times 10^{-15} \text{ mm Hg}$ ، ما عدد جسيمات غاز حجمه 1.00 L ودرجة حرارته 22.0°C عند هذا الضغط؟

69. احسب عدد مولات O_2 الموجودة في وعاء مغلق حجمه 2.00 L ودرجة حرارته 25.0°C ، إذا كان ضغطه (3.50 atm). ما عدد المولات الموجودة في الوعاء إذا ارتفعت درجة الحرارة إلى 49.0°C وبقي الضغط ثابتًا؟

70. العطور يوجد مركب جيرانيول في زيت الورد المستخدم في صناعة العطور. ما الكتلة المولية للجيرانيول إذا كانت كثافة بخاره 0.480 g/L، عند درجة حرارة 260.0°C ، وضغط جوي مقداره 0.140 atm؟

71. جد حجم 42 g من غاز أول أكسيد الكربون في الظروف المعيارية STP.

86. ادرس التفاعل المبين أدناه ثم أجب عن الأسئلة التي تليه:



a. ما نسبة حجم أول أكسيد الكربون إلى حجم ثاني أكسيد الكربون في المعادلة الكيميائية الموزونة.

b. إذا تفاعل 42.7 g CO تمامًا عند STP فما حجم غاز النيتروجين الناتج؟

87. عندما يحترق 3.00 L من غاز البروبان تمامًا لإنتاج بخار الماء وغاز ثاني أكسيد الكربون عند درجة حرارة تساوي 350°C وضغط جوي 0.990 atm فما كتلة بخار الماء الناتجة؟

88. عند تسخين كلورات البوتاسيوم الصلبة KClO_3 فإنها تتحلل لتنتج كلوريد البوتاسيوم الصلب وغاز الأكسجين. فإذا تحلل 20.8 g من كلورات البوتاسيوم، فما عدد لترات غاز الأكسجين التي ستنتج في الظروف المعيارية STP؟

مراجعة عامة

89. تلفاز احسب الضغط داخل أنبوب الصورة في التلفاز، إذا كان حجمه 3.50L، ويحتوي على 2.00×10^{-5} g من غاز النيتروجين عند درجة حرارة تساوي (22.0°C).

90. احسب عدد اللترات التي يمكن أن تشغلها كتلة مقدارها 8.80 g من غاز ثاني أكسيد الكربون الموجودة عند:

a. STP

b. 3.00 atm و 160°C

c. 288 K و 118 Kpa

91. إذا احترق 2.33 L من غاز البروبان عند درجة حرارة 24°C وضغط جوي 67.2 Kpa احتراقًا تامًا في كمية فائضة من الأكسجين، فما عدد مولات ثاني أكسيد الكربون التي تنتج؟

78. تشارك غازان قبل التفاعل في وعاء عند درجة حرارة 200 K، وبعد التفاعل بقي الناتج في الوعاء نفسه عند درجة 400 K، فإذا كان كل من V و P ثابتين، فما قيمة n الحقيقية؟

1-3

إتقان المفاهيم

79. لماذا يعد من الضروري موازنة المعادلة قبل استخدامها في تحديد حجوم الغازات المتضمنة في التفاعل؟

80. ليس من الضروري أخذ درجة الحرارة والضغط بعين الاعتبار عند استخدام المعادلة الموزونة لتحديد الحجم النسبي للغاز. لماذا؟

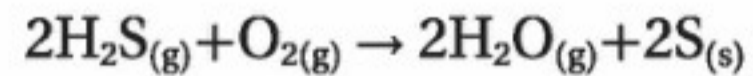
81. فسر لماذا لا تمثل المعاملات في المعادلة الكيميائية الموزونة أعداد المولات فقط، وإنما أيضًا الحجوم النسبية للغازات؟

82. هل تمثل المعاملات في المعادلة الكيميائية الموزونة الحجوم النسبية للسوائل والمواد الصلبة؟ فسر إجابتك.

إتقان المسائل

83. إنتاج الأمونيا تتكون الأمونيا من تفاعل غاز النيتروجين مع غاز الهيدروجين. ما عدد لترات غاز الأمونيا التي يمكن إنتاجها من 13.7 L من غاز الهيدروجين عند 93.0°C وضغط مقداره 40.0 kPa؟

84. عينة من غاز كبريتيد الهيدروجين حجمها 6.5 L، تمت معالجتها مع محفز لتسريع التفاعل الآتي:



فإذا تفاعل H_2S تمامًا عند ضغط 2.0 atm ودرجة حرارة مقدارها 290 K فما كتلة (g) بخار الماء الناتج.

85. ما عدد لترات غاز النيتروجين وغاز الأكسجين اللازمة لإنتاج 15.4 L من أكسيد النيتروجين عند درجة حرارة 310 K وضغط جوي 2.0 atm؟

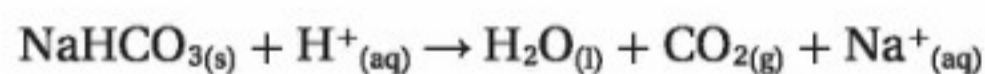
97. حُلِّ عند ما يتفكك النيتروجين $C_3H_5N_3O_9$ فإنه يتحلل إلى الغازات الآتية: CO_2 ، N_2 ، NO ، H_2O . ما حجم مزيج الغازات الناتجة عند ضغط 1.00 atm ودرجة حرارة 2678°C إذا تفكك 239 g من النيتروجين؟

98. طبق ما القيمة الرقمية لثابت الغاز المثالي (R) في المعادلة $\frac{\text{cm}^3 \cdot \text{Pa}}{\text{K} \cdot \text{mol}}$ ؟

99. استنتج هل يكون الضغط المحسوب من خلال قانون الغاز المثالي أعلى أم أقل من قيمة الضغط الحقيقي الذي تحدته عينة من الغاز؟ وكيف يكون ضغط الغاز المحسوب بالمقارنة بالضغط الحقيقي عند درجات حرارة منخفضة؟ فسر إجابتك.

مسألة تحفيز

100. الخبز يستخدم أحد الخبازين صودا الخبز لنفخ الكعك، وتتحلل صودا الخبز في أثناء ذلك وفقاً للتفاعلين الآتين:



احسب حجم CO_2 المتكون لكل جرام من NaHCO_3 في كلا التفاعلين. افترض أن التفاعل يحدث عند 210°C وضغط جوي مقداره 0.985 atm

مراجعة تراكمية

101. حول كل كتلة مما يأتي إلى ما يكافئها بـ Kg:

247 g .a

7.23 mg .c

53 mg .b

975 mg .d

102. أي جسيمات الغازات الآتية لها أعلى متوسط سرعة، وأيها لها أقل متوسط سرعة؟

a. أول أكسيد الكربون عند 90°C

b. ثالث فلوريد النيتروجين عند 30°C

c. الميثان عند 90°C

d. أول أكسيد الكربون عند 30°C

92. التنفس يتنفس الإنسان 0.50 L من الهواء تقريباً خلال التنفس الطبيعي. افترض أن ذلك يتم في الظروف الطبيعية STP.

a. ما حجم النفس الواحد في يوم بارد على قمة جبل إفرست إذا كانت درجة الحرارة -60°C ، والضغط 253 mm Hg ؟

b. يحتوي الهواء الطبيعي على 21% أكسجين، فإذا كان يحتوي على 14% من الأكسجين فوق قمة إفرست، فما حجم الهواء الذي يحتاج إليه الإنسان لتزويد الجسم بالمقدار نفسه من الأكسجين؟

93. يحترق غاز الميثان CH_4 كاملاً عند تفاعله مع غاز الأكسجين ليكون ثاني أكسيد الكربون وبخار الماء.

a. اكتب المعادلة الكيميائية الموزونة لهذا التفاعل.

b. اكتب النسبة الحجمية بين الميثان والماء في هذا التفاعل.

التفكير الناقد

94. طبق يجب أن يكون حجم بالون من الهيليوم 3.8 L على الأقل ليرتفع في الهواء، وعند إضافة 0.1 mol من الهيليوم إلى البالون الفارغ أصبح حجمه (2.8 L) . ما عدد جرامات He التي يجب إضافتها إلى البالون حتى يرتفع؟ افترض أن كلا من T، P ثابتان.

95. احسب يستخدم مصنع للألعاب تترافلوروإيثان $\text{C}_2\text{H}_2\text{F}_4$ عند درجة حرارة عالية لملء القوالب البلاستيكية.

a. ما كثافة $\text{C}_2\text{H}_2\text{F}_4$ بوحدة g/L في الظروف المعيارية STP؟

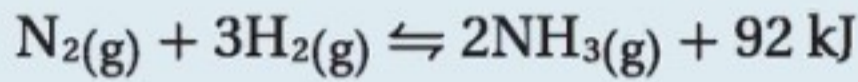
b. أوجد عدد الجزيئات في لتر من $\text{C}_2\text{H}_2\text{F}_4$ عند درجة حرارة 220°C و 1 atm ضغط جوي.

96. حُلِّ يزن مكعب صلب من الجليد الجاف 0.75 Kg (CO_2) تقريباً، فما حجم غاز CO_2 في الظروف المعيارية عندما يتسامى المكعب كلياً؟

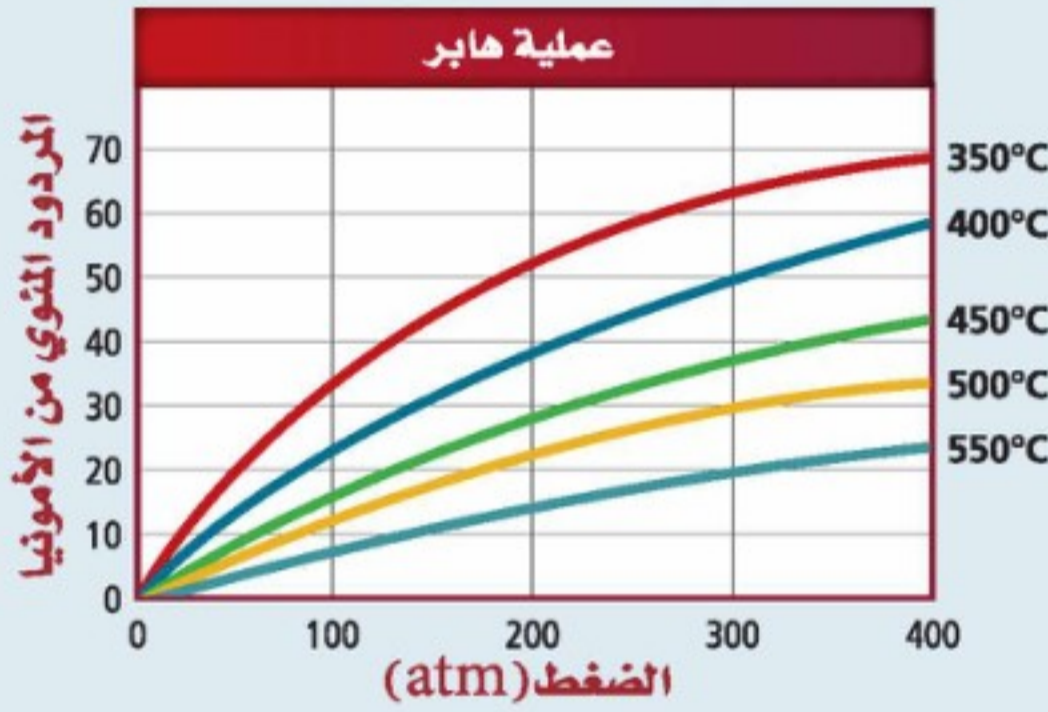


أسئلة المستندات

عملية هابر تستخدم الأمونيا NH_3 في عملية صناعة الأسمدة والمبردات والأصبغ والبلاستيك. وعملية هابر طريقة لإنتاج الأمونيا من خلال تفاعل النيتروجين والهيدروجين. وتمثل المعادلة الآتية معادلة التفاعل المنعكس:



يوضح الشكل 1-17 أثر درجة الحرارة والضغط في مقدار الأمونيا الناتجة خلال عملية هابر.



الشكل 1-17

109. فسركيف تتأثر نسبة المردود المثوية للأمونيا بالضغط ودرجة الحرارة؟

110. تتم عملية هابر عند ضغط مقداره 200 atm، ودرجة حرارة $450^\circ C$ ، حيث أثبتت هذه الظروف إمكانية إنتاج كمية كبيرة من الأمونيا خلال زمن قصير.

- a. ما أثر إجراء التفاعل عند ضغط أعلى من 200 atm، عند درجة حرارة الوعاء الذي يتم فيه التفاعل؟
- b. ترى، كيف يؤثر تقليل درجة حرارة التفاعل إلى $450^\circ C$ على الزمن اللازم لإنتاج الأمونيا؟

103. اكتب التوزيع الإلكتروني لكل ذرة فيما يأتي:

- a. اليود
b. البورون
c. الكروم
d. الكربتون
e. الكالسيوم
f. الكاديوم

104. اذكر عدد الإلكترونات في كل مستوى من مستويات الطاقة، ثم اكتب البناء الإلكتروني النقطة لكل عنصر من العناصر الآتية:

- a. Kr
b. Sr
c. P
d. B
e. Br
f. Se

105. إذا أعطيت محلولين شفافين عديمي اللون، وكان أحدهما يحتوي مركباً أيونياً، والآخر مركباً تساهمياً، فكيف يمكنك تحديد أي المحلولين أيوني، وأيها تساهمي؟

106. اكتب معادلة كيميائية موزونة لكل تفاعل من التفاعلات الآتية:

- a. إحلل الزنك مكان الفضة في محلول كلوريد الفضة.
- b. تفاعل هيدروكسيد الصوديوم وحمض الكبريتيك لتكوين كبريتات الصوديوم والماء.

تقويم إضافي

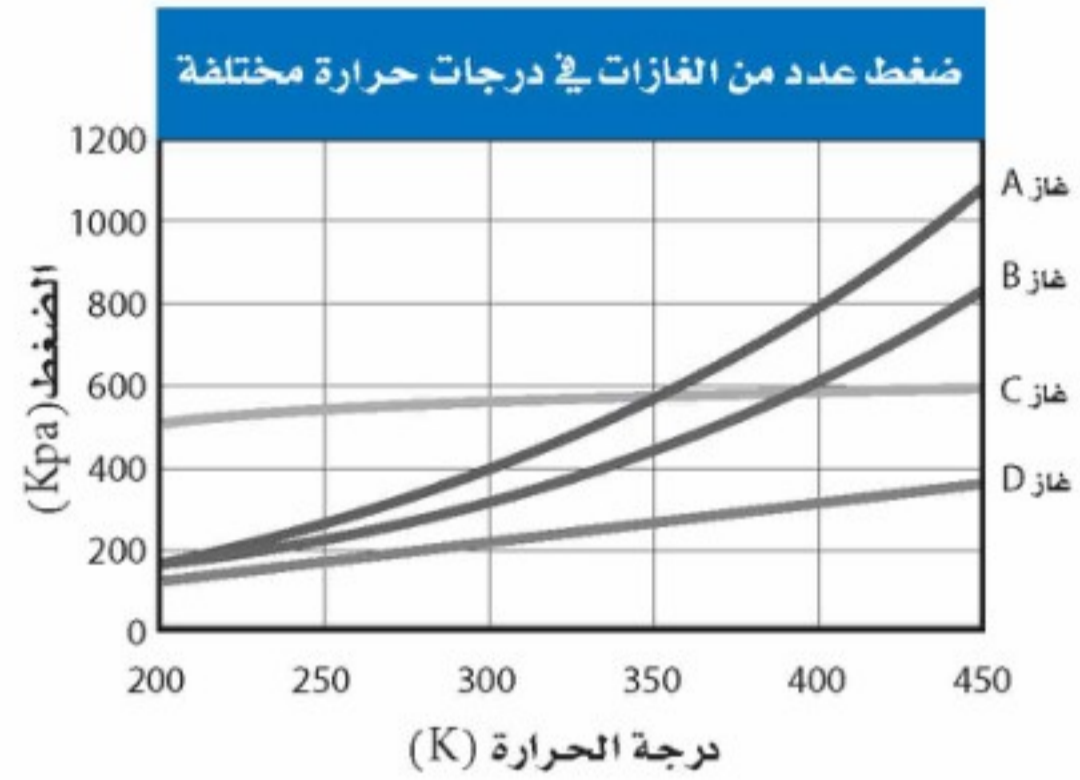
الكتابة في الكيمياء

107. بالون الهواء الساخن حلم كثيرون فيما مضى بالقيام برحلة حول العالم بالون هواء ساخن، وهو حلم لم يتحقق حتى عام 1999م. اكتب تصوراتك عن الرحلة، وصف كيف يتحكم تغير درجة حرارة البالون في ارتفاع البالون؟

108. جهاز التنفس تحت الماء ابحت في أثر منظمات الغاز الموجودة على أسطوانات الهواء التي يستخدمها الغواصون، وشرحه.

أسئلة الاختيار من متعدد

استخدم الرسم البياني الآتي للإجابة عن السؤالين 1 ، 2 :



1. أي مما يأتي يوضحه الرسم البياني أعلاه:

- a. عندما تزداد درجة الحرارة يقل الضغط.
- b. عندما يزيد الضغط يقل الحجم.
- c. عندما تزيد درجة الحرارة يقل عدد المولات.
- d. عندما يقل الضغط تقل درجة الحرارة.

2. أي الغازات الآتية يسلك سلوك الغاز المثالي؟

- a. الغاز A
- b. الغاز B
- c. الغاز C
- d. الغاز D

3. يستخدم حمض الهيدروفلوريك HF في صناعة الأدوات

الإلكترونية، وهو يتفاعل مع سليكات الكالسيوم $CaSiO_3$ ، الذي يعدّ أحد مكونات الزجاج. ما الخاصية التي تحول دون نقل حمض الهيدروفلوريك أو تخزينه في أوعية زجاجية؟

- a. خاصية كيميائية
- b. خاصية فيزيائية كمية
- c. خاصية فيزيائية نوعية
- d. خاصية كمية

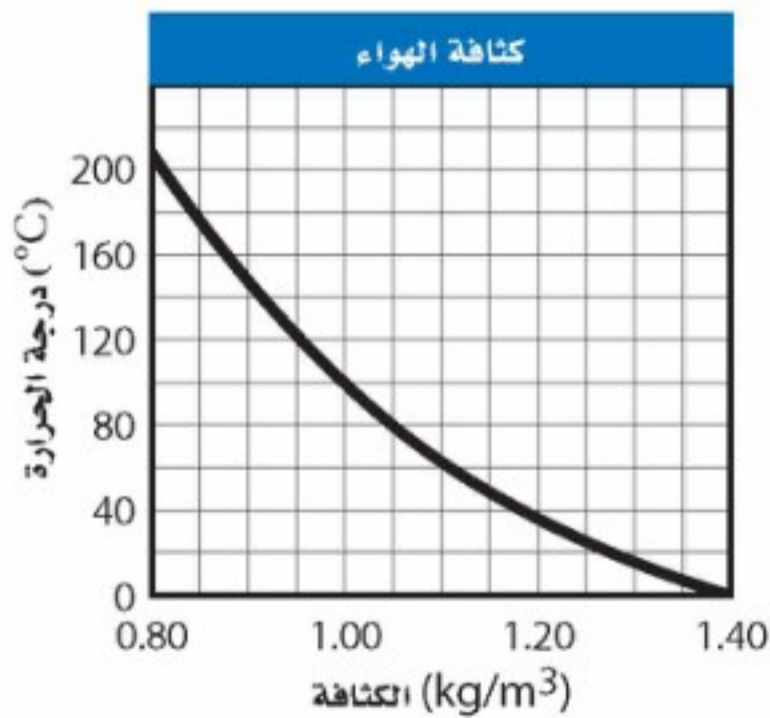
4. يعد هيدروكسيد الصوديوم NaOH قاعدة قوية، تستخدم في فتح مصارف الصرف الصحي. ما نسب مكونات هيدروكسيد الصوديوم؟

- a. 57.48% Na, 60.00% O, 2.52% H
- b. 2.52% Na, 40.00% O, 57.48% H
- c. 57.48% Na, 40.00% O, 2.52% H
- d. 40.00% Na, 2.52% O, 57.48% H

5. ملئ منطاد صغير وهو على سطح الأرض بـ 5.66×10^6 L من غاز الهيليوم He، وكان الضغط داخل المنطاد 1.10 atm ، عند درجة حرارة 25°C ، فإذا بقي الضغط داخل المنطاد ثابتاً، فكم يكون حجمه عند ارتفاع 2300 m حيث درجة الحرارة 12°C ؟

- a. $2.72 \times 10^6 \text{ L}$
- b. $5.40 \times 10^6 \text{ L}$
- c. $5.66 \times 10^6 \text{ L}$
- d. $5.92 \times 10^6 \text{ L}$

6. يوضح الرسم البياني نتائج تجربة تم فيها تحليل العلاقة بين درجة الحرارة وكثافة الهواء. ما المتغير المستقل في هذه التجربة؟



- a. الكثافة
- b. الكتلة
- c. درجة الحرارة
- d. الزمن



اختبار مقنن

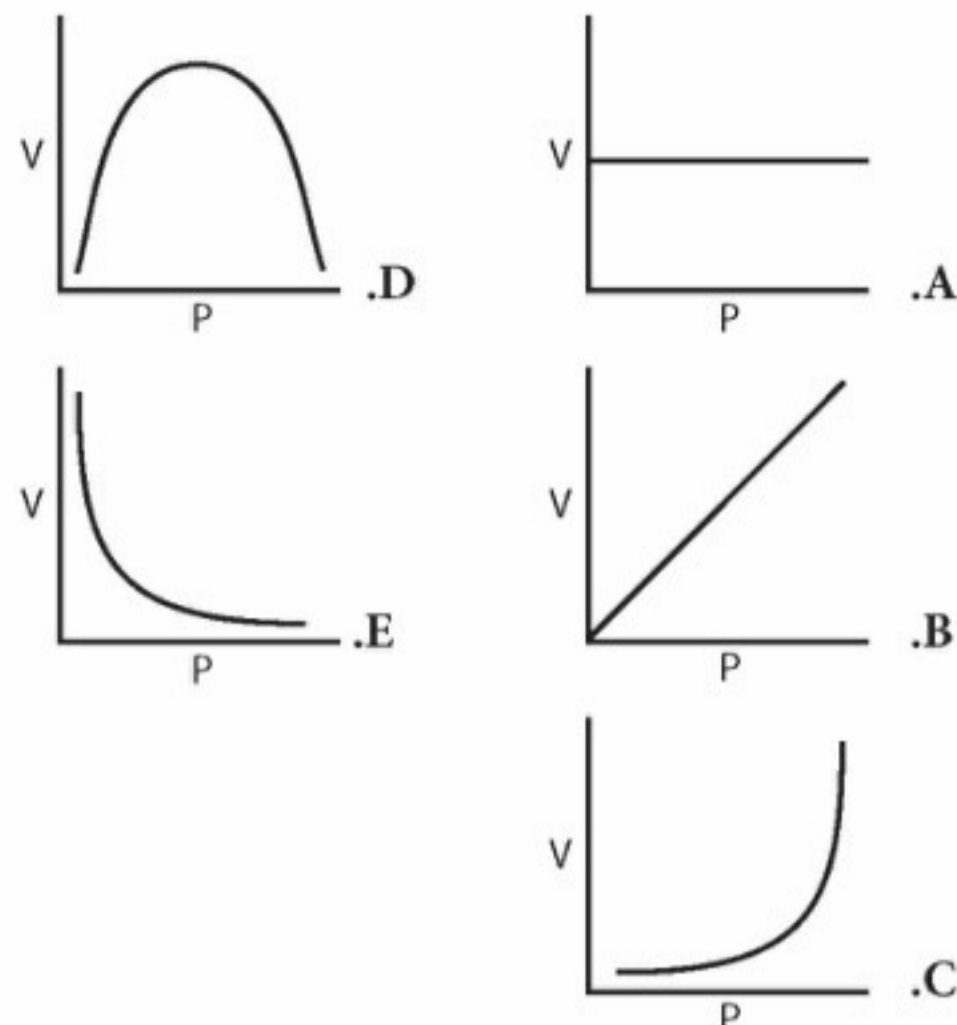
أسئلة الإجابات المفتوحة

استخدم الجدول الآتي للإجابة عن السؤال 12:

مستويات غاز الرادون من أغسطس 2004 حتى يوليو 2005			
مستوى الرادون mJ/m ³	التاريخ	مستوى الرادون mJ/m ³	التاريخ
0.05	2 /05	0.15	8 /04
0.05	3 /05	0.03	9 /04
0.06	4 /05	0.05	10 /04
0.13	5 /05	0.03	11 /04
0.05	6 /05	0.04	12 /04
0.09	7 /05	0.02	1 /05

12. يعد غاز الرادون من الغازات المشعة، وينتج عندما يتحلل الراديوم في الصخور والتربة، وهو مادة مسرطنة. توضح البيانات أعلاه مستويات الرادون التي تم قياسها في منطقة معينة. اختر طريقة لتمثيل هذه البيانات بيانياً. فسر سبب اختيارك لهذه الطريقة ومثل البيانات بيانياً.

7. أي الرسوم البيانية توضح العلاقة بين حجم الغاز وضغطه عند ثبات درجة الحرارة.



8. ما مقدار الضغط الذي يحدثه 0.0468 g من الأمونيا NH₃ على جدران وعاء حجمه 4.00 L عند درجة 35.0°C، على افتراض أنه يسلك سلوك الغاز المثالي؟

- a. 0.0174 atm
b. 0.00198 atm
c. 0.296 atm
d. 0.278 atm
e. 0.0, 126 atm

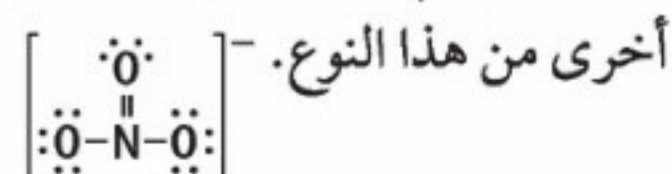
أسئلة الإجابات القصيرة

9. صف الملاحظات التي تقدم دليلاً على حدوث التفاعل الكيميائي.

10. حدّد سبعة جزيئات ثنائية الذرة موجودة في الطبيعة، وفسر لماذا تتشارك ذرات هذه الجزيئات في زوج من الإلكترونات؟

11. يوضح الرسم أدناه بناء لويس لأيون النترات المتعدد الذرات (NO₃⁻).

عرف مفهوم متعدد الذرات، وأعط أمثلة على أيونات





الفكرة العامة معظم السوائل والغازات والمواد الصلبة التي تكوّن عالمنا مخاليط.

2-1 أنواع المخاليط

الفكرة الرئيسية المخاليط إما متجانسة أو غير متجانسة.

2-2 تركيز المحلول

الفكرة الرئيسية يمكن التعبير عن التركيز بدلالة النسبة المئوية أو المولات.

2-3 العوامل المؤثرة في الذوبان

الفكرة الرئيسية يتأثر تكوّن المحلول بعوامل، منها الحرارة والضغط والقطبية.

2-4 الخواص الجامعة للمحاليل

الفكرة الرئيسية تعتمد الخواص الجامعة على عدد جسيمات المذاب في المحلول.

حقائق كيميائية

- ينتج حوالي 42.3% من الفولاذ سنويًا عن إعادة التدوير.
- الحديد هو المكون الأساسي للفولاذ، لكن يمكن إضافة عناصر - منها النيكل والمنجنيز والكروم والفناديوم والتنجستون - بحسب المواصفات المطلوبة.
- يستعمل الأسمنت في صناعة الخلطات الأسمنتية و مواد البناء لتقويتها، وجعلها تتحمل العوامل البيئية العادية.
- ينتج نحو 6 بلايين متر مكعب من الخلطات الأسمنتية سنويًا. أي ما يعادل 1 متر مكعب ($1m^3$) لكل شخص سنويًا.

نشاطات تمهيدية

التركيز اعمل المطوية الآتية لتساعدك على تنظيم المعلومات حول تراكيز المحاليل.


المطويات

منظّمات الأفكار



الخطوة 1 اطو ورقتين من المنتصف أفقيًا.

الخطوة 2 اقطع 3 cm على طول خط الشئ لإحدى الورقتين من كلا الجانبين. وقص الورقة الثانية على طول خط الشئ أيضًا من وسطها مع ترك 3 cm من كلا الجانبين دون قص.



الخطوة 3 أدخل الورقتين إحداهما في الأخرى لعمل كتاب من أربع صفحات.

المطويات استعمل هذه المطوية مع القسم 2-2

في أثناء قراءتك لهذا القسم، استعمل المطوية لتسجيل ما تعلمته عن طرائق التعبير عن تراكيز المحاليل، مستعينًا بأمثلة حسابية.

تجربة استهلاكية

كيف تتغير الطاقة عند تكوين المحاليل؟

تتغير الطاقة عند تكوين المحلول نتيجة تأثير قوتين: قوى التجاذب بين الجسيمات الذائبة في المحلول، وقوة التجاذب بين جسيمات المذاب والمذيب معًا. كيف يمكن ملاحظة هذا التغير؟



خطوات العمل

1. املا بطاقة السلامة في دليل التجارب العملية.
2. زن 10 g من كلوريد الأمونيوم NH_4Cl ، ثم ضعها في كأس سعتها 100 mL.
3. قس 30 mL من الماء بمخبار مدرج سعته 50 mL، ثم أضف الماء إلى NH_4Cl في الكأس، وحرك المحلول بساق التحريك.
4. تحسس أسفل الكأس من الخارج، وسجل ملاحظتك.
5. كرر الخطوات 2-4 مستعملًا كلوريد الكالسيوم $CaCl_2$ بدلاً من NH_4Cl .
6. تخلص من المحاليل بسكبها في المغسلة.

التحليل

1. قارن أي العمليتين السابقتين كانت طاردة للحرارة، وأيها كانت ماصة لها؟
 2. استنتج اكتب أمثلة من واقع حياتك على عمليات ذوبان طاردة للحرارة، وأخرى ماصة لها.
- استقصاء** إذا أردت زيادة التغير في درجة الحرارة، فأيهما يجب إضافته بكمية أكبر: المذاب أم المذيب؟ فسر إجابتك.



2-1

الأهداف

- تعرف أنواع المخاليط غير المتجانسة والمخاليط المتجانسة (المحاليل).
- تقارن بين خصائص المخاليط المعلقة والمخاليط الغروية والمحاليل.
- تصف القوى الكهروستاتيكية في المخاليط الغروية.

مراجعة المفردات

المذاب؛ مادة تذوب في المذيب لتكوين المحلول.

المفردات الجديدة

المخلوط المعلق
المخلوط الغروي
الحركة البراونية
تأثير تندال
المادة الذائبة
المادة غير الذائبة

أنواع المخاليط Types of Mixtures

الفكرة الرئيسية: المخاليط إما متجانسة أو غير متجانسة.

الربط مع الحياة إذا ملأت كأسًا زجاجية بهاء البحر فسوف تلاحظ أن بعض المواد تترسب في قاع الكأس، ويظل الماء مالحًا مَهْمَا مر من الوقت. لماذا تترسب بعض المواد دون غيرها؟

المخاليط غير المتجانسة Heterogeneous Mixtures

لا بد أنك تتذكر أن المخلوط مزيج من مادتين نقيتين أو أكثر، تحتفظ فيه كل مادة بخصائصها الكيميائية، وأن المخاليط غير المتجانسة لا تتمزج مكوناتها تمامًا معًا؛ أي يمكن تمييز كل منها. هناك نوعان من المخاليط غير المتجانسة، هما المعلق والغروي.

المخلوط المعلق مخلوط غير متجانس يحتوي على جسيمات يمكن أن تترسب بالترويق؛ وذلك بتركة فترة دون تحريك. انظر الشكل 2-1؛ فالوحل الذي تشاهده **مخلوط معلق**. وعند تمرير المخلوط المعلق السائل خلال ورقة ترشيح تُفصل الجسيمات المعلقة. وقد تنفصل بعض المخاليط المعلقة إلى طبقتين واضحتين إذا تركت فترة دون تحريك؛ حيث تتكون مادة شبه صلبة في القاع، وسائل فوقها، ولكن عند تحريك المخلوط المعلق سرعان ما تبدأ المادة شبه الصلبة في الانسياب، وكأنها سائل. وهناك أنواع من الطين تتحول إلى مادة شبه صلبة بسرعة؛ استجابة للهز أو الحركة، وهي تستخدم في مناطق الزلازل الأرضية، فتشيد المباني فوقها.



الشكل 2-1 يمكن فصل المخلوط المعلق إذا ترك دون تحريك فترة من الزمن، أو فصله بالترشيح.

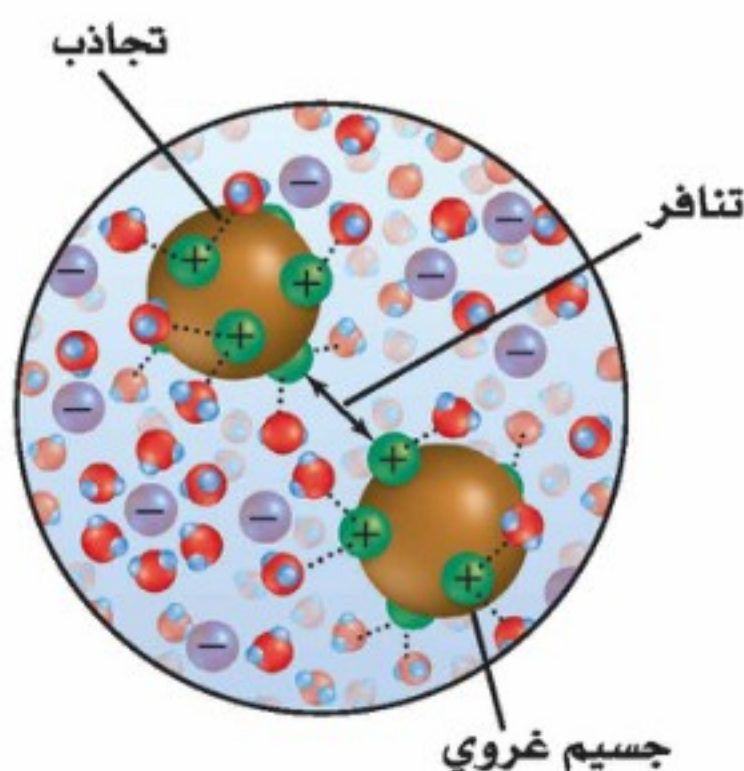
أنواع المخاليط الغروية وأمثلة عليها			الجدول 1-2
وسط الانتشار	الجسيمات المنتشرة	مثال	التصنيف
صلب	صلب	الأحجار الكريمة الملونة	صلب في صلب
سائل	صلب	الدم، الجيلاتين	صلب في سائل
صلب	سائل	الزبد، الجبن	مستحلب صلب
سائل	سائل	الحليب، المايونيز	مستحلب
صلب	غاز	الصابون الذي يطفو، حلوى الخطمي	رغوة صلبة
غاز	صلب	الدخان، الغبار في الهواء	* الهباء الجوي الصلب
غاز	سائل	الغيوم، الضباب، رذاذ مزيل العرق	* الهباء الجوي السائل

المخاليط الغروية لأن أحجام جسيمات المخلوطة المعلقة أكبر كثيرًا من أحجام جسيمات الوسط فإنها قد تترسب في المخلوطة. ويسمى المخلوطة غير المتجانس الذي يتكون من جسيمات متوسطة الحجم **المخلوطة الغروية**. وتتراوح أقطار الجسيمات في المخلوطة الغروية بين 1 nm و 1000 nm، ولا تترسب. فعلى سبيل المثال، يعد الحليب مخلوطًا غرويًا لا يمكن فصل مكوناته المتجانسة بالترويق أو الترشيح.

تسمى المادة الأكثر توافرًا في المخلوطة وسط الانتشار. وتصنف المخاليط الغروية تبعًا للحالة الفيزيائية لكل من الجسيمات المنتشرة ووسط الانتشار. فالحليب مستحلب غروي؛ لأن الجسيمات المنتشرة السائلة تنتشر بين جسيمات وسط الانتشار السائل. ويظهر الجدول 1-2 وصف أنواع أخرى من المخاليط الغروية. تُمنع الجسيمات المنتشرة من الترسب في المخاليط الغروية؛ وذلك لوجود مجموعات ذرية أو قطبية مشحونة على سطحها، تقوم بجذب المناطق الموجبة أو السالبة لجسيمات وسط الانتشار، فتتكون طبقات كهروستاتيكية حول الجسيمات، كما هو موضح في الشكل 2-2، مما يجعل الطبقات يتنافر بعضها مع بعض عندما تصطدم الجسيمات المنتشرة معًا، لذا تبقى الجسيمات في المخلوطة الغروية ولا تترسب.

وإذا تدخلنا في الطبقات الكهروستاتيكية فسوف تترسب الجسيمات المنتشرة في المخلوطة الغروية. فعند تحريك مادة متآينة (إلكتروليزية) في مخلوط غروي مثلاً تتجمع الجسيمات المنتشرة معًا، وتتلف المخلوطة الغروية. كما أن التسخين أيضًا يتلف المخلوطة الغروية؛ لأن الحرارة تعطي الجسيمات المتصادمة طاقة حركية كافية للتغلب على القوى الكهروستاتيكية، ثم ترسبها في المخلوطة.

الشكل 2-2 تَكون جسيمات الوسط طبقات مشحونة حول الجسيمات المنتشرة، حيث تتنافر هذه الطبقات بعضها مع بعض، وتمنع الجسيمات المنتشرة من الترسب.



* الهباء: مخلوط غروي يتكون من جسيمات دقيقة صلبة أو سائلة منتشرة في الهواء أو غاز آخر

الحركة البراونية تتحرك الجسيمات المنتشرة في المخاليط الغروية السائلة حركة عشوائية عنيفة تسمى **الحركة البراونية**. لاحظ عالم النبات الأسكتلندي روبرت براون (1773 - 1858) هذه الحركة أول مرة؛ حيث لاحظ الحركة العشوائية لحبوب اللقاح المنتثرة في الماء، فسُميت باسمه.

تنتج الحركة البراونية عن تصادم جسيمات الوسط مع الجسيمات المنتشرة؛ بحيث تمنع هذه التصادمات الجسيمات المنتشرة من الترسب في المخلول.

✓ **ماذا قرأت؟ اشرح** سببين لعدم ترسب جسيمات المخلول الغروي.

تأثير تندال يظهر المخلول الغروي المركز عادةً معتمًا أو معكرًا، ولكن المخلول الغروي المخفف يظهر أحيانًا صافياً كالمحاليل. وتبدو المخاليط الغروية المخففة كالمحاليل المتجانسة؛ لأن عدد الجسيمات المنتشرة فيها قليل جداً، إلا أنها تعمل على تشتيت الضوء، وتسمى هذه الظاهرة **تأثير تندال**. يُظهر الشكل 2-3 مرور حزمة من الضوء في خلال مخلوطين مجهولين. ويمكنك ملاحظة كيف تعمل الجسيمات المنتشرة في المخلول الغروي على تشتيت الضوء.

وتُظهر المخاليط المعلقة أيضاً تأثير تندال، أما المحاليل فلا يمكن أن تظهر هذه الظاهرة. كما يمكنك ملاحظة تأثير تندال عندما تشاهد مرور أشعة الشمس خلال الهواء المشبع بالدخان، أو مرور ضوء خلال الضباب. ويستخدم تأثير تندال في تحديد كمية الجسيمات المنتشرة في المخلول المعلق.

المخاليط المتجانسة Homogeneous Mixtures

لقد تعلمت سابقاً أن المحاليل مخاليط متجانسة تحتوي على مادتين أو أكثر، تسمى المذاب والمذيب. والمذاب هو المادة التي تذوب. أما المذيب فهو الوسط الذي يذيب المذاب. ولا يمكنك التمييز بين المذاب والمذيب عند النظر إلى المحلول.

أنواع المحاليل لقد تعلمت أن معظم التفاعلات الكيميائية تحدث في المحاليل المائية، وهي المحاليل التي يكون فيها الماء مذيباً. فالماء أكثر المذيبات شيوعاً في المحاليل السائلة. وقد توجد المحاليل في أشكال مختلفة، وقد تكون المواد الذائبة في المحاليل غازية أو سائلة أو صلبة، اعتماداً على الحالة الفيزيائية للمذيب، كما هو موضح في الجدول 2-2. الهواء محلول غازي والمذيب فيه هو غاز النيتروجين. وقد تكون أسلاك تقويم الأسنان التي تضعها على أسنانك مصنوعة من النيتينول، وهو محلول صلب يتكون من التيتانيوم المذاب في النيكل، إلا أن معظم المحاليل تكون في الحالة السائلة.

تكوين المحاليل تسمى المادة التي تذوب في المذيب **المادة الذائبة**. فمثلاً ذوبان السكر في الماء حقيقة يمكن أن تكون قد تعلمتها من إذابة السكر في الماء لعمل



(1) (2)

الشكل 2-3

تشتت الجسيمات في المخلول الغروي الضوء كما يظهر في الشكل (2)، ولا يحدث ذلك في المحلول (شكل 1). ويسمى ذلك تأثير تندال. لذا ترى حزمة الضوء في المخلول (2) الغروي.

حدد أي المخاليط الظاهرة في الصورة غروي؟

الكيمياء في واقع الحياة

ظاهرة تندال



تشكل أشعة الشمس عند مرورها داخل الغيوم لوحة فنية رائعة الجمال بقدرة الله عز وجل. ويمكنك ملاحظة ظاهرة تندال عند مرور أشعة الشمس من خلال الهواء المشبع بالدخان أو من خلال الضباب أو الغيوم.

مختبر تحليل البيانات

تصميم تجربة

التفكير الناقد

1. حدّد المتغيرات التي يمكن أن تستخدم للربط بين قدرة الضوء على المرور خلال السائل وعدد الجسيمات في المخلوط الغروي.
2. اربط بين المتغيرات التي استخدمتها في التجربة والعدد الحقيقي للجسيمات في المخلوط الغروي.
3. حلل ما احتياطات السلامة التي يجب اتخاذها؟
4. حدّد المواد اللازمة لقياس تأثير تبدال، واختر تقنية لجمع أو تفسير البيانات.

كيف يمكنك قياس التعكر؟ وضعت هيئة المواصفات والمقاييس ماء الشرب مجموعة من المعايير والمواصفات لضمان سلامته. ومن المواصفات التي يتم مراقبتها التعكر، وهو مقياس لدرجة الضبابية في الماء، الناتجة عن المواد الصلبة المعلقة في الماء، والتي تكون مرتبطة غالبًا مع التلوث ومع الفيروسات والطفيليات والبكتيريا. تأتي معظم هذه الجسيمات الغروية من التعرية، والنشاط الصناعي، وفضلات الإنسان، ونمو الطحالب، ومن الأسمدة، وتحلل المواد العضوية.

البيانات والملاحظات

يمكن استخدام تأثير تبدال في قياس تعكر الماء. والهدف تصميم تجربة وتطوير مقياس لتفسير البيانات.

شراب محلى كالشاي أو عصير الليمون. وتسمى المادتان السائلتان اللتان تذوب إحداهما في الأخرى بأي نسبة المواد القابلة للامتزاج، ومنها مانع التجمد المذكور في الجدول 2-2. وتسمى المادة التي لا تذوب في المذيب مادة غير ذائبة. فالرمل مثلاً لا يذوب في الماء. وتسمى السوائل التي تمتزج معاً فترة قصيرة عند خلطها، ثم تنفصل بعدها - السوائل غير الممتزجة. فالزيت مثلاً لا يمتزج مع الخل؛ أي أن الزيت لا يذوب في الخل.

أنواع المحاليل وأمثلة عليها

الجدول 2-2

المذاب	المذيب	مثال	أنواع المحاليل
الأكسجين (غاز)	النيتروجين (غاز)	الهواء	غاز
ثاني أكسيد الكربون (غاز)	الماء (سائل)	ماء غازي	سائل
الماء (سائل)	الهواء الجوي (غاز)	الرطوبة	غاز
الإيثيلين جلايكول (سائل)	الماء (سائل)	مانع التجمد	سائل
كلوريد الصوديوم (صلب)	الماء (سائل)	ماء البحر	سائل
الزئبق (سائل)	الفضة (صلب)	ملمغم الأسنان	صلب
الكربون (صلب)	الحديد (صلب)	الفولاذ	صلب

التقويم 2-1

الخلاصة

1. **الفكرة الرئيسية** صف خصائص المخاليط مستخدماً ماء البحر كمثال.
 2. ميّز بين المخلوط الغروي والمخلوط المعلق.
 3. حدّد الأنواع المختلفة للمحاليل.
 4. فسر مستخدماً تأثير تندال، لماذا تكون قيادة السيارات خلال أجواء الضباب باستخدام الأنوار العالية أصعب من القيادة باستخدام الأنوار المنخفضة؟
 5. اذكر الأنواع المختلفة للمخاليط الغروية.
 6. فسر لماذا تبقى جسيمات المذاب في المخلوط الغروي منتشرة فيه؟
 7. لخص ما الذي يسبب الحركة البراونية؟
 8. قارن كوّن جدولاً تقارن فيه بين خصائص المخلوط المعلق والمخلوط الغروي والمحلول.
1. يمكن تمييز مكونات المخلوط غير المتجانس.
 2. هناك نوعان من المخاليط غير المتجانسة، هما المعلق والغروي.
 3. الحركة البراونية حركة عشوائية لجسيمات المخلوط الغروي.
 4. تُظهر المخاليط الغروية والمعلقة تأثير تندال.
 5. قد يوجد المحلول في إحدى الحالات الفيزيائية الثلاث: السائلة أو الغازية أو الصلبة، اعتماداً على الحالة الفيزيائية للمذيب.
 6. يمكن أن يكون المذاب في المحلول غازاً أو سائلاً أو صلباً.





2-2

الأهداف

- تصف التركيز باستعمال وحدات مختلفة.
- تحديد تراكيز المحاليل.
- تحسب مولارية المحلول.

مراجعة المفردات

المذيب: المادة التي تذيب المذاب لتكوين محلول.

المفردات الجديدة

التركيز

المولارية

المولالية

الكسر المولي

تركيز المحلول

Solution Concentration

الفكرة الرئيسية يمكن التعبير عن التركيز بدلالة النسبة المئوية أو بالمولات.

الربط مع الحياة هل تذوقت يوماً كأس شاي فوجدته مُراً؟ إنك لكي تعدل طعمه سوف تقوم بإضافة السكر لتحليته، أو تضيف الماء لتخفيفه. وما تقوم به في كلتا الحالتين هو تغيير تركيز الجسيمات المذابة في الماء.

التعبير عن التركيز Expressing Concentration

يعد تركيز المحلول مقياساً يعبر عن كمية المذاب الذائبة في كمية محددة من المذيب أو المحلول. ويمكن التعبير عن التركيز وصفيًا باستعمال كلمة "مركز" أو "مخفف". لاحظ إبريق الشاي في الشكل 2-4؛ فأحد الإبريقين يحوي شايًا أكثر تركيزًا من الآخر. وعمومًا يحتوي المحلول المركز على كمية كبيرة من المذاب. فالشاي الغامق يحتوي على جسيمات شاي أكثر من الشاي الفاتح، والعكس صحيح؛ إذ يحتوي المحلول المخفف على كمية أقل من المذاب؛ فالشاي الفاتح في الشكل 2-4 محلول مخفف يحتوي على جسيمات شاي أقل من الشاي الغامق.

وعلى الرغم من أن التعبير الوصفي عن التركيز مفيد، إلا أنه غالبًا ما يتم التعبير عن التركيز كميًا. ومن أكثر التعابير الكمية عن التركيز شيوعًا النسبة المئوية بالكتلة أو النسبة المئوية بالحجم أو التعبير عن التركيز بدلالة المولات مستخدمًا المولارية أو المولالية. وكل هذه الطرائق تعبر عن التركيز بوصفه نسبة بين كمية المذاب وبين كمية المذيب أو المحلول كله. ويشمل الجدول 2-3 وصفًا لكل طريقة.

كيف يمكن تحديد الطريقة المستخدمة للتعبير عن تركيز المحلول؟ يعتمد استعمال الطريقة على نوع المحلول الذي يتم تحليله، فإذا كان أحد الكيمائيين مثلاً يعمل على تفاعل في محلول مائي فسوف يستعمل المولارية غالبًا للتعبير عن تركيز المحلول؛ لأنه يحتاج إلى معرفة عدد الجسيمات المشاركة في التفاعل.

الشكل 2-4 2-4 يعكس شدة اللون تركيز الشاي، فتركيز الشاي ذو اللون الغامق أعلى من تركيز الشاي ذي اللون الفاتح.



الجدول 2-3	
نسب التركيز	وصف التركيز
$100 \times \frac{\text{كتلة المذاب}}{\text{كتلة المحلول}}$	النسبة المئوية بدلالة الكتلة
$100 \times \frac{\text{حجم المذاب}}{\text{حجم المحلول}}$	النسبة المئوية بدلالة الحجم
$M = \frac{\text{عدد مولات المذاب}}{\text{حجم المحلول (L)}}$	المولارية (التركيز المولاري)
$\frac{\text{عدد مولات المذاب}}{\text{كتلة المذيب kg}}$	المولالية (التركيز المولالي)
$\frac{\text{عدد مولات المذاب أو المذيب}}{\text{عدد مولات المذاب + عدد مولات المذيب}}$	الكسر المولي

النسبة المئوية بدلالة الكتلة هي نسبة كتلة المذاب إلى كتلة المحلول، ويعبر عنها بنسبة مئوية. وكتلة المحلول هي مجموع كتل المذاب والمذيب.

أدخل معلومات من هذا القسم في مطويتك.

$$\text{النسبة المئوية بدلالة الكتلة} = \frac{\text{كتلة المذاب}}{\text{كتلة المحلول}} \times 100$$

مثال 2-1

حساب النسبة المئوية بالكتلة للمحافظة على تركيز كلوريد الصوديوم NaCl في حوض الأسماك، كما هو في ماء البحر، يجب أن يحتوي حوض الأسماك على 3.6 g NaCl لكل 100 g ماء. ما النسبة المئوية بدلالة الكتلة لكلوريد الصوديوم NaCl في المحلول؟

1 تحليل المسألة

إن كتلة كلوريد الصوديوم في 100 g ماء معروفة. والنسبة المئوية بدلالة الكتلة هي نسبة كتلة المذاب إلى كتلة المحلول (التي هي مجموع كتل المذاب والمذيب معًا).

المعطيات

كتلة المذاب = NaCl = 3.6 g

كتلة المذيب = H₂O = 100 g

المطلوب

النسبة المئوية = ؟

2 حساب المطلوب

أوجد كتلة المحلول

كتلة المحلول = كتلة المذيب + كتلة المذاب

عوض عن كتلة المذاب = 3.6 g، وكتلة المذيب = 100.0 g

احسب النسبة المئوية بدلالة الكتلة

اكتب معادلة النسبة المئوية بالكتلة

عوض عن كتلة المذاب = 3.6 g، وكتلة المحلول = 103.6 g

$$3.6 \text{ g} + 100.0 \text{ g} = 103.6 \text{ g}$$

$$\text{النسبة المئوية بدلالة الكتلة} = \frac{\text{كتلة المذاب}}{\text{كتلة المحلول}} \times 100$$

$$= \frac{3.6 \text{ g}}{103.6 \text{ g}} \times 100 = 3.5\%$$

3 تقويم الإجابة

تكون النسبة المئوية بدلالة الكتلة صغيرة؛ لأن كتلة كلوريد الصوديوم الذائبة في 100 g ماء صغيرة.

مسائل تدريبية

9. ما النسبة المئوية بدلالة الكتلة لمحلول يحتوي على 20.0 g من كربونات الصوديوم الهيدروجينية NaHCO₃ مذابة في 600.0 mL من الماء H₂O؟

10. إذا كانت النسبة المئوية بدلالة الكتلة لهيبوكلوريت الصوديوم NaOCl في محلول مبيض الملابس هي 3.62%، وكان لديك 1500.0 g من المحلول فما كتلة NaOCl في المحلول؟

11. ما كتلة المذيب في المحلول المذكور في السؤال 10؟

12. تحفيز النسبة المئوية لكتلة كلوريد الكالسيوم في محلول هي 2.62%، فإذا كانت كتلة كلوريد الكالسيوم المذابة في المحلول 50.0 g فما كتلة المحلول؟

الكيمياء في واقع الحياة

الديزل الحيوي



يعد الديزل الحيوي وقودًا بديلاً نظيف الاحتراق، وهو ينتج عن موارد متجددة مثل الزيوت النباتية، والدهون الحيوانية، ويستعمل في محركات الديزل مع القليل من التحسينات أو دونها. والديزل الحيوي سهل الاستعمال وقابل للتحلل الحيوي، وغير سام، ولا يحتوي على الكبريت أو المركبات الأروماتية (العطرية)، كما أنه لا يحتوي على النفط، ولكن يمكن مزجه مع ديزل "النفط" لتكوين الديزل الحيوي الممزوج؛ الذي يتكون من 20% بالحجم ديزل حيوي و80% بالحجم ديزل من النفط.

النسبة المئوية بدلالة الحجم تصف عادة المحاليل التي يكون فيها المذيب والمذاب في الحالة السائلة. والنسبة المئوية بدلالة الحجم هي النسبة بين حجم المذاب إلى حجم المحلول، ويعبر عنها بنسبة مئوية. وحجم المحلول هو مجموع حجم المذاب وحجم المذيب. إن حسابات النسبة المئوية بدلالة الحجم تشبه حسابات النسبة المئوية بدلالة الكتلة.

$$\text{النسبة المئوية بدلالة الحجم} = \frac{\text{حجم المذاب}}{\text{حجم المحلول}} \times 100$$

✓ **ماذا قرأت؟** قارن بين النسبة المئوية بدلالة الكتلة والحجم.

مسائل تدريبية

13. ما النسبة المئوية بدلالة الحجم للإيثانول في محلول يحتوي على 35 mL إيثانول مذاب في 155 mL ماء؟
14. ما النسبة المئوية بدلالة الحجم لكحول أيزوبروبيل في محلول يحتوي على 24 mL من كحول الأيزوبروبيل مذاب في 1.1 L من الماء؟
15. تحفيز إذا استعمل 18 mL من الميثانول لعمل محلول مائي منه تركيزه 15% بالحجم، فما حجم المحلول الناتج بالملتر؟

المولارية (التركيز المولاري) (M) إن النسبة المئوية بدلالة الكتلة وبدلالة الحجم طريقتان من طرائق التعبير الكمي عن تركيز المحلول. ومن أكثر الوحدات شيوعًا المولارية Molarity. والمولارية (M) هي عدد مولات المذاب الذائبة في لتر من المحلول، وتعرف أيضًا بالتركيز المولاري. فتركيز لتر من محلول يحتوي على مول من المذاب هو 1.0 M، كما أن تركيز لتر من المحلول يحتوي على 0.1 mol من المذاب هو 0.1 M. ولحساب مولارية المحلول يجب معرفة حجم المحلول بالتر وعدد مولات المذاب.

المولارية

$$\text{المولارية } M = \frac{\text{عدد مولات المذاب (mol)}}{\text{حجم المحلول (L)}}$$

✓ **ماذا قرأت؟** احسب التركيز المولاري لمحلول حجمه 1.0 L، يحتوي على 0.5 mol من المذاب.



فنيو الصيدلة يستعين الكثير من الصيادلة بالفنيين لتحضير الأدوية المناسبة للوصفات الطبية. يقرأ هؤلاء الفنيون تحاليل وتقارير المريض والوصفات الطبية من أجل تحضير التركيز المناسب أو الجرعة المناسبة من الأدوية التي ستعطى للمريض.

حساب المولارية يحتوي 100.5 mL من محلول حقن الوريد على 5.10 g من سكر الجلوكوز $C_6H_{12}O_6$. ما مولارية هذا المحلول، إذا علمت أن الكتلة المولية للجلوكوز هي 180.16g/mol؟

1 تحليل المسألة

لقد أعطيت كتلة الجلوكوز الذائبة في حجم من الماء، ومولارية المحلول هي النسبة بين عدد مولات المذاب إلى حجم المحلول بالتر.

المطلوب

تركيز المحلول = M ؟

كتلة المذاب = 5.10 g $C_6H_{12}O_6$

الكتلة المولية للجلوكوز $C_6H_{12}O_6$ = 180.16 g/mol

حجم المحلول = 100.5 mL

المعطيات

2 حساب المطلوب

احسب عدد مولات $C_6H_{12}O_6$

بتطبيق العلاقة الرياضية

عدد مولات المذاب = الكتلة (g) / الكتلة المولية

$$= 5.10 \text{ g } C_6H_{12}O_6 \left(\frac{1 \text{ mol } C_6H_{12}O_6}{180.16 \text{ g } C_6H_{12}O_6} \right)$$

$$= 0.0283 \text{ mol } C_6H_{12}O_6$$

وحول حجم المحلول إلى وحدة لتر

$$= 100.5 \text{ mL} \left(\frac{1 \text{ L}}{1000 \text{ mL}} \right) = 0.1005 \text{ L}$$

اكتب معادلة المولارية

$$\frac{\text{عدد مولات المذاب}}{\text{حجم المحلول (L)}} = M$$

عوض عن عدد مولات المذاب = 0.0283 mol

وحجم المحلول = 0.1005 L

$$M = \frac{0.0283 \text{ mol } C_6H_{12}O_6}{0.1005 \text{ L}} = 0.282 \text{ M}$$

اقسم الأرقام والوحدات

3 تقويم الإجابة

ستكون قيمة المولارية صغيرة؛ لأن كتلة الجلوكوز الذائبة في المحلول صغيرة.

مسائل تدريبية

16. ما مولارية محلول مائي يحتوي على 40.0 g من الجلوكوز $C_6H_{12}O_6$ في 1.5 L من المحلول؟

17. احسب مولارية محلول حجمه 1.60 L مذاب فيه 1.5g من بروميد البوتاسيوم KBr.

18. ما مولارية محلول مبيض ملابس يحتوي على 9.5 g NaOCl لكل لتر من المحلول؟

19. تحضيز ما كتلة هيدروكسيد الكالسيوم $Ca(OH)_2$ بوحدة g التي تلزم لتحضير محلول مائي منها حجمه 1.5 L وتركيزه 0.25 M؟



خطوة 1 تقاس كتلة المذاب وتضاف إلى دورق حجمي مناسب.



خطوة 2 يذاب المذاب في دورق حجمي مناسب في أقل كمية من الماء المقطر.



خطوة 3 يضاف الماء المقطر إلى المذاب حتى يصل مستوى المحلول إلى العلامة المحددة على الدورق.

الشكل 5-2 يبين خطوات تحضير محلول كبريتات النحاس.

فسر لماذا لا يمكنك وضع 375 g من كبريتات النحاس مباشرة في 1.0 L من الماء لتحضير محلول تركيزه 1.5 M؟

تحضير المحاليل القياسية تستعمل في المختبر محاليل لها تراكيز محددة تسمى المحاليل القياسية، ومنها محلول حمض الهيدروكلوريك HCl الذي تركيزه 1M

كيف يمكنك تحضير محلول مائي حجمه 1L وتركيزه 1.50M من كبريتات النحاس II المائية والتي لها الصيغة $\text{CuSO}_4 \cdot 5\text{H}_2\text{O}$ ؟ يحتوي محلول $\text{CuSO}_4 \cdot 5\text{H}_2\text{O}$ الذي تركيزه 1.5mol على $\text{CuSO}_4 \cdot 5\text{H}_2\text{O}$ مذابة في 1 L من المحلول. فإذا عرفت أن الكتلة المولية للمركب $\text{CuSO}_4 \cdot 5\text{H}_2\text{O}$ هي 249.70 g/mol، وأن المحلول يحتوي على 1.50 mol من $\text{CuSO}_4 \cdot 5\text{H}_2\text{O}$ ، فتكون كتلته 374.55 g ويمكن تقريبها إلى 375 g، وهي كتلة يمكن قياسها بالميزان

$$\frac{1.50 \text{ mol } \text{CuSO}_4 \cdot 5\text{H}_2\text{O}}{\text{L من المحلول}} \times \frac{249.7 \text{ g } \text{CuSO}_4 \cdot 5\text{H}_2\text{O}}{1 \text{ mol } \text{CuSO}_4 \cdot 5\text{H}_2\text{O}} = \frac{375 \text{ g } \text{CuSO}_4 \cdot 5\text{H}_2\text{O}}{\text{1L من المحلول}}$$

ولكن لا يمكنك إضافة 375 g $\text{CuSO}_4 \cdot 5\text{H}_2\text{O}$ إلى 1.0 L من الماء للحصول على محلول تركيزه 1.5 M بهذه البساطة؛ تعمل $\text{CuSO}_4 \cdot 5\text{H}_2\text{O}$ مثل المواد الأخرى، على زيادة حجم المحلول عن الحجم المطلوب. لذلك يجب استعمال كمية من الماء تقل عن 1.0 L للحصول على 1.0 L من المحلول، كما هو موضح في الشكل 5-2.

أحياناً نجري تجارب تتطلب استعمال كميات صغيرة من المحلول. فعلى سبيل المثال، قد تحتاج إلى 100 mL من 1.50 M $\text{CuSO}_4 \cdot 5\text{H}_2\text{O}$ لإجراء إحدى التجارب. بالرجوع إلى تعريف المولارية، ومن خلال الحسابات السابقة نجد أن محلول $\text{CuSO}_4 \cdot 5\text{H}_2\text{O}$ الذي تركيزه 1.50 M يحتوي محلول $\text{CuSO}_4 \cdot 5\text{H}_2\text{O}$ الذي تركيزه 1.5 M على 1.5mol من $\text{CuSO}_4 \cdot 5\text{H}_2\text{O}$ مذابة في 1L من المحلول على 375 g من كبريتات النحاس المائية $\text{CuSO}_4 \cdot 5\text{H}_2\text{O}$.

يمكن استعمال هذه العلاقة بوصفها معامل تحويل لحساب كمية المذاب اللازمة لتجربتك.

$$100 \text{ mL} \times \frac{1 \text{ L}}{1000 \text{ mL}} \times \frac{375 \text{ g } \text{CuSO}_4 \cdot 5\text{H}_2\text{O}}{1 \text{ L}} = 37.5 \text{ g } \text{CuSO}_4 \cdot 5\text{H}_2\text{O}$$

لذلك تحتاج إلى قياس 37.5 g $\text{CuSO}_4 \cdot 5\text{H}_2\text{O}$ لعمل 100 mL من محلول تركيزه 1.5 M.

مسائل تدريبية

20. ما كتلة CaCl_2 الذائبة في 1 L من محلول تركيزه 0.10 M؟
21. ما كتلة CaCl_2 اللازمة لتحضير 500.0 mL من محلول تركيزه 0.20 M؟
22. ما كتلة NaOH في محلول مائي حجمه 250 mL وتركيزه 3.0 M؟
23. تحفيز ما حجم الإيثانول في 100.0 mL من محلول تركيزه 0.15 M، إذا علمت أن كثافة الإيثانول هي 0.7893 g/mL؟



الشكل 2-6 يمكن تخفيف المحلول المركز بإضافة كمية من المذيب. لاحظ أن عدد مولات المذاب لا يتغير عند تخفيف المحلول المركز.

تخفيف المحاليل المولارية تذكر أن المحاليل المركزة تحتوي على كمية كبيرة من المذاب. ويمكنك تحضير محلول أقل تركيزاً عن طريق تخفيف كمية من المحلول القياسي بإضافة المزيد من المذيب، إذ يزيد عدد الجسيمات التي تتحرك خلالها جسيمات المذاب، كما هو موضح في الشكل 2-6، ومن ثم يقل تركيز المحلول.

كيف يمكنك تحديد حجم المحلول القياسي اللازم تخفيفه؟

$$M = \frac{\text{عدد مولات المذاب}}{\text{حجم المحلول (L)}} = \frac{\text{mol}}{\text{L}}$$

عدد مولات المذاب = المولارية × حجم المحلول باللتر.

ولأن عدد مولات المذاب لا يتغير بالتخفيف فإن عدد مولات المذاب في المحلول قبل التخفيف يساوي عدد مولات المذاب بعد التخفيف.

وبالتعويض عن عدد مولات المذاب بالمولارية مضروبة في حجم المحلول بالتر يمكن التعبير عن هذه العلاقة في معادلة التخفيف الآتية:

معادلة التخفيف

$$M_1V_1 = M_2V_2$$

M = المولارية

V = الحجم

حيث أن M_1 : المولارية قبل التخفيف، و V_1 : الحجم قبل التخفيف، و M_2 : المولارية بعد التخفيف، و V_2 : الحجم بعد التخفيف.

تمثل M_1 و V_1 المولارية وحجم المحلول القياسي. وتمثل M_2 و V_2 مولارية وحجم المحلول المخفف. يحتوي المحلول المركز قبل التخفيف على نسبة عالية من جسيمات المذاب بالنسبة إلى جسيمات المذيب، لاحظ أن هذه النسبة تقل بعد إضافة كمية أخرى من المذيب.

المفردات

مفردات أكاديمية

مركز **Concentrated**

يخفف قليلاً

كأن نقول مثلاً:

أضفنا ماء أكثر إلى عصير

الليمون؛ لأنه مركز جداً.

تخفيف المحلول القياسي إذا كنت تعرف حجم وتركيز المحلول المطلوب تحضيره يمكنك حساب حجم المحلول القياسي الذي تحتاج إليه. ما الحجم اللازم بالملترات لتحضير محلول من كلوريد الكالسيوم CaCl_2 تركيزه 0.300 M وحجمه 0.5 L إذا كان تركيز محلوله القياسي 2.00 M ؟

1 تحليل المسألة

لقد أعطيت مولارية محلول قياسي من كلوريد الكالسيوم CaCl_2 والمولارية والحجم للمحلول بعد التخفيف، وباستعمال العلاقة بين المولارية والحجم يمكن إيجاد حجم المحلول القياسي اللازم بالملتر ثم تحويله إلى ملتر.

المطلوب
 $V_1 = ? \text{ mL}$

المعطيات
 $M_1 = 2.00 \text{ M CaCl}_2$
 $M_2 = 0.300 \text{ M}$
 $V_2 = 0.50 \text{ L}$

2 حساب المطلوب

حل المعادلة لإيجاد حجم المحلول القياسي V_1

اكتب معادلة التخفيف

$$M_1 V_1 = M_2 V_2$$

$$V_1 = V_2 \left(\frac{M_2}{M_1} \right)$$

$$V_1 = (0.50 \text{ L}) \left(\frac{0.300 \text{ M}}{2.00 \text{ M}} \right)$$

$$V_1 = (0.50 \text{ L}) \left(\frac{0.300 \text{ M}}{2.00 \text{ M}} \right) = 0.075 \text{ L}$$

$$V_1 = (0.075 \text{ L}) \left(\frac{1000 \text{ mL}}{1 \text{ L}} \right) = 75 \text{ mL}$$

حل لإيجاد V_1

$$V_2 = 0.50 \text{ L}, M_2 = 0.300 \text{ M}, M_1 = 2.00 \text{ M} \text{ عوض}$$

اضرب واقسم الأرقام والوحدات

حول إلى ملتر باستعمال معامل التحويل $1000 \text{ mL}/1 \text{ L}$

قس 75 mL من المحلول القياسي، ثم خففه بكمية الماء اللازمة للحصول على الحجم النهائي 0.5 L .

3 تقويم الإجابة

تم حساب الحجم V_1 ، وتحويله إلى ملترات، ويجب أن يكون أقل من الحجم النهائي للمحلول المخفف V_2 ، وهو من معطيات المسألة.

مسائل تدريبية

24. ما حجم المحلول القياسي KI الذي تركيزه 3.00 M اللازم لتحضير محلول مخفف منه تركيزه 1.25 M وحجمه 0.300 L ؟

25. ما حجم المحلول القياسي H_2SO_4 الذي تركيزه 0.50 M بالملترات اللازم لتحضير محلول مخفف منه حجمه 100 mL وتركيزه 0.25 M ؟

26. تخفّض إذا خفف 0.5 L من المحلول القياسي HCl الذي تركيزه 5 M ليصبح 2 L فما كتلة HCl في المحلول؟

المولالية (التركيز المولالي) (m) يتغير حجم المحلول عند تغير درجة الحرارة؛ فقد يتمدد أو يتقلص، مما يؤثر في مولارية المحلول. لكن لا تتأثر كتل المواد في المحلول بدرجات الحرارة، لذا من المفيد أحياناً وصف المحاليل بعدد مولات المذاب في كتلة معينة من المذيب. ويسمى مثل هذا الوصف **المولالية**، ويرمز إليه بالرمز m . ويكون تركيز المحلول الذي يحتوي على 1 mol من المذاب في 1 kg من المذيب m (1 محلول مولالي).

المولالية

$$\text{المولالية } m = \frac{\text{عدد مولات المذاب}}{\text{كتلة المذيب (kg)}}$$

مثال 2-4

حساب المولالية أضاف طالب في إحدى التجارب 4.5 g من كلوريد الصوديوم إلى 100.0 g من الماء. احسب مولالية المحلول.

1 تحليل المسألة

لقد أعطيت كتلة المذيب والمذاب. حدد عدد مولات المذاب، ثم احسب المولالية.

المعطيات

$$\text{كتلة الماء } H_2O = 100.0 \text{ g}$$

$$\text{كتلة كلوريد الصوديوم } NaCl = 4.5 \text{ g}$$

المطلوب

$$m = ? \text{ mol/kg}$$

2 حساب المطلوب

احسب عدد مولات NaCl

$$4.5 \text{ g NaCl} \times \frac{1 \text{ mol NaCl}}{58.44 \text{ g NaCl}} = 0.077 \text{ mol NaCl}$$

حول كتلة H_2O من جرامات إلى كيلوجرامات باستعمال معامل

$$100.0 \text{ g } H_2O \times \frac{1 \text{ kg } H_2O}{1000 \text{ g } H_2O} = 0.1000 \text{ kg } H_2O$$

التحويل 1kg / 1000 g

عوض بالمعطيات في معادلة المولالية.

اكتب معادلة المولالية

$$\frac{\text{عدد مولات المذاب (mol)}}{\text{كتلة المذيب (kg)}} = \text{المولالية } (m)$$

عوض عن عدد مولات المذاب 0.077 mol NaCl وكتلة المذيب

$$m = \frac{0.077 \text{ mol NaCl}}{0.1000 \text{ kg } H_2O} = 0.77 \text{ mol/kg}$$

0.1000 kg H_2O

3 تقويم الإجابة

هناك أقل من 1/10 mol من المذاب في 1/10 Kg من الماء، لذا ستكون المولالية أقل من واحد، وهي كذلك.

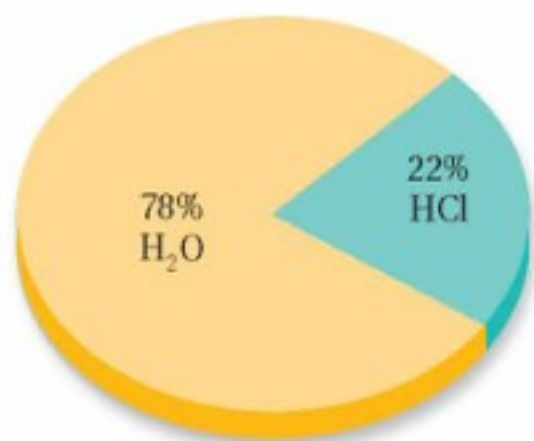
مسائل تدريبية

27. ما مولالية محلول يحتوي على 10.0 g من كبريتات الصوديوم Na_2SO_4 ذائبة في 1000.0 g ماء؟

28. تحفيز ما كتلة $Ba(OH)_2$ بالجرامات، اللازمة لتحضير محلول مائي تركيزه $m = 1.00$ ؟



محلول حمض الهيدروكلوريك



$$X_{\text{HCl}} + X_{\text{H}_2\text{O}} = 1.00$$

$$0.22 + 0.78 = 1.00$$

الشكل 7-2 يشير الكسر المولي إلى عدد مولات المذاب والمذيب بالنسبة إلى عدد المولات الكلي في المحلول. ويمكن النظر إلى الكسر المولي على أنه نسبة مئوية، فمثلاً إذا كان الكسر المولي للماء ($X_{\text{H}_2\text{O}}$) يساوي 0.78؛ فهذا يعني أن المحلول يحوي 78% من الماء.

الكسر المولي إذا عرفت عدد مولات المذاب والمذيب أمكنك التعبير عن تركيز المحلول بما يعرف **بالكسر المولي**، وهو نسبة عدد مولات المذاب أو المذيب في المحلول إلى عدد المولات الكلية للمذيب والمذاب. يستعمل الرمز X عادة للكسر المولي مع الإشارة إلى المذيب أو المذاب. ويمكن التعبير عن الكسر المولي للمذيب X_A والكسر المولي للمذاب X_B كما يأتي:

الكسر المولي

$$X_A = \frac{n_A}{n_A + n_B} \quad X_B = \frac{n_B}{n_A + n_B}$$

X_A و X_B يمثلان الكسر المولي لكل مادة.
 n_A و n_B يمثلان عدد مولات كل مادة.

فعلى سبيل المثال: يحتوي 100 g من محلول حمض الهيدروكلوريك على 36 g HCl و 64 g H₂O، ولتحويل هذه الكتل إلى مولات عليك استعمال الكتل المولية بوصفها عوامل تحويل.

$$n_{\text{HCl}} = 36 \text{ g HCl} \times \frac{1 \text{ mol HCl}}{36.5 \text{ g HCl}} = 0.99 \text{ mol HCl}$$

$$n_{\text{H}_2\text{O}} = 64 \text{ g H}_2\text{O} \times \frac{1 \text{ mol H}_2\text{O}}{18.0 \text{ g H}_2\text{O}} = 3.6 \text{ mol H}_2\text{O}$$

يُعبّر عن الكسر المولي لكل من الماء وحمض الهيدروكلوريك كما يأتي كما هو موضح في الشكل 7-2 كما يأتي:

$$X_{\text{HCl}} = \frac{n_{\text{HCl}}}{n_{\text{HCl}} + n_{\text{H}_2\text{O}}} = \frac{0.99 \text{ mol HCl}}{0.99 \text{ mol HCl} + 3.6 \text{ mol H}_2\text{O}} = 0.22$$

$$X_{\text{H}_2\text{O}} = \frac{n_{\text{H}_2\text{O}}}{n_{\text{HCl}} + n_{\text{H}_2\text{O}}} = \frac{3.6 \text{ mol H}_2\text{O}}{0.99 \text{ mol HCl} + 3.6 \text{ mol H}_2\text{O}} = 0.78$$

مسائل تدريبية

29. ما الكسر المولي لهيدروكسيد الصوديوم NaOH في محلول مائي منه يحتوي على 22.8% بالكتلة من NaOH؟

30. تحفيز إذا كان الكسر المولي لحمض الكبريتيك H₂SO₄ في محلول مائي يساوي 0.325 فما كتلة الماء بالجرامات الموجودة في 100 mL من المحلول؟

التقويم 2-2

الخلاصة

يقاس التركيز كمًّا ونوعًا.

المولارية هي عدد مولات المذاب في 1L من المحلول.

المولالية هي نسبة عدد مولات المذاب في 1kg من المذيب.

عدد المولات قبل التخفيف = عدد المولات بعد التخفيف

$$M_1V_1 = M_2V_2$$

31. الفكرة الرئيسية قارن بين خمس طرائق للتعبير عن تراكيز المحاليل كميًا.

32. وضح التشابه والاختلاف بين 1M من محلول NaOH و 1m من محلول NaOH.

33. احسب النسبة المئوية بالكتلة لكلوريد الصوديوم في علبة حساء الدجاج إذا احتوت على 450 mg كلوريد صوديوم في 240.0 g من الحساء.

34. أوجد كتلة كلوريد الأمونيوم NH_4Cl بالجرامات اللازمة لتحضير محلول مائي حجمه 2.5 L وتركيزه 0.5 M ؟

35. لخص الخطوات العملية لتحضير محلول مخفف بحجم معين من المحلول القياسي المركز.





2-3

الأهداف

- تصف تأثير قوى التجاذب بين الجزيئات في الذوبان.
- تعرف الذائبية.
- تستنتج العوامل المؤثرة في الذوبان.

مراجعة المفردات

طاردة للحرارة، التفاعل الكيميائي الذي يطلق طاقة أكثر مما يحتاج لكسر روابط المواد المتفاعلة.

المفردات الجديدة

الذوبان

حرارة الذوبان

المحلول غير المشبع

المحلول المشبع

المحلول فوق المشبع

قانون هنري

العوامل المؤثرة في الذوبان

Factors Affecting Solvation

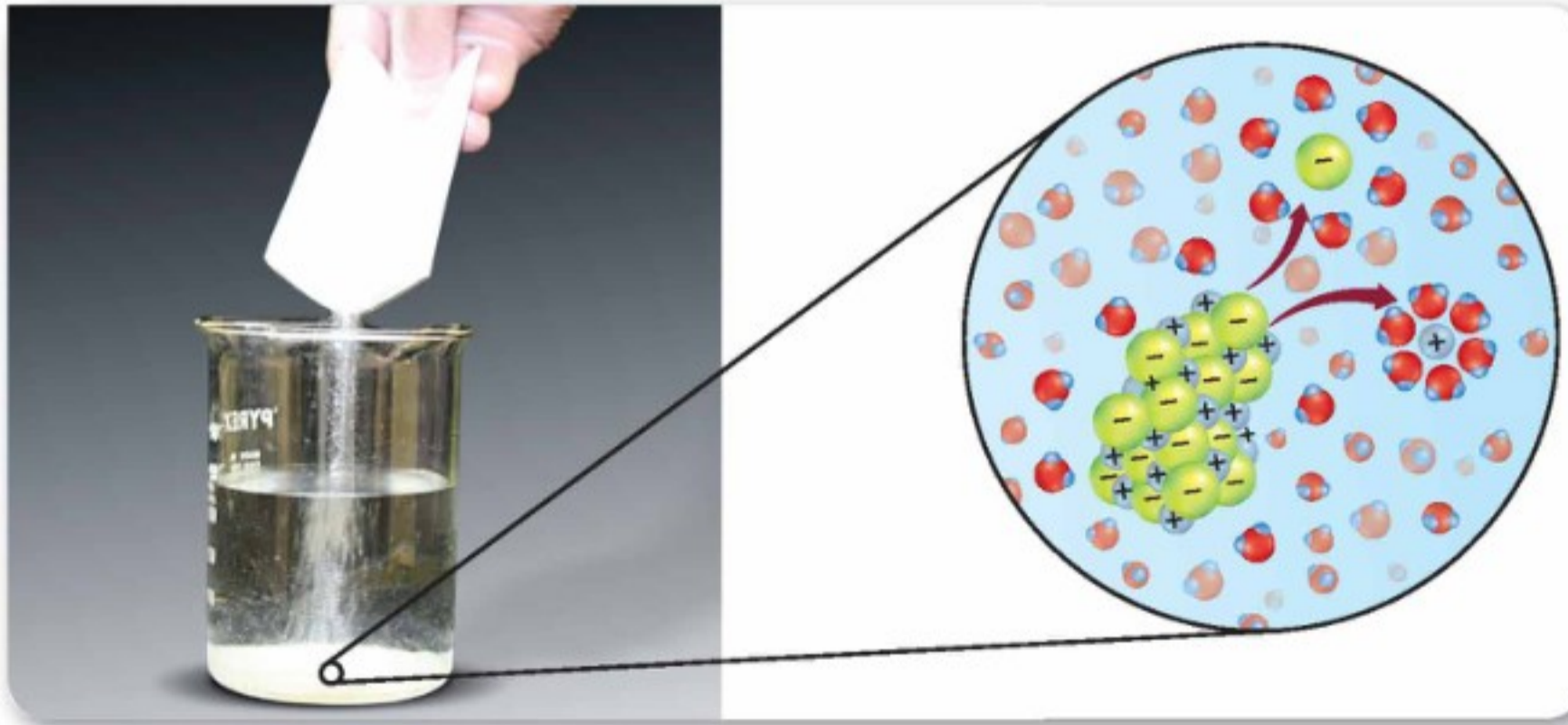
الفكرة الرئيسية يتأثر تكون المحلول بعوامل، منها الحرارة والضغط والقطبية.

الربط مع الحياة عند تحضير حساء من خليط جاف فإنك تضيف الماء البارد إلى الخليط، ثم تحركه، وسوف تلاحظ أن كمية قليلة من المسحوق ذابت في البداية، وبعد تسخينه وتحريكه مرة أخرى تجد أن المسحوق قد ذاب، وأصبح لديك حساء متماسك.

عملية الذوبان The Solvation Process

عند وضع مذاب صلب في مذيب، تحيط جسيمات المذيب بسطح المذاب الصلب تمامًا. فإذا كانت قوى التجاذب المتكونة بين جسيمات المذاب والمذيب أكبر من قوى التجاذب بين جسيمات المذاب نفسه فسوف تجذب جسيمات المذيب جسيمات المذاب، وتفصل بعضها عن بعض وتحيط بها، ثم تبتعد جسيمات المذاب المحاطة بجسيمات المذيب عن المذاب الصلب، وتتجه نحو المحلول.

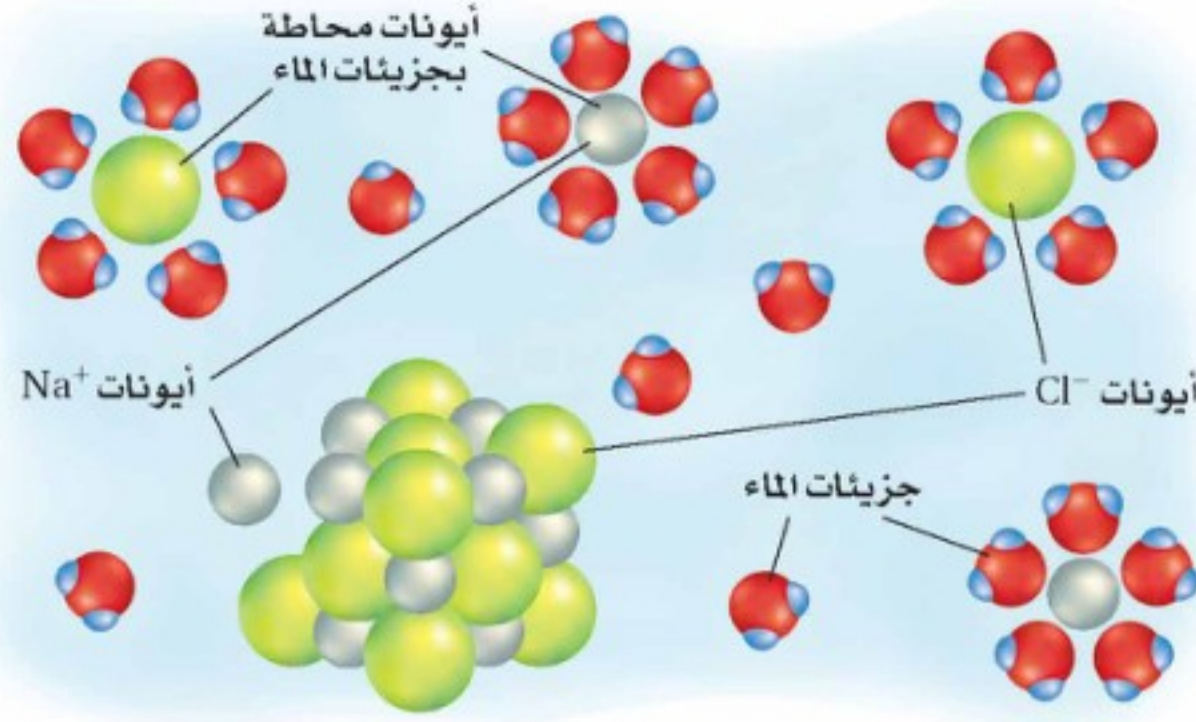
وتسمى عملية إحاطة جسيمات المذاب بجسيمات المذيب **الذوبان**، كما هو موضح في الشكل 2-8، فالمذيب يذيب شبيهه "like dissolves like"، قاعدة عامة تستعمل لتحديد ما إذا كانت عملية الذوبان تحدث في مذيب معين. ولتحديد ما إذا كان المذيب والمذاب متماثلين يجب دراسة قطبية المركبات ونوع الروابط بين الجزيئية فيها.



الشكل 2-8 يأخذ الملح في الانفصال عندما يوضع في الماء؛ إذ تسحب جسيمات المذاب وتحاط

بجسيمات المذيب.

ذوبان ملح الطعام NaCl في الماء



الشكل 2-9 يذوب كلوريد الصوديوم في الماء عندما تحيط جزيئات الماء بأيونات الصوديوم والكلوريد. لاحظ كيف تحيط جزيئات الماء القطبية بكل من أيونات الكلور السالبة وأيونات الصوديوم الموجبة.

محاليل المركبات الأيونية تعلم أن جزيئات الماء قطبية، وأنها في حركة مستمرة، بحسب نظرية الحركة الجزيئية. فعند وضع بلورة من مركب أيوني مثل كلوريد الصوديوم (NaCl) في الماء تصطدم جزيئات الماء بسطح البلورة. وعندها تجذب أقطاب جزيئات الماء المشحونة أيونات الصوديوم الموجبة وأيونات الكلوريد السالبة. وهذا التجاذب بين الأقطاب والأيونات أكبر من التجاذب بين الأيونات في البلورة. لذلك تنزلق الأيونات مبتعدة عن سطح البلورة. وتحيط جزيئات الماء بالأيونات وتسحبها نحو المحلول، معرضة أيونات أخرى على سطح البلورة للذوبان، وهكذا تستمر عملية الذوبان حتى تذوب البلورة كلها، انظر الشكل 2-9.

لا يمكن إذابة جميع المركبات الأيونية في الماء؛ فالجس مثلاً لا يذوب في الماء؛ لأن قوى التجاذب بين أيونات الجبس قوية؛ بحيث لا تستطيع قوى التجاذب بين جزيئات الماء والأيونات التغلب عليها. ولقد أسهمت اكتشافات محاليل ومخاليط معينة - ومنها الجبيرة الطبية المحضرة من الجبس - في تطوير الكثير من المنتجات والعمليات، كما هو موضح في الشكل 2-10.

الشكل 2-10 كيمياء المحاليل

أسهم العلماء العاملون في مجال المحاليل الكيميائية في تطوير منتجات وعمليات تتضمن مجالات التقنية الطبية، وتحضير الطعام وحفظه، والصحة العامة والسلامة.

1916م طوّر الأطباء محلول الجلوسول الذي يسمح بتخزين الدم عدة أسابيع بعد سحبه.



1883م أول نجاح لعملية طرد مركزي تستعمل الدوران السريع لفصل مكونات الخليط.

1910

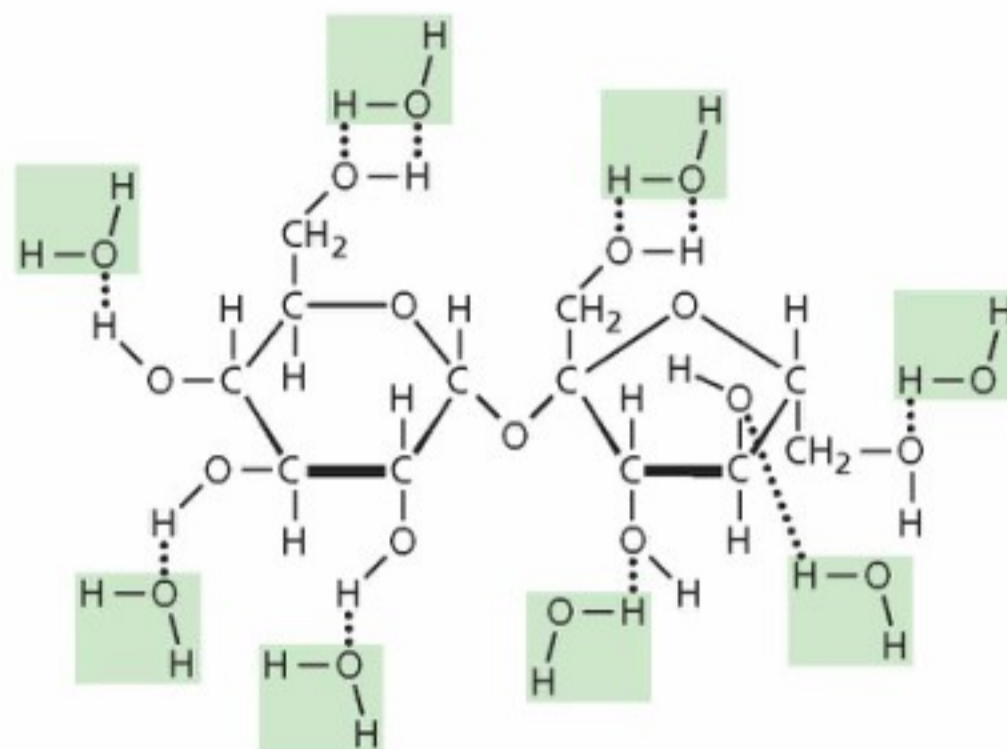
1890

1870

1899م سجلت براءة اختراع جديدة لأحدث تقنية تستخدم في التقليل من حجم حبيبات الدهن الذائبة في الحليب؛ لمنع تكوّن طبقة زبد، في عملية تسمى التجانس.

1866م كان اختراع السلولويد -وهو محلول من الكافور والسليلوز- إشارة إلى بدايات صناعة البلاستيك.





الشكل 11-2 يحتوي جزيء السكر على 8 روابط O - H قطبية، وتكوّن جزيئات الماء القطبية روابط هيدروجينية مع الروابط O - H في السكر، وتسحب جزيئات السكر نحو المحلول.

محاليل المركبات الجزيئية يعد الماء مذيّباً جيّداً للكثير من المركبات الجزيئية. فسكر المائدة عبارة عن المركب الجزيئي السكر، وتحتوي جزيئاته القطبية على عدة روابط من O - H، كما هو موضح في الشكل 11-2. وبمجرد ملامسة بلورات السكر الماء، تصطدم جزيئات الماء بالسطح الخارجي للبلورات، وتصبح كل رابطة O - H في السكر موقعاً لتكوين روابط هيدروجينية مع الماء، لذا يتم التغلب على قوى التجاذب بين جزيئات السكر بقوى التجاذب التي تتكون بين جزيئاته وجزيئات الماء القطبية، فتترك جزيئات السكر البلورة، وتصبح ذائبة في الماء.

يتكون الزيت من الكربون والهيدروجين، ولا يكون محلولاً مع الماء؛ وذلك لأن قوى التجاذب التي تتكون بين جزيئات الماء القطبية وجزيئات الزيت غير القطبية ضعيفة. لذا يذوب الزيت في مذيّب غير قطبي؛ لأن المذاب غير القطبي يذوب بسهولة أكبر في المذيّب غير القطبي.

2003م طوّر العلماء عينات كيميائية تزيل الفلزات السامة، والمبيدات الحشرية، وتقتل مسببات الأمراض في مياه الشرب.

1964م اكتشفت ستيفاني كوالك أليافاً اصطناعية من بلورات سائلة في محلول. وهي أكثر صلابة من الفولاذ وأخف من الألياف الزجاجية.



2010

1990

1970

1950

1980م تم تطوير نوع من ألواح الجبس لتشكّل عازلاً يفصل بين المنزل ومحيطه الخارجي.

1943م أول كلية اصطناعية تخلص الجسم من السموم الذائبة في دم المريض.

حرارة الذوبان تنفصل جسيمات المذاب بعضها عن بعض خلال عملية الذوبان، وتتباعد جسيمات المذيب لتسمح لجسيمات المذاب بالدخول بينها. ويلزم طاقة للتغلب على قوى التجاذب التي بين جسيمات المذاب والتي بين جسيمات المذيب، والتي تعرف طاقة الشبكة البلورية ويرمز لها بالرمز (طب) أو (U_{هـ})، لذلك فكلتا الخطوتين ماصّة للطاقة. وعند خلط جسيمات المذيب مع جسيمات المذاب تتجاذب جسيماتها وتنطلق طاقة تعرف طاقة التمييه ويرمز لها بالرمز (طه) أو (H_{Hyd})، لذا فإن هذه الخطوة في عملية الذوبان طاردة للطاقة. ويسمى التغير الكلي للطاقة الذي يحدث خلال عملية تكون المحلول **حرارة الذوبان**.

وكما لاحظت في التجربة الاستهلالية أن بعض المحاليل تُنتج طاقة في أثناء تكونها (طاردة للطاقة)، وبعضها الآخر يمتص طاقة في أثناء تكونه (ماصة للطاقة). فمثلاً بعد ذوبان نترات الأمونيوم في وعاء يحوي ماء يصبح الوعاء بارداً، أما بعد ذوبان كلوريد الكالسيوم في وعاء يحوي ماء فيصبح الوعاء ساخناً.

✓ **ماذا قرأت؟** فسّر لماذا تنتج بعض المحاليل طاقة في أثناء تكونها بينما يمتص بعضها الآخر طاقة في أثناء تكونه؟

العوامل المؤثرة في الذوبان Factors That Affect Solvation

يحدث الذوبان عند تصادم جسيمات المذاب والمذيب معاً. ويبين الشكل 12-2 ثلاث طرائق شائعة لزيادة التصادمات بين جسيمات المذاب والمذيب وزيادة سرعة الذوبان، وهي: التحريك، وزيادة مساحة سطح المذاب، ورفع درجة حرارة المذيب.

التحريك يعمل تحريك المحلول على إبعاد جسيمات المذاب عن سطوح التماس بسرعة أكبر، وبذلك يسمح بحدوث تصادمات أخرى بين جسيمات المذاب والمذيب. ومن دون تحريك المحلول تتحرك الجسيمات الذائبة بعيداً عن مناطق التماس ببطء.

مساحة السطح إن تكسير المذاب إلى قطع صغيرة يزيد من مساحة سطحه. وتساعد الزيادة في مساحة السطح على زيادة عدد التصادمات التي تحدث بين جسيماته وجسيمات المذيب. لذا فإن ملعقة من السكر المطحون تذوب أسرع من الكمية نفسها التي تكون في صورة مكعبات.

الحرارة تتأثر سرعة الذوبان بدرجة الحرارة؛ فالمذيب الساخن يذيب كمية أكبر من المذاب مقارنة بالمذيب البارد. لذلك يستوعب الشاي الساخن سكرًا ذائبًا أكثر من الشاي المثلج، كما أن السكر يذوب فيه أسرع. ومع زيادة درجة الحرارة تسلك معظم المواد الصلبة سلوك السكر عند الذوبان. إلا أن ذوبان بعض المواد الأخرى، ومنها الغازات، يقل بزيادة درجة الحرارة، وهذا يجعل المشروبات الغازية تفقد طعمها اللاذع أسرع عند درجة حرارة الغرفة، مما لو كانت باردة.



مكعب من السكر

يذوب مكعب السكر في الشاي المثلج ببطء، وتزداد سرعة الذوبان عند تحريكه.



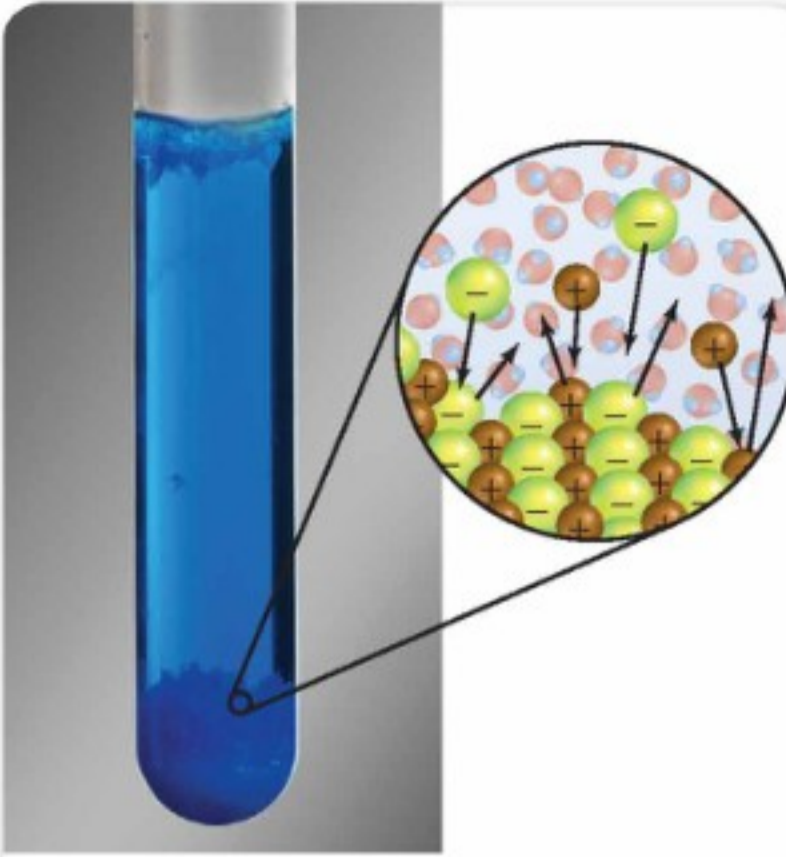
يذوب السكر المطحون بسرعة أكبر من مكعب السكر في الشاي المثلج، كما يزيد التحريك من سرعة ذوبان السكر المطحون.



يذوب السكر المطحون بسرعة كبيرة جداً في الشاي الساخن.

الشكل 12-2 يؤثر كل من التحريك، ومساحة السطح، ودرجة الحرارة في سرعة الذوبان.

الذائبية Solubilitys



الشكل 2-13 تُساوي سرعة الذوبان في المحلول المشبع سرعة التبلور، لذلك لا تتغير كمية المذاب.

تعرف الذائبية على أنها أقصى كمية من المذاب يمكن أن تذوب في كمية محددة من المذيب عند درجة حرارة معينة. وكما يمكن فهم الذوبان على مستوى الجسيمات، يمكن كذلك فهم الذائبية على مستوى الجسيمات. تعتمد ذائبية المذاب على طبيعة كل من المذاب والمذيب؛ فعند إضافة المذاب إلى المذيب تتصادم جسيمات المذيب مع جسيمات سطح المذاب، وتبدأ جسيمات المذاب الذائبة في الاختلاط خلال جسيمات المذيب عشوائيًا. إلا أنه مع زيادة عدد جسيمات المذاب الذائبة يزداد عدد تصادماتها مع بقية البلورة، مما يجعل بعضها يلتصق بسطح البلورة، أو يتبلور مرة أخرى، كما هو موضح في الشكل 2-13. ومع استمرار عملية الذوبان تزداد سرعة التبلور، بينما تبقى سرعة الذوبان ثابتة. ويستمر الذوبان ما دامت سرعة الذوبان أعلى من سرعة التبلور.

واعتمادًا على كمية المذاب، قد تتساوى سرعة الذوبان والتبلور في النهاية. وعند هذه النقطة لا يذوب المزيد من المذاب، ويصل المحلول إلى حالة من الاتزان الديناميكي بين التبلور والذوبان إذا بقيت درجة الحرارة ثابتة.

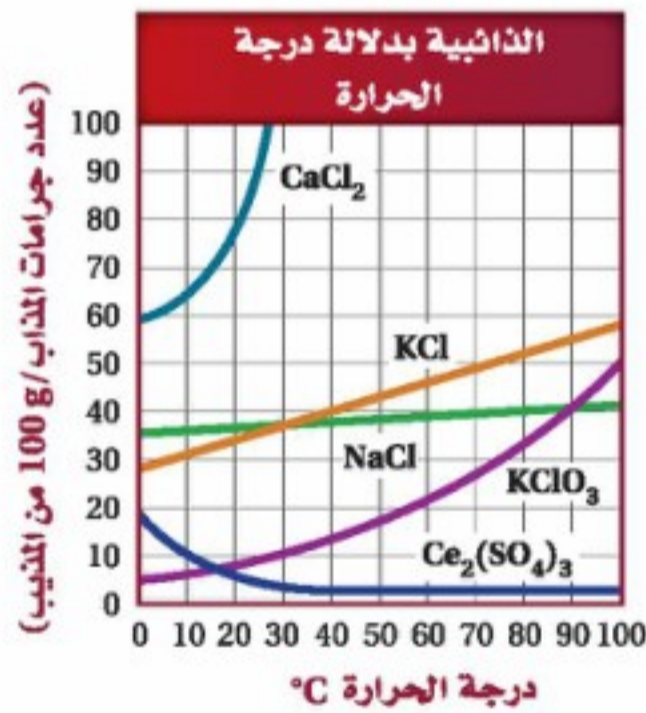
المحلول غير المشبع يحتوي المحلول غير المشبع على كمية مذاب أقل مما في المحلول المشبع عند درجة حرارة وضغط معينين. أي أنه يمكن إضافة كميات أكبر من المذاب إلى المحلول غير المشبع.

المحلول المشبع رغم استمرار ذوبان جسيمات المذاب وتبلورها في المحلول الذي وصل إلى حالة الاتزان إلا أن كمية المذاب الذائبة في المحلول تبقى ثابتة. ويعرف مثل هذا المحلول الموضح في الشكل 2-13 بالمحلول المشبع، وهو يحتوي على أكبر كمية من المذاب ذائبة في كمية محددة من المذيب عند درجة حرارة وضغط معينين.

درجة الحرارة والمحاليل فوق المشبعة تتأثر الذائبية بارتفاع درجة حرارة المذيب؛ حيث تزداد طاقة حركة جسيماته، فتزداد التصادمات ذات الطاقة الكبيرة مقارنة بالتصادمات عند درجة حرارة منخفضة. إن ذائبية الكثير من المواد أكبر عند درجات الحرارة المرتفعة، كما في الشكل 2-14. فذائبية كلوريد الكالسيوم CaCl_2 تساوي 64g لكل 100g من H_2O عند درجة حرارة 10°C ، وعند زيادة درجة الحرارة إلى 27°C تزداد الذائبية بنسبة 50% تقريبًا: 100 g CaCl_2 لكل 100 g H_2O تقريبًا.

تقل ذائبية بعض المواد - ومنها كبريتات السيريوم - عند زيادة درجة الحرارة، ولكنها تبقى ثابتة بعد الوصول إلى درجة حرارة معينة.

الشكل 2-14 يبين الرسم البياني أدناه منحنى ذائبية عدة مواد عند درجات حرارة مختلفة.



اختبار الرسم البياني

حدد ذائبية NaCl عند درجة حرارة 80°C .

الذائبية في الماء عند درجات حرارة مختلفة				الجدول 2-4	
الذائبية (g/100 g H ₂ O)*				الصيغة الكيميائية	المادة
100°C	60°C	20°C	0°C		
89.0	59.2	36.4	31.2	Al ₂ (SO ₄) ₃	كبريتات الألومنيوم
--	20.94	3.89	1.67	Ba(OH) ₂	هيدروكسيد الباريوم
0.076	0.121	0.173	0.189	Ca(OH) ₂	هيدروكسيد الكالسيوم
--	32.6	34.8	36.1	Li ₂ SO ₄	كبريتات الليثيوم
56.3	45.8	34.2	28.0	KCl	كلوريد البوتاسيوم
39.2	37.1	35.9	35.7	NaCl	كلوريد الصوديوم
733	440	216	122	AgNO ₃	نترات الفضة
487.2	287.3	203.9	179.2	C ₁₂ H ₂₂ O ₁₁	السكروز
--	200	680	1130	NH ₃	الأمونيا*
--	0.359	0.878	1.713	CO ₂	ثاني أكسيد الكربون*
--	0.019	0.031	0.048	O ₂	الأكسجين*

* L/1 L H₂O في حالة الغاز عند الضغط الجوي القياسي 101 kPa.

يمكن توضيح تأثير درجة الحرارة في ذائبية المواد من خلال البيانات الموجودة في الجدول 2-4. تلاحظ أن 203.9 g من السكروز C₁₂H₂₂O₁₁ تذوب في 100 g من الماء عند درجة حرارة 20 °C. بينما يذوب 487.2 g من السكروز في 100 g من الماء عند درجة حرارة 100 °C، وهذا يعني زيادة قابلية الذوبان 140% تقريبًا. وحقيقة أن الذائبية تتغير عند تغير درجة الحرارة وأن بعض المواد تصبح أكثر قابلية للذوبان عند زيادة درجة الحرارة، هي المفتاح الأساسي لتكوين المحاليل فوق المشبعة. يحتوي المحلول فوق المشبع على كمية أكبر من المادة المذابة مقارنة بمحلول مشبع عند درجة الحرارة نفسها. ولعمل محلول فوق مشبع يتم تحضير محلول مشبع عند درجة حرارة عالية، ثم يبرد تدريجيًا وببطء؛ إذ يسمح التبريد البطيء للمادة المذابة الزائدة أن تبقى مذابة في المحلول عند درجات حرارة منخفضة، كما هو موضح في الشكل 15-2.


المفردات

أصل الكلمة

Saturated والتي تعني مُشبَّعًا

مشتقة من الكلمة اللاتينية

(Saturatus) وتعني يُشبع أو يملأ...



بعد اضافة نواة التبلور

عند اضافة نواة التبلور

محلول فوق مشبع

الشكل 15-2 عند إضافة نواة التبلور إلى محلول فوق مشبع من السكروز تتبلور المادة المذابة الزائدة.

نواة التبلور: هي عبارة عن قطعة أو مجموعة من القطع لبلورة أحادية لمادة ما، والتي يتكون عن طريقها بلورات أكبر من المادة نفسها.



الشكل 16-2 الرواسب المعدنية في
الينابيع الحارة مثل (عيون الليث في المملكة
العربية السعودية) تعتبر مثال على تكون
البلورات من المحاليل فوق المشبعة .



الكيمياء في واقع الحياة

الاستمطار في السعودية

تعد تجارب الاستمطار في المملكة العربية السعودية واحدة من تجارب عدة قامت في دول عربية مختلفة، حيث أجريت لأول مرة عام 1988م في منطقة عسير، بينما أجريت التجربة الثانية عام 2006م في ثلاث مناطق وسط المملكة (الرياض، والقصيم، وحائل).

المفردات

الاستعمال العلمي مقابل

الاستعمال الشائع

الضغط Pressure

الاستعمال العلمي: القوة المبذولة على وحدة المساحة.

خلال تسرب غاز ثاني أكسيد الكربون من المحلول يزداد الضغط داخل القارورة المغلقة.

الاستعمال الشائع: الجهد الفيزيائي أو الإجهاد الذهني.

يقع على الطلاب الكثير من الضغط في أثناء الاختبارات.

المحاليل فوق المشبعة غير ثابتة؛ فعند إضافة قطعة صغيرة جداً من مذاب - تسمى نواة التبلور - إلى محلول فوق مشبع ترسب المادة المذابة الزائدة بسرعة، كما هو موضح في الشكل 15-2.

ويمكن أن يحدث التبلور عند كشط (Scratch) الجزء الداخلي من الكأس الزجاجية أو الوعاء الزجاجي المحتوي على المحلول بساق تحريك زجاجية بلطف أو تعرّض المحلول فوق المشبع للحركة أو الرجّ.

وباستعمال يوديد الفضة AgI بوصفه نوى تكثف في الهواء فوق المشبع ببخار الماء تتجمع جزيئات الماء في صورة قطرات قد تسقط على الأرض على هيئة مطر. تسمى هذه الآلية استمطار الغيوم. كما يتكون سكر النبات Rock Candy والرواسب المعدنية على حواف الينابيع المعدنية - كالتى تظهر في الشكل 16-2 - من محاليل فوق مشبعة.

ذائبية الغازات تقل ذائبية غازي الأكسجين وثاني أكسيد الكربون عند درجات الحرارة المرتفعة مقارنة بدرجات الحرارة المنخفضة. وهذا سلوك متوقع لجميع المواد الغازية المذابة في المذيبات السائلة. هل تستطيع تفسير هذا السلوك؟ تذكر أن الطاقة الحركية لجسيمات الغاز تسمح للجسيمات بالتححرر أو النفاذ من المحلول بسهولة أكبر عند درجات الحرارة المرتفعة. ولذلك كلما زادت درجة حرارة المحلول قلت ذائبية المذاب الغازي.

الضغط وقانون هنري يؤثر الضغط في ذائبية المواد الغازية المذابة في المحاليل؛ فكلما ازداد الضغط فوق المحلول زادت ذائبية الغاز في أي مذيب. تعتمد المشروبات الغازية على هذا المبدأ؛ فهي تحتوي على غاز ثاني أكسيد الكربون المذاب في محلول مائي تحت ضغط أعلى من الضغط الجوي، وعند فتح علبة المشروب الغازي يكون ضغط غاز ثاني أكسيد الكربون داخل العلبة أعلى من الضغط الواقع خارج العلبة. ونتيجة لذلك تتصاعد فقاعات غاز ثاني أكسيد الكربون من المحلول إلى السطح وتتطاير. وتستمر هذه العملية حتى يفقد المحلول غاز ثاني أكسيد الكربون كله تقريباً، ويصبح المحلول بلا طعم. ويمكن وصف انخفاض ذائبية غاز ثاني أكسيد الكربون في المشروب الغازي بعد فتح العبوة بقانون هنري.

ينص قانون هنري على أن "تناسب ذائبية الغاز في سائل (S) تناسباً طردياً مع ضغط الغاز (P) الموجود فوق السائل عند ثبوت درجة الحرارة". فعندما تكون قارورة المشروب الغازي مغلقة، كما هو موضح في الشكل 17-2، يعمل الضغط الواقع فوق المحلول على إبقاء غاز ثاني أكسيد الكربون ذائباً في المحلول. ويمكن تمثيل هذه العلاقة كما يلي:

قانون هنري

S يمثل الذائبية

P يمثل الضغط

$$\frac{S_1}{P_1} = \frac{S_2}{P_2}$$

يبقى ناتج قسمة الذائبية على الضغط ثابتاً عند درجة حرارة معينة.

غالباً ما يستعمل قانون هنري لتحديد الذائبية S_2 عند ضغط جديد P_2 ، حيث P_2 معروف. ويمكن استعمال قواعد الجبر الأساسية لحل معادلة قانون هنري لإيجاد أي من المتغيرات. ولإيجاد S_2 ابدأ باستعمال قانون هنري الأساسي.

$$\frac{S_1}{P_1} = \frac{S_2}{P_2}$$

بالضرب التبادلي نحصل على المعادلة:

$$P_1 S_2 = S_1 P_2$$

وبقسمة الطرفين على P_1 :

$$\frac{P_1 S_2}{P_1} = \frac{S_1 P_2}{P_1} \rightarrow S_2 = \frac{S_1 P_2}{P_1}$$

الشكل 17-2 ثاني أكسيد الكربون CO_2 مذاب في الصودا، كما يوجد بعضه فوق السائل.

فسر لماذا يتصاعد غاز CO_2 من المحلول عند نزع الغطاء؟



يقال الضغط الذي فوق السائل عند فتح غطاء القارورة، لذا تقل ذائبية ثاني أكسيد الكربون.

يحافظ الضغط الذي فوق السائل في قارورة المشروب الغازي المغلقة على بقاء CO_2 الفائض ذائباً في المحلول ويمنعه من التطاير.



قانون هنري إذا ذاب 0.85 g من غاز ما عند ضغط مقداره 4.0 atm في 1.0 L من الماء عند درجة حرارة 25 °C، فكم يذوب منه في 1.0 L من الماء عند ضغط مقداره 1.0 atm ودرجة الحرارة نفسها؟

1 تحليل المسألة

أعطيت ذائبية الغاز عند الضغط الابتدائي، وثبات درجة حرارة الغاز مع تغير الضغط. ولأن تقليل الضغط يؤدي إلى تقليل ذائبية الغاز فإن كتلة أقل من الغاز تذوب عند ضغط أقل.

المعطيات

$$S_1 = 0.85 \text{ g/L}$$

$$P_1 = 4.0 \text{ atm}$$

$$P_2 = 1.0 \text{ atm}$$

المطلوب

$$S_2 = ? \text{ g/L}$$

2 حساب المطلوب

اكتب قانون هنري

حل قانون هنري لإيجاد S_2

عوض $P_2 = 1.0 \text{ atm}$, $P_1 = 4.0 \text{ atm}$, $S_1 = 0.85 \text{ g/L}$

ثم اضرب واقسم الأرقام والوحدات.

$$\frac{S_1}{P_1} = \frac{S_2}{P_2}$$

$$S_2 = S_1 \left(\frac{P_2}{P_1} \right)$$

$$S_2 = \left(\frac{0.85 \text{ g}}{1.0 \text{ L}} \right) \left(\frac{1.0 \text{ atm}}{4.0 \text{ atm}} \right) = 0.21 \text{ g/L}$$

3 تقويم الإجابة

قلت الذائبية، كما هو متوقع؛ فقد قل الضغط فوق المحلول من 4.0 atm إلى 1.0 atm، لذا يجب أن تنخفض الذائبية إلى ربع قيمتها الأصلية. الوحدة g/L هي وحدة الذائبية.

مسائل تدريبية

36. إذا ذاب 0.55 g من غاز ما في 1.0 L من الماء عند ضغط 20.0 kPa، فما كمية الغاز نفسه التي تذوب عند ضغط 110 kPa؟
37. ذائبية غاز عند ضغط 10 atm هي 0.66 g/L. ما مقدار الضغط الواقع على محلول حجمه 1.0 L ويحتوي على 1.5 g من الغاز نفسه؟
38. تحفيز ذائبية غاز عند ضغط 7 atm تساوي 0.52 g/L. ما كتلة الغاز بالجرامات التي تذوب في لتر واحد إذا زاد الضغط إلى 10 atm؟

التقويم 2-3

الخلاصة

- تتضمن عملية الذوبان إحاطة جسيمات المذيب لجسيمات المذاب.
- يكون المحلول غير مشبع أو مشبعًا أو فوق مشبع.
- ينص قانون هنري على أن ذائبية الغاز في سائل تتناسب طرديًا مع ضغط الغاز فوق السائل عند درجة حرارة معينة.

39. **الفكرة الرئيسية** عدد العوامل المؤثرة في الذوبان.

40. عرف الذائبية.

41. اشرح كيف تؤثر قوى التجاذب بين الجزيئات في الذوبان؟

42. قارن كيف تتشابه طريقة تحضير محلول مائي من ملح الطعام، ومحلول مائي من السكر؟

43. لخص ماذا يحدث إذا أضيفت نواة تبلور إلى محلول فوق مشبع؟ وبم تصف المحلول الناتج؟

44. الرسوم البيانية استعمل المعلومات الموجودة في الجدول 2-4 لعمل رسوم

بيانية لذائبية كبريتات الألومنيوم، وكبريتات الليثيوم، وكلوريد البوتاسيوم عند

درجات حرارة 0°C و 20°C و 60°C و 100°C. أي المواد السابقة تتأثر ذائبيتها

أكثر بزيادة درجة الحرارة؟



الخواص الجامعة للمحاليل

Colligative Properties of Solutions

الأهداف

- تصف الخواص الجامعة.
- تعرف أربع خواص جامعة للمحاليل.
- تحدد الارتفاع في درجة الغليان، والانخفاض في درجة التجمد للمحلول.

الفكرة الرئيسية تعتمد الخواص الجامعة على عدد جسيمات المذاب في المحلول.

الربط مع الحياة إذا كنت قد عشت في منطقة ذات طقس بارد جداً في الشتاء فلعلك لاحظت أن الناس يرشون الملح على الأرصفة والطرق لإزالة الثلج والجليد. كيف يساعد الملح على جعل القيادة في الشتاء أكثر أمناً؟

المواد المتأينة والخواص الجامعة

Electrolytes and Colligative Properties

تؤثر المواد المذابة في بعض الخواص الفيزيائية للمذيبات؛ فقد وجد الباحثون الأوائل أن تأثير المذاب في المذيب يعتمد فقط على كمية جسيمات المذاب في المحلول، لا على طبيعة المادة المذابة نفسها. وتسمى الخواص الفيزيائية للمحاليل التي تتأثر بعدد جسيمات المذاب وليس بطبيعتها **الخواص الجامعة**. وتشمل الخواص الجامعة الانخفاض في الضغط البخاري، والارتفاع في درجة الغليان، والانخفاض في درجة التجمد، والضغط الأسموزي.

المواد المتأينة في محلول مائي درست سابقاً أن المركبات الأيونية مواد توصل محاليلها التيار الكهربائي، لذا تسمى مواد إلكتروليتيّة؛ وذلك لأنها تتفكك في الماء إلى أيونات، كما هو موضح في الشكل 18-2. كما تتأين القليل من المركبات الجزيئية في الماء وتكون أيضاً محلولاً متأيناً. وتسمى المواد المتأينة التي تنتج أيونات كثيرة في المحلول مواد متأينة قوية. أما التي تنتج عدداً قليلاً من الأيونات في المحلول فتسمى المواد المتأينة الضعيفة.

مراجعة المفردات

الأيون؛ ذرة مشحونة كهربائياً.

المفردات الجديدة

الخواص الجامعة

الانخفاض في الضغط البخاري

الارتفاع في درجة الغليان

الانخفاض في درجة التجمد

الخاصية الأسموزية

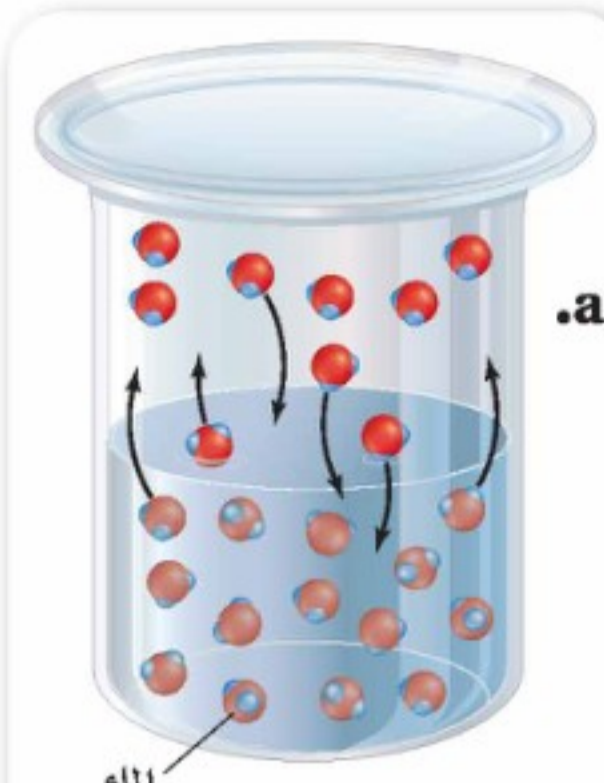
الضغط الأسموزي

الشكل 18-2 محلول كلوريد الصوديوم موصل جيد للكهرباء؛ وذلك لأنه محلول لمادة متأينة، في حين لا يوصل محلول السكروز التيار الكهربائي؛ لأنه محلول لمادة غير متأينة.

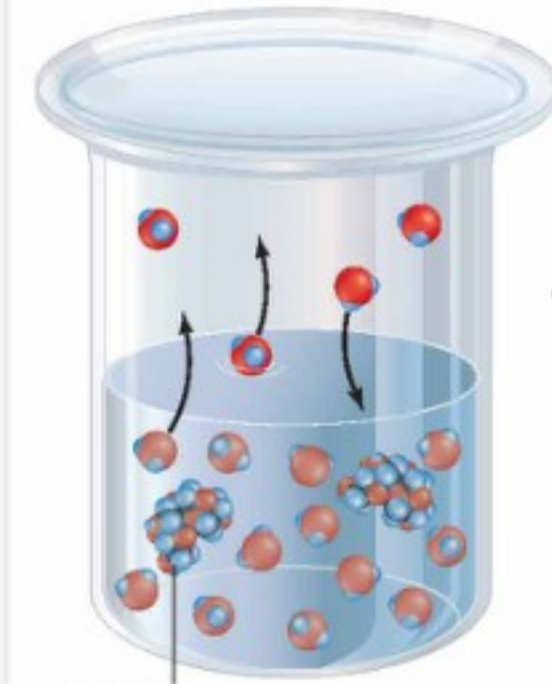


السكروز

كلوريد الصوديوم



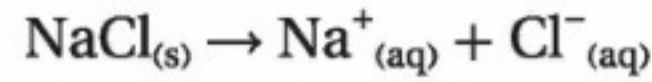
.a



.b

الشكل 19-2 الضغط البخاري لمذيب نقي أكبر من الضغط البخاري لمحلول يحتوي على مذاب غير متطاير.

وكلوريد الصوديوم مادة متأيّنة قوية؛ حيث يتفكك في المحلول وينتج أيونات Na^+ و Cl^- .



فإذابة 1 mol من كلوريد الصوديوم في 1 kg من الماء لا تنتج محلولاً تركيز أيوناته 1 m، بل تنتج 2 mol من جسيمات المذاب في المحلول، أي 1 mol لكل من أيوني Na^+ و Cl^- .

المواد غير المتأيّنة في المحلول المائي تذوب الكثير من المركبات الجزيئية في المذيبات، ولكنها لا تتأين. ومثل هذه المحاليل لا توصل التيار الكهربائي، كما هو موضح في الشكل 18-2. وتسمى المواد المذابة مواد غير متأيّنة. والسكروز مثال على المواد غير المتأيّنة؛ حيث يحتوي محلول السكروز الذي تركيزه 1 m على 1 mol فقط من جزيئات السكروز.

✓ **ماذا قرأت؟** استنتج أي المركبين له تأثير أكبر في الخواص الجامعة: كلوريد الصوديوم أم السكروز؟

الانخفاض في الضغط البخاري Vapor Pressure Lowering

الضغط البخاري هو الضغط الناتج عن بخار السائل عندما يكون في حالة اتزان ديناميكي مع سائله في وعاء مغلق عند درجة حرارة وضغط ثابتين، وعند هذه النقطة تتساوي سرعتي التبخر والتكاثف.

تظهر التجارب أن إضافة مذاب غير متطاير - له ميل قليل إلى التحول إلى غاز - إلى مذيب يقلل الضغط البخاري للمذيب. كما أن الجسيمات التي تحدث الضغط البخاري تتبخر من سطح السائل. فعندما يكون المذيب نقياً كما في الشكل 19 a-2 تشغل جسيماته مساحة السطح كلها. أما عندما يحتوي المذيب على مذاب، كما في الشكل 19 b-2، فإن خليط جسيمات المذاب والمذيب يحتل مساحة سطح المحلول. وبسبب وجود كمية قليلة من جسيمات المذيب على السطح يتحول القليل منها إلى الحالة الغازية، ومن ثم ينخفض الضغط البخاري. وكلما ازداد عدد جسيمات المذاب في المذيب قل الضغط البخاري الناتج، لذا فإن **الانخفاض في الضغط البخاري** يعتمد على عدد جسيمات المذاب في المحلول، ولذلك فهو من الخواص الجامعة للمحاليل.

تستطيع توقع التأثير النسبي للمذاب في الضغط البخاري اعتماداً على كون المذاب متأيّناً أو غير متأيّن. فمثلاً يكون التأثير النسبي لـ 1 mol من كل من المواد المذابة غير المتأيّنة - ومنها الجلوكوز والسكروز والإيثانول - هو نفسه في الضغط البخاري، إلا أن تأثير 1 mol من كل من المواد المذابة المتأيّنة - ومنها كلوريد الصوديوم NaCl ، وكبريتات الصوديوم Na_2SO_4 ، وكلوريد الألومنيوم AlCl_3 - يزداد في الضغط البخاري؛ بسبب تزايد أعداد الأيونات التي ينتجها كل منها في محلولها.

الارتفاع في درجة الغليان Boiling Point Elevation

يؤثر المذاب غير المتطاير في درجة غليان المذيب لأنه يقلل الضغط البخاري له. تذكر أن السائل يغلي عندما يعادل ضغطه البخاري الضغط الجوي. وعندما ترتفع درجة حرارة المحلول المحتوي على مذاب غير متطاير إلى درجة غليان المذيب النقي فإن ضغط البخار الناتج يبقى أقل من الضغط الجوي، لذا لا يغلي المحلول. ولذلك يجب تسخين المحلول إلى درجة حرارة أعلى لتزويده بالطاقة الحركية الإضافية اللازمة لرفع الضغط البخاري له إلى ما يعادل الضغط الجوي. ويسمى الفرق بين درجة حرارة غليان المحلول ودرجة غليان المذيب النقي **الارتفاع في درجة الغليان**. وفي المواد غير المتأينة تتناسب قيمة ارتفاع درجة الغليان - التي يرمز إليها بالرمز ΔT_b - تناسباً طردياً مع مولالية المحلول.

الارتفاع في درجة الغليان

ΔT_b ارتفاع درجة الغليان

K_b ثابت الارتفاع في درجة الغليان المولالي

m مولالية المحلول

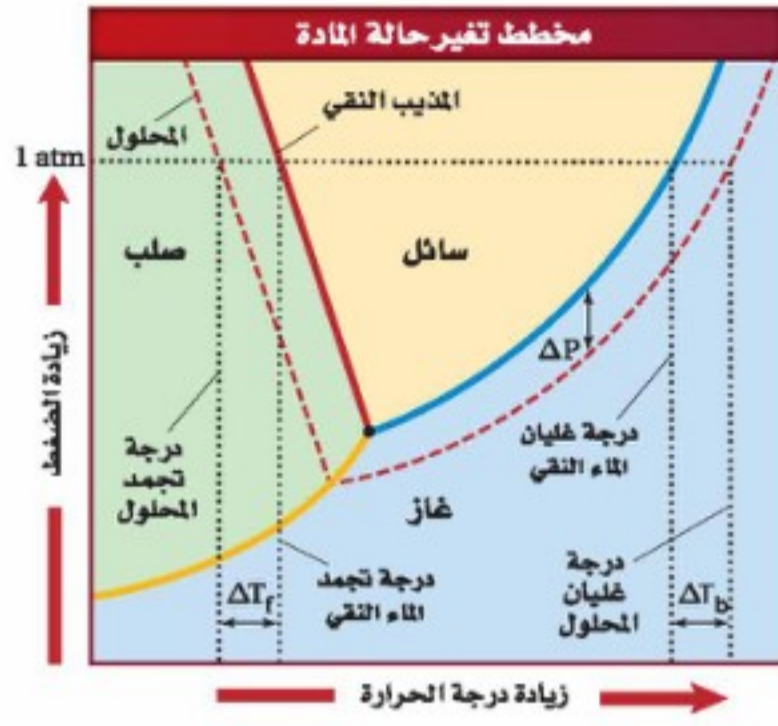
$$\Delta T_b = K_b m$$

كما أن ثابت ارتفاع درجة الغليان المولالي K_b هو الفرق بين درجة غليان محلول يحتوي على $1 m$ من مذاب غير متطاير وغير متأين ودرجة غليان المذيب النقي. والوحدة المستعملة للتعبير عن ارتفاع درجة الغليان هي $^{\circ}\text{C} / m$ ، وتختلف قيمة الثابت K_b باختلاف المذيب. يبين الجدول 2-5 قيم K_b لعدد من المذيبات الشائعة. لاحظ أن قيمة K_b للماء هي $0.512^{\circ}\text{C} / m$ ؛ وهذا يعني أن $1 m$ من محلول مائي يحتوي على مذاب غير متطاير وغير متأين يغلي عند درجة حرارة 100.512°C ، وهذه الدرجة تزيد 0.512°C على درجة غليان الماء النقي 100.0°C .

وكما أن الانخفاض في الضغط البخاري خاصية جامعة فإن الارتفاع في درجة الغليان خاصية جامعة أيضاً. وتتناسب قيمة الارتفاع في درجة الغليان تناسباً طردياً مع مولالية المذاب في المحلول، أي أنه كلما زاد عدد جسيمات المذاب في المحلول زاد الارتفاع في درجة الغليان. ولأن المولالية مرتبطة مع الكسر المولي الذي يتضمن عدد جسيمات المذاب، لذا فهي تستعمل للدلالة على التركيز. ويعبر عن المذيب في المولالية بالكتلة بدلاً من الحجم. ولذلك لا تتأثر المولالية بتغير درجة الحرارة.

ثابت الارتفاع في درجة الغليان المولالي K_b		الجدول 2-5
K_b $^{\circ}\text{C} / m$	درجة الغليان $^{\circ}\text{C}$	المذيب
0.512	100.0	الماء
2.53	80.1	البنزين
5.03	76.7	رابع كلوريد الكربون
1.22	78.5	الإيثانول
3.63	61.7	الكلوروفورم





الشكل 2-20 يؤثر الضغط والحرارة في حالة المذيب النقي (الخط المتصل)، الصلبة أو السائلة أو الغازية، ويؤثران أيضًا في المحلول (الخط المنقطع).

اختبار الرسم البياني

صف كيف يمثل الفرق بين الخطين (المتصل والمنقطع) الانخفاض في الضغط البخاري، والارتفاع في درجة الغليان، والانخفاض في درجة التجمد؟ استعمل بيانات من الرسم البياني لدعم إجابتك.

الكيمياء في واقع الحياة

الانخفاض في درجة التجمد



الأسماك التي تعيش في المياه المالحة إن المحافظة على التركيز الملحي المناسب في غاية الأهمية للأسماك التي تعيش في المياه المالحة؛ فوجود الملح في المناطق القطبية من المحيط ضروري للمحافظة على المياه من التجمد، مما يسمح بالمحافظة على الحياة البحرية.

انظر إلى الشكل 2-20 ولاحظ أن المنحنى الذي يمثل المحلول يقع أسفل المنحنى الذي يمثل المذيب النقي عند أي درجة حرارة.

الانخفاض في درجة التجمد Freezing Point Depression

ترتب الجسيمات في بنية أكثر تنظيمًا في الحالة الصلبة؛ أما في المحلول فتعمل جسيمات المذاب على إضعاف قوى التجاذب بين جسيمات المذيب، مما يمنع المذيب من الوصول إلى الحالة الصلبة عند درجة التجمد.

وتكون درجة تجمد المحلول دائمًا أقل من درجة تجمد المذيب النقي. ويبين الشكل 2-20 الفرق بين درجات الغليان والتجمد للماء النقي والمحلول المائي. وعند مقارنة الخطوط المتصلة مع المنقطعة في الرسم سوف تلاحظ أن نطاق درجة الحرارة للمحلول المائي في الحالة السائلة أكبر مما للماء النقي. ويبين الشكل 2-21 تطبيقين شائعين لاستعمال الملح لتقليل درجة تجمد المحلول المائي.

الانخفاض في درجة تجمد المحلول ΔT_f هو الفرق بين درجة تجمد المحلول ودرجة تجمد المذيب النقي الموجود في المحلول.

الشكل 2-21 تعمل إضافة الأملاح إلى الجليد على تقليل درجة تجمد الجليد، مما يؤدي إلى انصهار الجليد على الطرق. وتعمل إضافة الملح إلى الجليد عند صنع الآيس كريم على تقليل درجة التجمد، مما يسمح للماء الناتج بتجميد الآيس كريم.



يبين الجدول 2-6 ثابت الانخفاض في درجة التجمد المولالي (K_f) لكثير من المذيبات. هذا وتناسب قيم الانخفاض في درجة التجمد للمواد غير المتأينة تناسباً طردياً مع مولالية المحلول.

الجدول 2-6		ثابت الانخفاض في درجة التجمد المولالي K_f
المذيب	درجة التجمد °C	K_f (°C/m)
الماء	0.0	1.86
البنزين	5.5	5.12
رابع كلوريد الكربون	-23.0	29.8
الإيثانول	-114.1	1.99
الكلوروفورم	-63.5	4.68

الانخفاض في درجة التجمد

$$\Delta T_f = K_f m$$

ΔT_f درجة الحرارة
 K_f ثابت الانخفاض في درجة التجمد
 m المولالية

وكما هو الحال مع قيم K_b فإن قيم K_f تعتمد على طبيعة المذيب. ولأن ثابت انخفاض درجة التجمد للماء (K_f) يساوي $1.86^\circ\text{C}/m$ فإن المحلول المائي الذي تركيزه $1\ m$ يتجمد، ويحتوي على مذاب غير متطاير وغير متأين عند درجة -1.86°C وهي أقل من درجة تجمد الماء النقي (0.0°C). ويعد الجليسرول مذاب غير متأين، وينتج الكثير من الأسماك والحشرات لحماية دمائها من التجمد في الشتاء القارص. كذلك فإن مقاوم التجمد أو مانع تكوين الجليد يحتوي على مذاب غير متأين، هو جليكول الإثيلين.

لاحظ أن معادلات الارتفاع في درجة الغليان والانخفاض في درجة التجمد تحدد مولالية المواد غير المتأينة. أما في حالات المواد المتأينة فيجب استعمال المولالية الفعلية للمحلول والتي تأخذ بعين الاعتبار عدد جسيمات المذاب المتفككة، كما يوضحها المثال 2-6.

تجربة

الانخفاض في درجة التجمد

كيف يمكنك قياس الانخفاض في درجة التجمد؟

الخطوات

1. املاً بطاقة السلامة في دليل التجارب العملية.
2. املاً كأسين سعة كل منهما 400 mL بالجليد المجروش، وأضف 50 mL من مياه الصنبور البارد إلى كل من الكأسين.
3. قس درجة حرارة كل من الكأسين بمقياس حرارة (ثرموتر) غير زئبقي.
4. حرك محتويات كل كأس بساق مدة دقيقة واحدة، حتى تصبح درجتا حرارة الكأسين متماثلتين، وسجل درجة الحرارة.
5. أضف 75 g من ملح الطعام الخشن NaCl إلى إحدى الكأسين، وتابع التحريك في الكأسين، سوف يذوب بعض الملح.

6. عندما تثبت درجة الحرارة في كل كأس سجل كلا منهما.

7. اسكب محتويات الكأسين في المغسلة، واشطفها بكمية من ماء الصنبور.

التحليل

1. قارن درجة حرارة الماء والثلج بدرجة حرارة الماء والثلج المضاف إليهما الملح. بم تفسر تغير درجة الحرارة؟
2. فسر لماذا أضيف الملح إلى إحدى الكأسين دون الأخرى؟
3. فسر الملح مادة متأينة قوية تنتج أيوني الصوديوم Na^+ والكلور Cl^- عندما تتفكك في الماء. فسر لماذا يعد هذا التفكك مهماً عند حساب الانخفاض في درجة التجمد؟
4. توقع هل من الأفضل استعمال الملح الخشن، أم ملح المائدة الناعم، عند صنع الآيس كريم المنزلي؟ فسر إجابتك.



التغيرات في درجات التجمد والغليان يستعمل كلوريد الصوديوم NaCl عادة لمنع تكون الجليد على الطرق وتجميد الثلجات (الآيس كريم). ما درجتا غليان وتجمد محلول مائي من كلوريد الصوديوم تركيزه 0.029 m إذا علمت أن كلوريد الصوديوم مادة متأينة قوية؟

1 تحليل المسألة

أعطيت مولالية المحلول المائي لكلوريد الصوديوم. احسب ΔT_b و ΔT_f اعتماداً على عدد الجسيمات في المحلول، ثم حدد الارتفاع في درجة الغليان والانخفاض في درجة التجمد. أضف ΔT_b إلى درجة الغليان، واطرح ΔT_f من درجة التجمد.

المعطيات

المذاب = كلوريد الصوديوم NaCl

المولالية = 0.29 m

المطلوب

درجة الغليان = $^{\circ}\text{C}$ ؟

درجة التجمد = $^{\circ}\text{C}$ ؟

2 حساب المطلوب

احسب مولالية الجسيمات الفعلية

مولالية الجسيمات الفعلية = المولالية \times عدد جسيمات المذاب المتفككة

ضع العلاقات الرياضية للارتفاع في درجة الغليان

والانخفاض في درجة التجمد

$$\Delta T_b = K_b m$$

$$\Delta T_f = K_f m$$

$$\Delta T_b = (0.512^{\circ}\text{C}/m)(0.058\text{ m}) = 0.030^{\circ}\text{C}$$

$$\Delta T_f = (1.86^{\circ}\text{C}/m)(0.058\text{ m}) = 0.11^{\circ}\text{C}$$

عوض عن $K_b = 0.512^{\circ}\text{C}/m$ ، $K_f = 1.86^{\circ}\text{C}/m$

$$m = 0.058\text{ m}$$

احسب درجة الغليان بعد الارتفاع ودرجة التجمد بعد الانخفاض للمحلول.

$$T_b = 0.30^{\circ}\text{C} + 100.000^{\circ}\text{C} = 100.030^{\circ}\text{C}$$

$$T_f = 0.00^{\circ}\text{C} - 0.11^{\circ}\text{C} = -0.11^{\circ}\text{C}$$

أضف ΔT_b إلى درجة الغليان

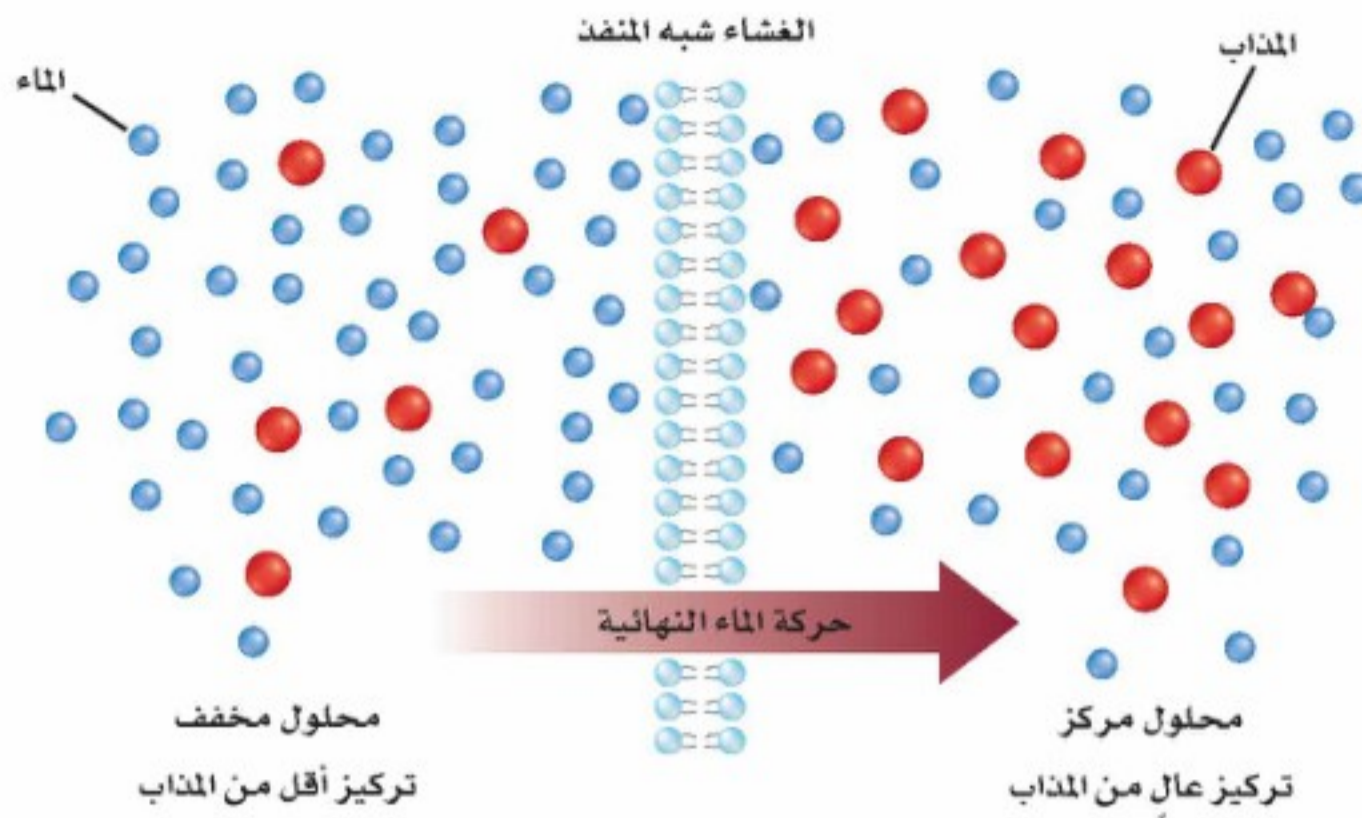
واطرح ΔT_f من درجة التجمد

3 تقويم الإجابة

تكون درجة الغليان أعلى، ودرجة التجمد أقل، كما هو متوقع.

مسائل تدريبية

45. احسب درجة الغليان ودرجة التجمد لمحلول مائي تركيزه 0.625 m من أي مذاب غير متطاير وغير متأين.
46. ما درجة غليان محلول السكر في الإيثانول الذي تركيزه 0.40 m ؟ وما درجة تجمده؟ علماً بأن السكر مادة غير متأينة؟
47. تحفيز تم اختبار محلول تركيزه 0.045 m يحتوي على مذاب غير متطاير وغير متأين، ووجد أن الانخفاض في درجة تجمده بلغ 0.084°C . ما قيمة ثابت الانخفاض في درجة تجمده K_f ؟ وهل المذيب المكوّن منه المحلول في هذه الحالة هو الماء أو الإيثانول أو الكلوروفورم؟



الشكل 2-22 تنتشر المذيبات بسبب الخاصية الأسموزية من التركيز الأقل إلى التركيز الأعلى خلال أغشية شبه منفذة.

الضغط الأسموزي Osmotic Pressure

عرفت أن الانتشار هو اختلاط الغازات أو السوائل، والناتج عن حركتها العشوائية. أما الخاصية الأسموزية فهي انتشار المذيب خلال غشاء شبه منفذ من المحلول الأقل تركيزاً إلى المحلول الأكثر تركيزاً. والأغشية شبه المنفذة حواجز تسمح لبعض الجسيمات بالعبور. والأغشية التي تحيط بالخلايا الحية جميعها عبارة عن أغشية شبه منفذة. وتلعب الخاصية الأسموزية دوراً مهماً في الكثير من العمليات الحيوية، ومنها امتصاص الغذاء في النباتات.

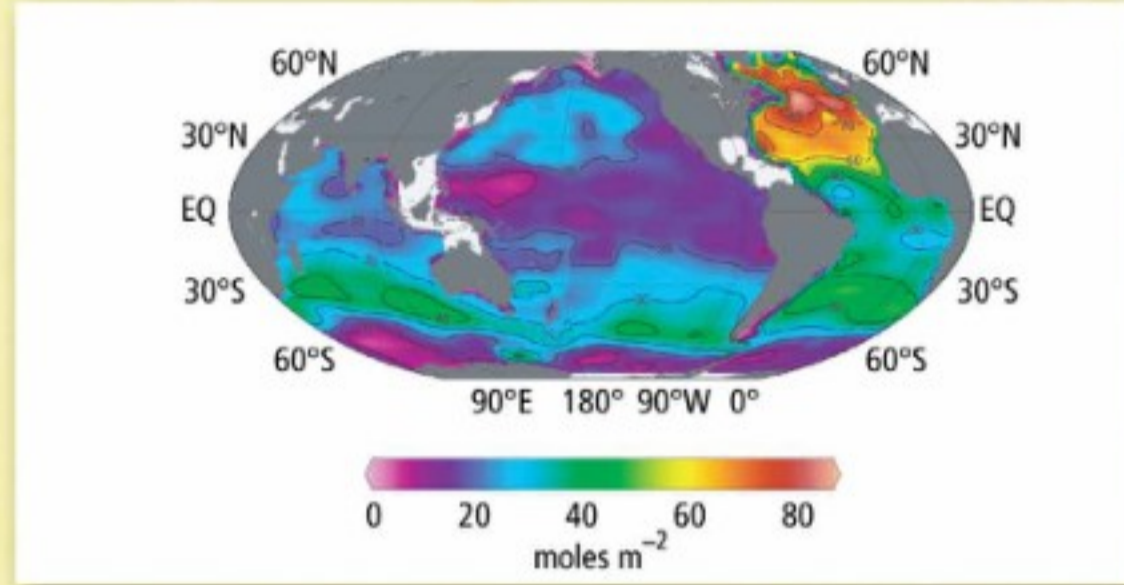
يبين الشكل 2-22 نظاماً يكون فيه المحلول المخفف مفصلاً عن المحلول المركز بغشاء شبه منفذ. تتحرك جزيئات الماء خلال العملية الأسموزية في الاتجاهين عبر الغشاء، ولكن جزيئات المذاب لا تستطيع العبور. وتنتشر جزيئات الماء عبر الغشاء من المحلول المخفف إلى المحلول المركز. وتسمى كمية الضغط الإضافي الناتج عن انتقال جزيئات الماء إلى المحلول المركز **الضغط الأسموزي**. ويعتمد الضغط الأسموزي على عدد جسيمات المذاب في كمية محددة من المحلول، وهو خاصية جامعة للمحاليل.

التقويم 2-4

الخلاصة

- تقلل المواد المذابة غير المتطايرة الضغط البخاري للمحلول.
 - يرتبط الارتفاع في درجة الغليان مباشرة بمولالية المحلول.
 - يكون الانخفاض في درجة التجمد للمحلول أقل من درجة تجمد المذيب النقي.
 - يعتمد الضغط الأسموزي على عدد جسيمات المذاب في حجم معين.
48. **الفكرة الرئيسية** اشرح ما المقصود بالخواص الجامعة؟
 49. صف الخواص الجامعة الأربع للمحاليل.
 50. فسر لماذا يكون للمحلول درجة غليان أعلى من درجة غليان المذيب النقي؟
 51. حلّ يغي محلول مائي من كلوريد الكالسيوم CaCl_2 عند درجة حرارة 101.3°C . ما كتلة كلوريد الكالسيوم بالكيلوجرام التي تذوب في 1000 g من المذيب؟
 52. ثم احسب الانخفاض في درجة التجمد للمحلول نفسه؟ إذا علمت أن الجلوكوز مادة غير متأينة؟
 53. تحقق إذا علمت أن الارتفاع في درجة غليان محلول مائي لمذاب غير متأين وغير متطاير تساوي 1.12°C ، فما مولالية المحلول؟

في كيميائية المياه، مما قد يلحق ضرراً، أو يقتل المخلوقات البحرية. فعلى سبيل المثال أظهرت الشعب المرجانية المنتشرة في مختلف أنحاء العالم دلائل إجهاد؛ نتيجة زيادة مستوى CO_2 الذائب في الماء.



شكل 1 ترمز الألوان الحمراء والصفراء والخضراء إلى المناطق التي فيها مستويات عالية من CO_2 الذائب في الماء.

الحجز في أعماق البحار Deep ocean sequestration

هناك اقتراح قد يقلل من كمية CO_2 الجوي، ويحمي الحياة في الجزء العلوي من المحيط، وهو تسهيل غاز CO_2 ، ثم ضخه إلى طبقات المياه السفلى، وتسمى هذه العملية الحجز في أعماق البحار. وهناك تصور أن الضغط الشديد في الأعماق (أكبر من 3000 m) من شأنه أن يحول CO_2 إلى هيدرات تذوب في أعماق مياه المحيطات، ولكن سيبقى CO_2 عالماً مئات السنين بعيداً عن الجزء العلوي للمحيط والغلاف الجوي.

بحوث مستمرة Ongoing research

يعمل العلماء على إيجاد إجابات عن كثير من الأسئلة حول أثر CO_2 في المخلوقات التي تعيش في الأعماق. ولا يزال هناك الكثير من المشاكل التقنية المتعلقة بعملية جمع CO_2 وتخزينه ونقل كميات كبيرة منه. وإذا تم حل هذه المشكلات التقنية فإن على الرأي العام والمسؤولين الأخذ في الحسبان الأخطار المتعلقة بانبعاث CO_2 في الهواء وفي المحيطات.

الكتابة في الكيمياء

عصف ذهني إعداد مجموعة من الأسئلة للإجابة عنها بالبحث حول حجز ثاني أكسيد الكربون في أعماق البحار.

في الميدان

مهن: كيميائي البيئة

محلول CO_2

تشير السجلات الجيولوجية إلى أن مستويات ثاني أكسيد الكربون CO_2 في الغلاف الجوي أعلى كثيراً في الوقت الحاضر مقارنة بعشرين مليون سنة مضت. وقد أسهمت صناعات الإنسان في هذه الزيادة. إلا أن CO_2 لا يبقى في الغلاف الجوي إلى أجل غير مسمى؛ إذ تحتوي المحيطات بشكل طبيعي على CO_2 الذي يأتي من الغلاف الجوي، ومن المخلوقات الحية. وتقوم المحيطات بامتصاص 50% من CO_2 المنبعث من صناعات الإنسان. ويعتقد بعض العلماء أنه خلال ألف سنة قادمة سيذوب 90% منه في المحيطات.

جمع البيانات عن CO_2 Collecting CO_2 data

تتأثر سرعة ذوبان CO_2 في المحيطات بعدة عوامل، منها درجة الحرارة، وتركيز CO_2 في الهواء والماء، واختلاط الماء مع الهواء بسبب الرياح، وحركة الأمواج. لقد قضى فريق من الباحثين عدة سنوات لجمع وتحليل البيانات حول CO_2 ، وذلك من آلاف نقاط الجمع في المحيطات حول العالم. وتوضح بيانات الشكل 1 أن شمال المحيط الأطلسي يحتوي على أكبر كمية من CO_2 لكل متر مربع من سطح المحيط؛ لأن عوامل درجة الحرارة والعمق والتيارات البحرية تجعل من شمال المحيط الأطلسي ماصاً فعالاً لغاز CO_2 المنبعث من صناعات الإنسان.

جمع وتخزين CO_2 CO_2 capture and storage


هناك طريقة واحدة لتقليل كمية CO_2 المنطلقة إلى الغلاف الجوي، وهي جمع وتخزين CO_2 الناتج عن حرق الوقود الأحفوري. يقوم العلماء بالبحث عن احتمالية حقن CO_2 الذي تم جمعه مباشرة في المحيط؛ وذلك لتسريع عملية ذوبانه؛ حيث تقلل هذه العملية من أثر الاحتباس الحراري الذي يسببها غاز CO_2 . ومع ذلك فقد يؤدي اختلال التوازن الطبيعي لثاني أكسيد الكربون CO_2 الذائب إلى آثار بالغة

مختبر الكيمياء

استقصاء العوامل المؤثرة في الذائبية

الخلفية تتضمن عملية تحضير محلول تصادم جسيمات المذيب والمذاب. فعند إضافة مركب قابل للذوبان إلى الماء تؤثر عدة عوامل في سرعة تكوين المحلول.

سؤال كيف تؤثر هذه العوامل في سرعة تكوين المحلول؟



13. حرك المحلول الرابع بالساق الزجاجي مدة دقيقة أو اثنتين .
14. كرر الخطوتين 7 و8 مع الأنبوب الخامس باستعمال ماء أكثر برودة، واترك الأنبوب بلا تحريك.
15. كرر الخطوتين 7 و8 مع الأنبوب السادس باستعمال ماء ساخن، واترك الأنبوب بلا تحريك.

16. **التنظيف والتخلص من النفايات** تخلص من بقايا المواد الصلبة والمحاليل باتباع إرشادات معلمك. ونظف أدوات المختبر جميعها، وأعدّها إلى أماكنها.

التحليل والاستنتاج

1. **المقارنة** ما التأثير الذي لاحظته عند تحريك الأنبوب الثاني والرابع مقارنة بالأنبوب الأول والثالث؟
2. **الملاحظة والاستنتاج** ما العامل الذي أدى إلى تكوين المحلول بسرعة في الأنبوب الرابع مقارنة بالأنبوب الثاني؟
3. **إدراك النتيجة والسبب** لماذا اختلفت النتائج بين الأنبوب الثالث والرابع والسادس؟
4. **ناقش** ما إذا كانت بياناتك قد دعمت فرضيتك.
5. **تحليل الخطأ** اعرف مصدر الخطأ الرئيس المحتمل في التجربة، واقترح طريقة سهلة لتصحيحه.

الاستقصاء

التفكير الناقد إذا أمكن رؤية نتائج هذه التجربة بالعين المجردة، فاقترح تفسيراً تحت مجهرى (لا يمكن ملاحظته) لأثر هذه العوامل في سرعة تكوين المحلول. ماذا يحدث على مستوى الجزيئات لتسريع تكوين المحلول في كل حالة؟

المواد والأدوات اللازمة

كبريتات النحاس II المائية	حامل أنابيب اختبار
ماء مقطر	هاون (مدق)
6 أنابيب اختبار	ملعقة
مخبار مدرج سعته 25 mL	ساعة
ساق تحريك زجاجية	
ماسك أنابيب	

إجراءات السلامة

1. املأ بطاقة السلامة في دليل التجارب العملية.
2. صمم جدولاً لتسجيل البيانات.
3. اكتب فرضية حول ما تعرفه عن سرعة التفاعل لتفسير ما يمكن ملاحظته في خطوات العمل.
4. ضع الأنابيب الستة على حامل الأنابيب.
5. ضع بلورة من كبريتات النحاس II المائية في كل من الأنبوب الأول والأنبوب الثاني.
6. استعمل الهاون والمدق لطحن بلورة أخرى، ثم اكشط المسحوق الناتج بالملعقة، وضعه في الأنبوب الثالث، وكرر ذلك للأنابيب المتبقية.
7. قس 15 mL من الماء المقطر عند درجة حرارة الغرفة، ثم اسكبه في أنبوبي الاختبار الأول والثاني، ثم سجل الزمن.
8. لاحظ المحلول في الأنبوب الأول بعد إضافة الماء مباشرة وبعد 15 دقيقة.
9. اترك الأنبوب الأول دون أي حركة على حامل الأنابيب.
10. كرر الخطوتين 7 و8 مع الأنبوبين الثالث والرابع.
11. استعمل ساق التحريك الزجاجية لتحريك أنبوب الاختبار الثاني مدة دقيقة أو اثنتين.
12. اترك الأنبوب الثالث دون تحريك.

الفكرة العامة معظم السوائل والغازات والمواد الصلبة التي تكوّن عالمنا مخاليط .

2-1 أنواع المخاليط

الأفكار الرئيسية

- يمكن تمييز مكونات المخلوط غير المتجانس .
- هناك نوعان من المخاليط غير المتجانسة، هما المعلق والغروي .
- الحركة البراونية حركة عشوائية لجسيمات المخلوط الغروي .
- تُظهر المخاليط الغروية والمعلقة تأثير تندال .
- قد يوجد المحلول في إحدى الحالات الفيزيائية الثلاث: السائلة أو الغازية أو الصلبة، اعتمادًا على الحالة الفيزيائية للمذيب .
- يمكن أن يكون المذاب في المحلول غازًا أو سائلًا أو صلبًا .

الفكرة الرئيسية المخاليط إما متجانسة أو غير متجانسة .

المفردات

- المخلوط المعلق
- المخلوط الغروي
- الحركة البراونية
- تأثير تندال
- المادة الذائبة
- المادة غير الذائبة

2-2 تركيز المحلول

الأفكار الرئيسية

- يقاس التركيز كمًّا ونوعًا .
 - المولارية هي عدد مولات المذاب في 1L من المحلول .
 - المولالية هي نسبة عدد مولات المذاب في 1 kg من المذيب .
 - عدد المولات قبل التخفيف = عدد المولات بعد التخفيف
- $$M_1V_1 = M_2V_2$$

الفكرة الرئيسية يمكن التعبير عن التركيز بدلالة

النسبة المئوية أو المولات .

المفردات

- التركيز
- المولارية
- المولالية
- الكسر المولي

2-3 العوامل المؤثرة في الذوبان

الأفكار الرئيسية

- تتضمن عملية الذوبان إحاطة جسيمات المذيب لجسيمات المذاب .
- يكون المحلول غير مشبع أو مشبعًا أو فوق مشبع .
- ينصّ قانون هنري على أن ذائبية الغاز في سائل تتناسب طرديًا مع ضغط الغاز فوق السائل عند درجة حرارة معينة .

الفكرة الرئيسية يتأثر تكون المحلول بعوامل، منها

الحرارة والضغط والقطبية .

المفردات

- الذوبان
- حرارة الذوبان
- المحلول غير المشبع
- المحلول المشبع
- المحلول فوق المشبع
- قانون هنري

2-4 الخواص الجامعة للمحاليل

الأفكار الرئيسية

- تقلل المواد المذابة غير المتطايرة الضغط البخاري للمحلول .
- يرتبط الارتفاع في درجة الغليان مباشرة بمولالية المحلول .
- يكون الانخفاض في درجة التجمد للمحلول أقل من درجة تجمد المذيب النقي .
- يعتمد الضغط الأسموزي على عدد جسيمات المذاب في حجم معين .

الفكرة الرئيسية تعتمد الخواص الجامعة على عدد

جسيمات المذاب في المحلول .

المفردات

- الخواص الجامعة
- الانخفاض في الضغط البخاري
- الارتفاع في درجة الغليان
- الانخفاض في درجة التجمد
- الخاصية الأسموزية
- الضغط الأسموزي

2-1

إتقان المفاهيم

54. وضح المقصود بالعبارة "ليست كل المخاليط محاليل".
55. ما الفرق بين المذاب والمذيب؟
56. ما المخلوط المعلق؟ وفيه يختلف عن المخلوط الغروي؟
57. كيف يستخدم تأثير تندال للتمييز بين المخلوط الغروي والمحلول؟ لماذا؟
58. سمِّ مخلوطاً غروباً مكوناً من غاز مذاب في سائل؟
59. تبيلة السلطة ما نوع الخليط غير المتجانس الموضح في الشكل 2-23؟ وما الخصائص التي اعتمدت عليها في تصنيفك؟



الشكل 2-23

60. ما الذي يسبب الحركة البراونية في المخلوط الغروي؟

2-2

إتقان المفاهيم

61. ما الفرق بين النسبة المئوية بالكتلة والنسبة المئوية بالحجم؟
62. ما الفرق بين المولارية والمولالية؟
63. ما العوامل التي يجب أخذها في الحسبان عند إعداد محلول مخفف من محلول قياسي؟
64. كيف يختلف محلولان من NaCl تركيز أحدهما 0.5 M والآخر 2.0 M؟
65. تحت أي ظروف يمكن للكيميائي وصف المحلول بدلالة المولالية؟ ولماذا؟

إتقان حل المسائل

66. وفق خطوات العمل في تجربة مخبرية، قمت بخلط 25.0 g من $MgCl_2$ مع 550 mL من الماء. ما النسبة المئوية بالكتلة لكلوريد الماغنسيوم $MgCl_2$ في المحلول؟
67. ما كمية LiCl بالجرامات الموجودة في 275 g من محلوله المائي الذي تركيزه 15%؟
68. إذا كنت ترغب في تحضير كمية كبيرة من محلول HCl بتركيز 5%، ولديك 25 mL من HCl فقط، فما أقصى حجم محلول 5% يمكنك تحضيره؟
69. احسب النسبة المئوية بالحجم لمحلول يحضّر بإضافة 75 mL من حمض الإيثانويك إلى 725 mL من الماء.
70. احسب مولارية محلول يحتوي على 15.7 g من $CaCO_3$ الذائب في 275 mL من الماء.
71. ما حجم محلول تركيزه 3.00 M تم تحضيره بإذابة 122 g LiF؟
72. ما عدد مولات BaS اللازمة لتحضير محلول حجمه 1.5×10^3 mL وتركيزه 10 M؟
73. ما كتلة $CaCl_2$ بالجرامات اللازمة لتحضير محلول حجمه 2.0 L وتركيزه 3.5 M؟
74. غالباً ما تحضر محاليل قياسية مختلفة التراكيز من HCl لتنفيذ التجارب. أكمل الجدول 2-7 بحساب حجم المحلول المركز أو المحلول الذي تركيزه 12 M من حمض الهيدروكلوريك اللازم لتحضير 1.0 L من محلول HCl باستعمال قيم المولارية المدونة في الجدول.

جدول 2-7 محاليل HCl	
حجم محلول 12 M HCl القياسي بوحدة mL	مولارية HCl
	0.50
	1.0
	1.5
	2.0
	5.0

2-3

إتقان المفاهيم

85. صف عملية الذوبان.

86. اذكر ثلاث طرائق لزيادة سرعة الذوبان.

87. اشرح الفرق بين المحاليل المشبعة والمحاليل غير المشبعة.

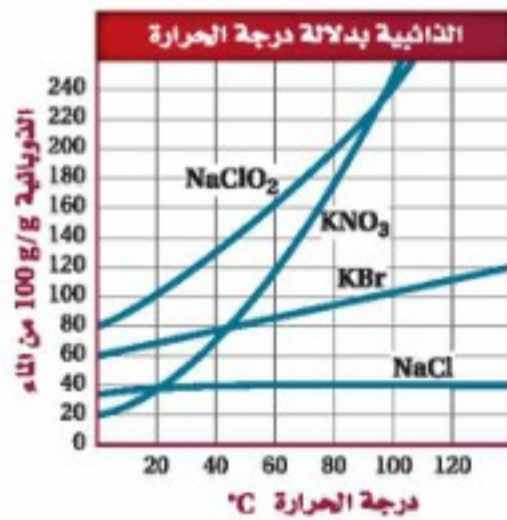
إتقان حل المسائل

88. إذا كانت ذائبية غاز تساوي 0.54 g/L عند ضغط مقداره 1.5 atm فاحسب ذائبية الغاز عند مضاعفة الضغط.

89. ذائبية غاز تساوي 9.5 g/L عند ضغط 4.5 atm . ما كمية الغاز بالجرامات التي تذوب في 1 L إذا تم تخفيض الضغط إلى 3.5 atm ؟

90. ذائبية غاز تساوي 1.80 g/L عند ضغط مقداره 37.0 kPa . ما قيمة الضغط التي تصبح عندها الذائبية 9.00 g/L ؟

91. استعن بالشكل 2-25 لمقارنة ذائبية بروميد البوتاسيوم KBr ونترات البوتاسيوم KNO_3 عند درجة حرارة 80°C .



الشكل 2-25

92. استعن بقانون هنري لإكمال الجدول 2-8

جدول 2-8 الذائبية والضغط	
الضغط kPa	الذائبية g/L
?	2.9
32	3.7
39	?

75. كم تحتاج من حمض النيتريك (mL) الذي تركيزه 5.0 M لتحضير 225 mL HNO_3 تركيزه 1.0 M ؟

76. تجربة إذا قمت بتخفيف 55 mL من محلول تركيزه 4.0 M لتحضير محلول مخفف حجمه 250 mL ، فاحسب مولارية المحلول الجديد.

77. ما حجم حمض الفوسفوريك (بوحدة mL) الذي تركيزه 3.0 M ، والذي يمكن تحضيره من 95 mL من محلول $5.0 \text{ M H}_3\text{PO}_4$ ؟

78. إذا خففت 20.0 mL من محلول تركيزه 3.5 M لتحضير محلول حجمه 100.0 mL ، فما مولارية المحلول بعد التخفيف؟

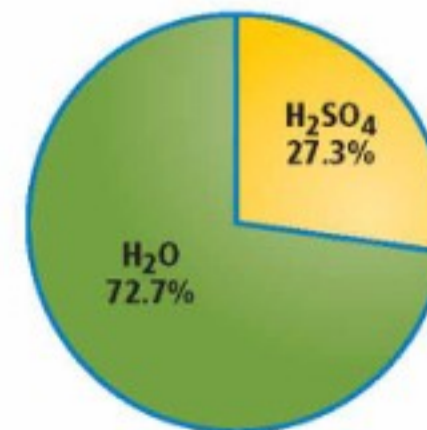
79. ما مولالية محلول يحتوي على 75.3 g من KCl مذابة في 95.0 g من الماء؟

80. ما كتلة Na_2CO_3 (بوحدة g) التي يجب إذابتها في 155 g من الماء لعمل محلول تركيزه 8.20 mol/kg ؟

81. ما مولالية محلول يحتوي على 30.0 g من النفتالين C_{10}H_8 الذائب في 500 g من التولوين؟

82. ما المولالية والكسر المولي لمذاب يحتوي على 35.5% بالكتلة من محلول حمض الميثانويك HCOOH ؟

83. استعن بالشكل 2-24، واحسب الكسر المولي لحمض الكبريتيك H_2SO_4 في المحلول.



الشكل 2-24

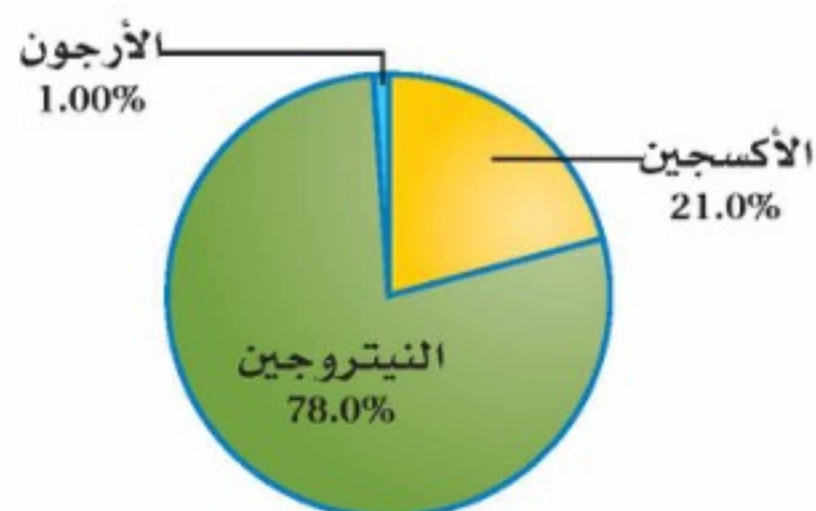
84. احسب الكسر المولي لمحلول MgCl_2 الناتج عن إذابة 132.1 g MgCl_2 في 175 mL من الماء؟

مراجعة عامة

102. أي مذاب له أكبر تأثير في درجة غليان 1.00 kg من الماء: 50 g من كلوريد الإسترانشيوم SrCl_2 أم 150 g من رابع كلوريد الكربون CCl_4 ؟ فسر إجابتك.

جدول 2-9 هل الذوبان ممكن؟	
مذيب	مذاب
H_2O سائل	MgCl_2 صلب
C_6H_6 سائل	NH_3 سائل
H_2O سائل	H_2 غاز
Br_2 سائل	I_2 سائل

103. استعمل معرفتك بالقطبية والذائبية لتوقع ما إذا كان الذوبان ممكناً في كل من الحالات الموضحة في الجدول 2-9. فسر إجابتك.
104. إذا قمت بتحضير محلول مائي مشبع من كلوريد البوتاسيوم عند درجة حرارة 25°C ، ثم قمت بتسخينه إلى 50°C فهل يصبح المحلول غير مشبع، أو مشبعًا، أو فوق مشبع؟ فسر إجابتك.
105. ما كتلة نترات الكالسيوم $\text{Ca}(\text{NO}_3)_2$ التي تلزم لتحضير 3.00 L من محلول تركيزه 0.500 M؟
106. يبين الشكل 2-26 النسب المئوية لمكونات عينة من الهواء. احسب الكسر المولي لكل غاز في العينة.



الشكل 2-26

93. المشروبات الغازية الضغط الجزئي لغاز CO_2 داخل زجاجة مشروب غازي هو 4.0 atm عند درجة حرارة 25°C . إذا كانت ذائبية CO_2 تساوي 0.12 mol/L . وعند فتح الزجاجة ينخفض الضغط الجزئي إلى $3.0 \times 10^{-4}\text{ atm}$ ، فما ذائبية CO_2 في الزجاجة المفتوحة؟ عبر عن إجابتك بوحدة g/L .

2-4

إتقان المفاهيم

94. عرف الخاصية الجامعة.
95. استعمل مصطلحي (المركز والمخفف) لمقارنة المحلول على طرفي غشاء شبه منفذ.
96. حدد كل متغير في المعادلة الآتية: $\Delta T_b = K_b m$.
97. ما المقصود بالضغط الأسموزي؟ ولماذا يعد خاصية جامعة؟

إتقان حل المسائل

98. احسب درجة التجمد لمحلول يحتوي على 12.1 g من النفثالين غير المتأين C_{10}H_8 الذائب في 0.175 kg من البنزين C_6H_6 . استعن بالجدول 2-6.
99. إذا قمت بإذابة 179 g من MgCl_2 في 1.00 L ماء فاستعن بالجدول 2-6 على إيجاد درجة تجمد المحلول. إذا علمت أن كلوريد الماغنسيوم مادة متأينة قوية.
100. الطبخ يقوم طبخ بتحضير محلول بإضافة 12.5 g من NaCl إلى وعاء يحوي 0.750 L من الماء. عند أي درجة حرارة يغلي المحلول في الوعاء؟ استعن بالجدول 2-6.
101. الثلجات (الآيس كريم) يستعمل خليط الملح NaCl والثلج والماء لتبريد الحليب والكريمة لصنع مثلجات (آيس كريم) منزلية. ما كمية الملح بالجرامات التي يجب إضافتها إلى الماء لتخفيض درجة التجمد 10.0°C ؟

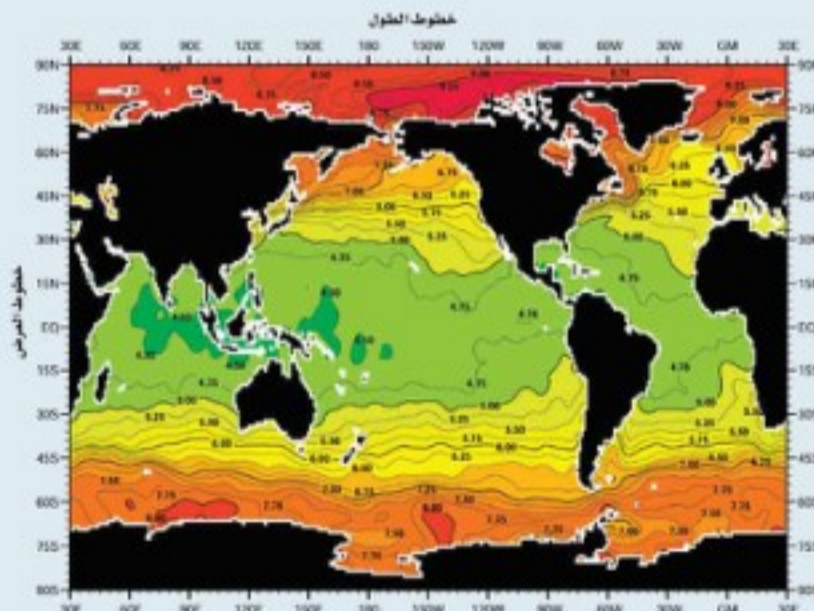
تقويم إضافي

الكتابة في الكيمياء

111. الحليب المتجانس تم بيع أول حليب متجانس Homogenized Milk في الولايات المتحدة عام 1919م. أما اليوم فكل الحليب المبيع متجانس على شكل مستحلب غروي. ابحث عن عملية التجانس Homogenization Process. اكتب مقالة مختصرة تصف فيها العملية، وتتضمن مخططاً يوضح العملية، ومناقشة المنافع والمضار المتعلقة بشرب الحليب المتجانس.

أسئلة المستندات

المتوسط السنوي من الأكسجين المذاب تبين البيانات الموجودة في الشكل 2-28 متوسط قيم الأكسجين الذائبة في مياه المحيطات بوحدة mL/L خلال شهر واحد من عام 2001م. لاحظ أن المحور الأفقي يمثل خطوط الطول، والمحور العمودي يمثل خطوط العرض.



الشكل 2-28

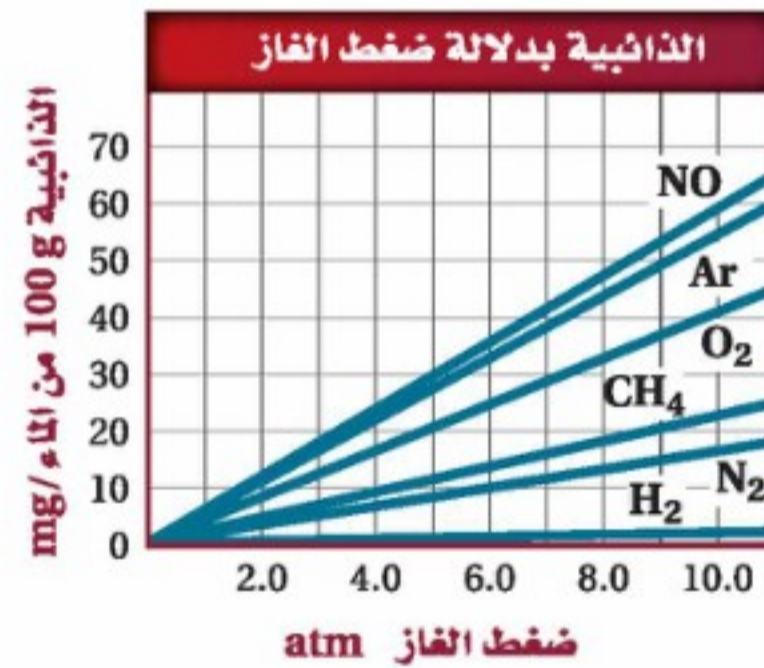
112. هل ترتبط قيم الأكسجين المذاب بشكل واضح مع خط الطول أو خط العرض؟ لماذا ترى ذلك صحيحاً؟
113. عند أي خط عرض يكون متوسط الأكسجين المذاب أقل؟
114. صف الاتجاه العام الذي توضحه البيانات، واربط ذلك مع العلاقة بين ذائبية الغاز ودرجة الحرارة.

التفكير الناقد

107. اعمل خطة لتحضير 1000 mL من محلول حمض الهيدروكلوريك المائي تركيزه 5% بالحجم. يجب أن تصف خطتك كميتي المذاب والمذيب اللازمة، والخطوات المستعملة في تحضير المحلول.

108. قارن واستخلص النتائج ادرس المخطط في الشكل 2-21، وقارن بين الخطوط المتقطعة لـ ΔT_b و ΔT_f ، وصف الاختلافات التي لاحظتها. كيف يمكن لهذه الخطوط أن توضع في أماكن مختلفة تبعاً لنوع المحاليل إذا كانت متأينة أو غير متأينة؟ ولماذا؟

109. توسع يبين الشكل 2-27 ذائبية الأرجون في الماء عند ضغوط مختلفة. استعمل قانون هنري للتحقق من الذائبية عند (15atm).



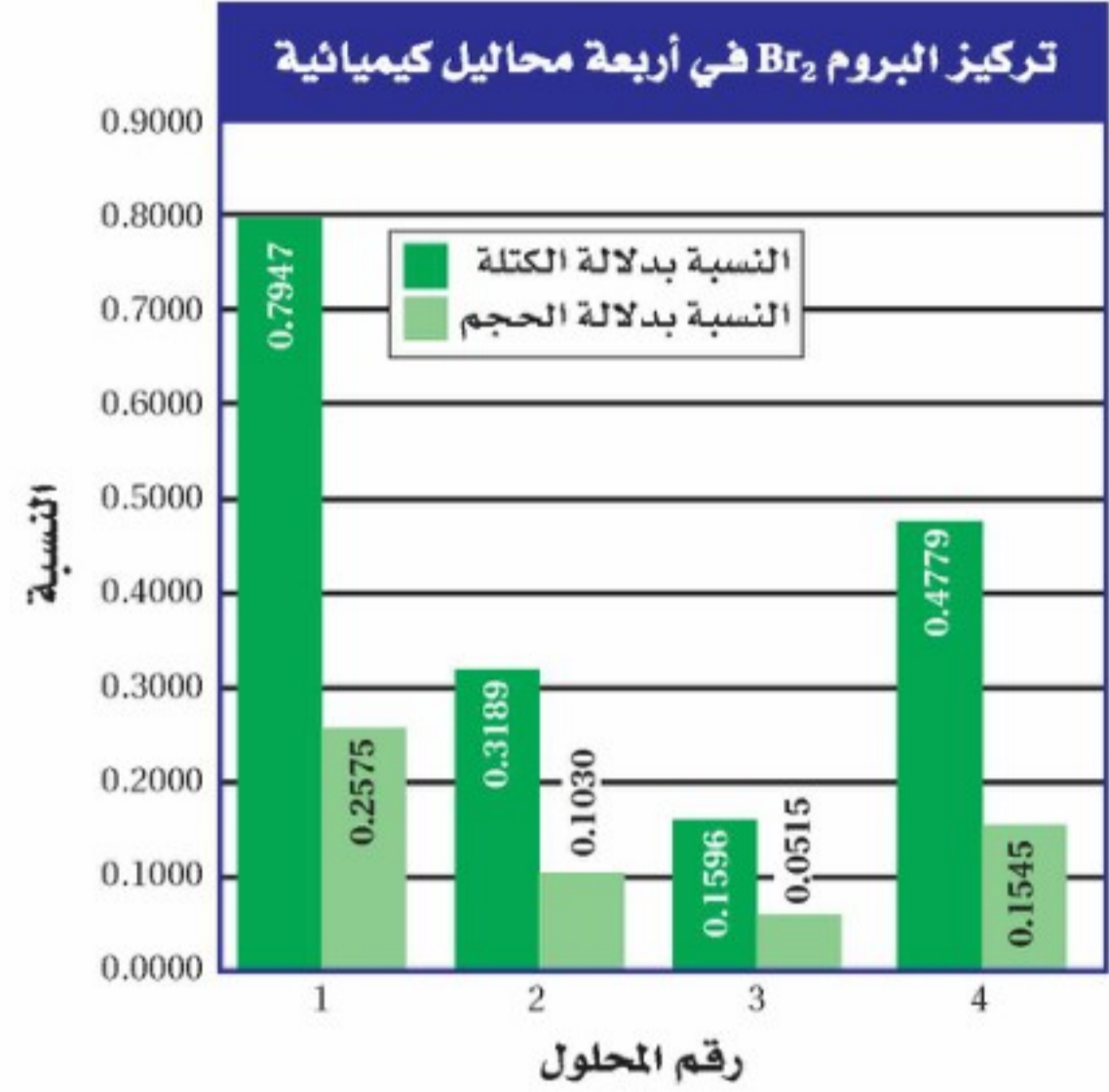
الشكل 2-27

مسألة تحفيز

110. لديك محلول يحتوي على 135.2 g من مذابة في 2.3 L من الماء. كم (mL) منه يلزم لتحضير محلول مخفف حجمه 1.5 L وتركيزه 0.1 M؟ وما درجة غليان المحلول المخفف الجديد؟

أسئلة الاختيار من متعدد

استعمل الرسم البياني الآتي للإجابة عن السؤالين 1 و2.



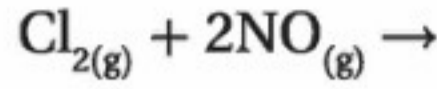
1. ما حجم البروم Br_2 الذائب في 7.00 L من المحلول 1؟

- a. 55.63 mL
- b. 8.808 mL
- c. 18.03 mL
- d. 27.18 mL

2. ما كمية البروم (بالجرام) في 55.00 g من المحلول 4؟

- a. 3.560 g
- b. 3.560 g
- c. 1.151 g
- d. 0.2628 g

3. ما نواتج التفاعل التالي؟

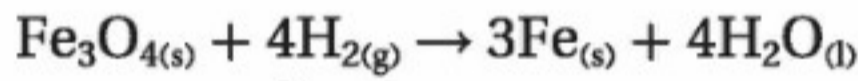


- a. NCl_2
- b. $2NOCl$
- c. N_2O_2
- d. $2ClO$

4. إذا أذيب 1 mol من كل من المواد التالية في 1 L من الماء فأياً يكون له الأثر الأكبر في الضغط البخاري لمحلولها؟

- a. KBr
- b. $C_6H_{12}O_6$
- c. $MgCl_2$
- d. $CaSO_4$

استعن بالتفاعل الآتي للإجابة عن السؤال 5.



5. إذا تفاعل 16 mol H_2 فكم مولاً من Fe ينتج؟

- a. 6
- b. 3
- c. 12
- d. 9

6. ما حجم محلول كلوريد النيكل $0.125 M NiCl_2$ الذي يحتوي على 3.25 g من $NiCl_2$ ؟

- a. 406 mL
- b. 32.5 mL
- c. 38.5 mL
- d. 201 mL

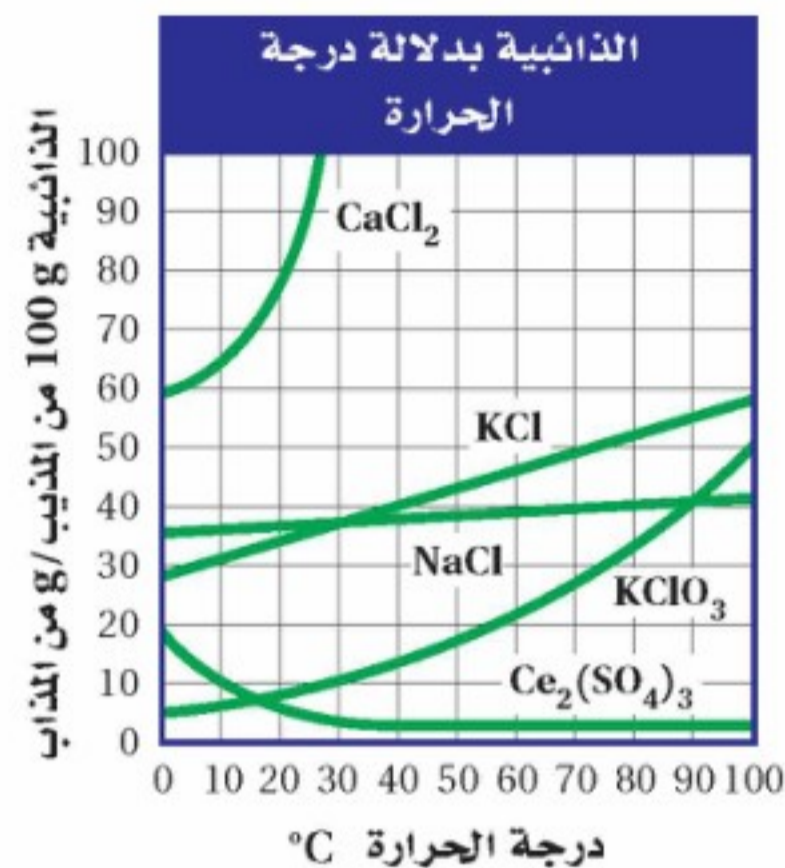
7. أي مما يأتي لا يعد خاصية جامعة؟

- a. رفع درجة الغليان.
- b. زيادة الضغط البخاري.
- c. الضغط الأسموزي.
- d. حرارة المحلول.



أسئلة الإجابات القصيرة

استعن بالرسم البياني الآتي للإجابة عن الأسئلة 8 - 10.



8. ما عدد مولات $KClO_3$ التي يمكن أن تذوب في 100 g من الماء عند درجة حرارة $60^\circ C$ ؟

9. أي محاليل الأملاح يمكنه استيعاب المزيد من المذاب عند درجة حرارة $20^\circ C$: $NaCl$ أم KCl ؟ كيف يمكن مقارنة ذلك بذائبية كل منهما عند درجة حرارة $80^\circ C$ ؟

10. ما عدد مولات $KClO_3$ اللازمة لتحضير محلول مائي حجمه 1.0 L عند درجة حرارة $75^\circ C$ ؟

أسئلة الإجابات المفتوحة

11. إذا أعطيت عينة من مذاب صلب وثلاثة محاليل مائية تحتوي على ذلك المذاب، فكيف يمكنك تحديد أي المحاليل مشبع، وأيها غير مشبع، وأيها فوق مشبع؟

الفكرة (العامّة) يمكن تعريف الأحماض والقواعد باستعمال مفردات، منها: أيونات الهيدروجين، أيونات الهيدروكسيد، أزواج الإلكترونات.

3-1 مقدمة في الأحماض والقواعد

الفكرة الرئيسية تساعد النظريات المختلفة على وصف سلوك الأحماض والقواعد.

3-2 قوة الأحماض والقواعد

الفكرة الرئيسية تتأين الأحماض والقواعد القوية في المحاليل تأيّنًا تامًا، بينما تتأين الأحماض والقواعد الضعيفة في المحاليل تأيّنًا جزئيًا.

3-3 أيونات الهيدروجين والرقم

الهيدروجيني

الفكرة الرئيسية يعبر كل من pH و pOH عن تركيز أيونات الهيدروجين وأيونات الهيدروكسيد في المحاليل المائية.

3-4 التعادل

الفكرة الرئيسية يتفاعل الحمض مع القاعدة في تفاعل التعادل لينتج ملحًا وماء.

حقائق كيميائية

- تعد $\text{pH} = 8.2$ قيمة مقبولة عمومًا للأحياء المائية، إلا أن المحافظة على هذه القيمة في حوض السمك لا يضمن استمرار نمو المخلوقات التي تعيش فيه بصورة طبيعية.
- تستطيع القشريات التي تعيش في المياه العذبة في أمريكا الجنوبية، العيش في مياه لها رقم هيدروجيني pH بين 6.4 و 7.0، في حين تعيش القشريات الإفريقية في مياه pH لها بين 8.0 و 9.2.

قياس الرقم الهيدروجيني



تقويم النتائج



نشاطات تمهيدية

الأحماض والقواعد
اعمل المطوية الآتية
لتساعدك على المقارنة بين
النظريات الرئيسة للأحماض
والقواعد.

المطويات

منظّمات الأفكار



الخطوة 1 أحضر ثلاث أوراق، واطو كلاً منها عرضياً من المنتصف. وارسم خطاً على بُعد 3 cm تقريباً من الطرف الأيسر. قص الورقة على طول هذا الخط حتى تصل إلى الشية. كرر ذلك مع الورقتين الأخرين.

نظرية
أرهينيوس

الخطوة 2 عنون كل ورقة باسم نظرية من نظريات تعريف الأحماض والقواعد.

نظرية
أرهينيوس

الخطوة 3 ثبت الأوراق الثلاث معاً على طول حافاتها الخارجية.

المطويات استعمل هذه المطوية في القسم 1-3، وسجل ملاحظاتك المتعلقة بنظريات الأحماض والقواعد في أثناء قراءة هذا القسم، ثم اكتب تفاعلات عامة تمثل كل نظرية.

تجربة استهلاكية

ماذا يوجد في خزانك؟

يمكنك أن تتعلم شيئاً حول خواص المنظفات، والمنتجات التي تستعملها في منزلك، وذلك باختبارها بأشرطة تباع الشمس. هل تستطيع تصنيف تلك المنتجات في مجموعتين؟



خطوات العمل

1. املأ بطاقة السلامة في دليل التجارب العملية.
 2. ضع ثلاث إلى أربع قطرات من منتجات مختلفة في فجوات طبق التفاعلات البلاستيكي أو يمكنك استخدام أنابيب الاختبار بدلاً من ذلك. وارسم جدولاً يبين موضع كل منها.
 3. اختبر كل منتج بورق تباع الشمس الأزرق والأحمر. أضف قطرتين من الفينولفثالين إلى كل عينة. ثم سجل ملاحظاتك.
- تحذير: الفينولفثالين قابل للاشتعال. لذا أبعد عن اللهب.

التحليل

1. صنّف المواد في مجموعتين، بناءً على مشاهداتك.
 2. صف كيف تختلف المجموعتان؟ وماذا يمكنك أن تستنتج؟
- استقصاء** اختر عينة واحدة تفاعلت مع الفينولفثالين. هل تستطيع جعل هذا التفاعل يسير بالاتجاه العكسي؟ صمم تجربة لاختبار فرضيتك.



3-1

الأهداف

- تحديد الخواص الفيزيائية والكيميائية للأحماض والقواعد.
- تصنيف المحاليل إلى حمضية، أو قاعدية، أو متعادلة.
- تقارن بين نظريات أرهينيوس، وبرونستد - لوري، ولويس للأحماض والقواعد.

مراجعة المفردات

تركيب لويس نموذج يستعمل التمثيل النقطي للإلكترونات؛ ليعين كيفية ترتيب الإلكترونات في الجزيئات.

المفردات الجديدة

- المحلول الحمضي
- المحلول القاعدي
- نظرية أرهينيوس
- نظرية برونستد - لوري
- الحمض المرافق (المقترن)
- القاعدة المرافقة (المقترنة)
- الأزواج المترافقة
- مواد مترددة (أمفوتيرية)
- نظرية لويس

مقدمة في الأحماض والقواعد

Introduction to Acids and Bases

الفكرة الرئيسية تساعد النظريات المختلفة على وصف سلوك الأحماض والقواعد. **الربط مع الحياة** إن التصنيف الأكثر شيوعاً للمواد هو تصنيفها إلى أحماض وقواعد. ويمكن تمييز الأحماض من الطعم اللاذع لبعض المشروبات المفضلة لديك، أو الرائحة الحادة لبعض القواعد مثل الأمونيا في بعض المنظفات المنزلية.

خواص الأحماض والقواعد Properties of Acids and Bases

يطلق النمل حمض الميثانويك (الفورميك) عندما يشعر بخطر يهدد مستعمرته، فينبه أفراد المستعمرة كلها. أما الأحماض المذابة في ماء المطر فتؤدي إلى تكوين كهوف كبيرة في الصخور الجيرية، وتؤدي أيضاً إلى تلف الأبنية والمواقع الأثرية القيّمة مع مرور الزمن. وتستعمل الأحماض في إضافة نكهة إلى الكثير من المشروبات والأطعمة التي تتناولها. وهناك أيضاً حمض في المعدة يساعد على هضم الطعام. كذلك تلعب القواعد دوراً في حياتك؛ فالصابون الذي تستعمله والأقراص المضادة للحموضة التي قد تتناولها عند اضطراب المعدة كلها تعتبر من القواعد. كما أن الكثير من المواد المنزلية - كالتبييض - استعملت في التجربة الاستهلاكية - أحماض أو قواعد. **الخواص الفيزيائية** قد تكون بعض الخواص الفيزيائية للأحماض والقواعد مألوفة، فأنت تعلم مثلاً أن المحاليل الحمضية طعمها لاذع، ومنها العديد من المشروبات الغازية التي تمتاز بهذا الطعم اللاذع بسبب احتوائها على حمض الكربونيك H_2CO_3 والفوسفوريك H_3PO_4 ؛ ومنها الليمون والجريب فروت لاحتوائهما على حمض الستريك والأسكوربيك؛ كما أن حمض الخل يجعل طعم الخل لاذعاً. وربما تعلم أن المحاليل القاعدية طعمها مرّ، ولها ملمس زلق. فكّر كيف تصبح قطعة الصابون زلقة عندما تبتل. لا تحاول أبداً تعرّف أي حمض أو قاعدة أو أي مادة أخرى في المختبر عبر تذوقها أو لمسها.

يبين الشكل 3-1 نبتتين تنموان في تربتين مختلفتين، فإحدهما تنمو في تربة حمضية، والأخرى تنمو في تربة قاعدية (قلوية).



(2)



(1)

الشكل 3-1 تنمو نبتة الأثل (1) بكثرة

في المملكة العربية السعودية وتمتاز بتحملها للأراضي القلوية والمالحة.

تكثر زراعة الزيتون (2) في منطقة الجوف بالمملكة العربية السعودية وتمتاز شجرة الزيتون بتحملها لدرجات الحرارة العالية والقدرة على العيش في تربة حامضة





تحول القواعد ورق تباع الشمس الأحمر إلى أزرق

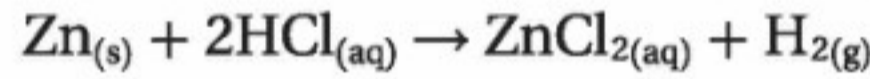


تحول الأحماض ورق تباع الشمس الأزرق إلى أحمر

الشكل 2-3 يستعمل حمض الهيدروكلوريك HCl - وهو حمض قوي - في تنظيف السيراميك. كما يساعد هيدروكسيد الصوديوم NaOH - وهو قاعدة قوية - على تسليك المصارف المسدودة.

التوصيل الكهربائي ومن الخواص الأخرى للمحاليل الحمضية والقاعدية مقدرتها على توصيل الكهرباء بسبب تأينها. فالماء النقي غير موصل للكهرباء، إلا أن إضافة حمض أو قاعدة إليه تنتج أيونات تجعل المحلول الناتج موصلًا للكهرباء.

الخواص الكيميائية يمكن تعرف الأحماض والقواعد من خلال تفاعلها مع ورق تباع الشمس. ويمكن تعرف الأحماض أيضًا من خلال تفاعلاتها مع بعض الفلزات وكربونات الفلزات. **التفاعلات مع ورق تباع الشمس** يعد تباع الشمس نوعًا من الأصباغ المستعملة عادة في التمييز بين محاليل الأحماض والقواعد، كما في الشكل 2-3؛ إذ تحول محاليل الأحماض لون ورق تباع الشمس الأزرق إلى الأحمر، وتحول محاليل القواعد لون ورق تباع الشمس الأحمر إلى الأزرق. **التفاعلات مع الفلزات وكربونات الفلزات** يتفاعل كل من الماغنسيوم والخاصين مع محاليل الأحماض، فينتج عن هذا التفاعل غاز الهيدروجين. وتصف المعادلة الآتية التفاعل بين الخاصين وحمض الهيدروكلوريك:



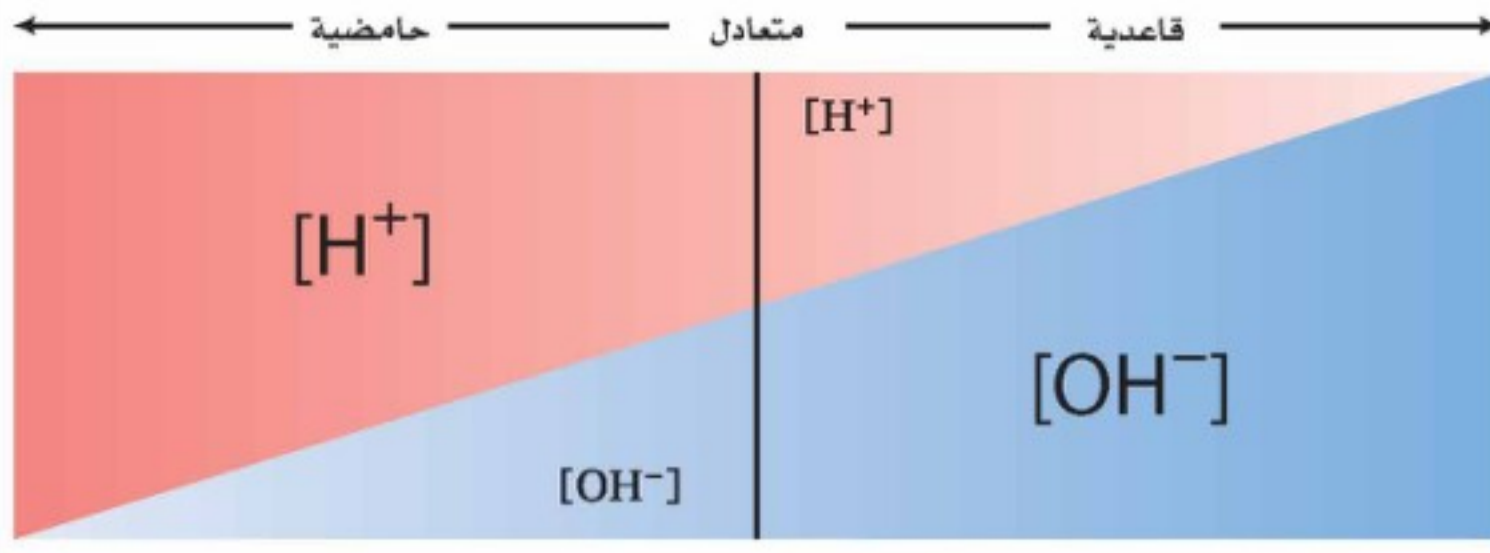
وتتفاعل كربونات الفلزات CO_3^{2-} وكربونات الفلزات الهيدروجينية HCO_3^- أيضًا مع محاليل الأحماض منتجة غاز ثاني أكسيد الكربون CO_2 . فعند إضافة الخل إلى صودا الخبز يحدث تفاعل بين حمض الإيثانويك (الخل CH_3COOH) وكربونات الصوديوم الهيدروجينية NaHCO_3 ، وينتج غاز CO_2 الذي يسبب ظهور الفقاعات.



يستعمل الجيولوجيون محلول حمض الهيدروكلوريك لتعرف الصخر الجيري (الذي يتكون بشكل رئيس من CaCO_3)، فإذا أدت بضع قطرات من الحمض إلى إنتاج فقاعات ثاني أكسيد الكربون دل ذلك على أن الصخر يحتوي على مادة الجير.

مسائل تدريبية

1. اكتب معادلات كيميائية رمزية متوازنة للتفاعلات بين:
 - a. الألومنيوم وحمض الكبريتيك.
 - b. كربونات الكالسيوم وحمض الهيدروبروميك.
2. تحفيز اكتب المعادلة الأيونية النهائية للتفاعل في السؤال 1b.

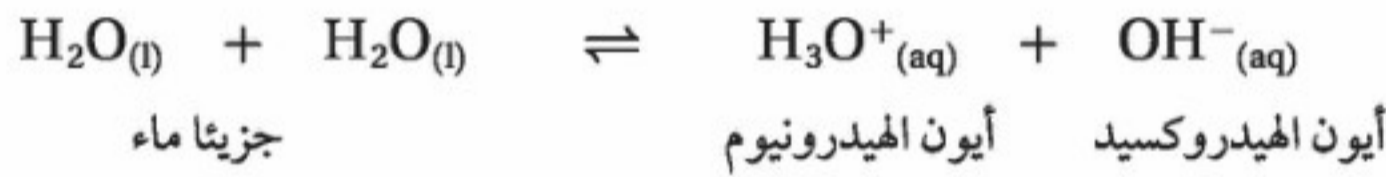


الشكل 3-3 لاحظ كيف يتغير كل من $[H^+]$ و $[OH^-]$ في وقت واحد. فعندما يقل $[H^+]$ إلى جهة اليمين تزداد قيمة $[OH^-]$ إلى اليسار. حدد على الرسم النقطة التي يكون عندها تركيزا الأيونين متساويين.

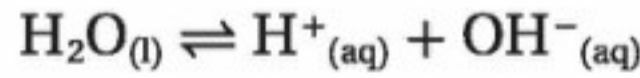
أيونات الهيدرونيوم والهيدروكسيد تحتوي المحاليل المائية جميعها على أيونات الهيدروجين H^+ وأيونات الهيدروكسيد OH^- . وتحدد الكميات النسبية من الأيونين ما إذا كان المحلول حمضياً أو قاعدياً أو متعادلاً. والمحاليل المتعادلة ليست حمضية ولا قاعدية.

يحتوي **المحلول الحمضي** على أيونات هيدروجين أكثر من أيونات الهيدروكسيد. في حين يحتوي **المحلول القاعدي** على أيونات هيدروكسيد أكثر من أيونات الهيدروجين. أما المحلول المتعادل فيحتوي على تركيزين متساويين من أيونات الهيدروجين وأيونات الهيدروكسيد. ويمثل الشكل 3-3 هذه العلاقات، في حين يمثل الشكل 3-4 كيف طوّر العلماء فهمهم للأحماض والقواعد.

ينتج الماء النقي أعداداً متساوية من أيونات H^+ وأيونات OH^- في عملية تسمى التأيين الذاتي؛ إذ تتفاعل جزيئات الماء منتجة أيونات الهيدرونيوم H_3O^+ ، وأيونات الهيدروكسيد.



أيون الهيدرونيوم عبارة عن أيون هيدروجين مرتبط مع جزيء ماء برابطة تساهمية. ويمكن استعمال الرمز H^+ و H_3O^+ بالتبادل، أي وضع أحدهما مكان الآخر، كما تبين المعادلة المبسطة للتأيين الذاتي:



الشكل 3-4 تاريخ الأحماض والقواعد

يرتكز الفهم الحالي للأحماض والقواعد على مساهمات علماء الكيمياء والأحياء والبيئة، وكذلك على المخترعين خلال 150 سنة مضت.

1909م ساعد تطوير تدريج pH العلماء على تعريف حمضية المادة.

1869م اكتشفت الأحماض النووية مثل: DNA و RNA في نوى الخلايا.

1910

1890

1870

1923م توسع العلماء في تعريف الأحماض والقواعد، وقدموا التعاريف المستعملة حالياً.

1883م افترض أرهينيوس أن الأحماض تنتج أيونات الهيدروجين H^+ ، في حين تنتج القواعد أيونات الهيدروكسيد OH^- عند إذابتها في الماء.

1865م إدخال الرذاذ المعقم الذي يحتوي على حمض الكربوليك (الفينول) C_6H_5OH للمرة الأولى والذي يعد بداية الجراحة الحديثة في أجواء معقمة.





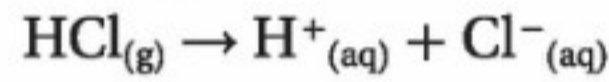
الشكل 3-5 تعد بحيرة ناترون في تنزانيا تجمعا طبيعيا للمياه القاعدية. حيث تصب المياه في البحيرة حاملة معها كميات كبيرة من كربونات الصوديوم الذائبة من الصخور البركانية المحيطة دون أن تجد لها مخرجًا. ويزيد التبخر من تركيز هذا الملح، مخلفًا قشرة بيضاء على السطح، وجاعلاً المياه عالية القاعدية.

المطويات أدخل معلومات من هذا القسم في مطويتك.

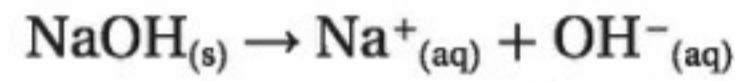
نظرية أرهينيوس The Arrhenius Theory

إذا كان الماء النقي متعادلاً فكيف يصبح المحلول المائي حمضياً أو قاعدياً؟ كان أول شخص يجيب عن هذا التساؤل الكيميائي السويدي سفانت أرهينيوس الذي اقترح عام 1883م ما يعرف الآن باسم **نظرية أرهينيوس** للأحماض والقواعد، التي تنص على أن الحمض مادة تحتوي على الهيدروجين، وتتأين في المحاليل المائية منتجة أيونات الهيدروجين. والقاعدة مادة تحتوي على مجموعة الهيدروكسيد، وتتفكك في المحلول المائي منتجة أيون الهيدروكسيد.

أحماض وقواعد أرهينيوس تأمل ما يحدث عند إذابة غاز كلوريد الهيدروجين في الماء بوصفه مثالاً على نظرية أرهينيوس للأحماض والقواعد؛ إذ تتأين جزيئات HCl مكونة أيونات H^+ التي تجعل المحلول حمضياً.



وعندما يذوب المركب الأيوني هيدروكسيد الصوديوم NaOH في الماء فإنه يتحلل لينتج أيونات OH^- التي تجعل المحلول قاعدياً.



وعلى الرغم من أن نظرية أرهينيوس تفسر الكثير من المحاليل الحمضية والقاعدية، إلا أنها لا تخلو من بعض السلبيات؛ فمثلاً لا تحتوي الأمونيا NH_3 وكربونات الصوديوم Na_2CO_3 على مجموعة الهيدروكسيد، إلا أن كلاهما ينتج أيونات الهيدروكسيد عند إذابته في الماء. وتعد كربونات الصوديوم المركب المسؤول عن جعل بحيرة ناترون في تنزانيا ذات وسط قاعدي، كما هو مبين في الشكل 3-5. لذا من الواضح أننا بحاجة إلى نظرية أكثر دقة تشمل القواعد جميعها.

1980 - 1990م لا تحتوي

مقاييس pH التي تشمل على رقائق السليكون أجزاء زجاجية، وهي شائعة الاستعمال الآن في الصناعات الغذائية والتجميلية والدوائية.

1933 - 1934م طور

العلماء مقياس pH المحمول.



2005م طور العلماء الأحماض المطورة، وهي أكثر

حمضية من حمض الكبريتيك الذي تركيزه 100%. وتشمل تطبيقات هذه الأحماض إنتاج بلاستيك قوي وبنزين عالي الأوكتان.

2010

1990

1970

1950

1963م اكتشف العلماء المطر

الحمضي في أمريكا الشمالية؛ فقد بينت الدراسات أن المطر الملوث أكثر حمضية مئة مرة من المطر غير الملوث.

1953م درس جايمس

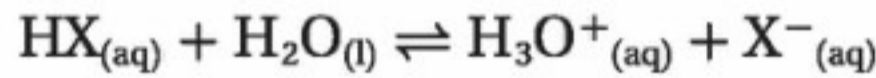
واطسون، وفرانيس كريك، وروزالند فرانكلين الحمض النووي DNA، واضعين بذلك إطاراً للصناعة التكنولوجية الحيوية.



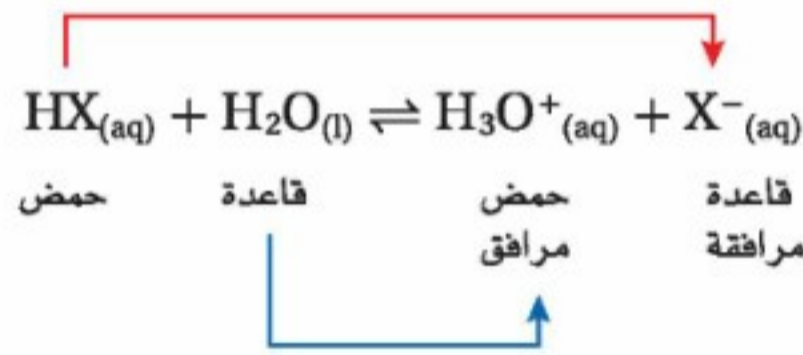
نظرية برونستد - لوري The Bronsted-Lowry Theory

اقترح الكيميائي الدنماركي يوهان برونستد والكيميائي الإنجليزي توماس لوري نظريةً أشمل للأحماض والقواعد؛ حيث تركز على أيون الهيدروجين H^+ . ففي نظرية برونستد - لوري للأحماض والقواعد يكون الحمض هو المادة المانحة لأيون الهيدروجين، في حين تكون القاعدة هي المادة المستقبلة لهذا الأيون.

المواد المانحة لأيون الهيدروجين والمواد المستقبلة له إذا افترضنا أن الرمز X و Y يمثلان عنصرين غير فلزيين أو أيونات سالبة متعددة الذرات فإننا نستطيع كتابة الصيغة العامة للحمض في صورة HX أو HY . وعندما يذوب جزيء من حمض HX في الماء يعطى أيون H^+ لجزيء ماء، فيسلك جزيء الماء سلوك القاعدة، ويكتسب أيون H^+ ، كما في المعادلة الآتية:



وعند اكتساب جزيء الماء أيون H^+ يصبح حمضاً، فتصبح صيغته H_3O^+ ، الذي يسمى أيون الهيدرونيوم، ويعدّ حمضاً؛ لأن لديه أيون H^+ إضافياً يستطيع أن يمنحه. وعندما يمنح الحمض HX أيون H^+ يصبح مادة قاعدية X^- ؛ لأن لديه شحنة سالبة، ويستطيع أن يستقبل أيون هيدروجين موجباً. وهكذا يمكن أن يحدث تفاعل بين حمض وقاعدة في الاتجاه المعاكس. ويستطيع الحمض H_3O^+ أن يتفاعل مع القاعدة X^- مكوناً ماء و HX ، فيحدث الاتزان الآتي:



الأحماض والقواعد المرافقة يعدّ التفاعل الأمامي في التفاعل السابق تفاعل حمض مع قاعدة. والتفاعل العكسي لحمض وقاعدة أيضاً. ويعرف الحمض والقاعدة اللذان يتفاعلان في الاتجاه العكسي بأنهما حمض مرافق مع قاعدة مرافقة. فالحمض المرافق (المقترن) هو المركب الكيميائي الذي ينتج عندما تستقبل القاعدة أيون الهيدروجين. فالقاعدة H_2O تستقبل أيون الهيدروجين من الحمض HX ، فيكون الحمض المرافق H_3O^+ . أما القاعدة المرافقة (المقترنة) فهي المركب الكيميائي الذي ينتج عندما يمنح الحمض أيون الهيدروجين. فعندما يمنح الحمض HX أيون الهيدروجين يصبح القاعدة المرافقة X^- . وفي التفاعل المبين أعلاه يمثل أيون الهيدرونيوم H_3O^+ الحمض المرافق للقاعدة H_2O ، ويمثل أيون X^- القاعدة المرافقة للحمض HX . وتتكون تفاعلات برونستد - لوري من أزواج مترافقة من الحمض والقاعدة؛ أي من مادتين ترتبطان معاً عن طريق منح واستقبال أيون هيدروجين واحد. بين الشكل 3-6 تمثيلاً لزواج مترافق من حمض وقاعدة. فعندما تكون الكرة في يد الأب فإنه يمثل الحمض، وعندما يرمي الكرة (أيون هيدروجين) إلى ابنه يصبح ابنه هو الحمض؛ لأن لديه الكرة أي (أيون هيدروجين) يستطيع أن يهبه. ويصبح الأب هو القاعدة لأنه مستعد لاستقبال الكرة أي (أيون هيدروجين). الأب يمثل الحمض والابن هو القاعدة في التفاعل الأمامي. أما في التفاعل العكسي فيكون الابن هو الحمض المرافق؛ لأن لديه الكرة، في حين يكون الأب هو القاعدة المرافقة.



الشكل 3-6 يمثل الأب عندما يرمي الكرة إلى ابنه حمض برونستد - لوري ويمثل الابن قاعدته. وعندما يمسك الابن الكرة فإنه يمثل الحمض المرافق.

✓ **ماذا قرأت؟** اشرح كيف يمكن أن يكون أيون HCO_3^- حمضاً وقاعدة في آن واحد.



الشكل 3-7 يمنح فلوريد الهيدروجين أيون هيدروجين لجزء الماء، لذا يُعد فلوريد الهيدروجين حمضاً. **حدّد القاعدة المرافقة لفلوريد الهيدروجين.**

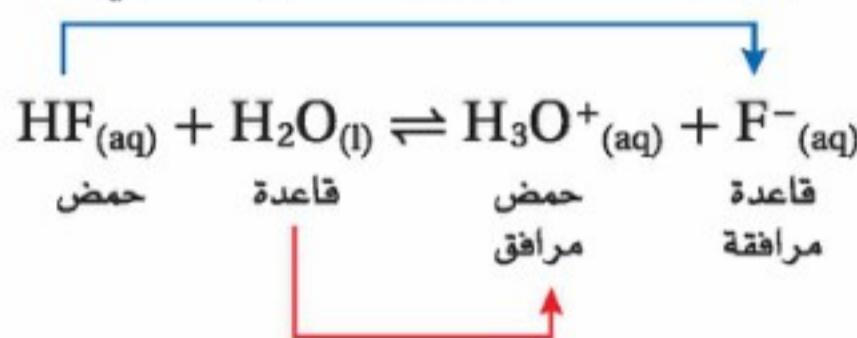
المفردات

أصل الكلمة

مترافق Conjugate

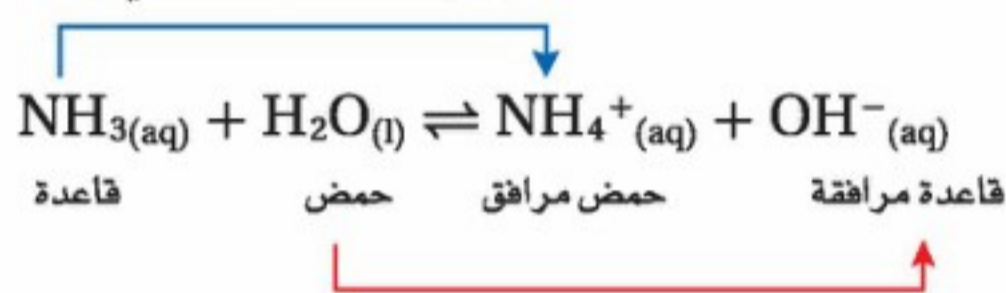
معنى كلمة Conjugate مترافق في اللغة العربية مترافق، وقد أخذت هذه الكلمة من اللغة اللاتينية، وهي تعني: -Con بادئة بمعنى مع أو معاً. jugate فعل بمعنى يتصل أو يتحد.

فلوريد الهيدروجين - حمض برونستد - لوري تأمل معادلة تأين فلوريد الهيدروجين HF في الماء، المبيّنة في الشكل 3-7. أيّ الزوجين هو الحمض، وأيها هو القاعدة المرافقة؟ ينتج الحمض في التفاعل الأمامي - وهو في هذه الحالة فلوريد الهيدروجين - قاعدته المرافقة F⁻، وتعد أيضاً القاعدة في التفاعل العكسي. بينما تنتج القاعدة في التفاعل الأمامي - وهو في هذه الحالة الماء - حمضها المرافق H₃O⁺، وهو أيضاً الحمض في التفاعل العكسي.



يستعمل فلوريد الهيدروجين في صنع مركبات متنوعة تحتوي على الفلور، مثل الطبقة المغلفة لأدوات الطبخ غير اللاصقة، والمبيّنة في الشكل 3-8. ويعد حمضاً وفق نظريتي أرهينيوس وبرونستد - لوري.

الأمونيا - قاعدة برونستد - لوري معظم الأحماض والقواعد التي تتفق مع تعريف أرهينيوس للأحماض والقواعد تتفق أيضاً مع تعريف برونستد - لوري. ولكن بعض المواد الأخرى التي لا توجد فيها مجموعة الهيدروكسيد لا يمكن أن تُعدّ من القواعد بحسب تعريف أرهينيوس، ولكنها تصنف قواعداً بحسب نظرية برونستد - لوري. ومن ذلك الأمونيا NH₃. فعندما تذوب الأمونيا في الماء يكون الماء حمضاً بحسب تعريف برونستد - لوري في التفاعل الأمامي. ولأن جزيء الأمونيا NH₃ يستقبل أيون H⁺ ليكون أيون الأمونيوم NH₄⁺ فإن الأمونيا تُصنّف قاعدة برونستد - لوري في التفاعل الأمامي.



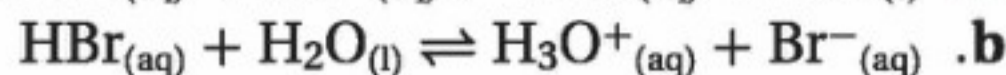
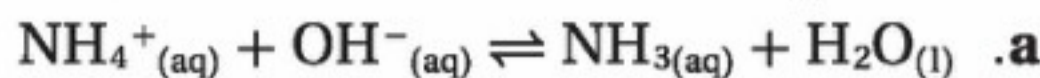
أما في التفاعل العكسي فيعطي أيون الأمونيوم NH₄⁺ أيون H⁺ ليكون جزيء أمونيا. وهكذا يعمل عمل حمض، بحسب برونستد - لوري. ويكون بذلك أيون الأمونيوم هو الحمض المرافق للقاعدة (الأمونيا). ويتقبل أيون الهيدروكسيد أيون H⁺ ليكون جزيء ماء. وهكذا يكون قاعدة بحسب برونستد - لوري. لذا يكون أيون الهيدروكسيد هو القاعدة المرافقة للحمض والماء.

الماء - حمض وقاعدة برونستد - لوري تذكر أنه عندما يذوب HF في الماء فإن الماء يسلك سلوك القاعدة؛ وعندما تذوب الأمونيا NH₃ في الماء، فإن الماء يسلك سلوك الحمض. لذا يسلك الماء سلوك الحمض أو القاعدة بحسب طبيعة المواد المذابة في المحلول. ويُسمى الماء والمواد الأخرى التي تستطيع أن تسلك سلوك الأحماض والقواعد مواد **مترددة (أمفوتيرية) Amphoteric**.



الشكل 3-8 يتفاعل فلوريد الهيدروجين مع مركبات عضوية تسمى الهيدروكربونات لصنع السطح الناعم غير اللاصق لهذه الأدوات المنزلية، حيث تحل ذرات الفلور محل ذرات الهيدروجين.

3. حدّد الأزواج المترافقة من الحمض والقاعدة في كل تفاعل مما يلي:

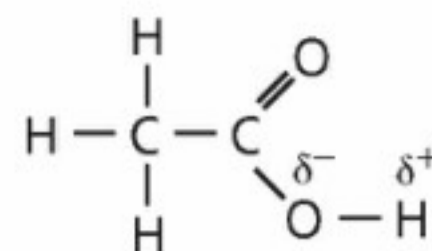


4. تحفيز إذا علمت أن نواتج تفاعل حمض مع قاعدة هي H_3O^+ و SO_4^{2-} . اكتب معادلة موزونة للتفاعل، وحدّد الأزواج المترافقة من الحمض والقاعدة.

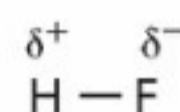
الأحماض الأحادية البروتون والمتعددة البروتونات Monoprotic and Polyprotic Acids

تستطيع أن تعرف أن كلاً من HCl و HF حمض يحتوي على أيون هيدروجين واحد في كل جزيء، بناءً على معرفتك للصيغة الكيميائية لكل منهما. فالحمض الذي يستطيع أن يمنح أيون هيدروجين واحداً فقط يُسمى حمضاً أحادي البروتون. ومن الأحماض الأحادية البروتون حمض البيروكلوريك HClO_4 ، وحمض النيتريك HNO_3 ، وحمض الهيدروبروميك HBr ، وحمض الإيثانويك CH_3COOH . ولأن حمض الإيثانويك أحادي البروتون لذا تكتب صيغته غالباً في صورة CH_3COOH لتأكيد حقيقة أن ذرة هيدروجين واحدة فقط من الذرات الأربع قابلة للتأين.

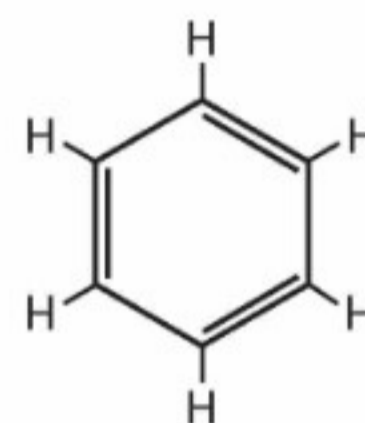
ذرات الهيدروجين القابلة للتأين الفرق بين ذرة الهيدروجين القابلة للتأين في حمض الإيثانويك وذرات الهيدروجين الثلاث الأخرى هو أن الذرة القابلة للتأين مرتبطة مع عنصر الأكسجين الأكثر كهروسالبية من الهيدروجين. والفرق في الكهروسالبية يجعل الرابطة بين الأكسجين والهيدروجين قطبية. ويبين الشكل 9-3 تركيب حمض الإيثانويك، مع تركيب حمض HF وتركيب البنزين C_6H_6 غير الحمضي. فترتبط ذرة الهيدروجين في مركب فلوريد الهيدروجين مع ذرة الفلور العالية الكهروسالبية، لذا فالرابطة بينهما قطبية، وتصبح ذرة الهيدروجين قابلة للتأين إلى حد ما. أما ذرات الهيدروجين في البنزين فكل منها مرتبط مع ذرة كربون ذات كهروسالبية تساوي تقريباً كهروسالبية الهيدروجين. فتكون هذه الروابط غير قطبية، لذا يكون البنزين غير حمضي. وقد تمنح بعض الأحماض أكثر من أيون هيدروجين. فمثلاً يستطيع كل من حمض الكبريتيك H_2SO_4 وحمض الكربونيك H_2CO_3 أن يمنح أيون هيدروجين؛ فكلاهما يحتوي على ذرتي هيدروجين مرتبطتين مع ذرتي أكسجين بروابط قطبية. والأحماض التي تحتوي على ذرتي هيدروجين قابلتين للتأين في كل جزيء تُسمى أحماضاً ثنائية البروتونات. ويحتوي كل من حمضي الفوسفوريك H_3PO_4 والبوريك H_3BO_3 على ثلاث ذرات هيدروجين قابلة للتأين في كل جزيء، وتُسمى أحماضاً ثلاثية البروتونات. ويمكن استعمال مصطلح حمض متعدد البروتونات لأي حمض يحتوي على أكثر من ذرة هيدروجين قابلة للتأين.



حمض الإيثانويك



فلوريد الهيدروجين



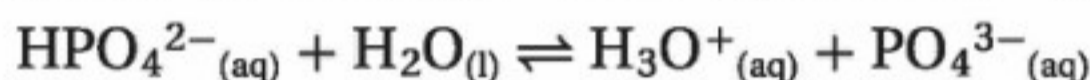
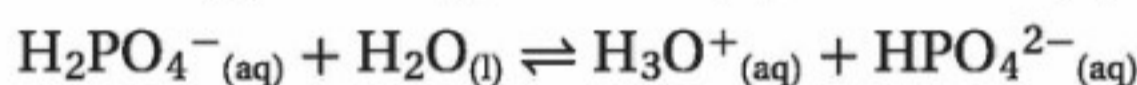
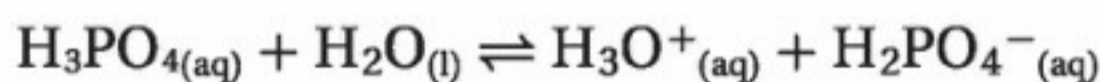
بنزين

الشكل 9-3 تعتمد قدرة الهيدروجين على التأين على قطبية رابطة. ففي حمض الإيثانويك يكون الأكسجين أكثر كهروسالبية من الهيدروجين، لذا تكون الرابطة بين الأكسجين والهيدروجين قطبية. ولذلك تستطيع ذرة الهيدروجين أن تتأين في المحلول. كذلك في فلوريد الهيدروجين يعد الفلور عالي الكهروسالبية، لذا يكون HF حمضاً في المحلول، بينما في البنزين هناك فرق قليل في الكهروسالبية بين ذرات الكربون والهيدروجين، لذا فالبنزين ليس حمضاً.

القاعدة المرافقة		الحمض	
الصيغة الكيميائية	الاسم	الصيغة الكيميائية	الاسم
Cl ⁻	أيون الكلوريد	HCl	حمض الهيدروكلوريك
NO ₃ ⁻	أيون النترات	HNO ₃	حمض النيتريك
HSO ₄ ⁻	أيون الكبريتات الهيدروجينية	H ₂ SO ₄	حمض الكبريتيك
SO ₄ ²⁻	أيون الكبريتات	HSO ₄ ⁻	أيون الكبريتات الهيدروجينية
F ⁻	أيون الفلوريد	HF	حمض الهيدروفلوريك
CN ⁻	أيون السيانيد	HCN	حمض الهيدروسيانيك
CH ₃ COO ⁻	أيون الإيثانوات	CH ₃ COOH	حمض الإيثانويك
H ₂ PO ₄ ⁻	أيون ثنائي هيدروفوسفات	H ₃ PO ₄	حمض الفوسفوريك
HPO ₄ ²⁻	أيون الهيدروفوسفات	H ₂ PO ₄ ⁻	أيون ثنائي هيدروفوسفات
PO ₄ ³⁻	أيون الفوسفات	HPO ₄ ²⁻	أيون الهيدروفوسفات
HCO ₃ ⁻	أيون الكربونات الهيدروجينية	H ₂ CO ₃	حمض الكربونيك
CO ₃ ²⁻	أيون الكربونات	HCO ₃ ⁻	أيون الكربونات الهيدروجينية

يبين الجدول 3-1 بعض الأحماض الأحادية والمتعددة البروتونات.

تتأين الأحماض المتعددة البروتونات جميعها في أكثر من خطوة. فخطوات تأين حمض الفوسفوريك الثلاث مبينة في المعادلات الآتية:



نظرية لويس The Lewis Theory

لاحظ أن جميع المواد المصنفة أحماضًا وقواعد بحسب نظرية أرهينيوس تُصنف أيضًا أحماضًا وقواعد بحسب نظرية برونستد - لوري. وبالإضافة إلى ذلك، فإن بعض المواد غير المصنفة بأنها قواعد بحسب نظرية أرهينيوس تُصنف قواعد بحسب نظرية برونستد - لوري.

إذن قد لا تدهش إذا علمت أن نظرية أخرى أكثر شمولية للأحماض والقواعد اقترحتها الكيميائي لويس (1875 - 1946م) الذي طوّر أيضًا نظرية زوج الإلكترونات للترابط الكيميائي، وقدم تراكيب لويس التي تبين مواقع الإلكترونات في الذرات والجزيئات. وقد طبّق نظريته على تفاعلات الأحماض والقواعد. واقترح أن الحمض أيون أو جزيء فيه مدار ذري فارغ يستطيع أن يتقبل (يشارك) زوجًا من الإلكترونات. وأن القاعدة أيون أو جزيء له زوج إلكترونات حر (غير مرتبط) يستطيع أن يمنحه أو يشارك فيه. وبحسب نظرية لويس فإن حمض لويس مادة مستقبلية لزوج من الإلكترونات، وقاعدة لويس مادة مانحة لزوج من الإلكترونات. لاحظ أن نظرية لويس تشمل جميع المواد المصنفة أحماضًا وقواعد بحسب برونستد - لوري وغيرها كثير أيضًا.

المطويات

أدخل معلومات من هذا القسم في مطويتك.

المفردات

المفردات الأكاديمية

يتطابق Conform

تعني: يشابه أو يماثل

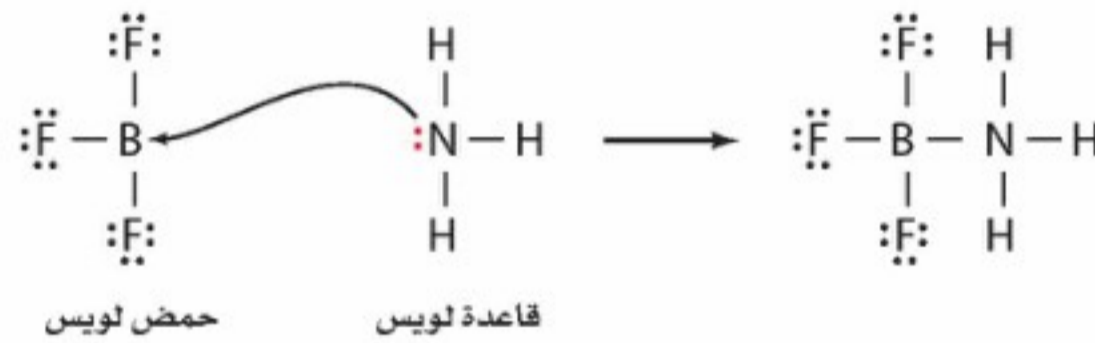
كان نقول مثلاً: إن تصرفاتهم تتطابق

مع توقعات المجتمع

مانحات ومستقبلات أزواج الإلكترونات تأمل التفاعل بين أيون الهيدروجين H^+ وأيون الفلوريد F^- لتكوين جزيء فلوريد الهيدروجين (HF). لقد تم توضيح دور زوج الإلكترونات من خلال تراكيب لويس الآتية:

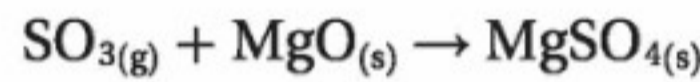


يمثل أيون H^+ في هذا التفاعل حمض لويس؛ حيث يستقبل مدار 1s الفارغ زوجًا من الإلكترونات من أيون F^- . ويمثل أيون الفلوريد قاعدة لويس، لذا فهو يعطي زوجًا من الإلكترونات غير المشترك ليكون الرابطة بين الهيدروجين والفلور في HF. لاحظ أن هذا التفاعل يتطابق أيضًا مع نظرية برونستد-لوري للأحماض والقواعد؛ لأن H^+ يمكن اعتباره مانحًا لأيون هيدروجين، و F^- مستقبلًا لأيون هيدروجين. فتفاعل غاز ثالث فلوريد البورون BF_3 مع غاز الأمونيا NH_3 لتكوين $BF_3 \cdot NH_3$ هو تفاعل حمض لويس مع قاعدة لويس.

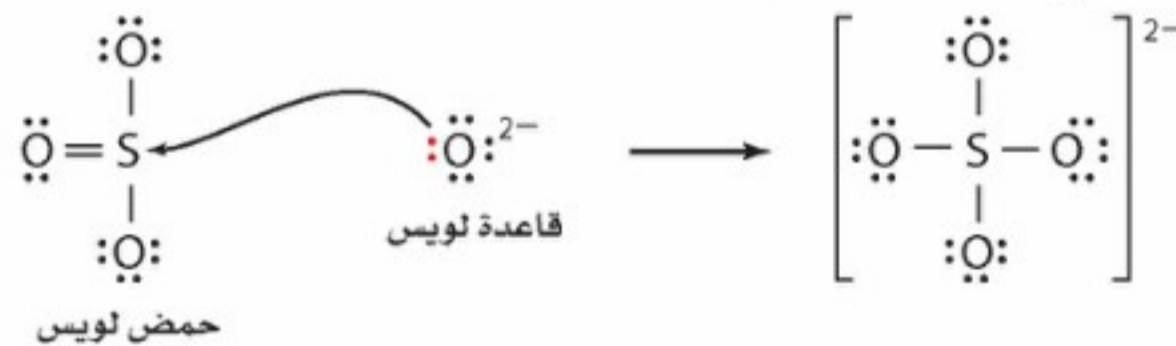


وإن ذرة البورون في BF_3 لها ستة إلكترونات تكافؤ، لذا يستطيع المدار الفارغ أن يستقبل زوجًا من الإلكترونات من قاعدة لويس.

ويحدث تفاعل حمض لويس مع قاعدة لويس أيضًا عندما يتفاعل غاز ثالث أكسيد الكبريت SO_3 مع أكسيد الماغنسيوم الصلب MgO .




حيث يمثل زوج الحمض - القاعدة في هذا التفاعل ثالث أكسيد الكبريت SO_3 وأيون الأكسيد O^{2-} من أكسيد الماغنسيوم، أما الناتج فهو أيون الكبريتات.



لاحظ أن حمض لويس-وهو في هذه الحالة جزيء SO_3 - يستقبل زوج إلكترونات من قاعدة لويس، وهو أيون O^{2-} . ويلخص الجدول 3-2 نظريات أرهينيوس، وبرونستد-لوري، ولويس للأحماض والقواعد.

ملخص النظريات الثلاث للأحماض والقواعد		الجدول 3-2
تعريف القاعدة	تعريف الحمض	النظرية
منتج OH^-	منتج H^+	أرهينيوس
مستقبل H^+	مانح H^+	برونستد - لوري
يمنح زوجًا من الإلكترونات	يستقبل زوجًا من الإلكترونات	لويس



الشكل 10-3 يمكن إزالة ثالث أكسيد الكبريت - وهو أحد الغازات العادمة الناتجة عن احتراق الفحم الحجري بتفاعله مع أكسيد الماغنسيوم في تفاعل حمض وقاعدة لويس. لاحظ أنه رغم خروج كميات كبيرة من البخار من أبراج التبريد، إلا أن الذي يمكن رؤيته من المدخنة قليل.

يعد تفاعل SO_3 مع MgO مهماً؛ لأنه ينتج بلورات من ملح كبريتات الماغنسيوم، تعرف باسم ملح إبسوم $MgSO_4 \cdot 7H_2O$. ولهذا الملح استعمالات كثيرة، منها تخفيف آلام العضلات، وهو مغذٍ للنباتات. وللتفاعل الذي ينتج كبريتات الماغنسيوم أيضاً تطبيقات بيئية؛ فعندما يحقن MgO في الغازات الخارجة من مداخل محطات توليد الطاقة الكهربائية التي تعمل بالفحم الحجري، كما في الشكل 10-3 فإنه يتفاعل مع SO_3 ويعمل على انتزاعه من الغازات العادمة الخارجة من المصنع إلى الجو. أما إذا ترك SO_3 ليتنشر في الغلاف الجوي فسوف يتحد مع الماء الموجود في الهواء مكوناً حمض الكبريتيك الذي يسقط على الأرض في صورة مطر حمضي.

الربط مع علم الأرض

الأنهيدريدات تتحد جزيئات غاز ثاني أكسيد الكربون بجزيئات الماء في الجو لتكون حمض الكربونيك H_2CO_3 ، الذي يهطل مع المطر، وعندما يصل ماء المطر الحمضي إلى الأرض يتسرب جزء منه في التربة ليصل إلى الصخور الجيرية، فيؤدي إلى إذابتها ببطء، مما يسبب تكوّن كهوف ضخمة تحت الأرض عبر آلاف السنين، وتقطر المياه من سقف الكهوف مخلّقة الجير المذاب. وهذا الجير يتكون على هيئة رقاقت جليدية تتدلى من السقف تسمى الهوابط. وكذلك تتكون كتل من كربونات الكالسيوم على أرض الكهوف تسمى الصواعد.

تتكوّن مثل هذه الكهوف لأن ثاني أكسيد الكربون أنهيدريد حمضي (حمض منزوع منه جزئ ماء)، وهو أكسيد يستطيع أن يتحد مع الماء ليكوّن حمضاً. وهناك أكاسيد أخرى تتحد مع الماء مكونة قواعد. فمثلاً يكوّن أكسيد الكالسيوم CaO (الجير الحي) عندما يذوب في الماء القاعدة هيدروكسيد الكالسيوم $Ca(OH)_2$ (الجير المطفأ). وعموماً تكوّن أكاسيد العناصر الفلزية القواعد؛ بينما تكوّن أكاسيد اللافلزات الأحماض.

التقويم 1-3

الخلاصة

5. **الفكرة الرئيسية** فسّر لماذا لا تُصنّف الكثير من أحماض وقواعد لويس على أنها أحماض أو قواعد أرهينيوس أو برونستد - لوري؟
 6. قارن بين الخواص الفيزيائية والكيميائية للأحماض والقواعد.
 7. وضح كيف تحدد تراكيز أيونات الهيدروجين وأيونات الهيدروكسيد ما إذا كان المحلول حمضياً أم قاعدياً أم متعادلاً؟
 8. اشرح لماذا لا يصنف العديد من المركبات التي تحتوي على ذرة هيدروجين أو أكثر بوصفها أحماض أرهينيوس؟
 9. حدّد الأزواج المترافقة من الأحماض والقواعد في المعادلة الآتية:

$$HNO_2 + H_2O \rightleftharpoons NO_2^- + H_3O^+$$
 10. اكتب تركيب لويس لثالث كلوريد الفوسفور PCl_3 . هل يعد PCl_3 حمض لويس، أم قاعدة لويس، أم غير ذلك؟
- تحدد تراكيز أيونات الهيدروجين وأيونات الهيدروكسيد ما إذا كان المحلول حمضياً، أم قاعدياً، أم متعادلاً.
 - يجب أن يحتوي حمض أرهينيوس على ذرة هيدروجين قابلة للتأين. ويجب أن تحتوي قاعدة أرهينيوس على مجموعة هيدروكسيد قابلة للتأين.
 - حمض برونستد - لوري مادة مانحة لأيون هيدروجين، بينما قاعدة برونستد - لوري مادة مستقبلة لأيون هيدروجين.
 - حمض لويس مادة تستقبل زوجاً من الإلكترونات، بينما قاعدة لويس مادة تعطي زوجاً من الإلكترونات.



3-2

الأهداف

- تربط قوة الحمض والقاعدة مع درجة تأينها.
- تقارن قوة حمض ضعيف بقوة قاعدته المرافقة.
- تشرح العلاقة بين قوى الأحماض والقواعد وقيم ثوابت تأينها.

مراجعة المفردات

إلكتروليت: مادة يوصل محلونها المائي التيار الكهربائي.

المفردات الجديدة

- الحمض القوي
- الحمض الضعيف
- ثابت تأين الحمض
- القاعدة القوية
- القاعدة الضعيفة
- ثابت تأين القاعدة

قوة الأحماض والقواعد

Strengths of Acids and Bases


الفكرة الرئيسية تتأين الأحماض والقواعد القوية في المحاليل تأيناً تاماً، بينما تتأين الأحماض والقواعد الضعيفة في المحاليل تأيناً جزئياً.

الربط مع الحياة تعتمد التميريرة الناجحة في لعبة كرة القدم على كل من المرسل والمستقبل، فيعرف مثلاً مدى استعداد المرسل لتميرير الكرة، ومدى استعداد المستقبل لاستقبال الكرة. وكذلك الحال في تفاعلات الأحماض والقواعد؛ حيث يعتمد سير التفاعل على مدى استعداد الحمض لمنح أيون الهيدروجين، ومدى استعداد القاعدة لاستقباله.

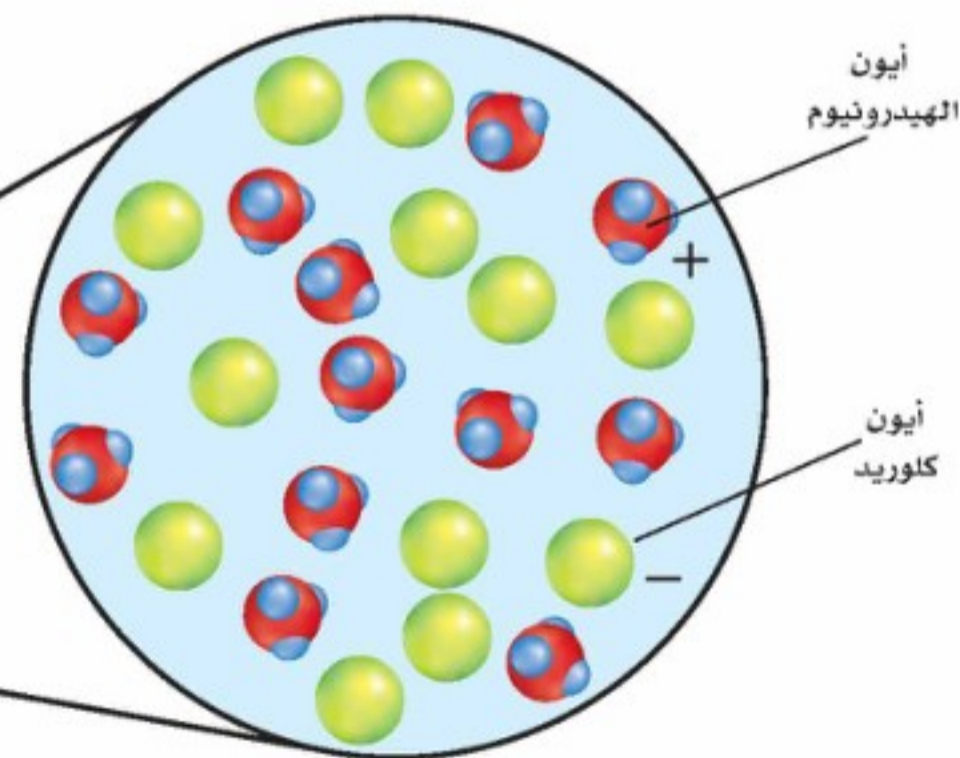
قوة الأحماض Strengths of Acids

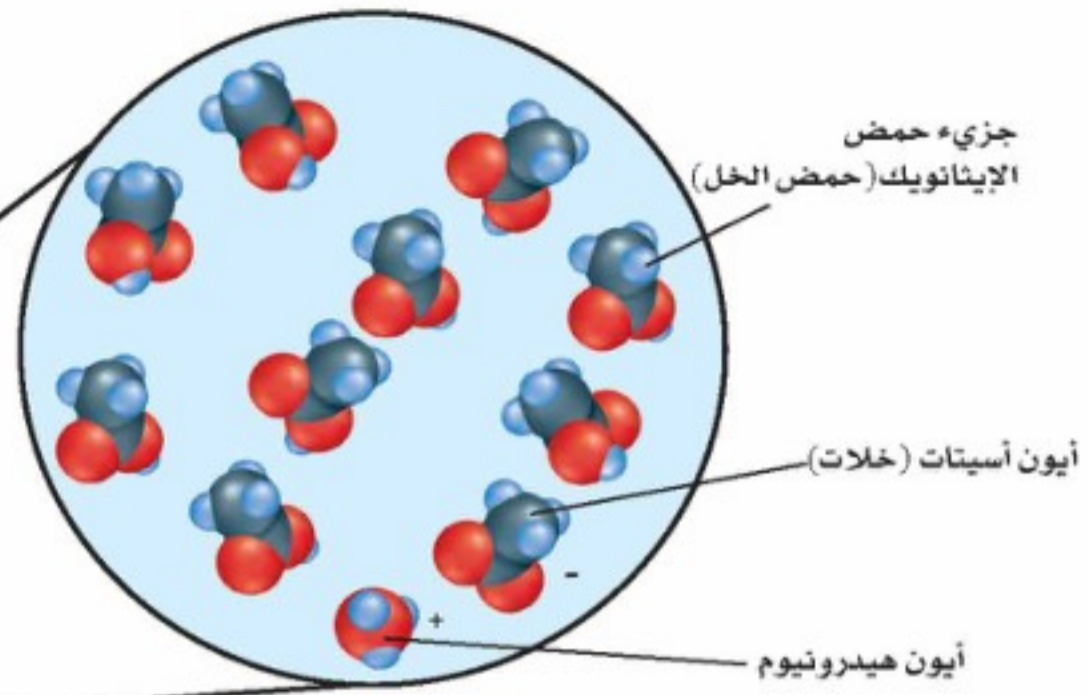
من خواص المحاليل الحمضية والقاعدية أنها توصل الكهرباء. ما المعلومات التي تستطيع معرفتها عن أيونات الهيدروجين وأيونات الهيدروكسيد في هذه المحاليل المائية من خلال توصيلها للكهرباء؟ افترض أنك تفحص قدرة التوصيل الكهربائي لمحلول مائي تركيزه 0.10 M من حمض الهيدروكلوريك، وآخر مماثل من حمض الإيثانويك (الخل). يدل توهج المصباح الكهربائي في الشكل 3-11 على أن المحلول يوصل الكهرباء. ولكن إذا قارنت توهج المصباح المتصل بمحلول HCl في الشكل 3-11 بتوهج المصباح المتصل بمحلول CH_3COOH في الشكل 3-12 فلا بد أن تلاحظ فرقاً؛ فتوصيل محلول HCl للكهرباء أفضل من توصيل محلول CH_3COOH . فلم هذا الفرق مع أن تركيزي الحمضين متساويان؟

الأحماض القوية يعتمد توصيل التيار الكهربائي على عدد الأيونات في المحلول. وقد تأينت جزيئات HCl الموجودة في المحلول جميعها كلياً مكونة أيونات هيدرونيوم وأيونات كلوريد.



الشكل 3-11 يتوهج المصباح بقوة عندما يوضع القطبان في محلول حمض الهيدروكلوريك بتركيز 0.10 M؛ لأن جميع HCl تتحلل إلى أيونات هيدرونيوم وأيونات كلوريد.

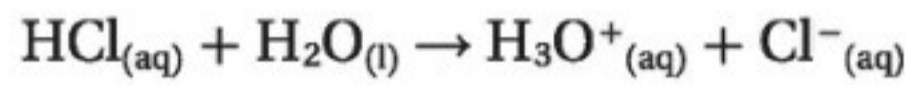




الشكل 3-12 عند وضع الأقطاب في محلول حمض الإيثانويك بتركيز 0.10 M يكون الضوء خافتاً. قارن هذه الصورة بالشكل 5-11. **فسر** الفرق بين شدتي إضاءة المصباحين بحسب تركيز الأيونات في المحلول.

وتسمى الأحماض التي تتأين كلياً **أحماضاً قوية**. ولأن الأحماض القوية تنتج أكبر عدد من الأيونات، لذا فهي موصلات جيدة للكهرباء.

يمكن تمثيل تأين حمض الهيدروكلوريك في الماء بالمعادلة الآتية:



الأحماض الضعيفة إذا كان سبب الإضاءة القوية لمصباح الجهاز الذي يحتوي على HCl هو عدد الأيونات الكبير في المحلول - كما في الشكل 3-11 - فإن الإضاءة الخافتة لمصباح الجهاز الذي يحتوي على محلول CH₃COOH، المبين في الشكل 3-12، لا بد أن يكون سببها احتواء محلول حمض الإيثانويك (الخل) على عدد أقل من الأيونات. ولأن المحلولين يحتويان على التركيز المولاري نفسه لذا نستنتج أن حمض الإيثانويك لا يتأين كلياً. ولذلك يسمى الحمض الذي يتأين جزئياً فقط في المحلول المائي المخفف **الحمض الضعيف**. ولأن الأحماض الضعيفة تنتج أيونات أقل فإنها لا توصل الكهرباء جيداً مثل الأحماض القوية. ويبين الجدول 3-3 معادلات التأين لبعض الأحماض الضعيفة والأحماض القوية الشائعة.

أحماض ضعيفة		أحماض قوية	
معادلات التأين	الاسم	معادلات التأين	الاسم
$\text{HF} \rightleftharpoons \text{H}^+ + \text{F}^-$	الهيدروفلوريك	$\text{HCl} \rightarrow \text{H}^+ + \text{Cl}^-$	الهيدروكلوريك
$\text{CH}_3\text{COOH} \rightleftharpoons \text{H}^+ + \text{C}_2\text{H}_3\text{O}_2^-$	الإيثانويك	$\text{HI} \rightarrow \text{H}^+ + \text{I}^-$	الهيدرويوديك
$\text{H}_2\text{S} \rightleftharpoons \text{H}^+ + \text{HS}^-$	كبريتيد الهيدروجين	$\text{HClO}_4 \rightarrow \text{H}^+ + \text{ClO}_4^-$	البيركلوريك
$\text{H}_2\text{CO}_3 \rightleftharpoons \text{H}^+ + \text{HCO}_3^-$	الكربونيك	$\text{HNO}_3 \rightarrow \text{H}^+ + \text{NO}_3^-$	النيتريك
$\text{HClO} \rightleftharpoons \text{H}^+ + \text{ClO}^-$	الهيوكلوروز	$\text{H}_2\text{SO}_4 \rightarrow \text{H}^+ + \text{HSO}_4^-$	الكبريتيك

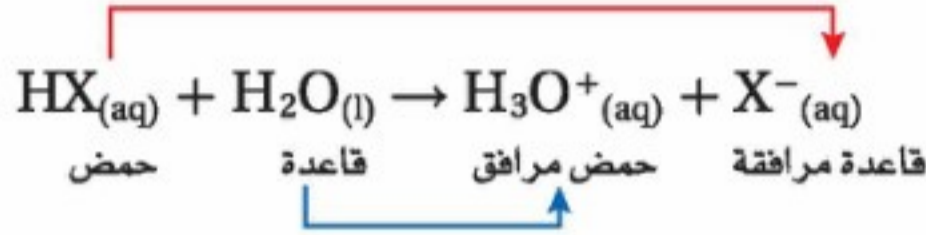
واقع الكيمياء في الحياة

سيانيد الهيدروجين

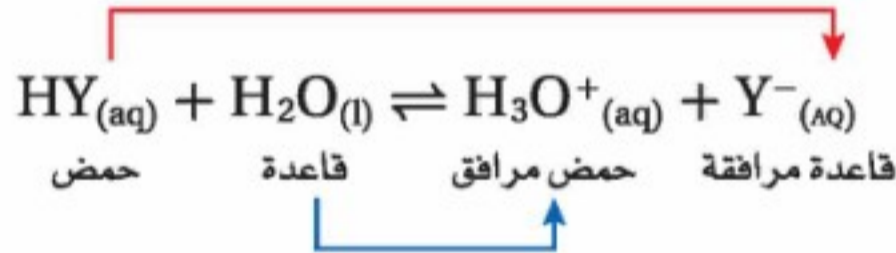


مركب مميت سيانيد الهيدروجين HCN غاز سام يوجد في عوادم المَرَكَبات، وفي دُخان التبغ والخشب، وفي دُخان البلاستيك المحترق المحتوي على النيتروجين. وتطلق بعض الحشرات سيانيد الهيدروجين للدفاع عن نفسها. ويسمى محلول سيانيد الهيدروجين في الماء حمض الهيدروسيانيك. وتحتوي نوى بعض الفواكه - ومنها الكرز والخوخ - على سيانوهدرين الذي يتحول إلى حمض الهيدروسيانيك في الجهاز الهضمي إذا أكلت النواة. ولكن لا يوجد حمض الهيدروسيانيك في لب هذه الثمار، لذا يمكن أكله بأمان.

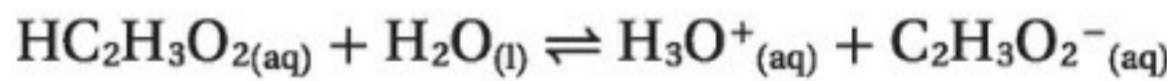
قوة الحمض ونظرية برونستد - لوري هل تستطيع نظرية برونستد - لوري تفسير سبب تأين HCl كلياً بينما يكون $\text{HC}_2\text{H}_3\text{O}_2$ القليل من الأيونات؟ تأمل تأين أي حمض قوي، كحمض HX على سبيل المثال. وتذكر أن الحمض الموجود على جهة المواد المتفاعلة من المعادلة ينتج قاعدة مُرافقة على جهة النواتج. وبالمثل فإن القاعدة الموجودة على جهة المواد المتفاعلة تنتج حمضاً مرافقاً.



يمثل HX حمضاً قوياً وقاعدته المرافقة ضعيفة. أي أن HX يتأين بنسبة 100% تقريباً؛ لأن الماء قاعدة أقوى (في التفاعل الأمامي) من قاعدته المرافقة X^- (في التفاعل العكسي). أي أنه يقع اتزان التأين كلياً تقريباً إلى اليمين؛ لأن جذب القاعدة H_2O لأيون H^+ أكبر من جذب القاعدة المرافقة X^- . فكر في هذا الأمر وكأنه معركة للقواعد، أيها لديه قوة جذب أكبر لأيون الهيدروجين: H_2O أم X^- ؟ الماء هو القاعدة الأقوى عندما تكون الأحماض كلها قوية. لاحظ أن المعادلة مبيّنة بسهم واحد إلى اليمين. كيف يختلف الوضع لأي حمض ضعيف HY؟



يميل اتزان التأين للحمض الضعيف إلى يسار المعادلة؛ لأن القاعدة المرافقة Y^- لديها جذب أكبر لأيون الهيدروجين من القاعدة H_2O . وتعد القاعدة المرافقة Y^- (في التفاعل العكسي) أقوى من القاعدة H_2O (في التفاعل الأمامي)، وتستطيع أن تستولي على أيون H^+ . فمثلاً في حالة حمض الإيثانويك (الحل) تعد القاعدة المرافقة (في التفاعل العكسي) أقوى في جذب أيونات الهيدروجين من القاعدة H_2O (في التفاعل الأمامي).



لاحظ أن المعادلة تحتوي على سهمي اتزان.

✓ **ماذا قرأت؟** لخص أهم الاختلافات بين الأحماض القوية والأحماض الضعيفة عند تفاعلها مع القواعد.

ثابت تأين الحمض تساعد نظرية برونستد - لوري على تفسير قوة الأحماض، إلا أنها لا تُعبّر بطريقة كمية عن قوة الحمض، ولاتقارن بين قوى الأحماض المختلفة. لذا يعد تعبير ثابت الاتزان قياساً كمياً لقوة الحمض.

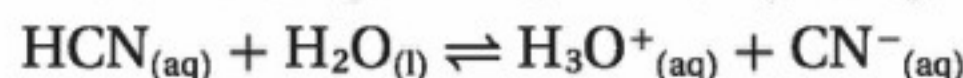
إن الحمض الضعيف ينتج خليط اتزان من الجزيئات والأيونات في المحلول المائي. لذا يعطي ثابت الاتزان K_{eq} قياساً كمياً لدرجة تأين الحمض. تأمل حمض الهيدروسيانيك HCN، الذي يستعمل في الصباغة، والحفر على الفولاذ، وتليينه.



مهتم في الكيمياء

عامل المشتل الوظيفة الرئيسية لعامل المشتل هي الاهتمام بتكاثر النباتات ونموها. وهذا يشمل زراعتها وتقليمها ونقلها. ويبيع جميع أنواع المواد التي تتعلق بالنباتات. لذا يجب أن يعرف عامل المشتل المغذيات التي يحتاج إليها النبات للنمو الأفضل وظروف التربة، ومنها حموضة التربة التي تعزز نمو كل نوع من النباتات.

فيما يأتي معادلة التآين، وتعبير ثابت الاتزان لحمض الهيدروسيانيك:



$$K_{eq} = \frac{[\text{H}_3\text{O}^+][\text{CN}^-]}{[\text{HCN}][\text{H}_2\text{O}]}$$

يعد تركيز الماء السائل في مقام تعبير ثابت الاتزان ثابتاً في المحاليل المائية المخففة، لذلك يمكن دمج مع K_{eq} ليعطي ثابت اتزان جديداً K_a .

$$K_{eq} [\text{H}_2\text{O}] = K_a = \frac{[\text{H}_3\text{O}^+][\text{CN}^-]}{[\text{HCN}]} = 6.2 \times 10^{-10}$$

يسمى K_a ثابت تآين الحمض، وهو قيمة ثابت الاتزان لتآين الحمض الضعيف. وكما في تعابير الاتزان جميعها، تدل قيمة K_a على ما إذا كانت المواد المتفاعلة أو النواتج هي المفضلة عند الاتزان. أما للأحماض الضعيفة فتميل تراكيز الأيونات (النواتج) في البسط إلى أن تكون صغيرة مقارنة بتركيز الجزيئات غير المتآينة (المواد المتفاعلة) في المقام. وتكون قيم K_a للأحماض الأضعف أصغر؛ وذلك لاحتواء محاليلها على أقل تراكيز أيونات وأعلى تراكيز لجزيئات الحمض غير المتآينة. ويحتوي الجدول 3-4 على قائمة لقيم K_a ومعادلات التآين لعدة أحماض ضعيفة. لاحظ أن الأحماض المتعددة البروتونات ليست بالضرورة قوية التآين؛ فلكل تآين للحمض المتعدد البروتونات قيمة K_a مختلفة.

مسائل تدريبية

11. اكتب معادلات التآين وتعابير ثابت تآين الحمض لكل مما يأتي:
HIO .c HNO₂ .b HClO₂ .a

12. اكتب معادلة التآين الأولى والثانية لحمض السليينوز H₂SeO₃.

13. تحفيز إذا أعطيت المعادلة الرياضية الآتية: $K_a = \frac{[\text{AsO}_4^{3-}][\text{H}_3\text{O}^+]}{[\text{HAsO}_4^{2-}]}$ ، فاكتب المعادلة الموزونة للتفاعل.

ثوابت تآين الأحماض الضعيفة		الجدول 3-4
K_a (298 K)	معادلة التآين	الحمض
8.9×10^{-8}	$\text{H}_2\text{S} \rightleftharpoons \text{H}^+ + \text{HS}^-$	كبريتيد الهيدروجين، التآين الأول
1×10^{-19}	$\text{HS}^- \rightleftharpoons \text{H}^+ + \text{S}^{2-}$	كبريتيد الهيدروجين، التآين الثاني
6.3×10^{-4}	$\text{HF} \rightleftharpoons \text{H}^+ + \text{F}^-$	الهيدروفلوريك
6.2×10^{-10}	$\text{HCN} \rightleftharpoons \text{H}^+ + \text{CN}^-$	الهيدروسيانيك
1.8×10^{-5}	$\text{CH}_3\text{COOH} \rightleftharpoons \text{H}^+ + \text{CH}_3\text{COO}^-$	الإيثانويك (حمض الخل)
4.5×10^{-7}	$\text{H}_2\text{CO}_3 \rightleftharpoons \text{H}^+ + \text{HCO}_3^-$	الكربونيك، التآين الأول
4.7×10^{-11}	$\text{HCO}_3^- \rightleftharpoons \text{H}^+ + \text{CO}_3^{2-}$	الكربونيك، التآين الثاني

تجربة

قارن بين قوى الأحماض

كيف تستطيع أن تحدد القوى النسبية للمحاليل الحمضية؟

الخطوات

1. املأ بطاقة السلامة في دليل التجارب العملية.
2. استعمل مخبراً مدرجاً سعته 10 mL لقياس 3 mL من حمض الإيثانويك المركز. استعمل القطارة لنقل الحمض إلى الفجوة A1 من طبق التفاعلات البلاستيكي ذي الأربع والعشرين فجوة. ويمكنك استخدام أنابيب الاختبار كبديل في حالة عدم توفر طبق التفاعلات. **تحذير:** حمض الإيثانويك (الخل) المركز مادة أكالة وسامة عند الاستنشاق؛ لذا تعامل معها بحذر.
3. ضع قطبي جهاز الموصلية الكهربائية (الدائرة الكهربائية) في الفجوة A1، وسجل ملاحظاتك.
4. اغسل المخبر المدرج والقطارة بالماء، ثم قس 3 mL من حمض الإيثانويك 6.0 M وضعها في الفجوة A2 من طبق التفاعلات. افحص موصلية المحلول وسجلها.

5. أعد الخطوة 4 باستعمال حمض الإيثانويك الذي تركيزه 1.0 M وحمض الإيثانويك 0.10 M والفجوتين A3 و A4 على التوالي.

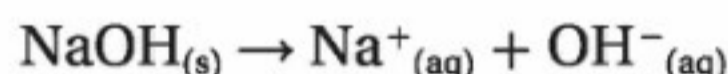
التحليل

1. اكتب معادلة تأين حمض الإيثانويك في الماء، وتعبير ثابت الاتزان ($K_{eq} = 1.8 \times 10^{-5}$). علام تدل قيمة K_{eq} فيما يخص درجة التأين؟
2. اشرح هل تتفق نسب التأين المئوية التقريبية الآتية مع نتائجك؟
حمض الإيثانويك (حمض الخل) المركز
حمض الإيثانويك 6.0 M، 0.1%
حمض الإيثانويك 1.0 M، 0.2%
حمض الإيثانويك 1.0 M، 0.4%
حمض الإيثانويك 0.1 M، 1.3%
3. اقترح فرضية تشرح ملاحظاتك مستعيناً في ذلك بإجابتك عن السؤال 2.
4. استعمل فرضيتك للتوصل إلى استنتاج يتعلق بضرورة استعمال كميات كبيرة من الماء للغسل عندما ينسكب حمض على نسيج حي.

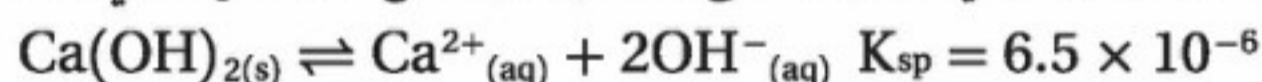
قوة القواعد Strengths of Bases

تطلق القواعد أيونات OH^- ، ويعتمد توصيل القاعدة للتيار الكهربائي على مقدار ما تنتجُه من أيونات OH^- في المحلول المائي.

القواعد القوية القاعدة التي تتحلل كلياً منتجة أيونات فلزية وأيونات الهيدروكسيد تعرف بأنها **قاعدة قوية**. لذا فهيدروكسيدات الفلزات - ومنها هيدروكسيد الصوديوم NaOH - قواعد قوية.

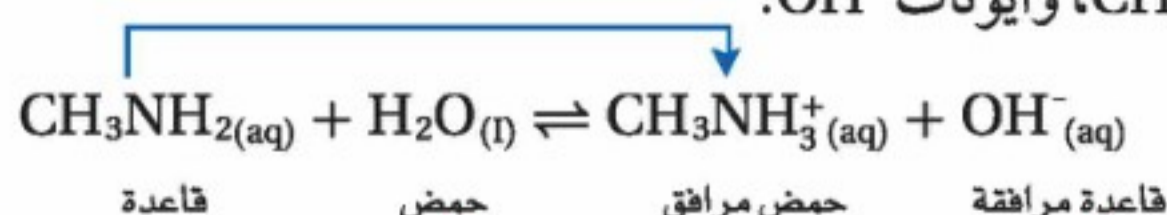


تعد بعض هيدروكسيدات الفلزات - ومنها هيدروكسيد الكالسيوم $\text{Ca}(\text{OH})_2$ - مصدرًا ضعيفاً لأيونات OH^- ؛ لأن ذائبيتها منخفضة. لاحظ أن ثابت حاصل الذائبية K_{sp} لهيدروكسيد الكالسيوم $\text{Ca}(\text{OH})_2$ صغير، مما يدل على أن كمية قليلة من OH^- توجد في المحلول المشبع.



ومع ذلك فإن هيدروكسيد الكالسيوم وغيره من هيدروكسيدات الفلزات القليلة الذوبان قواعد قوية؛ لأن كل ما يذوب منها يتأين كلياً. ويبين الجدول 3-5 معادلات تحلل بعض القواعد القوية.

القواعد الضعيفة تتأين القواعد الضعيفة جزئياً فقط في المحاليل المائية المخففة. فمثلاً يتفاعل ميثيل أمين CH_3NH_2 مع الماء لينتج مخلوطاً متزنًا من جزيئات CH_3NH_2 ، وأيونات CH_3NH_3^+ ، وأيونات OH^- .



الجدول

معادلات التأين للقواعد القوية

الجدول	معادلات التأين للقواعد القوية
3-5	$\text{NaOH}_{(s)} \rightarrow \text{Na}^+_{(aq)} + \text{OH}^-_{(aq)}$
	$\text{KOH}_{(s)} \rightarrow \text{K}^+_{(aq)} + \text{OH}^-_{(aq)}$
	$\text{RbOH}_{(s)} \rightarrow \text{Rb}^+_{(aq)} + \text{OH}^-_{(aq)}$
	$\text{CsOH}_{(s)} \rightarrow \text{Cs}^+_{(aq)} + \text{OH}^-_{(aq)}$
	$\text{Ca}(\text{OH})_{2(s)} \rightarrow \text{Ca}^{2+}_{(aq)} + 2\text{OH}^-_{(aq)}$
	$\text{Ba}(\text{OH})_{2(s)} \rightarrow \text{Ba}^{2+}_{(aq)} + 2\text{OH}^-_{(aq)}$

ثابت التآين لبعض القواعد الضعيفة		الجدول 3-6
K_b (298 K)	معادلة التآين	القاعدة
5.0×10^{-4}	$C_2H_5NH_2(aq) + H_2O(l) \rightleftharpoons C_2H_5NH_3^+(aq) + OH^-(aq)$	إيثيل أمين
4.3×10^{-4}	$CH_3NH_2(aq) + H_2O(l) \rightleftharpoons CH_3NH_3^+(aq) + OH^-(aq)$	ميثيل أمين
2.5×10^{-5}	$NH_3(aq) + H_2O(l) \rightleftharpoons NH_4^+(aq) + OH^-(aq)$	الأمونيا
4.3×10^{-10}	$C_6H_5NH_2(aq) + H_2O(l) \rightleftharpoons C_6H_5NH_3^+(aq) + OH^-(aq)$	الأنيلين

يميل هذا الاتزان إلى اليسار؛ لأن القاعدة CH_3NH_2 ضعيفة، والقاعدة المرافقة OH^- قوية؛ لأن قوة جذب أيون الهيدروكسيد لأيون الهيدروجين أقوى من جذب جزيء الميثيل أمين لأيون الهيدروجين.

ثابت تآين القواعد تكوّن القواعد الضعيفة مخاليط اتزان من الجزيئات والأيونات في المحاليل المائية، كما في الأحماض الضعيفة. ويعد ثابت الاتزان قياساً لمدى تآين القاعدة. وتبين المعادلة الآتية ثابت الاتزان لتآين الميثيل أمين في الماء:

$$K_b = \frac{[CH_3NH_3^+][OH^-]}{[CH_3NH_2]}$$

ويمكن تعريف ثابت تآين القاعدة K_b بأنه قيمة تعبر عن ثابت الاتزان لتآين القاعدة الضعيفة. وكلما صغرت قيمة K_b كانت القاعدة أضعف. ويبين الجدول 3-6 قيم K_b ومعادلات التآين لبعض القواعد الضعيفة.

مسائل تدريبية

14. اكتب معادلات التآين وتعبير ثابت التآين للقواعد الآتية:
- a. هكسيل أمين $C_6H_{13}NH_2$ c. أيون الكربونات CO_3^{2-}
- b. بروبييل أمين $C_3H_7NH_2$ d. أيون الكبريتات الهيدروجينية HSO_4^-
15. تحفيز اكتب معادلة اتزان قاعدة يكون فيها PO_4^{3-} قاعدة في التفاعل الأمامي، و OH^- قاعدة في التفاعل العكسي.

التقويم 3-2

الخلاصة

- تتأين الأحماض والقواعد القوية كلياً في المحاليل المائية المخففة. بينما تتأين الأحماض والقواعد الضعيفة تأيئاً جزئياً في المحاليل المائية المخففة.
 - تعد قيمة ثابت تآين الحمض أو القاعدة الضعيفة قياساً لقوة الحمض أو القاعدة.
16. الفكرة الرئيسية صف محتويات محاليل مائية مخففة للحمض القوي HI والحمض الضعيف HCOOH.
17. ما العلاقة بين قوة الحمض الضعيف وقوة قاعدته المرافقة؟
18. حدّد الأزواج المترافقة للحمض والقاعدة في كل معادلة مما يأتي:
- a. $HCOOH(aq) + H_2O(l) \rightleftharpoons HCOO^-(aq) + H_3O^+(aq)$
- b. $NH_3(aq) + H_2O(l) \rightleftharpoons NH_4^+(aq) + OH^-(aq)$
19. اشرح ما الذي يمكن أن تستفيده من معرفة أن قيمة K_b للأنيلين $C_6H_5NH_2$ هي 4.3×10^{-10} ؟
20. فسّر البيانات استعمل البيانات في الجدول 3-4 لترتيب الأحماض السبعة تصاعدياً بحسب توصيلها للكهرباء.



3-3

الأهداف

- تشرح معنى المصطلحات pH و pOH.
- تربط بين pH و pOH وثابت التأيّن للماء.
- تحسب قيمة pH و pOH للمحاليل المائية.

مراجعة المفردات

مبدأ لوتشاتيليه: ينص على أنه إذا وقع ضغط على نظام في حالة اتزان فإن النظام يتجه في الاتجاه الذي يقلل من ذلك الضغط.

مفردات جديدة

ثابت تأيّن الماء K_w
الرقم الهيدروجيني pH
الرقم الهيدروكسيدي pOH

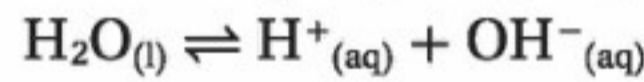
أيونات الهيدروجين والرقم الهيدروجيني Hydrogen Ions and pH

الفكرة الرئيسية يعبر كل من pH و pOH عن تراكيز أيونات الهيدروجين وأيونات الهيدروكسيد في المحاليل المائية.

الربط مع الحياة لعلك شاهدت طفلين يلعبان على لعبة التوازن (السيسو). عندما يرتفع أحد طرفي العارضة يهبط الطرف الآخر. وأحياناً تتوازن العارضة في الوسط. تسلك تراكيز أيونات الهيدروجين وأيونات الهيدروكسيد في المحاليل المائية سلوكاً مماثلاً.

ثابت التأيّن للماء Ion Product Constant for Water

يحتوي الماء النقي على تراكيز متساوية لأيونات H^+ و OH^- التي تنتج عن تأينه الذاتي. ويبين الشكل 3-13 تكون أعداد متساوية من أيونات الهيدرونيوم والهيدروكسيد في عملية التأيّن الذاتي للماء. ويمكن تبسيط معادلة الاتزان على النحو الآتي:



ثابت تأيّن الماء K_w يشير السهم الثنائي إلى أن هذا تفاعل اتزان. لذا تذكر أنه يجب كتابة تعبير ثابت الاتزان بوضع تراكيز النواتج في البسط، وتراكيز المواد المتفاعلة في المقام. وفي هذه الحالة، جميع المواد قوتها واحد؛ لأن معاملات جميعها في المعادلة الكيميائية 1. ولأن تركيز الماء النقي ثابت، لذا لا يظهر $[H_2O]$ في المقام.

ثابت تأيّن الماء K_w

حيث إن K_w ثابت تأيّن الماء.

$$K_w = [H^+][OH^-]$$

و $[H^+]$ تركيز أيون الهيدروجين.

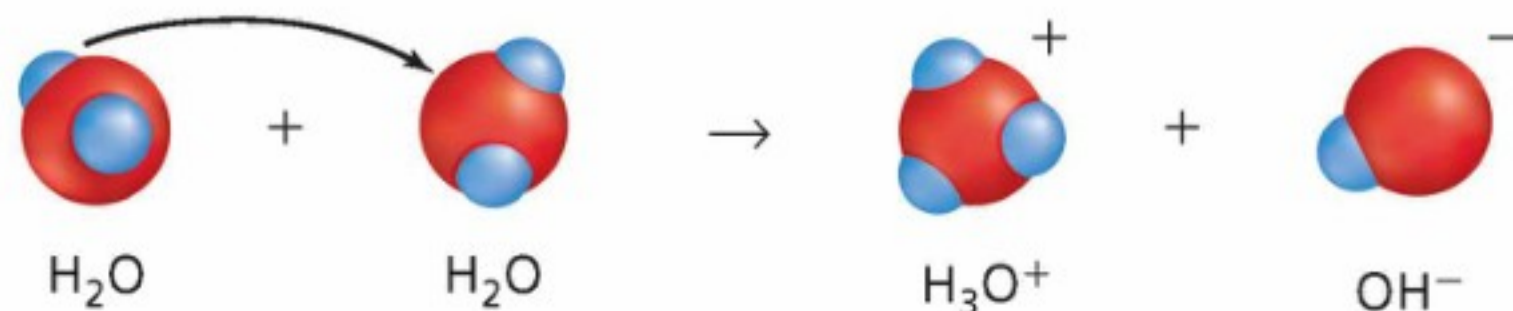
و $[OH^-]$ تركيز أيون الهيدروكسيد.

حاصل ضرب تراكيز أيون الهيدروجين وأيون الهيدروكسيد في المحاليل المائية المخففة يساوي K_w .

والتعبير K_w هو حالة خاصة لثابت الاتزان، ينطبق فقط على الماء. ويسمى ثابت تأيّن الماء، وهو قيمة تعبر عن ثابت الاتزان للتأيّن الذاتي للماء. لقد بينت التجارب أن $[H^+]$ و $[OH^-]$ للماء النقي عند 298 K تكون متساوية؛ حيث يساوي كل منها $1.0 \times 10^{-7} M$. لذا تكون قيمة K_w عند درجة الحرارة 298 K تساوي 1.0×10^{-14} .

$$K_w = [H^+][OH^-] = (1.0 \times 10^{-7})(1.0 \times 10^{-7})$$

$$K_w = 1.0 \times 10^{-14}$$



الشكل 3-13 يسلك أحد جزيئات الماء في التأيّن الذاتي للماء سلوك الحمض، ويسلك الجزيء الآخر سلوك القاعدة.

K_w ومبدأ لوتشاتلييه حاصل ضرب $[H^+]$ و $[OH^-]$ يساوي دائماً 1.0×10^{-14} عند درجة حرارة 298 K. وهذا يعني أنه إذا زاد تركيز أيونات H^+ نقص تركيز أيونات OH^- . وبالمثل فإن الزيادة في تركيز OH^- تسبب نقصاً في تركيز أيونات H^+ . فكّر في هذه التغييرات من خلال مبدأ لوتشاتلييه؛ حيث تسبب إضافة أيونات هيدروجين إضافية إلى اضطراب في حالة الاتزان، فيعمل النظام على التقليل من تأثير الزيادة في التركيز؛ حيث تتفاعل أيونات H^+ المضافة مع أيونات OH^- لتكوّن المزيد من جزيئات الماء، وهكذا يقل تركيز OH^- .
 يبين المثال 3-1 كيف تستعمل K_w لحساب تركيز H^+ أو OH^- إذا عرفت تركيز أحدهما.
ماذا قرأت؟ اشرح لماذا لا يتغير K_w عند زيادة تركيز أيونات الهيدروجين؟

مثال 3-1

احسب قيم $[H^+]$ و $[OH^-]$ باستعمال K_w إذا كان تركيز أيون H^+ في كوب قهوة عند درجة حرارة 298 K هو $1.0 \times 10^{-5} M$ ، فما تركيز أيون OH^- في القهوة؟ هل تعد القهوة حمضية، أم قاعدية، أم متعادلة؟

1 تحليل المسألة

لديك تركيز أيون H^+ ، وتعرف أن K_w يساوي 1.0×10^{-14} . يمكنك استعمال قانون ثابت تأين الماء لإيجاد $[OH^-]$. ولأن $[H^+]$ أكبر من 1.0×10^{-7} ، لذا يمكنك أن تتوقع أن يكون $[OH^-]$ أقل من 1.0×10^{-7} .

المعطيات

$$[H^+] = 1.0 \times 10^{-5} M$$

$$K_w = 1.0 \times 10^{-14}$$

المطلوب

$$[OH^-] = ? \text{ mol/L}$$

2 حساب المطلوب

استعمل قانون ثابت تأين الماء.
 اكتب تعبير ثابت تأين الماء.

أوجد قيمة: $[OH^-]$

$$K_w = 1.0 \times 10^{-14}$$

$$[H^+] = 1.0 \times 10^{-5} M$$

$$K_w = [H^+][OH^-]$$

$$[OH^-] = \frac{K_w}{[H^+]}$$

$$[OH^-] = \frac{1.0 \times 10^{-14}}{1.0 \times 10^{-5}} = 1.0 \times 10^{-9} \text{ mol/L}$$

لأن قيمة $[H^+] > [OH^-]$ ، لذا فإن القهوة حمضية.

3 تقويم الإجابة

كما هو متوقع، تكون قيمة $[OH^-]$ أقل من $1.0 \times 10^{-7} \text{ mol/L}$.

مسائل تدريبية

21. فيما يأتي قيم تراكيز H^+ و OH^- لأربعة محاليل مائية عند درجة حرارة 298 K. احسب $[H^+]$ أو $[OH^-]$ لكل محلول، ثم حدد ما إذا كان المحلول حمضياً، أم قاعدياً، أم متعادلاً.

$$[H^+] = 1.0 \times 10^{-13} M \text{ .a} \quad [OH^-] = 1.0 \times 10^{-3} M \text{ .c}$$

$$[OH^-] = 1.0 \times 10^{-7} M \text{ .b} \quad [H^+] = 4.0 \times 10^{-5} M \text{ .d}$$

22. تحفيز احسب عدد أيونات H^+ وعدد أيونات OH^- في 300 mL من الماء النقي عند درجة حرارة 298 K.

الرقم الهيدروجيني pH والرقم الهيدروكسيدي pOH

تكون تراكيز H^+ غالباً أرقاماً صغيرة يعبر عنها بطريقة علمية. ولصعوبة استعمال هذه الأرقام تبني الكيميائيون طريقة أسهل للتعبير عنها.

ما الرقم الهيدروجيني pH؟ يعبر الكيميائيون عن تركيز أيونات الهيدروجين باستعمال تدرج الرقم الهيدروجيني pH المبني على اللوغاريتمات. لذا فإن الرقم الهيدروجيني pH لمحلول ما هو سالب لوغاريتم تركيز أيون الهيدروجين.

الرقم الهيدروجيني pH

$$pH = -\log [H^+]$$

يمثل $[H^+]$ تركيز أيون الهيدروجين

قيمة pH لمحلول ما تساوي سالب لوغاريتم تركيز أيون الهيدروجين.

تكون قيم pH للمحاليل الحمضية عند درجة حرارة 298 K أقل من 7. بينما تكون قيمها للمحاليل القاعدية أكبر من 7. وهكذا يكون المحلول الذي قيمة pH له تساوي 0.0 حمضاً قوياً؛ بينما يكون المحلول الذي قيمة pH له تساوي 14 قاعدة قوية. وتعني الطبيعة اللوغاريتمية في هذه الحالة لتدرج pH أن تغير وحدة واحدة من pH يمثل تغيراً مقداره 10 مرات في تركيز الأيون. فالمحلول الذي pH له تساوي 3 له عشرة أضعاف تركيز المحلول الذي pH له تساوي 4. ويبين الشكل 3-14 تدرج pH وقيمها لبعض المواد الشائعة.

ما الرقم الهيدروكسيدي pOH؟ يكون من المناسب أحياناً التعبير عن قاعدية (قلوية) محلول ما على تدرج pOH والذي يعكس صورة العلاقة بين pH و $[H^+]$. ويعرف الرقم الهيدروكسيدي pOH لمحلول ما بأنه سالب لوغاريتم تركيز أيون الهيدروكسيد.

الرقم الهيدروكسيدي pOH

$$pOH = -\log [OH^-]$$

$[OH^-]$ يمثل تركيز أيون الهيدروكسيد

قيمة pOH لمحلول ما تساوي سالب لوغاريتم تركيز أيون الهيدروكسيد.

تكون قيم pOH عند درجة حرارة 298 K للمحاليل القاعدية أقل من 7، وللمحاليل المتعادلة تساوي 7؛ بينما يكون المحلول الذي قيمة pOH له أعلى من 7 حمضياً. وكما في تدرج pH يمثل تغير وحدة واحدة من pOH تغيراً مقداره 10 مرات في تركيز OH^- . وهناك علاقة بين pH و pOH تمكننا من حساب أي منهما إذا عُرفت قيمة الآخر.

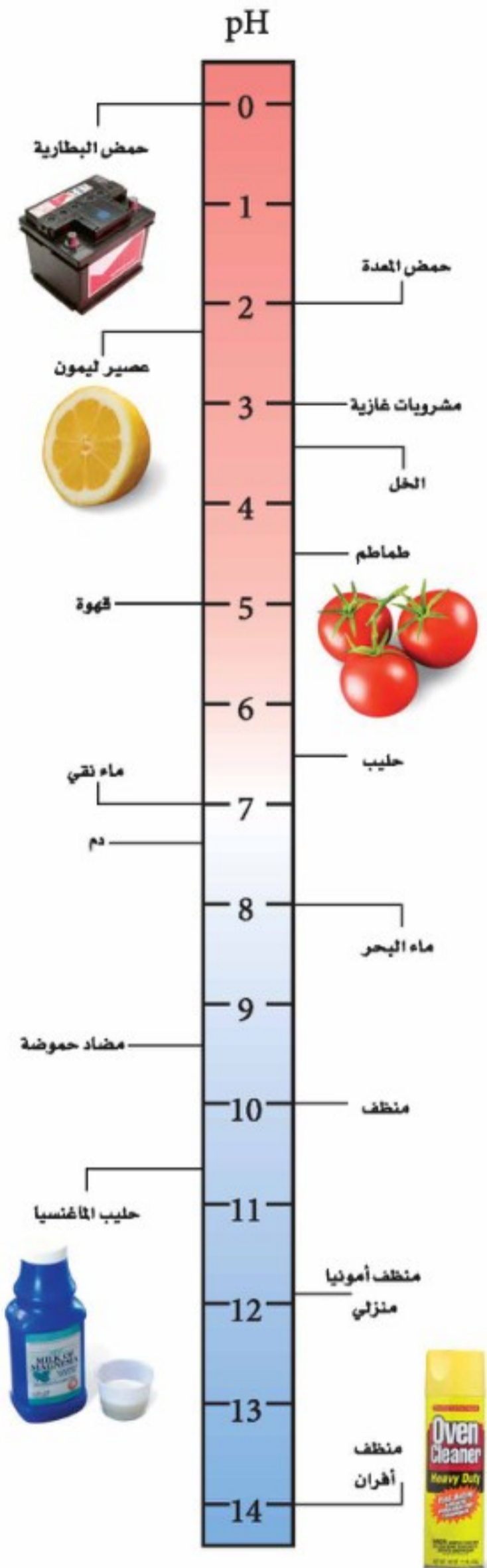
ما العلاقة بين pH و pOH؟

$$pH + pOH = 14.00$$

pH تمثل $-\log [H^+]$

pOH تمثل $-\log [OH^-]$

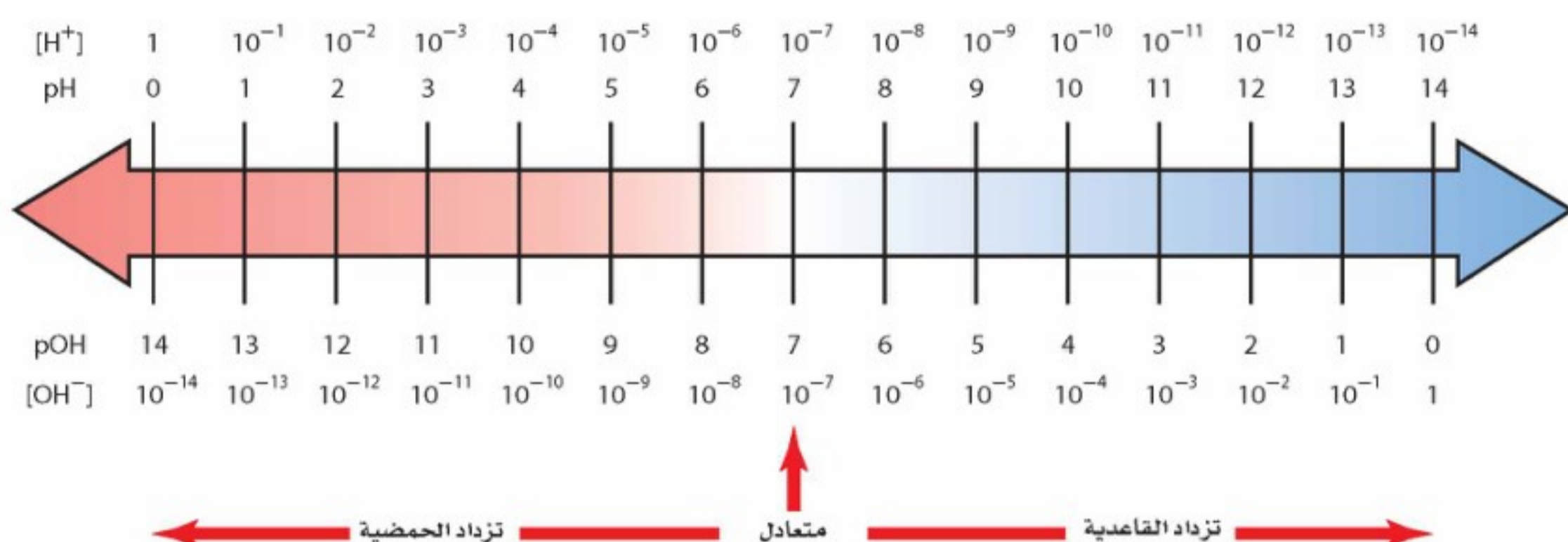
مجموع pH و pOH يساوي 14.00 .



الشكل 3-14 قارن بين قيم pH لهذه المواد المألوفة.

حدّد أيهما يحتوي على أعلى تركيز لأيونات H^+ : ماء البحر أم المنظف المنزلي؟ كم مرة يزيد تركيز أحدهما على الآخر؟

يوضح الشكل 3-15 العلاقة بين pH وتركيز H^+ ، والعلاقة بين pOH وتركيز OH^- عند درجة حرارة 298 K.



الشكل 3-15 ادرس هذا الشكل لزيادة معلوماتك حول pH و pOH. لاحظ أنه عند كل موقع عمودي يكون مجموع pH (فوق السهم) و pOH (تحت السهم) مساوياً 14. لاحظ أيضاً أنه عند كل موقع يكون حاصل ضرب $[H^+]$ في $[OH^-]$ يساوي 10^{-14} .

مثال 3-2

احسب قيمة pH من $[H^+]$ ما قيمة pH لمحلول متعاد عند درجة حرارة 298 K؟

1 تحليل المسألة

في المحلول المتعاد عند درجة حرارة 298 K، يكون $[H^+] = 1.0 \times 10^{-7} M$. ويتعين عليك أن تجد $-\log [H^+]$

المعطيات

$$[H^+] = 1.0 \times 10^{-7} M$$

المطلوب

$$pH = ?$$

2 حساب المطلوب

اكتب معادلة pH

$$عوض [H^+] = 1.0 \times 10^{-7} M$$

$$pH = -\log [H^+]$$

$$pH = -\log (1.0 \times 10^{-7})$$

تكون قيمة pH للمحلول المتعاد عند درجة حرارة 298 K تساوي 7.00

3 تقويم الإجابة

كان متوقعاً أن تكون قيمة pH تساوي 7.

مسائل تدريبية

23. احسب قيمتي pH للمحلولين الآتيين عند درجة حرارة 298 K.

$$a. [H^+] = 1.0 \times 10^{-2} M \quad b. [H^+] = 3.0 \times 10^{-6} M$$

24. احسب قيمتي pH للمحلولين الآتيين عند درجة حرارة 298 K.

$$a. [H^+] = 0.0055 M \quad b. [H^+] = 0.000084 M$$

25. تحفيز احسب قيمة pH لمحلول فيه $[OH^-]$ يساوي $8.2 \times 10^{-6} M$.

حساب pOH و pH من $[OH^-]$ يظهر الشكل 3-16 صورة بقرة تتغذى على قش عولج بمادة الأمونيا التي تعمل على زيادة البروتينات عند إضافتها إلى علف الحيوانات. وتستعمل الأمونيا كذلك منظفاً منزلياً؛ وهو محلول مائي لغاز الأمونيا. وعادة ما يكون تركيز أيون الهيدروكسيد في المنظف $4.0 \times 10^{-3} M$. احسب pH و pOH للمنظف عند درجة حرارة $298 K$.

1 تحليل المسألة

لقد أعطيت تركيز أيون الهيدروكسيد، وعليك حساب قيم pH و pOH . احسب أولاً قيمة pOH مستعملاً القانون، ثم احسب pH مستعملاً العلاقة $pH + pOH = 14.00$

المعطيات

$$[OH^-] = 4.0 \times 10^{-3} M$$

$$pOH = ?$$

$$pH = ?$$

2 حساب المطلوب

اكتب معادلة pOH

$$عوض [OH^-] = 4.0 \times 10^{-3} M$$

$$pOH = -\log [OH^-]$$

$$pOH = -\log (4.0 \times 10^{-3})$$

pOH للمحلول هو **2.40**.

استعمل العلاقة بين pH و pOH لإيجاد قيمة pH

$$pH + pOH = 14.00$$

اكتب المعادلة التي تربط بين pH و pOH

$$pH = 14.00 - pOH$$

أوجد قيمة pH

$$pH = 14.00 - 2.40 = \mathbf{11.60}$$

$$عوض pOH = 2.40$$

قيمة pH للمحلول هو **11.60**

3 تقويم الإجابة

قيمتا pH و pOH التي تم التوصل إليهما صحيحتان؛ لأن الأمونيا قاعدة، لذا فإن قيمة pOH الصغيرة وقيمة pH الكبيرة معقولتان.

مسائل تدريبية

26. احسب قيم pH و pOH للمحاليل المائية ذات التراكيز الآتية عند درجة حرارة $298 K$.

a. $[OH^-] = 1.0 \times 10^{-6} M$ c. $[H^+] = 3.6 \times 10^{-9} M$

b. $[OH^-] = 6.5 \times 10^{-4} M$ d. $[H^+] = 2.5 \times 10^{-2} M$

27. احسب قيم pH و pOH للمحلولين المائيين الآتين عند درجة حرارة $298 K$.

a. $[OH^-] = 0.000033 M$

b. $[H^+] = 0.0095 M$

28. تحفيز احسب قيم pH و pOH لمحلول مائي يحتوي على $1.0 \times 10^{-3} mol$ من HCl مذاب في $5.0 L$ من المحلول.



الشكل 3-16 يستطيع المزارعون أن يزيدوا القيمة الغذائية للمواد النباتية ذات النوعية الرديئة. ومنها القش والتبن وغيرهما من بقايا المزروعات - بوضع تلك المواد في جومن غاز الأمونيا مدة ثلاثة أسابيع.

حساب تركيز الأيونات من قيم pH قد تحتاج أحياناً إلى حساب تركيز أيونات H^+ و OH^- من خلال معرفة قيمة pH للمحلول. والمثال 3-4 يبين كيفية حسابها.

مثال 3-4

حساب $[H^+]$ و $[OH^-]$ من pH ما قيم $[H^+]$ و $[OH^-]$ في دم الشخص السليم الذي قيمة PH له = 7.40، مع افتراض أن درجة حرارة الدم هي 298 K.

1 تحليل المسألة

لقد أعطيت قيمة pH لمحلول ما، وعليك أن تحسب قيم $[H^+]$ و $[OH^-]$. يمكنك إيجاد $[H^+]$ باستعمال معادلة pH، ثم اطرح pH من 14.00 للحصول على قيمة pOH، ثم استعمل المعادلة التي تعرّف pOH لإيجاد $[OH^-]$.

المعطيات

$$pH = 7.40$$

المطلوب

$$[H^+] = ? \text{ mol/L}$$

$$[OH^-] = ? \text{ mol/L}$$

2 حساب المطلوب

لإيجاد قيمة $[H^+]$

اكتب معادلة pH

$$pH = -\log [H^+]$$

$$-pH = \log [H^+]$$

$$[H^+] = 10^{-pH}$$

$$[H^+] = 10^{-7.40}$$

$$[H^+] = 4.0 \times 10^{-8}M$$

عوّض pH = 7.40

تركيز أيونات H^+ في الدم $4.0 \times 10^{-8}M$.
أوجد قيمة: $[OH^-]$.

اكتب المعادلة التي تبين العلاقة بين pH و pOH

أوجد قيمة: pOH

عوّض pH = 7.40

اكتب معادلة: pOH

اضرب طرفي المعادلة في -1

$$pH + pOH = 14.00$$

$$pOH = 14.00 - pH$$

$$pOH = 14.00 - 7.40 = 6.60$$

$$pOH = -\log [OH^-]$$

$$-pOH = \log [OH^-]$$

$$[OH^-] = 10^{-6.60}$$

$$[OH^-] = 2.5 \times 10^{-7}M$$

تركيز أيونات OH^- في الدم $2.5 \times 10^{-7}M$.

3 تقويم الإجابة

وجد أن قيمة $[H^+]$ أقل من 10^{-7} وأن قيمة $[OH^-]$ أكبر من 10^{-7} ، وهما إجابتان مقبولتان.

مسائل تدريبية

29. احسب $[H^+]$ و $[OH^-]$ في كل من المحاليل الآتية:

c . حليب الماغنسيا، pH = 10.50

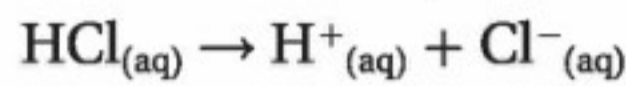
a . الحليب، pH = 6.50

d . الأمونيا المنزلية، pH = 11.90

b . عصير الليمون، pH = 2.37

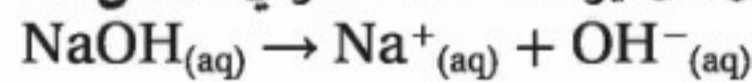
30. تحفيز احسب $[H^+]$ و $[OH^-]$ في عينة من ماء البحر، حيث pOH = 5.60.

المولارية والرقم الهيدروجيني pH للأحماض القوية تأمل الدورق اللذين يحتويان على محلولي الحمض والقاعدة في الشكل 3-17؛ حيث تم تحضيرهما حديثاً، وسُجلت مولارية كل منهما، وهي عدد المولات من الجزيئات أو وحدات الصيغ التي أذيت في لتر واحد من المحلول. يحتوي أحد الدورقين على حمض قوي HCl، ويحتوي الثاني على قاعدة قوية NaOH. تذكر أن الأحماض والقواعد القوية توجد بتركيز 100% في صورة أيونات في المحلول. وهذا يعني أن التفاعل الآتي لتأين HCl يستمر حتى اكتماله.



ينتج كل جزيء HCl أيون H^+ واحداً، مما يعني أن الدورق الذي كتب عليه 0.1 M من HCl يحتوي على 0.1 mol من H^+ لكل 1 L، و 0.1 mol من أيونات Cl^- لكل L. وفي الأحماض القوية الأحادية البروتون جميعها يكون تركيز الحمض مساوياً لتركيز أيونات H^+ في المحلول. لذا يمكنك أن تجد قيمة pH من خلال معرفتك لمولارية الحمض.

المولارية والرقم الهيدروجيني pH للقواعد القوية وبطريقة مماثلة، يكون محلول القاعدة القوية NaOH ذو التركيز 0.1 M الظاهر في الشكل 3-17 متأيناً كلياً.



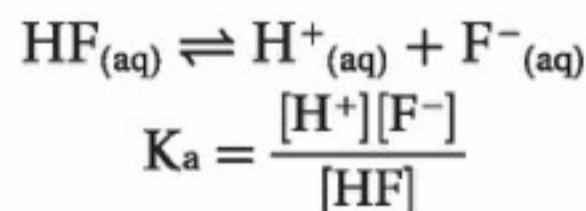
تنتج كل وحدة صيغة من NaOH أيون OH^- واحداً. وهكذا يساوي تركيز أيونات OH^- مولارية المحلول، 0.1 M.

قد تحتوي بعض القواعد القوية ومنها هيدروكسيد الكالسيوم $\text{Ca}(\text{OH})_2$ على أيون OH^- أو أكثر في كل وحدة صيغة. لذا يكون تركيز أيون OH^- في محلول $\text{Ca}(\text{OH})_2$ ضعف مولارية المركب الأيوني. فمثلاً تركيز أيونات الهيدروكسيد في محلول $\text{Ca}(\text{OH})_2$ تركيزه $7.5 \times 10^{-4} \text{ M}$ هو: $7.5 \times 10^{-4} \text{ M} \times 2 = 1.5 \times 10^{-3} \text{ M}$

إن الأحماض القوية والقواعد القوية تتأين كلياً في المحاليل المائية المخففة، والأحماض والقواعد الضعيفة تتأين جزئياً فقط. لذا عليك أن تستعمل قيم K_a و K_b لتحديد تراكيز أيونات H^+ و OH^- في محاليل الأحماض والقواعد الضعيفة.

✓ **ماذا قرأت؟ اشرح لماذا لا تستطيع أن تحصل على H^+ مباشرة من مولارية محلول حمض ضعيف؟**

حساب K_a من الرقم الهيدروجيني pH افترض أنك قمت بقياس قيمة pH لمحلول الحمض الضعيف HF الذي تركيزه 0.100 M فوجدته 3.20 فهل تكفي هذه المعلومات لحساب قيمة K_a للحمض HF؟



يمكنك أن تحسب $[\text{H}^+]$ من خلال معرفة قيمة pH. وتذكر أنه يجب أن يكون هناك تركيز مساوٍ من أيون F^- مقابل كل mol/L من أيون H^+ . وهذا يعني أنك تعرف اثنين من المتغيرات في قانون K_a . فماذا عن المتغير الثالث $[\text{HF}]$ ؟ تركيز HF عند الاتزان يساوي التركيز الابتدائي للحمض (0.100 M) مطروحاً منه mol/L من HF التي تحللت، والتي تساوي $[\text{H}^+]$.



الشكل 3-17 يرشدك الملصق

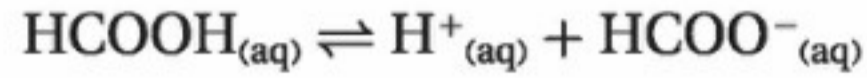
على دورق الحمض القوي أو القاعدة القوية إلى تركيز أيونات الهيدروجين أو أيونات الهيدروكسيد في المحلول. ويعود السبب في ذلك إلى وجود الأحماض والقواعد القوية كلياً على شكل أيونات عند إذابتها في الماء.

حدد $[\text{H}^+]$ في دورق HCl و $[\text{OH}^-]$ في دورق NaOH.

احسب K_a من pH يستعمل حمض الميثانويك (الفورميك) HCOOH لمعالجة عصارة أشجار المطاط وتحويلها إلى مطاط طبيعي. فإذا كانت قيمة pH لمحلول حمض الميثانويك الذي تركيزه 0.100 M هي 2.38، فما قيمة K_a للحمض؟

1 تحليل المسألة

لديك pH لمحلول حمض الميثانويك، وهذا يمكنك من حساب تركيز أيون الهيدروجين.



تدل المعادلة الكيميائية الموزونة على أن تركيز HCOO^- يساوي تركيز H^+ .

تركيز HCOOH غير المتأين هو الفرق بين التركيز الأولي للحمض و $[\text{H}^+]$.

المعطيات

pH = 2.38

$K_a = ?$

تركيز المحلول = 0.100 M

2 حساب المطلوب

اكتب معادلة pH

$$\text{pH} = -\log [\text{H}^+]$$

$$[\text{H}^+] = 10^{-\text{pH}}$$

$$[\text{H}^+] = 10^{-2.38}$$

$$[\text{H}^+] = 4.2 \times 10^{-3} \text{M}$$

عوض pH = 2.38

$$[\text{HCOO}^-] = [\text{H}^+] = 4.2 \times 10^{-3} \text{M}$$

$[\text{HCOOH}]$ يساوي التركيز الأولي ناقص $[\text{H}^+]$

اطرح $[\text{H}^+]$ من $[\text{HCOOH}]$

اكتب قانون ثابت تأين الحمض.

$$[\text{H}^+] = 4.2 \times 10^{-3} \text{M}$$

$$[\text{HCOOH}] = 0.096 \text{M}, [\text{HCOO}^-] = 4.2 \times 10^{-3} \text{M}$$

ثابت تأين الحمض HCOOH هو 1.8×10^{-4}

3 تقويم الإجابة قيمة K_a معقولة لحمض ضعيف.

$$[\text{HCOOH}] = 0.100 \text{M} - 4.2 \times 10^{-3} \text{M} = 0.096 \text{M}$$

$$K_a = \frac{[\text{H}^+][\text{HCOO}^-]}{[\text{HCOOH}]}$$

$$K_a = \frac{(4.2 \times 10^{-3})(4.2 \times 10^{-3})}{0.096} = 1.8 \times 10^{-4}$$

مسائل تدريبية

31. احسب K_a للحمضين الآتين:

b . محلول HClO_2 تركيزه 0.0400 M و pH = 1.80

a . محلول H_3AsO_4 تركيزه 0.220 M و pH = 1.50

32. احسب K_a للأحماض الآتية:

a . محلول حمض البنزويك $\text{C}_6\text{H}_5\text{COOH}$ ، تركيزه 0.00330 M و pOH = 10.70

b . محلول حمض السيانيك HCNO، تركيزه 0.100 M و pOH = 11.00

c . محلول حمض البيوتانويك $\text{C}_3\text{H}_7\text{COOH}$ تركيزه 0.15 M و pOH = 11.18

33. تحفيز احسب K_a لمحلول حمض HX الذي تركيزه 0.0091 M، وله pOH يساوي 11.32، ثم استعمل الجدول 4-5 لتحديد نوع الحمض.



الشكل 3-18 يمكن الحصول على قيمة pH تقريبية للمحلول بوضع قطعة من ورق تباع الشمس الأحمر بالمحلول، ومقارنة لونها بمجموعة من الألوان المعيارية، كما هو مبين في الصورة a. أما مقياس الحموضة الرقمي والموضح في الصورة b فيستعمل هنا لقياس pH لمطر حمضي؛ إذ يعطي قياساً أدق من استعمال ورق تباع الشمس.

قياس الرقم الهيدروجيني pH يعد ورق تباع الشمس الذي استعملته في التجربة الاستهلاكية مثلاً على نوع من أوراق كاشف الحموضة؛ فكل هذه الأوراق معالجة بمادة أو أكثر تسمى الكواشف؛ حيث يتغير لونها اعتماداً على تركيز أيونات الهيدروجين في المحلول. ويعد الفينولفثالين الذي استعملته في التجربة الاستهلاكية أيضاً نوعاً من الكواشف. وعند غمس ورقة كاشف pH في محلول حمضي أو قاعدي يتغير لونها، ثم نقوم بمقارنة اللون الجديد للورقة بألوان كاشف pH المعياري الموجود على ورقة مدرّجة، كما هو مبين في الشكل 3-18. ويعطي مقياس pH الرقمي الموضح في الشكل 3-18 قيمة الرقم الهيدروجيني بصورة أكثر دقة؛ فعندما توضع الأقطاب في المحلول يعطي المقياس قراءة مباشرة.

التقويم 3-3

الخلاصة

34. **الفكرة الرئيسية** اشرح لماذا تكون قيمة pH للمحلول الحمضي دائماً أصغر من قيمة pOH للمحلول نفسه؟
35. صف كيف يمكنك تحديد قيمة pH لمحلول ما إذا علمت قيمة pOH للمحلول نفسه؟
36. اشرح معنى K_w في المحاليل المائية.
37. اشرح - مستعملاً مبدأ لوتشاتلييه - ما يحدث لـ $[H^+]$ في محلول حمض الإيثانويك الذي تركيزه 0.10M عند إضافة قطرة من محلول NaOH.
38. اكتب قائمة بالمعلومات اللازمة لحساب قيمة K_a لحمض ضعيف.
39. احسب إذا علمت أن قيمة pH لحبة طماطم تساوي 4.50 تقريباً، فما $[H^+]$ و $[OH^-]$ فيها؟
40. حدد قيمة pH لمحلول يحتوي على 1.0×10^{-9} mol من أيونات OH^- لكل L.
41. احسب قيمة pH في المحاليل الآتية:
- 1.0 M KOH . c
- 1.0 M HI . a
- 2.4 × 10⁻⁵ M Mg(OH)₂ . d
- 0.050 M HNO₃ . b
42. تفسير الرسوم ارجع إلى الشكل 13-5 للإجابة عن السؤالين الآتيين: ماذا يحدث لكل من $[H^+]$ و $[OH^-]$ و pH و pOH عندما يصبح المحلول المتعادل أكثر حمضية؟ وماذا يحدث عندما يصبح المحلول المتعادل أكثر قاعدية؟
- ثابت تأين الماء K_w يساوي حاصل ضرب تركيز أيون H^+ وتركيز أيون OH^- pH المحلول هو سالب لوغاريتم تركيز أيون الهيدروجين. و pOH هو سالب لوغاريتم تركيز أيون الهيدروكسيد. ومجموع pH و pOH يساوي 14. قيمة pH للمحلول المتعادل تساوي 7.0، وقيمة pOH في المحلول نفسه تساوي 7.0؛ لأن تركيز أيونات الهيدروجين يساوي تركيز أيونات الهيدروكسيد.



Neutralization

التعادل

الأهداف

- تكتب معادلات كيميائية لتفاعلات التعادل.
- تشرح كيفية استعمال تفاعلات التعادل في معايرة الأحماض والقواعد.
- تقارن بين خواص المحاليل المنظمة والمحاليل غير المنظمة.

مراجعة المفردات

الحسابات الكيميائية؛ دراسة العلاقات الكمية بين كميات المواد المتفاعلة المستهلكة والنواتج المتكونة في التفاعل الكيميائي؛ بالاعتماد على قانون حفظ الكتلة.

المفردات الجديدة

تفاعل التعادل

الملح

المعايرة

المحلول القياسي

نقطة التكافؤ

كاشف الحمض والقاعدة

نقطة النهاية

تميه الأملاح

المحلول المنظم

سعة المحلول المنظم

الفكرة الرئيسية

يتفاعل الحمض مع القاعدة في تفاعل التعادل لينتج ملحاً وماءً.

الربط مع الحياة عندما يقدم فريقان متناظران حُججاً مقنعة تجد نفسك متحيراً بين الرأيين، لذا يكون رأيك محايداً أو متعادلاً؛ إذ تتساوى وجهتا النظر عندك. وبطريقة مماثلة يكون المحلول متعادلاً عندما تتساوى أعداد أيونات الهيدروجين وأيونات الهيدروكسيد في المحلول.

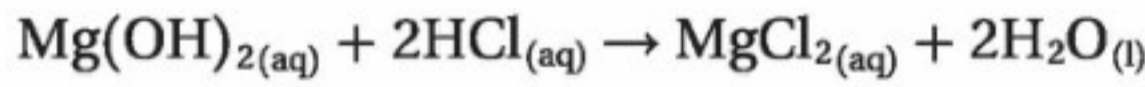
التفاعلات بين الأحماض والقواعد

Reactions Between Acids and Bases

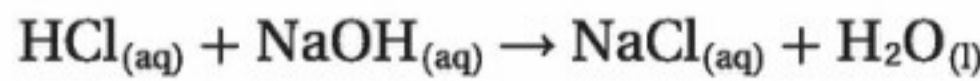
هل أحسست يوماً بسوء هضم أو حرقة في فم المعدة؟ هل تناولت أحد مضادات الحموضة كالتي تظهر في الشكل 3-19 لتخفف من حالة عدم الارتياح تلك؟ ما نوع التفاعل الذي يحدث عندما يلامس هيدروكسيد الماغنسيوم $Mg(OH)_2$ - وهو المركب النشط في حليب الماغنيسيا - محلول حمض الهيدروكلوريك (HCl) الذي تنتجه المعدة؟

عندما يتفاعل $Mg(OH)_2$ مع حمض HCl يحدث تفاعل تعادل. وتفاعل التعادل تفاعل محلول حمض مع محلول قاعدة ينتج ملحاً وماءً. والملح مركب أيوني يتكون من أيون موجب من قاعدة وأيون سالب من حمض، لذا يكون تفاعل التعادل إحللاً مزدوجاً.

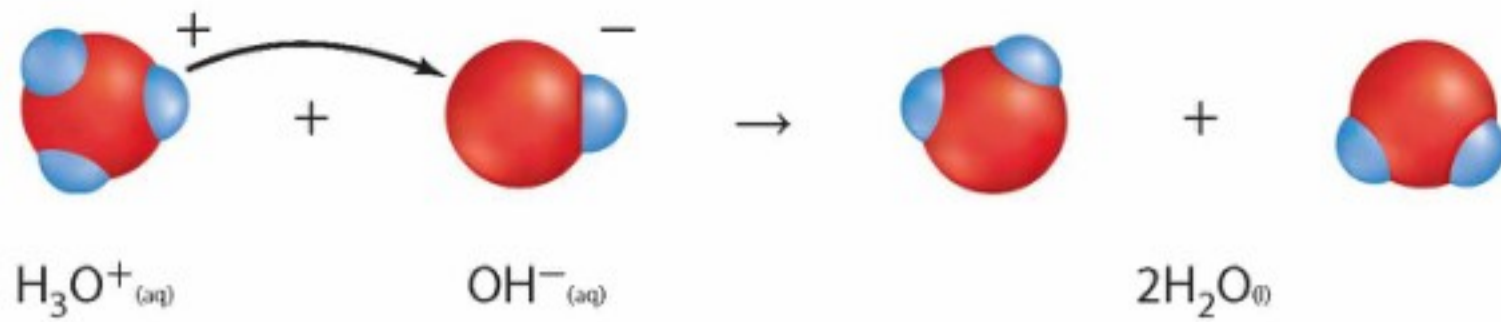
كتابة معادلات التعادل في التفاعل بين هيدروكسيد الماغنسيوم وحمض الهيدروكلوريك يحل الماغنسيوم محل الهيدروجين في HCl، ويحل الهيدروجين محل الماغنسيوم في $Mg(OH)_2$.



لاحظ أن الأيون الموجب من القاعدة يتحد بالأيون السالب من الحمض Cl^- في الملح $MgCl_2$. وعند كتابة معادلات التعادل عليك أن تعرف ما إذا كانت جميع المواد المتفاعلة والنواتج في المحلول تكون في صورة جزيئات أو وحدات صيغ. تفحص مثلاً معادلة الصيغ والمعادلة الأيونية الكاملة للتفاعل بين حمض الهيدروكلوريك وهيدروكسيد الصوديوم الآتية:

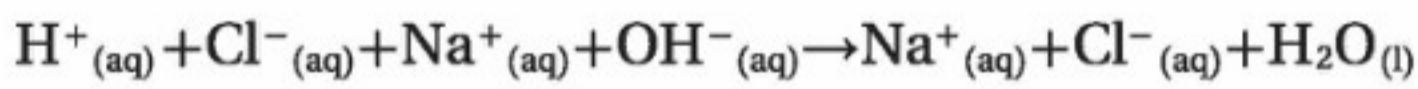


الشكل 3-19 يمكن لأي جرعة من هذه المواد المضادة للحموضة أن تخفف من أعراض سوء الهضم الحمضي؛ وذلك بتفاعلها مع المحلول الحمضي في المعدة ومعادلته.

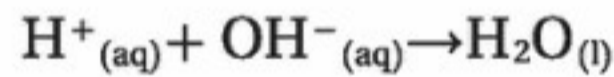


الشكل 20-3 ينتقل أيون الهيدروجين من أيون الهيدرونيوم إلى أيون الهيدروكسيد. وعندما يخسر H_3O^+ أيون هيدروجين يصبح جزيء ماء. وعندما يكسب OH^- أيون هيدروجين يصبح أيضاً جزيء ماء.

لأن HCl حمض قوي، و NaOH قاعدة قوية، و NaCl ملح قابل للذوبان، لذا تكون المركبات الثلاثة في صورة أيونات في المحلول المائي.



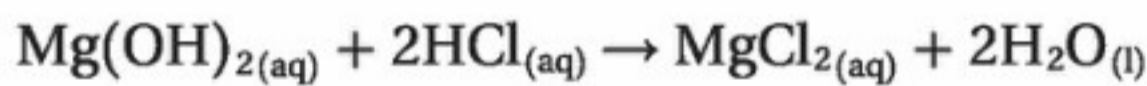
تظهر أيونات الصوديوم وأيونات الكلوريد على جانبي المعادلة، لذا تسمى أيونات متفرجة؛ أي لا تدخل في التفاعل، ويمكن حذفها للحصول على المعادلة الأيونية النهائية لمعادلة حمض قوي مع قاعدة قوية.



لاحظ تفاعل التعادل في الشكل 20-3.

ماذا قرأت؟ اكتب المعادلة الأيونية الكاملة، والمعادلة الأيونية النهائية لتعادل حمض HNO_3 مع القاعدة KOH .

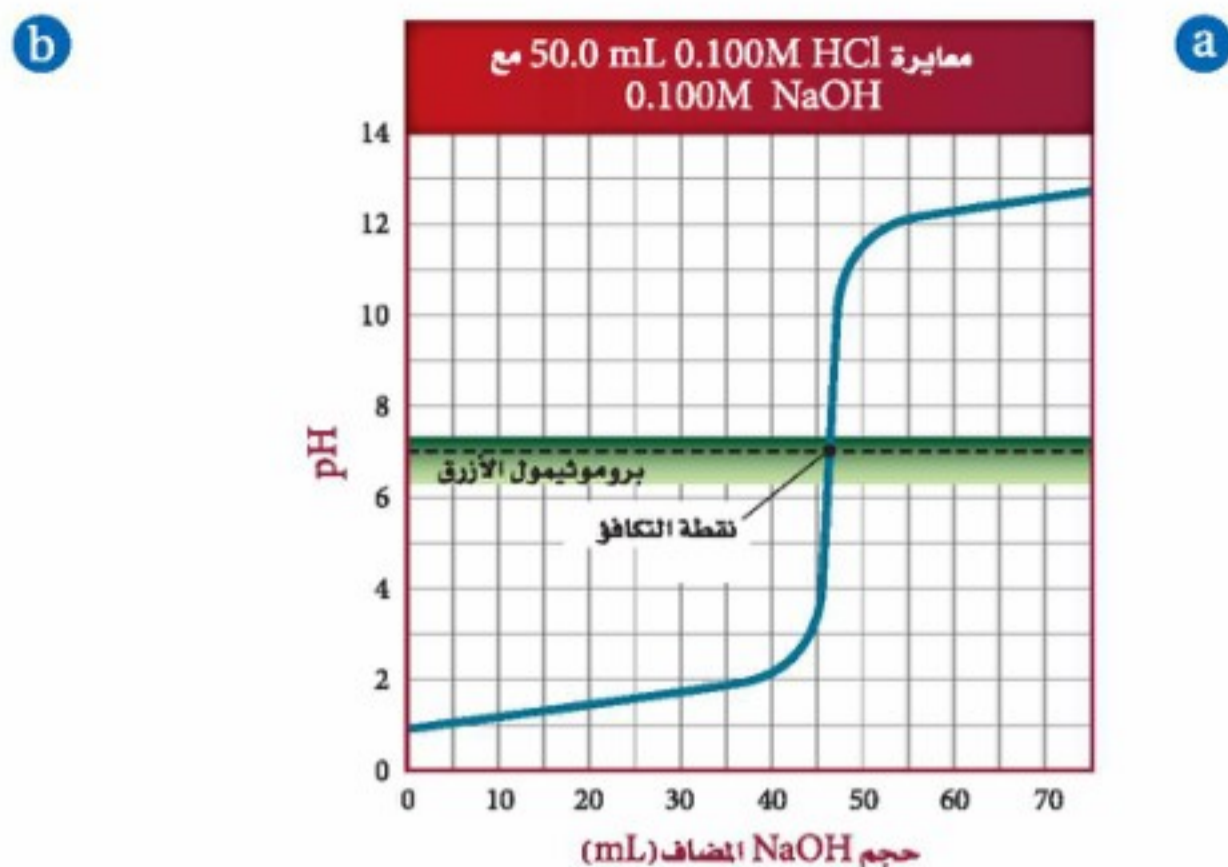
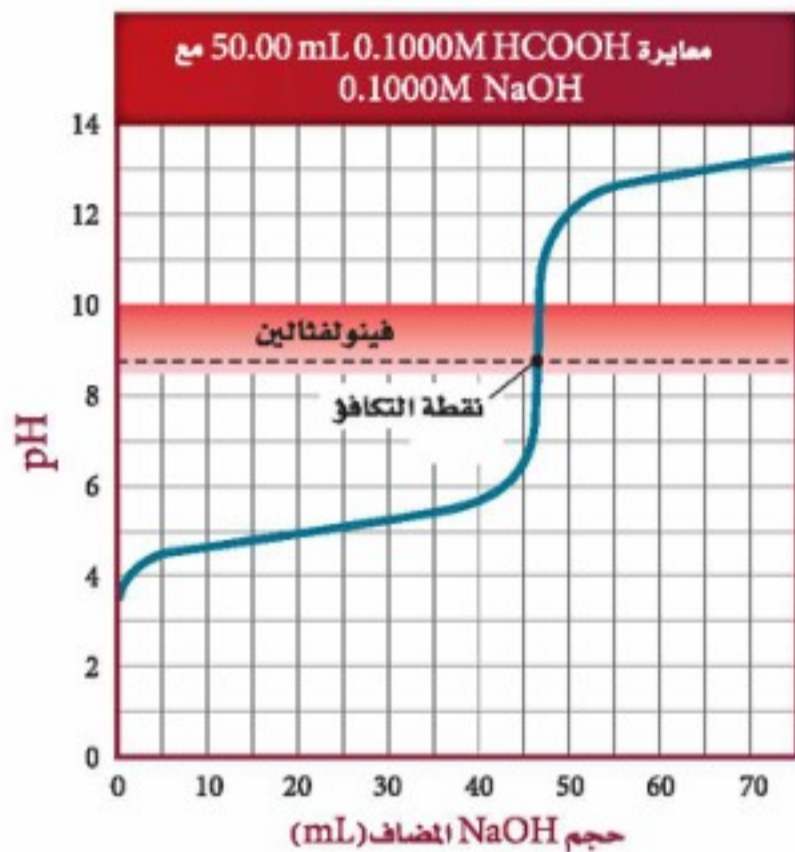
معايرة الأحماض والقواعد تتشابه الحسابات الكيميائية لحساب الكميات في تفاعل التعادل بين حمض وقاعدة مع أي تفاعل آخر يحدث في محلول. ففي تفاعل مضاد الحموضة الآتي نجد أن 1mol من $\text{Mg}(\text{OH})_2$ يعادل 2mol من HCl



وتبين الحسابات الكيميائية أساس طريقة المعايرة، والتي تستعمل لتحديد تراكيز المحاليل الحمضية والقاعدية. **المعايرة** طريقة لتحديد تركيز محلول ما؛ وذلك بتفاعل حجم معلوم منه مع محلول تركيزه معلوم. فإذا أردت إيجاد تركيز محلول حمضي فسوف تعايره مع محلول قاعدي تركيزه معلوم. كما يمكنك معايرة قاعدة تركيزها غير معلوم مع حمض تركيزه معلوم. كيف تتم معايرة حمض وقاعدة؟ بين الشكل 21-3 نوعاً من المعدات المستخدمة في عملية المعايرة. ويستعمل في هذه الطريقة مقياس pH لمراقبة التغير في قيم pH في أثناء عملية المعايرة.

الشكل 21-3 عند معايرة حمض مع قاعدة يستعمل مقياس pH لقياس pH للمحلول الحمضي في الكأس، في حين تتم إضافة محلول قاعدي معروف التركيز بالسّحاحة.





الشكل 3-22 يدل الارتفاع الحاد في قيمة pH للمحلول الحمضي عند معايرة حمض قوي بقاعدة قوية. كما هو مبين في الشكل **a**. على أن جميع أيونات H^+ في الحمض قد تمت معادلتها بواسطة أيونات OH^- من القاعدة. وتسمى النقطة التي ينتهي عندها المنحنى عند تقاطعه مع الخط المنقط، نقطة التكافؤ للمعايرة. فيغير الكاشف بروموثيمول الأزرق لونه عند هذه النقطة. أما في الشكل **b** فتتم معايرة حمض ضعيف $HCOOH$ بقاعدة قوية $NaOH$ ولا تظهر نقطة التكافؤ عند $pH = 7$ ، فيغير الكاشف فينولفثالين لونه عند نقطة التكافؤ الموضحة في الشكل.

قارن بين نقطتي التكافؤ في الرسمين.

خطوات المعايرة كيف تتم معايرة حمض وقاعدة؟

1. يوضع حجم معين من المحلول الحمضي أو القاعدي غير المعروف التركيز في كأس زجاجية، ثم تغمس أقطاب مقياس pH في هذا المحلول، وتقرأ قيمتها الابتدائية للمحلول وتسجل.
2. تُملأ السحاحة بمحلول المعايرة المعلوم تركيزه. يسمى هذا المحلول المحلول القياسي.
3. تضاف قطرتين من كاشف مناسب ثم تضاف أحجام معلومة من المحلول القياسي ببطء إلى المحلول الموجود في الكأس وتخلط معه. ثم تقرأ قيمة pH وتسجل بعد كل إضافة. تستمر هذه العملية إلى أن يصل التفاعل إلى **نقطة التكافؤ**. وهي نقطة يتساوى عندها عدد مولات H^+ من الحمض مع عدد مولات OH^- من القاعدة.

يبين الشكل **3-22a** كيف تتغير قيمة pH للمحلول في أثناء معايرة HCl 50.0 mL الذي تركيزه 0.100 M، وهو حمض قوي، مع القاعدة القوية $NaOH$ ذات التركيز 0.100 M؛ حيث كانت قيمة pH الأولية لـ HCl تساوي 1.00. وفي أثناء إضافة $NaOH$ يتعادل الحمض، وتزداد قيمة pH المحلول تدريجياً. إلا أنه عندما تُستهلك أيونات H^+ جميعها تزداد قيمة pH على نحو كبير عند إضافة حجم صغير جداً من $NaOH$. وتحدث هذه الزيادة الحادة في قيمة pH عند نقطة تكافؤ المعايرة. إن إضافة المزيد من $NaOH$ بعد نقطة التكافؤ ينجم عنه زيادة تدريجية مرة أخرى في pH.

لعلك تعتقد أنه يجب أن تكون نقطة التكافؤ في عمليات المعايرة جميعها عندما تكون قيمة pH تساوي 7؛ لأنه عند هذه النقطة تتساوى تراكيز أيونات الهيدروجين وأيونات الهيدروكسيد، فيصبح المحلول متعادلاً. ولكن هذا غير صحيح، فبعض المعايير لها نقاط تكافؤ عند قيم pH أقل من 7، وبعضها له نقاط تكافؤ أكبر من 7. وتحدث هذه الاختلافات لأن هناك تفاعلات بين الأملاح التي تكونت والماء، كما ستتعلم ذلك لاحقاً. يبين الشكل **3-22b** أن نقطة التكافؤ في معايرة حمض الميثانويك - وهو حمض ضعيف - بهيدروكسيد الصوديوم - وهي قاعدة قوية - تقع بين pH 8 و 9.

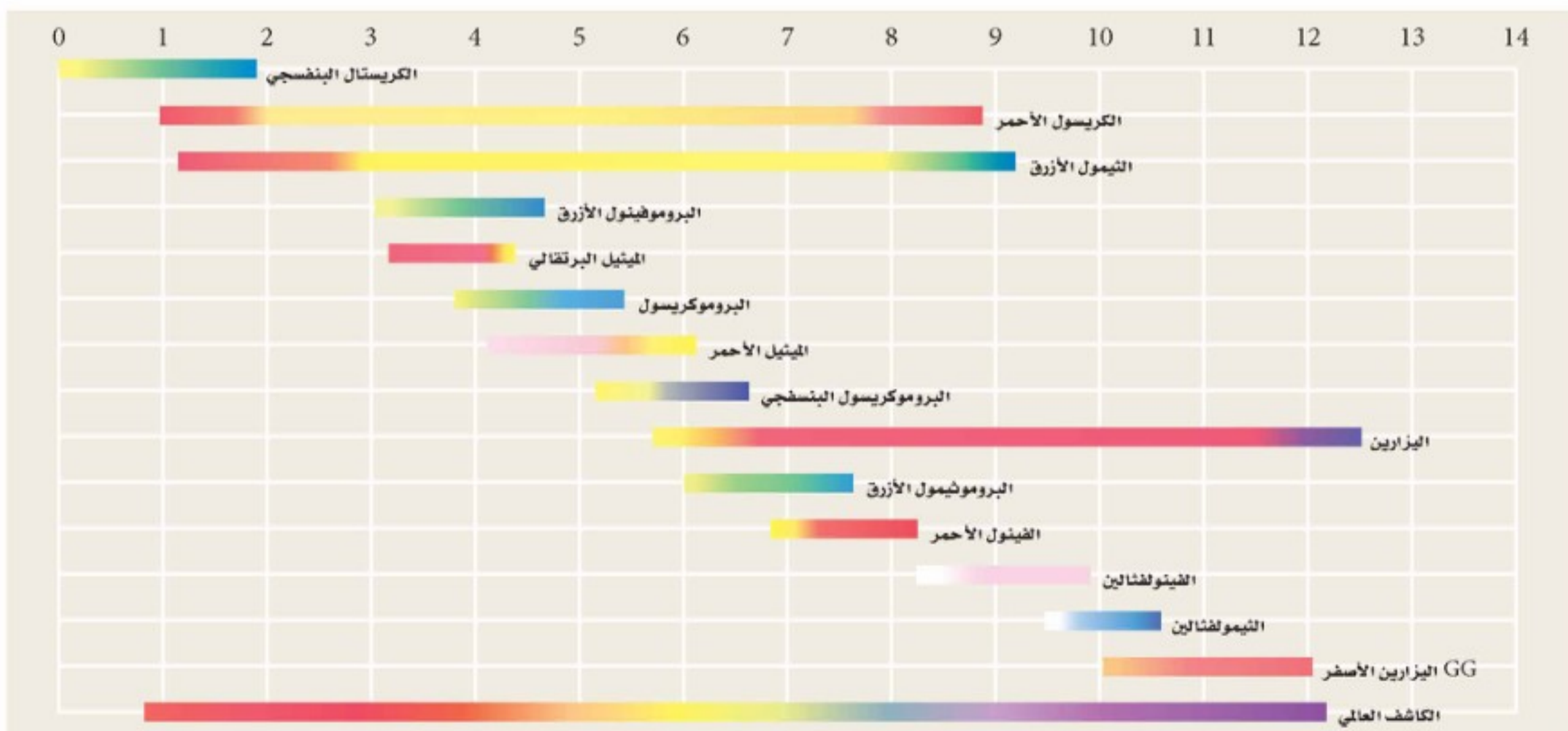
اختبار الرسم البياني حدد اختلافين بين الرسمين البيانيين في الشكل **3-22**.

الشكل 23-3 يصبح لون الشاي الأحمر فاتحاً عند إضافة عصير الليمون إليه؛ لأنه يحتوي على مادة كيميائية تعد من الكواشف. ومعظم الكواشف جزيئات كبيرة تعمل بوصفها أحماضاً ضعيفة. ويعود السبب في تغير ألوان الكواشف إلى اختلافات يسيرة في أنماط الروابط عندما يتأين جزيء الكاشف أو لا يتأين.



كواشف الأحماض والقواعد غالباً ما يستعمل الكيميائيون أصباغاً كيميائية بدلاً من مقياس pH لتحري نقطة التكافؤ عند معايرة حمض وقاعدة. وتسمى الأصباغ الكيميائية التي تتأثر ألوانها بالمحاليل الحمضية والقاعدية **كواشف الأحماض والقواعد**. وهناك العديد من المواد الطبيعية التي تعمل عمل الكواشف، فإذا أضفت عصير الليمون إلى الشاي فسوف تلاحظ أن اللون الأحمر للشاي أصبح فاتحاً، كما في الشكل 23-3؛ إذ يحتوي الشاي على مواد تسمى بوليفينولات polyphenols، تحتوي على ذرات متأينة جزئياً من الهيدروجين، لذا فهي أحماض ضعيفة. وعند إضافة الحمض الموجود في عصير الليمون إلى كوب شاي يقل تأين الحمض في الشاي بحسب مبدأ لوتشاتلييه، فيصبح لون البوليفينولات غير المتأينة أكثر وضوحاً، ويظهر الشكل 24-3 العديد من الكواشف التي يستعملها الكيميائيون. إن أزرق بروموثيمول كاشف مناسب عند معايرة حمض قوي بقاعدة قوية. أما الفينولفثالين فيغير لونه عند نقطة التكافؤ عند معايرة حمض ضعيف بقاعدة قوية، كما هو مبين في الشكل 22-3.

الشكل 24-3 إن عملية اختيار الكاشف الصحيح مهمة جداً؛ إذ يجب أن يغير الكاشف لونه عند نقطة التكافؤ التي لا تكون دائماً عند $pH = 7$.





تكون نقطة نهاية المعايرة عندما يصبح اللون وردياً فاتحاً. تبين القراءة الدقيقة للسحاحة أن 0.1000 M NaOH الذي تركيزه 18.28 mL الذي تركيزه 0.1000 M قد تمت إضافته.



يضاف المحلول القياسي ببطء إلى محلول الحمض. ويتحول الفينولفثالين إلى اللون الوردي، ولكن يختفي اللون عند تحريك المحلول إلى أن يصل إلى نقطة النهاية.



تحتوي السحاحة على المحلول القياسي 0.1 M NaOH ويحتوي الدورق المخروطي على 25.00 mL من محلول HCOOH مع قطرات من كاشف الفينولفثالين.

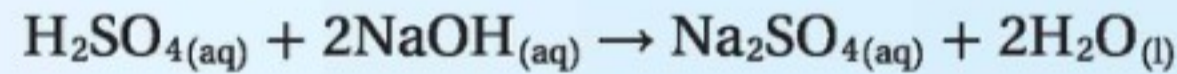
الشكل 25-3 المعايرة طريقة دقيقة تحتاج إلى تدريب وممارسة. تعمل الورقة البيضاء الموضوعة تحت الدورق على توفير خلفية مناسبة تساعد على رؤية التغير في لون الكاشف.

الكواشف ونقطة نهاية المعايرة يعد الكثير من الكواشف المستعملة في المعايرة أحماضاً ضعيفة، لكل منها قيمة pH خاصة به، أو مدى pH يتغير لونه بعده. وتسمى النقطة التي يتغير لون الكاشف عندها **نقطة نهاية المعايرة**. أما نقطة التكافؤ فهي النقطة التي يتساوى عندها عدد مولات الحمض مع عدد مولات القاعدة، وتسمى نقطة التكافؤ بنقطة التعادل في حالة تفاعل الأحماض والقواعد القوية. لذا من المهم اختيار كاشف للمعايرة يغير لونه عند نقطة تكافؤ المعايرة الصحيحة. تذكر أن دور الكاشف أن يبين لك بدقة - عن طريق تغير لونه - أنه قد تمت إضافة كمية كافية من المحلول القياسي لتعادل المحلول المجهول. يصف الشكل 25-3 طريقة معايرة محلول مجهول التركيز من حمض الميثانويك HCOOH مع محلول NaOH تركيزه 0.1000 M.

استراتيجية حل المسائل

حساب المولارية

تعد المعادلة الموزونة لتفاعلات المعايرة المفتاح الرئيس لحساب المولارية المجهولة. فمثلاً تتم معايرة حمض الكبريتيك بهيدروكسيد الصوديوم وفق المعادلة الآتية:



1. احسب عدد مولات NaOH في المحلول المعياري من بيانات المعايرة:

M_B : مولارية القاعدة؛ V_B : حجم القاعدة.

$M_B V_B = (\text{mol/L})(L) = \text{mol NaOH}$ في المحلول القياسي

2. تستطيع أن تعرف من المعادلة أن نسبة مولات NaOH إلى H_2SO_4 هي 1:2، أي أنه يتطلب 2 mol NaOH

لتعادل 1 mol H_2SO_4

$$\text{mol H}_2\text{SO}_4 = \text{mol NaOH} \times \frac{1 \text{ mol H}_2\text{SO}_4}{2 \text{ mol NaOH}}$$

3. تمثل M_A مولارية الحمض، بينما تمثل V_A حجم الحمض L.

$$M_A = \frac{\text{mol H}_2\text{SO}_4}{V_A}$$

طبق هذه الاستراتيجية عند دراستك للمثال 6-3 في الصفحة الآتية.

حساب المولارية من بيانات المعايرة نحتاج إلى محلول قياسي حجمه 18.28 mL من NaOH، وتركيزه 0.1000 M للتعادل مع 25.00 mL من محلول حمض الميثانويك HCOOH. احسب مولارية محلول حمض الميثانويك.

1 تحليل المسألة

لديك مولارية محلول NaOH وحجمه، ولديك كذلك حجم محلول حمض الميثانويك HCOOH. حجم القاعدة المستعمله يساوي أربعة أخماس حجم الحمض تقريبًا. إذن تكون مولارية الحمض أقل من 0.1 M.

المعطيات

$$M_B = 0.1000M \quad V_A = 25.00 \text{ mL HCOOH}$$

$$M_A = ? \text{ mol/L} \quad V_B = 18.28 \text{ mL NaOH}$$

2 حساب المطلوب

اكتب المعادلة الكيميائية الموزونة لتفاعل التعادل. $\text{HCOOH}_{(aq)} + \text{NaOH}_{(aq)} \rightarrow \text{HCOONa}_{(aq)} + \text{H}_2\text{O}_{(l)}$

1 mol HCOOH تعادل 1 mol NaOH

$$V_B = 18.28 \text{ mL} \times \frac{1 \text{ L}}{1000 \text{ mL}} = 0.01828 \text{ L}$$

$$\text{Mol NaOH} = M_B V_B$$

$$\text{Mol NaOH} = (0.1000 \text{ mol/L})(0.01828 \text{ L})$$

$$= 1.828 \times 10^{-3} \text{ mol NaOH}$$

$$1.828 \times 10^{-3} \text{ mol NaOH} \times \frac{1 \text{ mol HCOOH}}{1 \text{ mol NaOH}}$$

$$= 1.828 \times 10^{-3} \text{ mol HCOOH}$$

$$1.828 \times 10^{-3} \text{ mol HCOOH} = M_A V_A$$

$$M_A = \frac{1.828 \times 10^{-3} \text{ mol HCOOH}}{V_A}$$

$$V_A = 25.00 \text{ mL} \times \frac{1 \text{ L}}{1000 \text{ mL}} = 0.02500 \text{ L HCOOH}$$

$$M_A = \frac{1.828 \times 10^{-3} \text{ mol HCOOH}}{0.02500 \text{ L HCOOH}} = 7.312 \times 10^{-2} \text{ mol/L}$$

اكتب النسبة المولية للحمض والقاعدة.

حوّل حجم القاعدة من mL إلى L.

لحساب عدد مولات NaOH.

طبّق العلاقة بين مولات القاعدة، ومولارية القاعدة، وحجم القاعدة.

عوّض $V_B = 0.01828 \text{ L}$ و $M_B = 0.1000 \text{ M}$

لحساب مولات HCOOH.

طبّق العلاقة المولية بين NaOH و HCOOH

لحساب مولارية HCOOH

استعمل العلاقة بين مولات الحمض، ومولارية الحمض، وحجم

الحمض.

أوجد قيمة M_A .

حول حجم الحمض من mL إلى L

عوّض $V_A = 0.02500 \text{ L}$.

3 تقويم الإجابة

تتفق الإجابة مع توقع أن تكون مولارية HCOOH أقل من 0.1 M، كما أن الوحدة مناسبة.


مسائل تدريبية

43. ما مولارية محلول حمض النيتريك إذا لزم 43.33 mL KOH تركيزه 0.1000 M لمعادلة 20.00 mL من محلول حمض النيتريك؟

44. ما تركيز محلول الأمونيا المستعمل في مواد التنظيف المنزلي إذا لزم 49.90 mL HCl تركيزه 0.5900 M لمعادلة 25.00 mL من هذا المحلول؟

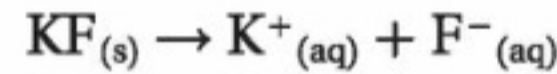
45. تحفيز كم mL من NaOH الذي تركيزه 0.500 M يمكن أن يتعادل مع 25.00 mL من H_3PO_4 تركيزه 0.100 M؟

تمية الأملاح Salt Hydrolysis

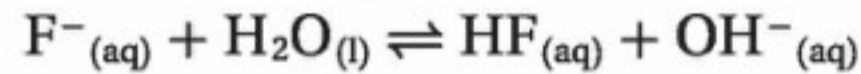


الشكل 3-26 يعطي كاشف البروموثيمول الأزرق نتائج مذهلة عند إضافته إلى ثلاثة محاليل من الأملاح الأيونية. فمحلول NH_4Cl حمضي، ومحلول NaNO_3 متعادل، بينما محلول KF قاعدي. ويُعزى التفسير إلى قوى الأحماض والقواعد التي تكوّنت منها هذه الأملاح.

أضيفت بضع قطرات من محلول كاشف البروموثيمول الأزرق - انظر الشكل 3-26 إلى محاليل مائية من أملاح كلوريد الأمونيوم NH_4Cl و نترات الصوديوم NaNO_3 ، وفلوريد البوتاسيوم KF تركيزها 0.10 M . وكما تلاحظ فقد غير محلول نترات الصوديوم لون الكاشف إلى اللون الأخضر، وهذا يعني أن المحلول متعادل. ويشير اللون الأزرق في محلول KF إلى أن المحلول قاعدي، بينما يدل اللون الأصفر لمحلول كلوريد الأمونيوم على أن المحلول حمضي. لماذا تكون بعض محاليل الأملاح متعادلة، وبعضها قاعدي وبعضها الآخر حمضي؟ يتفاعل الكثير من الأملاح مع الماء في عملية تعرف باسم **تمية الأملاح**؛ حيث تستقبل الأيونات السالبة من الملح المتأين - في أثناء هذه العملية - أيونات الهيدروجين من الماء، أو تمنح الأيونات الموجبة من الملح المتفكك أيونات الهيدروجين للماء. **الأملاح التي تنتج محاليل قاعدية** ينتج ملح فلوريد البوتاسيوم عن قاعدة قوية KOH وحمض ضعيف HF ، ثم يتحلل هذا الملح إلى أيونات بوتاسيوم وأيونات فلوريد.



لا تتفاعل أيونات K^+ مع الماء، وذلك بسبب تعادها مع أيونات OH^- وتكون محلول قاعدي من KOH . ويعد أيون F^- قاعدة ضعيفة بحسب برونستد - لوري. لذا توجد بعض أيونات الفلوريد في حالة اتزان مع الماء، كما في التفاعل الآتي:

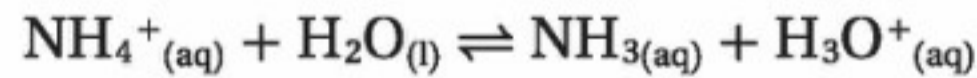


وهذا يعني أن المواد الناتجة تتكون من جزيئات فلوريد الهيدروجين وأيونات OH^- مما يجعل المحلول قاعدياً.

الأملاح التي تنتج محاليل حمضية ينتج ملح NH_4Cl عن قاعدة ضعيفة NH_3 وحمض قوي HCl ، وعند إذابته في الماء يتفكك الملح لينتج أيونات الأمونيوم وأيونات الكلوريد، كما في التفاعل الآتي:



لا تتفاعل أيونات Cl^- مع الماء، وذلك بسبب تعادها مع أيونات الهيدرونيوم وتكون محلول حمضي HCl . أما أيون NH_4^+ فهو حمض ضعيف بحسب برونستد - لوري. لذا تتفاعل أيونات الأمونيوم مع جزيئات الماء منتجة حالة الاتزان الآتية:



ونتيجة لذلك تنتج جزيئات أمونيا وأيونات هيدرونيوم، مما يجعل المحلول حمضياً.

الأملاح التي تنتج محاليل متعادلة ينتج ملح نترات الصوديوم NaNO_3 عن حمض قوي HNO_3 وقاعدة قوية NaOH . لذلك قد يحدث تميّه بسيط جداً للملح، وقد لا يحدث تميّه أبداً؛ لأن Na^+ و NO_3^- لا يتفاعلان مع الماء، لذا يكون محلول نترات الصوديوم متعادلاً.

46. اكتب معادلات لتفاعلات تميّه الأملاح التي تحدث عند إذابة الأملاح الآتية في الماء، وصنّف كلّ منها إلى حمضي، أو قاعدي، أو متعادل:

a. نترات الأمونيوم b. كبريتات البوتاسيوم c. إيثانوات الروبيديوم d. كربونات الكالسيوم

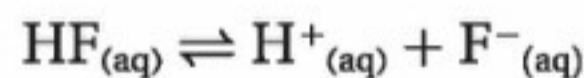
47. تحفيزاً اكتب معادلة التفاعل الذي يحدث عند معايرة هيدروكسيد الأمونيوم NH_4OH مع بروميد الهيدروجين HBr . وهل تكون قيمة pH عند نقطة التكافؤ أكبر أو أقل من 7؟

المحاليل المنظمة Buffered Solutions

من المهم جداً لقناديل البحر المبيّنة في الشكل 27-3 أن تبقى قيم pH لمياه أحواض الأحياء المائية ضمن مدى صغير. وكذلك الأمر لجسم الإنسان؛ فمن المهم أيضاً بقاء قيمة pH ثابتة؛ حيث يجب أن يبقى pH للدم في الجسم ضمن مدى 7.1 إلى 7.7. وفي العصارة المعدية يجب أن يبقى pH بين 1.6 و 1.8 ليساعد على هضم أنواع معينة من الطعام. ويحافظ الجسم على pH ضمن حدود معينة من خلال إنتاج محاليل منظمة. **ما المحلول المنظم؟ المحاليل المنظمة** محاليل تقاوم التغيرات في قيم pH عند إضافة كميات محددة من الأحماض أو القواعد. فمثلاً عند إضافة 0.01 mol من HCl إلى 1L من الماء النقي ينخفض pH من 7.0 إلى 2.0. وكذلك فإن إضافة 0.01 mol من NaOH إلى 1 L من الماء النقي ترفع قيم pH من 7.0 إلى 12.0. ولكن عند إضافة الكمية نفسها من HCl أو NaOH إلى 1 L من محلول منظم فقد يتغير pH بما لا يزيد على 0.1 وحدة.

كيف تعمل المحاليل المنظمة؟ المحلول المنظم خليط من حمض ضعيف مع قاعدته المرافقة، أو قاعدة ضعيفة مع حمضها المرافق؛ حيث يعمل خليط الجزيئات والأيونات في المحلول المنظم على مقاومة تغيرات pH عن طريق التفاعل مع أي أيونات هيدروجين، أو أيونات هيدروكسيد تضاف إلى المحلول المنظم.

افتراض مثلاً أن محلولاً منظماً يحتوي على تراكيز 0.1 M من حمض الهيدروفلوريك HF وفلوريد الصوديوم NaF؛ حيث يعطي NaF أيونات F^- بتركيز 0.1 M والتي تعد القاعدة المرافقة لحمض HF، لذا يتحقق الاتزان الآتي:



إضافة حمض عند إضافة حمض إلى هذا المحلول المنظم فإن الاتزان يندفع إلى اليسار بحسب مبدأ لوتشاتلييه؛ لأن أيونات H^+ المضافة من الحمض تكون ضغطاً على الاتزان. وللتقليل من أثر هذا الضغط تتفاعل أيونات H^+ مع F^- لتكوين المزيد من جزيئات HF.

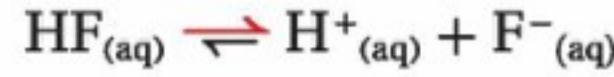


وبهذا يصل النظام إلى حالة الاتزان من جديد مع وجود كمية أكبر من HF غير المتفكك. ومع ذلك فإن pH المحلول قد تغير قليلاً فقط؛ لأن اتجاه الاتزان إلى اليسار استهلك معظم أيونات H^+ التي أضيفت.



الشكل 27-3 لكي تكون البيئة صعبة لقناديل البحر، يجب أن تبقى قيمة pH للماء في أحواض الأحياء المائية بين 8.1 و 8.4.

إضافة قاعدة عند إضافة قاعدة إلى المحلول المنظم المكون من حمض الهيدروفلوريك وأيونات الفلوريد تتفاعل أيونات OH^- المضافة مع أيونات H^+ لتكون H_2O ، وهذا يقلل من تركيز أيونات H^+ ، فيتجه الاتزان إلى اليمين للتعويض عن أيونات H^+ .



مع أن اتجاه التفاعل إلى اليمين يقلل كمية HF ، وينتج المزيد من F^- ، إلا أن pH يبقى ثابتاً تقريباً؛ لأن تركيز أيون H^+ لم يتغير كثيراً. إن قدرة المحلول المنظم على مقاومة تغير pH يتم تجاوزها في حالة إضافة كمية كبيرة من الحمض أو القاعدة. تسمى كمية الحمض أو القاعدة التي يستطيع المحلول المنظم أن يستوعبها دون تغير مهم في pH **سعة المحلول المنظم**. وكلما زادت تراكيز الجزيئات والأيونات المنظمة في المحلول زادت سعة المحلول المنظم.

اختيار المحلول المنظم يكون المحلول المنظم أكثر فاعلية عندما يساوي تركيز الحمض تركيز القاعدة المرافقة له، أو تكاد تكون متساوية. تأمل النظام المنظم المكون من H_2PO_4^- و HPO_4^{2-} الناتج عن خلط كميتين مولاريتين متساويتين من Na_2HPO_4 و NaH_2PO_4 .



ما قيمة pH لهذا المحلول؟

$$K_a = 6.2 \times 10^{-8} = \frac{[\text{H}^+][\text{HPO}_4^{2-}]}{[\text{H}_2\text{PO}_4^-]}$$

لأن المحلول مكون من كميتين مولاريتين متساويتين من Na_2HPO_4 و NaH_2PO_4 ، فإن $[\text{HPO}_4^{2-}]$ يساوي $[\text{H}_2\text{PO}_4^-]$.

لذا فإن التركيزين يختزلان في تعبير ثابت تأين الحمض.

$$6.2 \times 10^{-8} = \frac{[\text{H}^+][\text{HPO}_4^{2-}]}{[\text{H}_2\text{PO}_4^-]} = [\text{H}^+]$$

$$\text{pH} = -\log [\text{H}^+] = -\log (6.2 \times 10^{-8}) = 7.21$$

وهكذا، عندما توجد كميات مولارية متساوية في نظام $\text{H}_2\text{PO}_4^- / \text{HPO}_4^{2-}$ المنظم فإن النظام يستطيع أن يحافظ على pH قريباً من 7.21. لاحظ أن $\text{pH} = -\log K_a$. يحتوي الجدول 3-7 على قائمة من أنظمة منظمة عديدة مع pH عندما يكون كل منها أكثر فاعلية.

المفردات

الاستعمال العلمي والاستعمال

الشائع

منظم Buffer

الاستعمال العلمي: محلول يقاوم تغيرات pH عند إضافة كميات محدودة من حمض أو قاعدة.

قرر الكيميائي استعمال محلول منظم (Buffer) يتكون من

كميتين مولاريتين متساويتين من حمض الميثانويك (الفورميك)

وميثانوات (فورمات) الصوديوم. الاستعمال الشائع: شيء يعمل

حاجزاً واثقاً.

يعمل الجدار البحري العالي مصدراً (Buffer) لحماية المنازل

المبنيّة على الشاطئ من العواصف البحرية.

المحاليل المنظمة والأزواج المترافقة

الجدول 3-7

قيمة pH	الأزواج المترافقة من الأحماض والقواعد في المحاليل المنظمة	معادلات تأين المحاليل المنظمة
3.20	HF/F^-	$\text{HF}_{(\text{aq})} \rightleftharpoons \text{H}^+_{(\text{aq})} + \text{F}^-_{(\text{aq})}$
4.76	$\text{CH}_3\text{COOH}/\text{CH}_3\text{COO}^-$	$\text{CH}_3\text{COOH}_{(\text{aq})} \rightleftharpoons \text{H}^+_{(\text{aq})} + \text{CH}_3\text{COO}^-_{(\text{aq})}$
6.35	$\text{H}_2\text{CO}_3/\text{HCO}_3^-$	$\text{H}_2\text{CO}_{3(\text{aq})} \rightleftharpoons \text{H}^+_{(\text{aq})} + \text{HCO}_3^-_{(\text{aq})}$
7.21	$\text{H}_2\text{PO}_4^-/\text{HPO}_4^{2-}$	$\text{H}_2\text{PO}_4^-_{(\text{aq})} \rightleftharpoons \text{H}^+_{(\text{aq})} + \text{HPO}_4^{2-}_{(\text{aq})}$
9.4	$\text{NH}_4^+/\text{NH}_3$	$\text{NH}_{3(\text{aq})} + \text{H}_2\text{O}_{(\text{l})} \rightleftharpoons \text{NH}_4^+_{(\text{aq})} + \text{OH}^-_{(\text{aq})}$
10.70	$\text{C}_2\text{H}_5\text{NH}_3^+/\text{C}_2\text{H}_5\text{NH}_2$	$\text{C}_2\text{H}_5\text{NH}_{2(\text{aq})} + \text{H}_2\text{O}_{(\text{l})} \rightleftharpoons \text{C}_2\text{H}_5\text{NH}_3^+_{(\text{aq})} + \text{OH}^-_{(\text{aq})}$

مختبر حل المشكلات

تطبيق التفسيرات العلمية

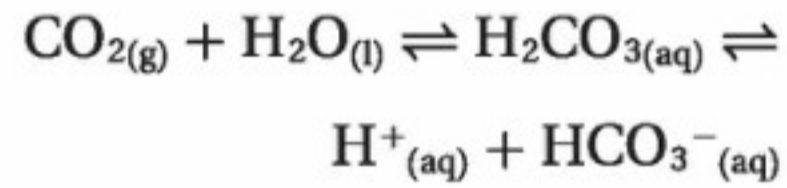
التحليل

سيغير موضع اتزان H_2CO_3/HCO_3^- بحسب مبدأ لوتشاتليه اعتماداً على معدل الأيض في الجسم وعوامل أخرى. وبالإضافة إلى ذلك تستطيع الرئتان أن تغير سرعة طرد CO_2 من الجسم عن طريق التنفس، وتستطيع الكليتان أن تغير سرعة إزالة أيونات HCO_3^- .

التفكير الناقد

1. حدد كم يزيد $[H^+]$ إذا تغير pH الدم من 7.4 إلى 7.1؟
2. اقترح سبباً يفسر لماذا تعد نسبة 20:1 من HCO_3^- إلى CO_2 في الدم مناسبة للحفاظ على pH مناسب؟
3. توقع ما الوضع الذي يرتفع فيه pH الدم أو ينخفض؟ وفي أي اتجاه يميل اتزان H_2CO_3/HCO_3^- في كل من الحالات الآتية:
 - a. شخص لديه حالة فيروسية شديدة في المعدة يتقيأ عدة مرات في 24 ساعة.
 - b. شخص يأخذ كمية كبيرة من $NaHCO_3$ لوقاية حرقة فم المعدة.

كيف يحافظ الدم على قيمة pH ثابتة؟ يحتوي دم الإنسان على ثلاثة أنواع من الخلايا. الخلايا الحمراء التي تنقل الأكسجين إلى أجزاء الجسم كافة، والخلايا البيضاء التي تحارب العدوى، والصفائح الدموية التي تساعد على التجلط عند حدوث نزف. لذا تضعف الوظائف الحساسة لهذه الخلايا إذا لم يحافظ الدم على pH ضمن مدى ضيق بين 7.1 و 7.7. وفوق هذا المستوى تفقد البروتينات في الجسم تراكيبها ومقدرتها على أداء عملها. ولحسن الحظ فإن هناك عدة محاليل منظمة تحافظ على التوازن الضروري للأحماض والقواعد. وأهم هذه المحاليل المنظمة محلول حمض الكربونيك والكربونات الهيدروجينية H_2CO_3/HCO_3^- .



عندما تدخل الأحماض والقواعد مجرى الدم نتيجة النشاط العادي، تعدّل أنظمة المحاليل المنظمة في الدم نفسها، حتى تحافظ بفاعلية على قيمة pH مناسبة.

التقويم 3-4

الخلاصة

- يتفاعل حمض مع قاعدة لتكوين ملح وماء في تفاعل التعادل.
- تمثل المعادلة الأيونية النهائية الآتية تعادل حمض قوي مع قاعدة قوية:

$$H^+(aq) + OH^-(aq) \rightarrow H_2O(l)$$
- المعايرة عملية يستعمل فيها تفاعل التعادل بين حمض وقاعدة لتحديد تركيز محلول.
- تحتوي المحاليل المنظمة على مخاليط من جزيئات وأيونات تقاوم التغيرات في pH.

48. الفكرة الرئيسية: فسر لماذا تكون المعادلة الأيونية النهائية لتفاعل تعادل أي حمض قوي مع أي قاعدة قوية دائماً هي المعادلة نفسها؟
49. اشرح الفرق بين نقطة تكافؤ ونقطة نهاية المعايرة.
50. قارن بين نتائج تجربتين: الأولى إضافة كمية صغيرة من قاعدة إلى محلول غير منظم له $pH=7$. والثانية عند إضافة الكمية نفسها من القاعدة إلى محلول منظم له $pH=7$.
51. احسب مولارية محلول حمض الهيدروبروميك HBr إذا احتاج إلى 30.35 mL من NaOH تركيزه 0.1000 M لمعايرة 25.00 mL من الحمض حتى نقطة التكافؤ.
52. فسر ما المواد التي يمكن استعمالها لعمل محلول منظم قيمة pH له 9.4؟ وما نسبتها؟ استعمل الجدول 3-7.
53. صمم تجربة صف كيف تصمم معايرة وتجربها باستعمال HNO_3 تركيزه 0.250 M لتحديد مولارية محلول هيدروكسيد السيزيوم؟

الكيمياء من واقع الحياة



الشكل 2 تحبس عملية الخبز الفقاعات المتكونة في أثناء التفاعل بين حمض وقاعدة، فتنتج كعكة خفيفة مليئة بالهواء.

يجب أن تخلط صودا الخبز بمكونات أخرى صلبة، وتضاف في النهاية إلى مخلوط العجين حتى يكون انطلاق ثاني أكسيد الكربون منتظماً في كل أنحاء العجين، ويحدث تفاعل الحمض والقاعدة هذا بسرعة. إذا كانت صودا الخبز هي عامل التخمر الوحيد في الوصفة، وجب خبز العجين بسرعة وفوراً قبل أن تحتفي الفقاعات الاختفاء. وتؤدي عملية الخبز إلى تمدد الفقاعات، فتنتفخ الكعكة. وعندما يتصلب العجين تحتجز الفقاعات، كما في الشكل 2.

مسحوق الخبز Baking Powder إذا لم تتضمن الوصفة سائلاً حمضياً فإن مسحوق الخبز يستعمل عوضاً عن ذلك. ومعظم مسحوق الخبز خليط من صودا الخبز وحمضين جافين. وأحد هذين الحمضين يتفاعل مع الصودا عندما يذوب في العجين، ويتفاعل الثاني مع الصودا عند التسخين. ومثل صودا الخبز يخلط مسحوق الخبز بالمكونات الأخرى الجافة، ويضاف في النهاية إلى العجين. ولكن العجائن التي يستعمل فيها مسحوق الخبز ليس من الضروري أن تخبز فوراً.

تحتوي العجائن التي يستعمل فيها سوائل حمضية معتدلة على مسحوق الخبز وصودا الخبز معاً؛ حيث يستطيع الحمض الزائد أن يعطل عمل مسحوق الخبز. ويعد مسحوق الخبز مصدراً موثقاً لثاني أكسيد الكربون، وتساعد صودا الخبز على معادلة الحمض.

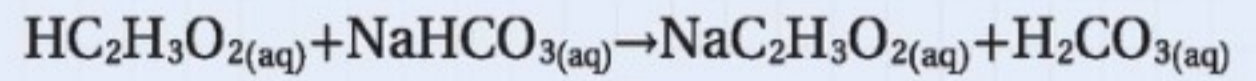
الكتابة في الكيمياء

حلل إذا تطلبت وصفة استعمال الطحين والملح والسكر والنتخالة والحليب والبيض والسمن أو الزيت النباتي، فهل تستعمل صودا الخبز أو مسحوق الخبز؟ فسّر إجابتك.

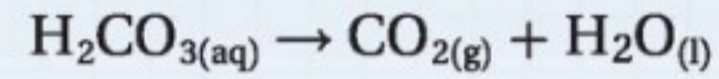
تفاعلات الأحماض والقواعد وعملية الخبز

هل رأيت تمثيلاً لثورة بركان باستعمال الخل وصودا الخبز؟ لقد نتجت فقاعات ثاني أكسيد الكربون CO_2 عن تفاعل التحلل الذي حدث بسرعة بعد تفاعل الخل $HC_2H_3O_2$ ، وهو حمض، وصودا الخبز $NaHCO_3$ ، وهي قاعدة، كما هو مبين أدناه.

تفاعل الحمض والقاعدة



التفكك



إن إطلاق ثاني أكسيد الكربون نتيجة التفاعل الكيميائي بين الحمض والقاعدة - انظر الشكل 1 - هو من أسباب انتفاخ الخبز والمعجنات. وتسمى المادة التي تؤدي إلى انتفاخ العجين عند خبزه عامل التخمر. والمادتان الكيميائيتان الرئيستان في التخمر هما صودا الخبز ومسحوق الخبز.

صودا الخبز Baking Soda كربونات الصوديوم الهيدروجينية، وتسمى أيضاً بيكروونات الصوديوم، وهو الاسم الكيميائي لصودا الخبز؛ حيث تتفاعل صودا الخبز عند استعمالها في الطبخ مع سوائل معتدلة الحمضية، فتتكون فقاعات ثاني أكسيد الكربون. وتشمل السوائل المعتدلة الحمضية الخل والعسل ودبس السكر وعصير الحمضيات ومخضوض اللبن وغيرها.



الشكل 1 تتكون فقاعات من غاز ثاني أكسيد الكربون عندما تضاف قاعدة صودا الخبز إلى حمض الخل.

مختبر الكيمياء

معايرة القاعدة

الخلفية المعايرة إجراء يمكن به تحديد مولارية القاعدة.

سؤال كيف يمكنك تحديد مولارية محلول قاعدي؟

المواد والأدوات اللازمة

سحاحة سعتها 50 mL	هيدروكسيد الصوديوم NaOH
محلول فينولفثالين	ميزان حساس
قارورة غسل	حامل حلقة
فتالات البوتاسيوم الهيدروجينية $\text{KHC}_8\text{H}_4\text{O}_4$	دورق مخروطي سعته 250 mL
كأس زجاجية سعتها 250 mL	دورق مخروطي سعته 500 mL
ماء مقطر	ملعقة

إجراءات السلامة

تحذير: ينتج عن إذابة NaOH في الماء حرارة، كما أن الفينولفثالين قابل للاشتعال، لذا أبعده عن اللهب.

الخطوات

1. املأ بطاقة السلامة في دليل التجارب العملية.
2. ضع 4 g NaOH تقريباً في الدورق المخروطي الذي سعته 500 mL. ثم أذهبها في كمية كافية من الماء، ثم أكمل حجم المحلول ليصبح 400 mL تقريباً. ثم أغلق الدورق بالسداد.
3. استعمل زجاجة الوزن لأخذ كتلة مقدارها 0.40 g تقريباً من فتالات البوتاسيوم الهيدروجينية $\text{KHC}_8\text{H}_4\text{O}_4$ ، الذي كتلته المولية = 204.32 g/mol ، وضعها في الدورق المخروطي الذي سعته 250 mL. ثم سجل هذه الكتلة.
4. استعمل قارورة الغسل لغسل الجزء الداخلي من الدورق، وأضف 50 mL تقريباً من الماء، وقطرتين من محلول كاشف الفينولفثالين.
5. املأ السحاحة بمحلول NaOH، على أن يكون مستوى السائل عند علامة الصفر أو تحتها. للتخلص من أي هواء قد يكون عالقاً في السحاحة مرّر كمية صغيرة من القاعدة إلى وعاء المهملات. لاحظ حجم المحلول في السحاحة حتى أقرب 0.02 mL، وسجل هذه القراءة الأولية.
6. ضع قطعة ورق بيضاء على قاعدة حامل الحلقة. وحرك الدورق حركة دورانية في أثناء صب محلول NaOH ببطء من السحاحة إلى الدورق.

بيانات المعايرة

المحاولة 1	
	كتلة زجاجة الوزن + الحمض
	كتلة زجاجة الوزن
	كتلة الحمض الصلب
	مولات الحمض
	مولات القاعدة المطلوبة
	القراءة النهائية للسحاحة
	القراءة الأولية للسحاحة
	حجم القاعدة المستعمل (mL)
	مولارية القاعدة

7. عندما يبقى اللون الوردي فترة أطول بعد التحريك الدوراني للدورق أضف محلول القاعدة قطرة قطرة.
8. تكون نقطة النهاية حيث يتغير لون الحمض إلى اللون الوردي بعد إضافة قطرة قاعدة واحدة؛ ويبقى اللون الوردي بعدها ثابتاً.
9. أعد ملء السحاحة، واغسل الدورق بالماء. ثم أعد المعايرة حتى تحصل على قيم مولارية متقاربة لثلاث محاولات.
10. **التنظيف والتخلص من النفايات** تخلص من المحاليل المتعادلة في المصرف مع كمية وافرة من الماء.

التحليل والاستنتاج

1. **فسر البيانات** في كل معايرة، احسب عدد مولات الحمض المستعمل بقسمة كتلة العينة على الكتلة المولية للحمض.
2. **استنتج** كم مولاً من القاعدة يتطلب التفاعل مع مولات الحمض المستخدمة؟
3. **احسب** حوّل حجم القاعدة إلى لترات.
4. **احسب** مولارية القاعدة بقسمة عدد مولات القاعدة على حجم القاعدة بالتر.
5. **تحليل الخطأ** هل اتفقت حساباتك للمولارية؟ فسّر أي اختلافات.

الاستقصاء

صمم تجربة احسب تركيز محلول حمض الإيثانويك (الخل) دون استعمال الكاشف.



الفكرة العامة يمكن تعريف الأحماض والقواعد باستعمال مفردات، منها أيونات الهيدروجين وأيونات الهيدروكسيد، أو أزواج الإلكترونات.

3-1 مقدمة في الأحماض والقواعد

الفكرة الرئيسية

تساعد النظريات المختلفة على وصف سلوك الأحماض والقواعد.

المفردات

- المحلول الحمضي
- المحلول القاعدي
- نظرية أرهينيوس
- نظرية برونستد - لوري
- الحمض المرافق
- القاعدة المرافقة
- الأزواج المترافقة
- مواد مترددة (أمفوتيرية)
- نظرية لويس

الأفكار الرئيسية

- تحدّد تراكيز أيونات الهيدروجين وأيونات الهيدروكسيد ما إذا كان المحلول حمضيًا، أم قاعديًا، أم متعادلاً.
- يجب أن يحتوي حمض أرهينيوس على ذرة هيدروجين قابلة للتأين. ويجب أن تحتوي قاعدة أرهينيوس على مجموعة هيدروكسيد قابلة للتأين.
- حمض برونستد - لوري مادة مانحة لأيون هيدروجين، بينما قاعدة برونستد - لوري مادة مستقبلة لأيون هيدروجين.
- حمض لويس مادة تستقبل زوجًا من الإلكترونات، بينما قاعدة لويس مادة تعطي زوجًا من الإلكترونات.

3-2 قوة الأحماض والقواعد

الفكرة الرئيسية

تتأين الأحماض والقواعد القوية في المحاليل تأينًا كليًا، بينما تتأين الأحماض والقواعد الضعيفة في المحاليل تأينًا جزئيًا.

المفردات

- الحمض القوي
- الحمض الضعيف
- ثابت تأين الحمض
- القاعدة القوية
- القاعدة الضعيفة
- ثابت تأين القاعدة

الأفكار الرئيسية

- تتأين الأحماض والقواعد القوية كليًا في المحاليل المائية المخففة، بينما تتأين الأحماض والقواعد الضعيفة جزئيًا في المحاليل المائية المخففة.
- تعد قيمة ثابت تأين الحمض أو القاعدة الضعيفة قياسًا لقوة الحمض أو القاعدة.

3-3 أيونات الهيدروجين والرقم الهيدروجيني

الفكرة الرئيسية يعبر كل من pH و

pOH عن تركيز أيونات الهيدروجين وأيونات الهيدروكسيد في المحاليل المائية.

المفردات

- ثابت تأين الماء K_w
- الرقم الهيدروجيني pH
- الرقم الهيدروكسيدي pOH

الأفكار الرئيسية

- ثابت تأين الماء K_w يساوي حاصل ضرب تركيز أيون H^+ وتركيز أيون OH^- .

$$K_w = [OH^-] [H^+]$$

- pH المحلول هو سالب لوغاريتم تركيز أيون الهيدروجين. pOH هو سالب لوغاريتم تركيز أيون الهيدروكسيد.
- ومجموع pH و pOH يساوي 14.

$$pH = -\log [H^+]$$

$$pOH = -\log [OH^-]$$

$$pH + pOH = 14.00$$

- قيمة pH للمحلول المتعادل تساوي 7.0، وقيمة pOH في المحلول نفسه تساوي 7.0؛ لأن تركيز أيونات الهيدروجين يساوي تركيز أيونات الهيدروكسيد.

3-4 التعادل

الفكرة الرئيسية يتفاعل الحمض مع

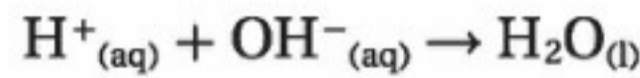
القاعدة في تفاعل التعادل وينتج ملح وماء.

المفردات


- تفاعل التعادل
- الملح
- المعايرة
- المحلول القياسي
- نقطة التكافؤ
- كاشف أحماض وقواعد
- نقطة النهاية
- تميّه الأملاح
- المحلول المنظم
- سعة المحلول المنظم

الأفكار الرئيسية

- يتفاعل حمض مع قاعدة لتكوين ملح وماء في تفاعل التعادل.
- تمثل المعادلة الأيونية النهائية الآتية تعادل حمض قوي مع قاعدة قوية:



- المعايرة عملية يستعمل فيها تفاعل التعادل بين حمض وقاعدة لتحديد تركيز محلول.
- تحتوي المحاليل المنظمة على مخاليط من جزيئات وأيونات تقاوم التغيرات في pH.




3-1

إتقان المفاهيم

54. قارن بين المحاليل الحمضية والمتعادلة والقاعدية من حيث تركيز الأيونات.

55. اكتب معادلة كيميائية موزونة تمثل التأين الذاتي للماء.

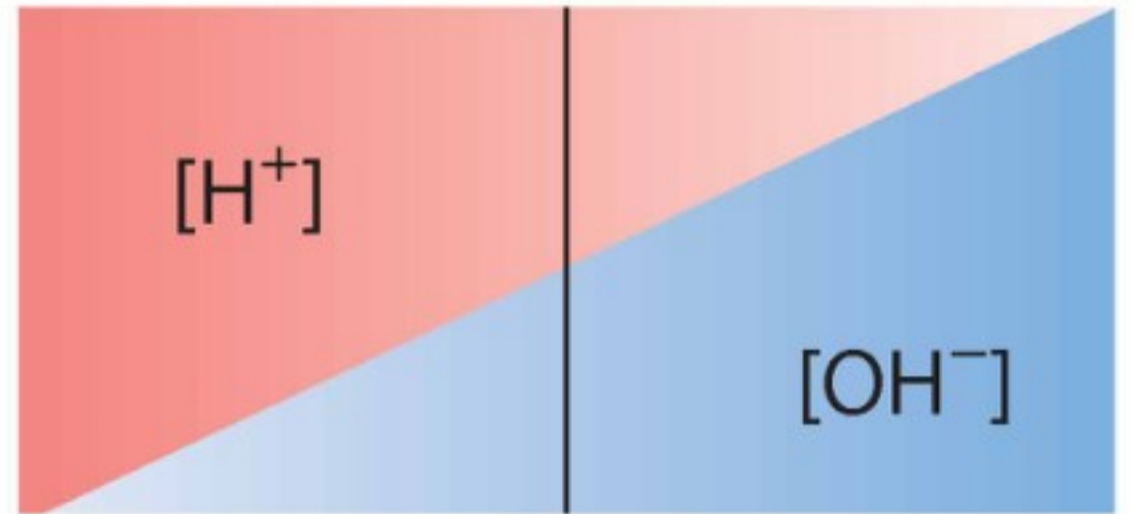
56. صنف كلاً مما يأتي إلى حمض أرهينوس أو قاعدة أرهينوس:



57. علم الأرض تتكون فقاعات غاز عندما يضيف عالم الأرض بضع قطرات من HCl إلى قطعة صخر. ماذا قد يستنتج العالم عن طبيعة الغاز والصخر؟

58. اشرح ما تعنيه المساحتان المظللتان عن اليمين من الخط العمودي الغامق في الشكل 3-28.

← قاعدية ————— متعاد ————— حمضية →



الشكل 3-28

59. اشرح الفرق بين الحمض الأحادي البروتون، والحمض الثنائي البروتون، والحمض الثلاثي البروتون، وأعط مثالا على كل منها.

60. لماذا يمكن استعمال H^+ و H_3O^+ بالتبادل في المعادلات الكيميائية؟

61. استعمال الرموز ($>$ أو $<$ أو $=$) للتعبير عن العلاقة بين تركيز أيونات H^+ وأيونات OH^- في المحاليل الحمضية والمتعادلة والقاعدية.

62. اشرح كيف يختلف تعريف حمض لويس عن تعريف حمض برونستد - لوري؟

إتقان حل المسائل

63. اكتب معادلة كيميائية موزونة لكل مما يأتي:

a. تحلل هيدروكسيد الماغنسيوم الصلب عند وضعه في الماء.

b. تفاعل فلز الماغنسيوم مع حمض الهيدروبروميك.

c. تأين حمض البروبانويك CH_3CH_2COOH في الماء.

d. التأين الثاني لحمض الكبريتيك في الماء.

3-2

إتقان المفاهيم

64. اشرح الفرق بين حمض قوي وحمض ضعيف.

65. اشرح لماذا تستعمل أسهم الاتزان في معادلات تأين بعض الأحماض؟



الشكل 3-29

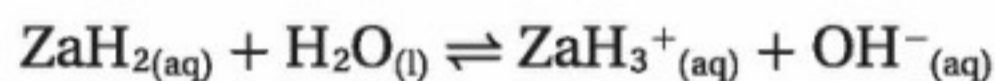
66. أي الكأسين في الشكل 3-29 قد تحتوي على محلول حمض الهيبوكلوروز بتركيز $0.1 M$ ؟ وضح إجابتك.

67. كيف تقارن بين قوتي حمضين ضعيفين في المختبر؟ وكيف تقوم بذلك من خلال معلومات تحصل عليها من جدول أو كتيب؟

68. حدد الأزواج المترافقة في تفاعل H_3PO_4 مع الماء.

إتقان حل المسائل

69. منظفات الأمونيا اكتب المعادلة الكيميائية وتعبير K_b لتأين الأمونيا في الماء. وكيف يستعمل محلول الأمونيا منظفاً آمناً للنوافذ مع أنه قاعدي؟
70. مطهر حمض الهيوكلوروز مطهر صناعي. اكتب المعادلة الكيميائية وتعبير K_a لتأين حمض الهيوكلوروز في الماء.
71. اكتب المعادلة الكيميائية وتعبير K_b لتأين الأنيلين في الماء. الأنيلين قاعدة ضعيفة صيغتها $C_6H_5NH_2$.
72. تتفاعل القاعدة الضعيفة ZaH_2 ، مع الماء لتعطي محلولاً تركيز أيون OH^- فيه $2.68 \times 10^{-4} \text{ mol/L}$ ، والمعادلة الكيميائية للتفاعل هي:



إذا كان $[ZaH_2]$ عند الاتزان 0.0997 mol/L ، فما قيمة K_b لـ ZaH_2 ؟

73. اختر حمضاً قوياً، وشرح كيف تحضر محلولاً مخففاً منه؟ ثم اختر حمضاً ضعيفاً، وشرح كيف تحضر محلولاً مركزاً منه؟

3-3

إتقان المفاهيم

74. ما العلاقة بين pOH وتركيز أيون OH^- في محلول؟
75. قيمة pH للمحلول A تساوي 2.0 وللحلول B تساوي 5.0. أي المحلولين أكثر حمضية بناءً على تركيزي أيون H^+ في المحلولين، وكم مرة تزيد الحمضية؟
76. إذا تناقص تركيز أيونات H^+ في محلول مائي، فماذا يجب أن يحدث لتركيز أيونات OH^- ؟ ولماذا؟
77. استعمل مبدأ لوتشاتيليه لتوضيح ما يحدث للاتزان $H_2O_{(l)} \rightleftharpoons H^+_{(aq)} + OH^-_{(aq)}$ عند إضافة بضع قطرات من HCl إلى ماء نقي.

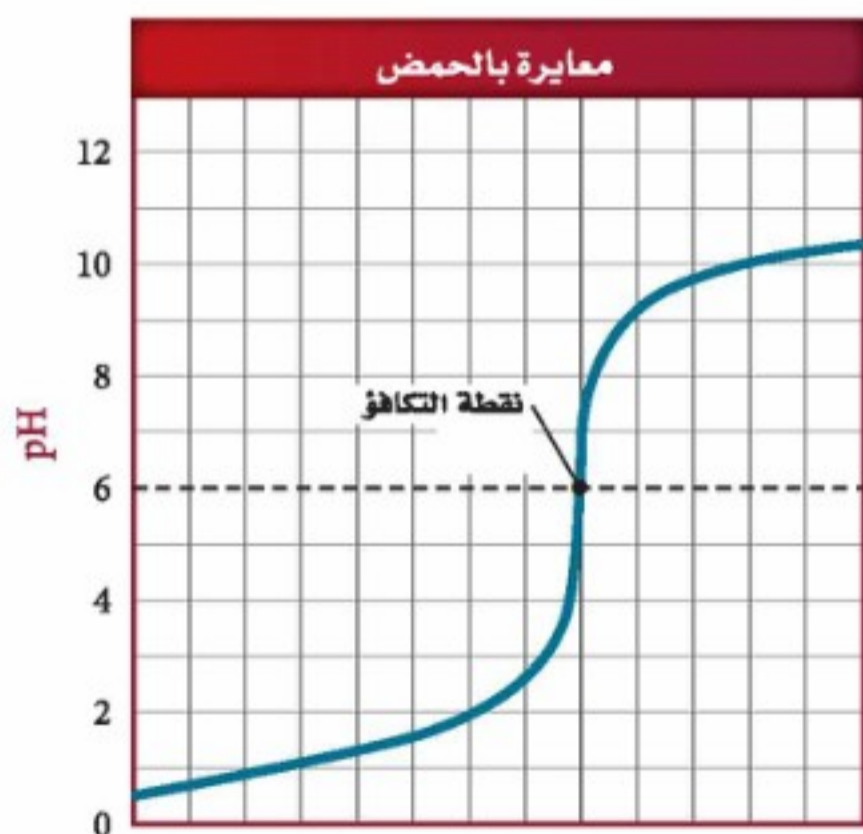
إتقان حل المسائل

78. ما $[OH^-]$ في محلول مائي عند 298 K حيث $[H^+] = 5.40 \text{ M} \times 10^{-3}$ ؟
79. ما قيمة pH و pOH للمحلول المذكور في السؤال 78؟
80. لديك محلولان: 0.10 M HCl و 10.0 M HF ، أيهما يكون تركيز أيونات H^+ فيه أعلى؟ احسب pH لكل من المحلولين إذا علمت أن $[H^+] = 7.9 \times 10^{-3} \text{ M}$ في محلول HF.
81. منظف الفلزات يستعمل حمض الكروميك منظفاً صناعياً للفلزات. احسب قيمة K_a للتأين الثاني لحمض الكروميك H_2CrO_4 إذا كان لديك محلول تركيزه 0.040 M من كرومات الصوديوم الهيدروجينية قيمة pH لها 3.946 ؟

3-4

إتقان المفاهيم

82. ما الحمض والقاعدة اللذان يجب أن يتفاعلا لمنتجات محلولاً مائياً من يوديد الصوديوم؟
83. ما كواشف الأحماض والقواعد المبينة في الشكل 3-24، والتي من المناسب استعمالها في تفاعل التعادل المبين منحني معايرته في الشكل 3-30؟ ولماذا؟

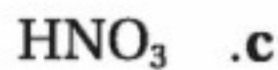
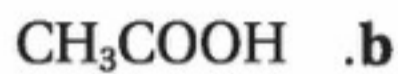


حجم القاعدة المضافة

الشكل 3-30



94. أي مما يأتي حمض متعدد البروتونات؟ اكتب معادلات تأين متتالية للأحماض المتعددة البروتونات في الماء.



95. اكتب معادلتين كيميائيتين موزونتين لتأين حمض الكربونيك في الماء، وحدد زوج الحمض والقاعدة المرافقين في كل معادلة.

96. تكرير السكر يستعمل هيدروكسيد الإسترانسيوم في تكرير سكر الشمندر. ويمكن إذابة 4.1 g فقط من هيدروكسيد الإسترانسيوم في 1 L من الماء عند درجة حرارة 273 K. فإذا كانت ذوبانية هيدروكسيد الإسترانسيوم منخفضة إلى هذه الدرجة، فاشرح لماذا يمكن اعتباره قاعدة قلووية قوية؟

97. ما تراكيز أيونات OH^- في محاليل لها قيم pH الآتية: 3.00 و 6.00 و 9.00 و 12.00 عند درجة حرارة 298 K؟ وما قيم pOH لها؟

98. جهاز pH في الشكل 3-31 مغموس في محلول حمض أحادي البروتون، HA، تركيزه 0.200 M عند درجة حرارة 303 K. ما قيمة K_a للحمض عند درجة حرارة 303 K؟



الشكل 3-31

84. متى يكون استعمال pH أفضل من الكاشف لتحديد نقطة النهاية لمعايرة حمض وقاعدة؟

85. ماذا يحدث عند إضافة حمض إلى المحلول المنظم HF / F^- ؟

86. عند إضافة الميثيل الأحمر إلى محلول مائي ينتج لون وردي. وعند إضافة الميثيل البرتقالي إلى المحلول نفسه ينتج لون أصفر. ما مدى pH تقريباً للمحلول؟ استعمل الشكل 3-24.

87. أعط الاسم والصيغة الجزيئية للحمض والقاعدة اللذين أنتجا كلاً من الأملاح الآتية:



إتقان حل المسائل

88. اكتب معادلات كيميائية ومعادلات أيونية كلية لتميّه كل من الملحين الآتين في الماء:

a. كربونات الصوديوم .b. بروميد الأمونيوم

89. تنقية الهواء يستعمل هيدروكسيد الليثيوم لتنقية الهواء بإزالة ثاني أكسيد الكربون. فإذا تمت معايرة عينة من محلول هيدروكسيد الليثيوم حجمها 25.00 mL بمحلول حمض الهيدروكلوريك تركيزه 0.3340 M فتطلب 15.22 mL من الحمض. فما مولارية محلول LiOH؟

90. أضيف 74.30 mL من محلول NaOH الذي تركيزه 0.43885 M لمعايرة 45.78 mL من حمض الكبريتيك حتى نقطة النهاية. ما مولارية محلول H_2SO_4 ؟

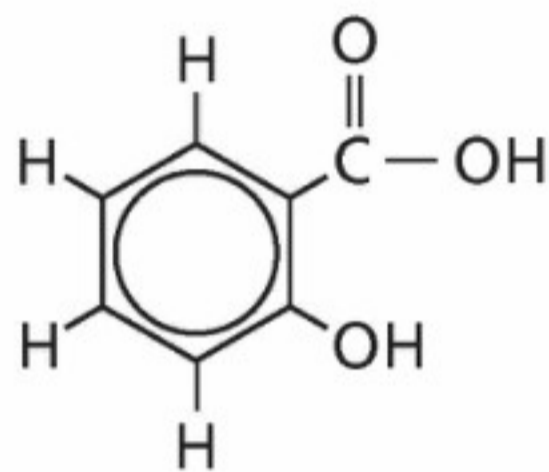
مراجعة عامة

91. اكتب معادلة تفاعل التآين، وتعبير ثابت تآين القاعدة، للإيثيل أمين $C_2H_5NH_2$ في الماء.

92. كم mL من محلول HCl الذي تركيزه 0.225 M يُحتاج إليه لمعايرة 6.00 g من KOH؟

93. ما قيمة pH لمحلول تركيزه 0.200 M من حمض الهيوبروموز $HBrO$ ؟ إذا علمت أن $K_a = 2.8 \times 10^{-9}$ ؟

106. طبق المفاهيم تتغير قيمة K_w كغيرها من ثوابت الاتزان بحسب درجة الحرارة. K_w يساوي 2.92×10^{-15} عند 10°C ، و 1.00×10^{-14} عند 25°C و 2.92×10^{-14} عند 40°C . في ضوء هذه المعلومات احسب قيم pH للماء النقي عند درجات الحرارة الثلاث هذه، وقارن بينها. هل يصح القول إن pH للماء النقي دائماً 7.0؟ اشرح إجابتك.
107. توقع يستعمل حمض الساليسليك - المبين في الشكل 3-32 في تحضير الأسبرين. بناءً على معرفتك بالهيدروجين القابل للتأين في جزيء حمض الخل CH_3COOH ، توقع أي ذرات الهيدروجين في حمض الساليسليك قد تكون قابلة للتأين؟



الشكل 3-32

مسألة تحفيز

108. لديك 20.0 mL من محلول حمض ضعيف، HX، و $K_a = 2.14 \times 10^{-6}$. وقد وجد أن pH للمحلول 3.800. ما كمية الماء المقطر التي يجب إضافتها إلى المحلول لرفع pH إلى 4.000؟

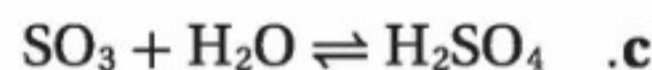
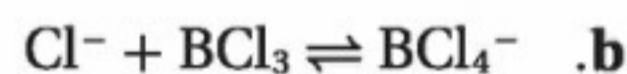
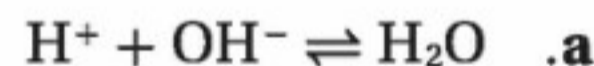
مراجعة تراكمية

109. عند حرق 5.00 g من مركب في مسعر، ارتفعت درجة حرارة 2.00 kg من الماء من 24.5°C إلى 240.5°C . ما كمية الحرارة التي تنطلق عند حرق 1.00 mol من المركب (الكتلة المولية = 46.1 g/mol)؟

99. اكتب المعادلة الكيميائية للتفاعل الذي يحدث عند إضافة قاعدة إلى المحلول المنظم $\text{H}_2\text{PO}_4^- / \text{HPO}_4^{2-}$.

التفكير الناقد

100. انقد العبارة الآتية: "يجب اعتبار المادة التي تحتوي صيغتها الكيميائية على مجموعة الهيدروكسيل قاعدة".
101. حلل واستنتج هل يمكن أن يصنّف المحلول حمضاً بحسب برونستد - لوري ولا يصنّف حمضاً بحسب قاعدة أرهينيوس؟ وهل يمكن أن يكون حمضاً بحسب نظرية برونستد - لوري وليس حمضاً بحسب نظرية أرهينيوس؟ هل يمكن ألا يصنّف حمض لويس بوصفه حمض أرهينيوس أو برونستد - لوري؟ اشرح ذلك مع ذكر أمثلة.
102. طبق المفاهيم استعمل ثابت تأين الماء عند درجة حرارة 298 K لتفسير لماذا ينبغي للمحلول الذي قيمة pH له 3.0 أن تكون قيمة pOH له = 11.0؟
103. حدّد أحماض وقواعد لويس في التفاعلات الآتية:



104. تفسير الرسوم العلمية ارسم منحنى الرقم الهيدروجيني pH مقابل الحجم الناتج عن معايرة حمض ثنائي البروتونات بمحلول NaOH تركيزه 0.10 M.
105. السبب والنتيجة وضح كيف يعمل المحلول المنظم من خلال النظام المنظم $\text{C}_2\text{H}_5\text{NH}_3^+ / \text{C}_2\text{H}_5\text{NH}_2$ ؟ وبين مستعينا بالمعادلات كيف يتأثر نظام (القاعدة الضعيفة/ الحمض المرافق) عند إضافة كميات صغيرة من الأحماض والقواعد إلى محلول هذا النظام؟

تقويم إضافي

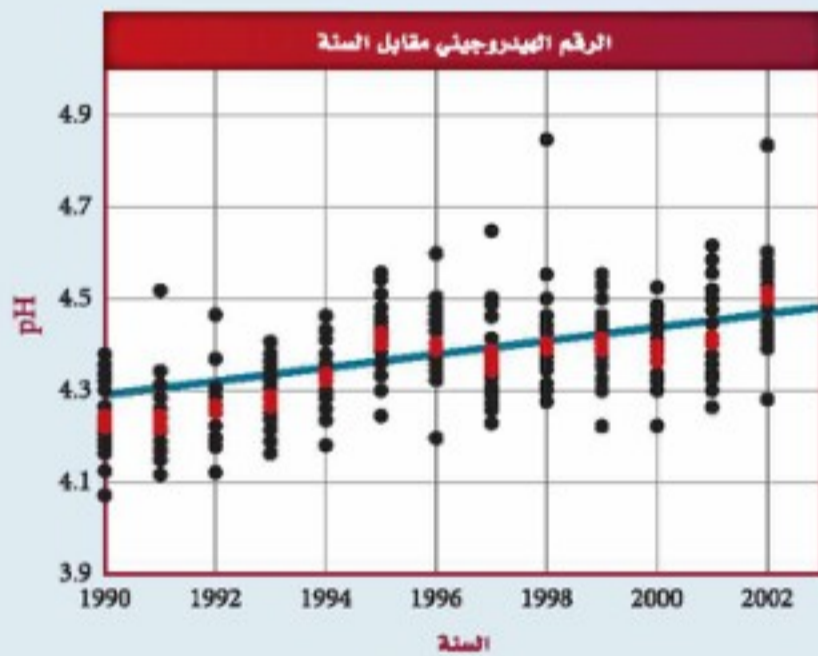
الكتابة في الكيمياء

112. نظريات الأحماض والقواعد تخيل أنك الكيميائي برونستد في عام 1923م، وقد قمت بصياغة نظرية جديدة عن الأحماض والقواعد. اكتب رسالة إلى العالم السويدي أرهينيوس، تناقش فيها الفروق بين نظريتك ونظريته، وتشير فيها إلى مزايا نظريتك.

113. الأحماض الأمينية هناك عشرون حمضاً أمينياً تتحد لتكوين البروتينات في أجهزة المخلوقات الحية. اكتب بحثاً عن تراكيب وقيم K_a لخمسة أحماض أمينية وقومها. قارن بين قوى هذه الأحماض وقوى الأحماض في الجدول 3-4.

أسئلة المستندات

ماء المطر بين الشكل 3-34 قياسات pH في عدد من مناطق المراقبة في إحدى الدول. وتمثل البقعة الوردية متوسط القياسات التي أخذت في جميع المناطق في وقت معين. ادرس الرسم البياني جيداً، ثم أجب عن الأسئلة التي تليه.



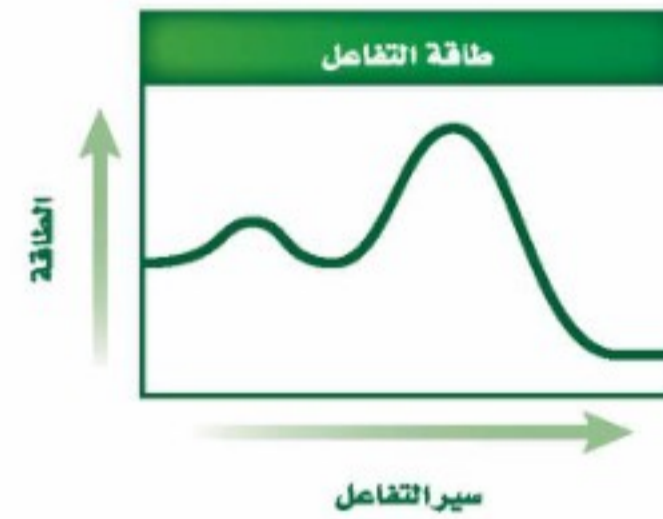
الشكل 3-34

114. كيف يتغير متوسط pH للسنوات 1990م - 2003م؟
115. احسب $[H^+]$ لأدنى وأعلى pH مسجلة على الرسم البياني. وكم مرة تزيد حمضية ماء المطر الأكثر حمضية على حمضية ماء المطر الأقل حمضية؟
116. ما قيمة pH في عام 2003م؟ وما مقدار التغير في متوسط pH بين عامي 1990 و2003م؟

110. يتفاعل الهيدروجين والفلور لتكوين HF بحسب معادلة الاتزان الآتية:



هل تؤدي زيادة درجة الحرارة إلى زيادة كمية المادة الناتجة؟ اشرح ذلك.



الشكل 3-33

111. يبين الشكل 3-33 تغير الطاقة في أثناء سير تفاعل ما.

- a. هل التفاعل طارد أم ماص للطاقة؟
- b. ما عدد الخطوات التي يحدث فيها التفاعل؟

أسئلة الاختيار من متعدد

استعن بالرسم البياني أدناه للإجابة عن السؤالين 1 و 2.



1. ما قيمة pH عند نقطة التكافؤ لهذه المعايرة؟

- a. 10
- b. 9
- c. 5
- d. 1

2. ما الكاشف الأكثر فاعلية لتحري نقطة النهاية لهذه المعايرة؟

- a. الميثيل البرتقالي الذي مداه 3.2 - 4.4
- b. فينولفثالين الذي مداه 8.2 - 10
- c. البروموكريسول الأخضر الذي مداه 3.8 - 5.4
- d. الثايمول الأزرق الذي مداه 8.0 - 9.6

3. ينتج التنفس الخلوي 38 mol تقريباً من ATP مقابل كل مول يستهلك من الجلوكوز:



إذا كان كل 1 mol من ATP ينتج 30.5 kJ من الطاقة فما كمية الطاقة التي يمكن الحصول عليها من قطعة حلوى تحتوي على 130.0 g من الجلوكوز؟

- a. 27.4 kJ
- b. 836 kJ
- c. 1159 kJ
- d. 3970 kJ

4. بروميد الهيدروجين HBr حمض قوي ومادة أكالة شديدة.

ما pOH لمحلول HBr الذي تركيزه 0.0375 M ؟

- a. 12.574
- b. 12.270
- c. 1.733
- d. 1.433

استعن بالجدول أدناه للإجابة عن الأسئلة من 5 إلى 7.

ثوابت التأيين وبيانات pH لبعض الأحماض العضوية الضعيفة		
K_a	pH محلول تركيزه 1.000 M	الحمض
1.78×10^{-4}	1.87	HA
3.55×10^{-3}	؟	HB
؟	2.43	HX
7.08×10^{-3}	1.09	HD
9.77×10^{-5}	2.01	HR

5. أي حمض أقوى؟

- a. HA
- b. HB
- c. HX
- d. HD

6. ما ثابت تأين حمض HX؟

- a. 1.0×10^{-5}
- b. 2.43×10^0
- c. 3.72×10^{-3}
- d. 7.3×10^4

7. ما قيمة pH لمحلول حمض السيانوإيثانويك الذي

تركيزه 0.40 M ؟

- a. 2.06
- b. 1.22
- c. 2.45
- d. 1.42



اختبار مقنن

أسئلة الإجابات المفتوحة

10. أضيف 5.00 mL من HCl تركيزه 6.00 M إلى 95.00 mL من الماء النقي، وأصبح الحجم النهائي للمحلول 100 mL. ما قيمة pH للمحلول؟
11. محلول مائي منظم بحمض البنزويك C_6H_5COOH وبنزوات الصوديوم C_6H_5COONa ، تركيز كل منهما 0.0500 M. فإذا كان K_a لحمض البنزويك يساوي 6.4×10^{-5} ، فما قيمة pH للمحلول؟

8. ماذا نعني بقولنا: إن قيمة K_{eq} أكثر من 1؟

- a. هناك مواد متفاعلة أكثر من النواتج عند الاتزان.
b. هناك نواتج أكثر من المواد المتفاعلة عند الاتزان.
c. سرعة التفاعل الأمامي عالية عند الاتزان.
d. سرعة التفاعل العكسي عالية عند الاتزان.

أسئلة الإجابات القصيرة

9. الأحماض والقواعد الشائعة استعمل البيانات الموجودة في الجدول أدناه للإجابة عن الأسئلة الآتية:

المادة	pH
الأمونيا المنزلية	11.3
عصير الليمون	2.3
مضاد الحموضة	9.4
الدم	7.4
المشروبات الغازية	3.0

- a. أي مادة أكثر قاعدية؟
b. أي مادة أقرب إلى التعادل؟
c. أي مادة تركيز $[H^+]$ فيها $4.0 \times 10^{-10} M$ ؟
d. أي مادة قيمة pOH لها 11.0؟
e. كم مرة تزيد قاعدية مضاد الحموضة على قاعدية الدم؟

الفكرة العامة تعدُّ تفاعلات الأكسدة والاختزال من العمليات الكيميائية الشائعة في الطبيعة وفي الصناعة، وتتضمن انتقالاً للإلكترونات.

4-1 الأكسدة والاختزال

الفكرة الرئيسة يعدُّ تفاعل الأكسدة والاختزال تفاعلين متكاملين؛ إذ تتأكسد ذرة وتُختزل أخرى.

4-2 وزن معادلات الأكسدة والاختزال


الفكرة الرئيسة تصبح معادلات الأكسدة والاختزال موزونة عندما تكون الزيادة الكلية في أعداد التأكسد مساوية لانخفاض الكلي في أعداد التأكسد للذرات الداخلة في التفاعل.

حقائق كيميائية

- يمكن زيادة لمعان العصا الضوئية النشطة بتسخينها، لكن البريق لن يستمر طويلاً.
- ليس بالضرورة أن يكون الضوء الناتج عن تفاعلات الأكسدة والاختزال مصحوباً بالحرارة.
- يستعمل نحو 90% تقريباً من الأحياء البحرية شكلاً من أشكال الضوء الحيوي الذي يتولد من تفاعلات الأكسدة والاختزال.



عصا ضوئية

وعاء زجاجي من H_2O_2

نشاطات تمهيدية

وزن معادلات الأكسدة والاختزال صمّم المطوية الآتية لتساعدك على تلخيص المعلومات حول الطرائق المختلفة في وزن معادلات الأكسدة والاختزال.

المطويات

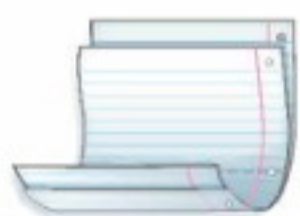
منظمات الأفكار

الخطوة 1 اجمع طبقتين من الورق، واجعل



طرف الورقة العلوية على بعد 2 cm من حافة الورقة السفلية كما في الشكل.

الخطوة 2 اثن الحواف



السفلية إلى أعلى لتكون أربعة تفرعات متساوية. ثم ثبت الشية بالضغط عليها لتحافظ على التفرع في مكانه جيداً، كما في الشكل المجاور.

الخطوة 3 ثبت الشيات

وعنونها على النحو الآتي: وزن معادلات الأكسدة والاختزال، طريقة عدد التأكسد، معادلة الأكسدة والاختزال الأيونية الكلية، أنصاف التفاعل.

المطويات استعمل المطوية في القسم 2-4،

ولخص ما تقرؤه حول موازنة معادلات الأكسدة والاختزال، واعرض مثالا على كل طريقة.

تجربة استهلاكية

ماذا يحدث عندما يتفاعل الحديد وكبريتات النحاس II؟
ينتج الصدأ عندما يتفاعل الحديد والأكسجين، ويتفاعل الحديد أيضاً مع مواد أخرى غير الأكسجين.



خطوات العمل

1. اقرأ نموذج احتياطات السلامة في المختبر.
2. استعمل قطعة من ورق الصنفرة لتلميع مسمار الحديد.
3. أضف 3 mL تقريباً من محلول 1.0 M من كبريتات النحاس II $CuSO_4$ إلى أنبوب اختبار، وضع المسمار الذي جرى تلميعه في محلول $CuSO_4$ ، ثم ضع أنبوب الاختبار في حامل الأنابيب، وراقبه مدة 10 دقائق، ثم سجّل ملاحظاتك.

تحليل النتائج

1. فسّر ما يحدث للون محلول كبريتات النحاس.
 2. حدّد المادة التي التصقت بالمسمار.
 3. اكتب المعادلة الكيميائية الموزونة لهذا التفاعل.
- استقصاء** ماذا يمكن أن يحدث للنحاس لو وضع في محلول كبريتات الحديد؟ صمّم تجربة لاختبار فرضيتك.



4-1

الأهداف

- تصف تفاعلات الأكسدة والاختزال
- تحدد العوامل المؤكسدة والمختزلة.
- تحدد عدد التأكسد لعنصر في مركب.
- تفسر تفاعلات الأكسدة والاختزال من حيث التغير في حالة التأكسد.

مراجعة المفردات

الأيون المتفرد الأيون غير المشترك في التفاعل ولا يظهر في المعادلة الأيونية.

المفردات الجديدة

تفاعل الأكسدة والاختزال
الأكسدة
الاختزال
العامل المؤكسد
العامل المختزل

الأكسدة والاختزال

Oxidation and Reduction

الفكرة الرئيسة يُعدّ تفاعلا الأكسدة والاختزال تفاعلين متكاملين؛ إذ تتأكسد ذرة وتُختزل أخرى.

الربط مع الحياة ينتج ضوء العصا الضوئية عن تفاعل كيميائي، فعندما تكسر الكبسولة الزجاجية داخل الإطار البلاستيكي يحدث تفاعل بين مادتين، وتنتقل الإلكترونات، فتتحول الطاقة الكيميائية إلى طاقة ضوئية.

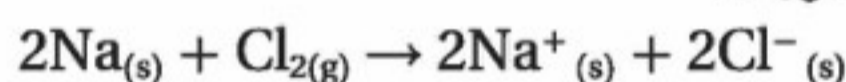
انتقال الإلكترون وتفاعل الأكسدة والاختزال

Electron Transfer and Redox Reactions

يمكن تصنيف التفاعلات الكيميائية في العادة إلى خمسة أنواع من التفاعلات هي: التكوين، التفكك، والاحتراق، والإحلال البسيط، والإحلال المزدوج. ومن خواص تفاعلات الاحتراق والإحلال البسيط أنهما يتضمنان انتقال الإلكترونات من ذرة إلى أخرى، كما هو الحال في كثير من تفاعلات التكوين والتفكك. ففي تفاعل التكوين على سبيل المثال، يتفاعل الصوديوم Na، والكلور Cl₂ لتكوين المركب الأيوني NaCl، وينتقل إلكترونان من ذرة صوديوم إلى جزيء الكلور Cl₂ ويتكون أيونان من الصوديوم وأيونان من الكلوريد، وتكون المعادلة الكيميائية لهذا التفاعل على النحو الآتي:



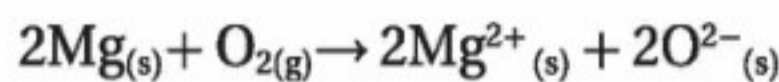
والمعادلة الأيونية الكلية (الأيونات المكونة للبلورة):



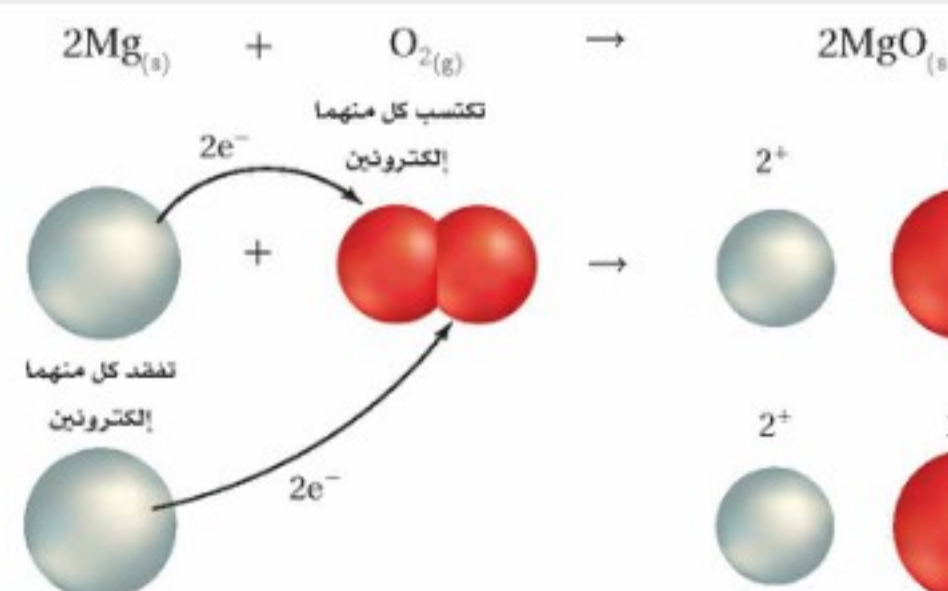
أما تفاعل الماغنسيوم في الهواء الذي يتضمن انتقال الإلكترونات فهو مثال على تفاعل الاحتراق.



المعادلة الأيونية الكلية (الأيونات المكونة للبلورة)



عندما يتفاعل الماغنسيوم مع الأكسجين، كما في الشكل 4-1، فإن كل ذرة ماغنسيوم تعطي إلكترونين إلى كل ذرة أكسجين، وتتحول ذرة الماغنسيوم إلى أيون Mg²⁺، وتتحول



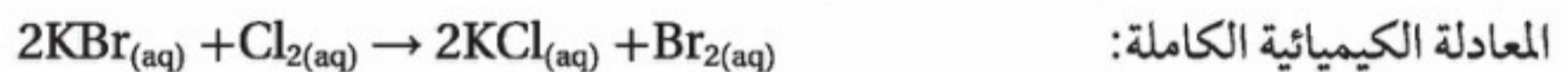
الشكل 4-1 يتضمن تفاعل الماغنسيوم مع الأكسجين انتقال الإلكترونات من الماغنسيوم إلى الأكسجين؛ لذا فإن هذا التفاعل هو تفاعل أكسدة واختزال. **صنّف** التفاعل بين الماغنسيوم والأكسجين.



الشكل 2-4 التفاعل بين محلول أيونات البروميد وغاز الكلور هو تفاعل أكسدة، هنا تنتقل الإلكترونات من أيونات البروم إلى الكلور.

ذرة الأكسجين إلى الأيون O^{2-} ، ويُسمى التفاعل الذي انتقلت فيه الإلكترونات من إحدى الذرات إلى ذرة أخرى تفاعل الأكسدة والاختزال.

لنأخذ تفاعل الإحلال البسيط بين المحلول المائي للكلور وأيونات البروميد لتكوين محلول مائي من كلوريد البوتاسيوم والبروم الموضح في الشكل 2-4.



يلاحظ أن الكلور يكتسب الإلكترونات من أيونات البروميد ليكون أيونات الكلوريد، وعندما يفقد أيون البروميد الإلكترونات تتحد ذرتا البروم برابطة تساهمية لتكوين جزيء Br_2 . إن تكوين الرابطة التساهمية بمشاركة الإلكترونات هو أيضاً تفاعل أكسدة واختزال.

الأكسدة والاختزال أطلقت كلمة الأكسدة فيما مضى على التفاعلات التي تتضمن اتحاد المادة بالأكسجين، أما الآن فتعرف عملية الأكسدة على أنها فقدان ذرة المادة للإلكترونات. تفحص مرة أخرى معادلة تفاعل الصوديوم والكلور الكلية، تلاحظ أن الصوديوم قد تأكسد لأنه فقد إلكترونًا.



وحتى يحدث تفاعل الأكسدة يجب أن تكتسب الإلكترونات التي تفقدها المادة المتأكسدة من قبل ذرات أو أيونات مادة أخرى، وبعبارة أخرى يجب أن تكون هناك عملية مرافقة تتضمن اكتساب الإلكترونات المفقودة. أما عملية الاختزال فتعرف على أنها اكتساب ذرات المادة للإلكترونات. وبالرجوع إلى مثال كلوريد الصوديوم فإن تفاعل الاختزال المرافق لتفاعل الأكسدة هو اختزال الكلور.



إذن فالأكسدة والاختزال عمليتان مترافقتان متكاملتان؛ فلا يحدث تفاعل الأكسدة إلا إذا حدث تفاعل اختزال، ومن المهم جداً التمييز بين تفاعلي الأكسدة والاختزال.

المفردات

أصل الكلمة

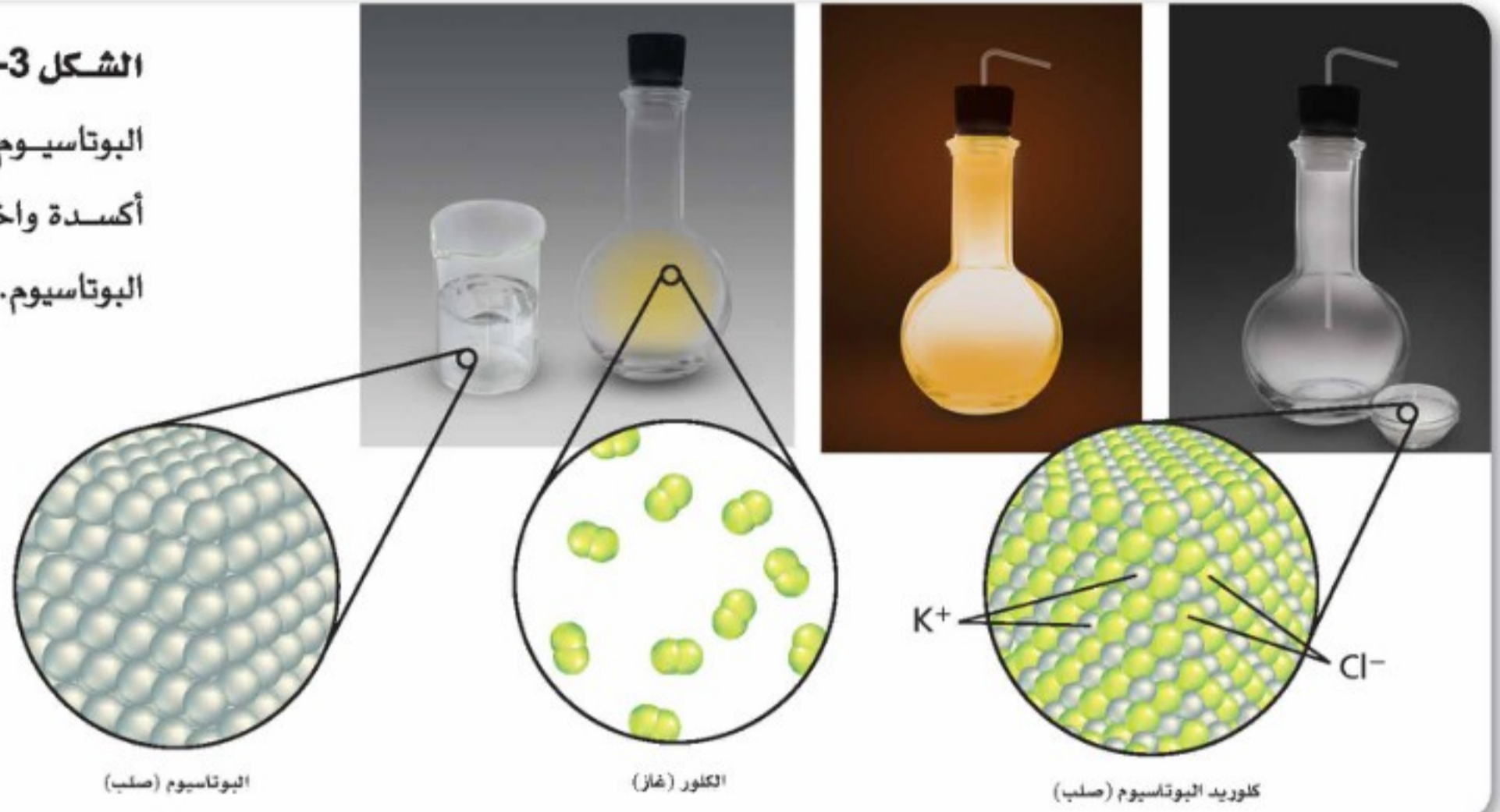
الاختزال (Reduction)

جاءت من الأصل اللاتيني

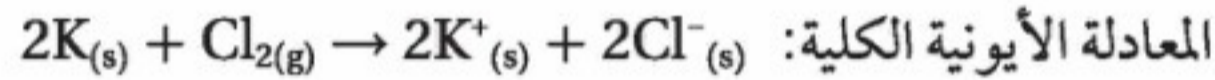
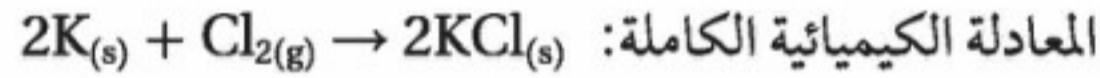
re، وتعني الخلف،

و ducere وتعني يقود.

الشكل 3-4 يتفاعل كل من فلز البوتاسيوم وغاز الكلور تفاعل أكسدة واختزال لتكوين كلوريد البوتاسيوم.



التغيير في عدد التأكسد تذكر أن عدد التأكسد لذرة في المركب الأيوني هو عدد الإلكترونات التي فقدتها أو اكتسبتها الذرة عندما كوَّنت الأيونات، وأن تفاعل البوتاسيوم مع الكلور، الموضح في الشكل 3-4، هو تفاعل أكسدة واختزال، ومعادلة تفاعل فلز البوتاسيوم مع غاز الكلور هي على النحو الآتي:



يوجد البوتاسيوم ضمن عناصر المجموعة الأولى في الجدول الدوري، التي تميل إلى فقد إلكترون واحد في التفاعل؛ بسبب انخفاض كهروسالبيتها، وعدد تأكسدها +1. ومن ناحية أخرى يوجد الكلور ضمن عناصر المجموعة 17 التي تميل إلى اكتساب الإلكترونات؛ لأن كهروسالبيتها عالية، وعدد تأكسدها في كثير من المركبات -1. ففي مفهوم الأكسدة والاختزال يمكنك القول إن ذرات البوتاسيوم قد تأكسدت من حالة الصفر إلى حالة +1؛ لأن كل ذرة فقدت إلكترونًا، واختزلت ذرات الكلور من الصفر إلى الحالة -1، فكل ذرة أو أيون عند اختزاله يقل عدد تأكسده. وعلى العكس من ذلك عندما تتأكسد ذرة أو أيون يزيد عدد تأكسدها.

ويعدّ عدد التأكسد أداة يستعملها العلماء لكتابة المعادلة الكيميائية لمساعدتهم على الاحتفاظ بمسار حركة الإلكترونات في تفاعل الأكسدة. ويكتب عدد التأكسد مع الإشارة السالبة أو الموجبة قبل العدد (+2، +3)، في حين تُكتب إشارة الشحنة الأيونية بعد العدد (+2، +3).

عدد التأكسد: +3 الشحنة الأيونية: +3

✓ **ماذا قرأت؟** حدّد أي العناصر أكثر قابلية لاكتساب الإلكترونات: البوتاسيوم أم الكلور؟

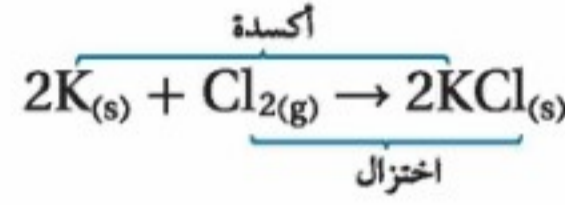
مهن في الكيمياء

صانع الفخار فنان يصنع

الفخار، ويستعمل مواد تحتوي على أيونات فلزية لإضفاء الألوان المختلفة على الفخار عند حرقه. وتظهر المواد الزجاجية، التي تحتوي على أيونات النحاس، باللون الأخضر المائل إلى الزرقة عند تأكسدها، وتعطي اللون الأحمر عند حرقها في الفرن.

العوامل المؤكسدة والعوامل المختزلة Oxidizing and Reducing Agents

يمكن وصف تفاعل البوتاسيوم - الكلور في الشكل 3-4 بأن البوتاسيوم قد تأكسد بواسطة الكلور. المادة التي يحدث لها اختزال (تكتسب إلكترونات) تُسمى عاملاً مؤكسداً، أما المادة التي يحدث لها أكسدة (تفقد إلكترونات) فتُسمى عاملاً مختزلاً؛ لذا فالعامل المختزل في تفاعل البوتاسيوم - الكلور هو البوتاسيوم؛ أي المادة التي تأكسدت.



العامل المختزل: K

العامل المؤكسد: Cl₂

ومن التطبيقات الشائعة على تفاعلات الأكسدة والاختزال إزالة الشوائب من الفلزات. وتُعدُّ العوامل المؤكسدة والمختزلة الأخرى مفيدة في الحياة اليومية. فعلى سبيل المثال عند إضافة مبيض الغسيل إلى الملابس لتبييضها، فإنك تستعمل محلولاً من هيبوكلوريت الصوديوم NaClO؛ وهو عامل مؤكسد يؤدي إلى أكسدة البقع والأصبغ ومواد أخرى. ويلخص الجدول 4-1 الطرائق المختلفة لوصف تفاعلات الأكسدة والاختزال.

ملخص تفاعلات الأكسدة والاختزال

الجدول 4-1

العملية	الأكسدة	الاختزال
	<ul style="list-style-type: none"> المادة المتفاعلة تفقد إلكترونات. X يفقد إلكترونات. يتأكسد العامل المختزل. X عامل مختزل ويتأكسد. يزيد عدد التأكسد للمادة X. 	<ul style="list-style-type: none"> المادة المتفاعلة الأخرى تكتسب إلكترونات. Y يكتسب إلكترونات. يختزل العامل المؤكسد. Y العامل المؤكسد يُختزل. يقل عدد التأكسد للمادة Y.

تجربة

ملاحظة تفاعل الأكسدة والاختزال

كيف يمكن إزالة الشوائب من الفضة؟

الخطوات

- اقرأ نموذج الأمان في المختبر.
- لِمْحِ قطعة من رقائق الألومنيوم برفق مستعملاً الصوف لإزالة أي طبقة مؤكسدة تغطيها.
- لف قطعة صغيرة متأكسدة من معدن الفضة برفق رقائق الألومنيوم، وتأكد من التصاق المنطقة المتأكسدة تماماً برفق رقائق الألومنيوم.
- ضع القطعة الملفوفة في كأس سعتها 400 mL، وأضف كمية محددة من ماء الصنبور حتى تغطيها تماماً.
- أضف مقدار ملعقة من صودا الخبز، ومقدار ملعقة من ملح المائدة إلى الكأس.

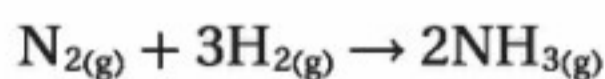
- أمسك الكأس بالماسك وضعها على السخان، وسخّن محتوياتها حتى درجة الغليان، مع الحفاظ على الحرارة مدة 15 دقيقة تقريباً حتى تزول الشوائب.

التحليل

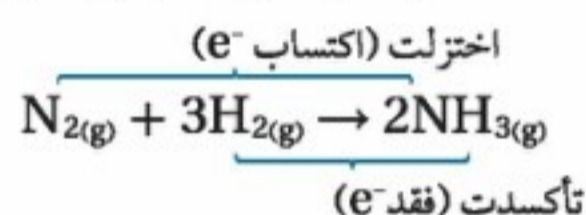
- اكتب معادلة تفاعل الفضة مع كبريتيد الهيدروجين، التي تنتج كبريتيد الفضة والهيدروجين.
- اكتب معادلة تفاعل كبريتيد الفضة (الشوائب) مع رقائق الألومنيوم والتي تنتج كبريتيد الألومنيوم والفضة.
- حدّد أي الفلزات أكثر نشاطاً: الألومنيوم أم الفضة؟ وكيف تعرف ذلك من النتائج؟
- فسر لماذا يجب ألا تستعمل أواني الألومنيوم عند تنظيف مواد مصنوعة من الفضة؟

تفاعلات الأكسدة والاختزال والكهروسالبية Redox and Electronegativity

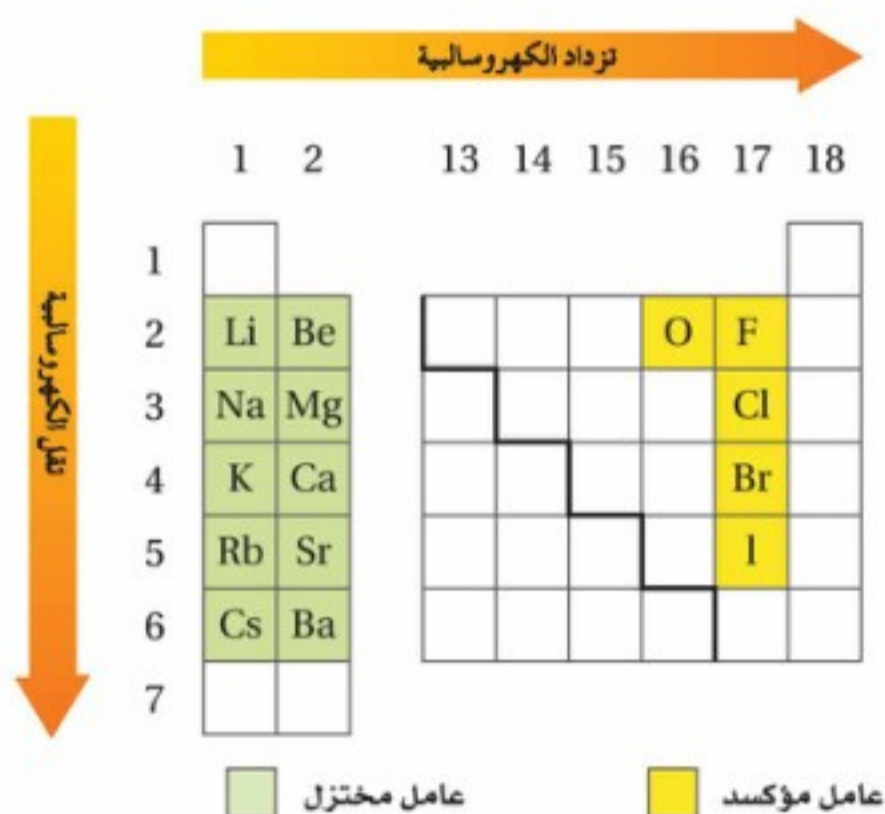
لا تقتصر تفاعلات الأكسدة والاختزال على تحول ذرات العناصر إلى أيونات أو العكس، بل تتضمن بعض تفاعلات الأكسدة والاختزال تغيرات في الجزيئات أو الأيونات الذرية التي تتحد فيها الذرات تساهمياً بذررات أخرى. فعلى سبيل المثال، تمثل المعادلة الآتية تفاعل الأكسدة والاختزال المستعمل في صناعة الأمونيا NH_3 :



وهذه العملية لا تتضمن أيونات ولا انتقالاً للإلكترونات. فالمتفاعلات والنواتج جميعها مركبات جزيئية، ومع ذلك يعد تفاعل تأكسد واختزال؛ إذ يعدّ النيتروجين عاملاً مؤكسداً، والهيدروجين عاملاً مختزلاً. في وضع مثل الأمونيا حيث تتشارك ذرتان في الإلكترونات، كيف يمكننا القول إن إحدى الذرات فقدت الإلكترونات وتأكسدت، في حين اكتسبت الذرة الأخرى الإلكترونات واختزلت؟ للإجابة عن ذلك تحتاج إلى معرفة الذرة التي تجذب الإلكترونات بقوة أكبر، أو بعبارة أخرى معرفة أي الذرات لها كهروسالبية أكبر. يوضح الشكل 4-4 تزايد الكهروسالبية من اليسار إلى اليمين عبر الدورة، وتقل بصورة عامة كلما اتجهنا في المجموعة إلى أسفل.



وتعدّ عناصر المجموعتين 1 و2 ذات الكهروسالبية المنخفضة عوامل مختزلة قوية، وعناصر المجموعة 17 والأكسجين في المجموعة 16 ذات الكهروسالبية العالية عوامل مؤكسدة قوية. وتساوي كهروسالبية الهيدروجين 2.20 تقريباً، في حين تبلغ كهروسالبية النيتروجين 3.04 تقريباً. وبهدف دراسة تفاعلات الأكسدة والاختزال فإنه كلما زادت كهروسالبية الذرة، مثل النيتروجين في هذه الحالة، يُعامل كما لو اختزل باكتسابه الإلكترونات من الذرة الأخرى وهي الهيدروجين في هذه الحالة. وعلى العكس، فإنّ الذرة الأقل كهروسالبية وهي الهيدروجين قد تأكسدت بفقدانها الإلكترونات لصالح الذرة الأخرى وهي النيتروجين.



الشكل 4-4 تزداد كهروسالبية العناصر من اليسار إلى اليمين عبر الجدول الدوري، وتقل في الاتجاه نحو أسفل عبر المجموعة الواحدة. وتعدّ العناصر ذات الكهروسالبية المنخفضة عوامل مختزلة قوية، والعناصر ذات الكهروسالبية المرتفعة عوامل مؤكسدة قوية.

توقع أي العناصر يمكن أن تكون أقوى بوصفها عوامل مؤكسدة، وأيها أقوى بوصفها عوامل مختزلة؟

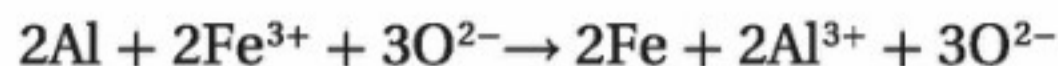
واقع الكيمياء في الحياة

الأكسدة



الصدأ يتأكسد الحديد عندما يلامسه الهواء الرطب، مكوناً أكسيد الحديد III Fe_2O_3 ويسمى الصدأ، والصدأ شائع جداً؛ لأن مركبات الحديد سريعة التفاعل مع الأكسجين، والحديد النقي غير شائع في الطبيعة. وحالياً يستعمل الفولاذ وهو سبيكة يعدّ الحديد المكون الأساسي لها. وهناك طرائق كثيرة يمكن اتباعها لحماية الحديد كالطلاء، والدهان، وإضافة المواد البلاستيكية لحماية منتجات الحديد من الأكسدة.

تفاعلات الأكسدة والاختزال تمثل المعادلة الآتية تفاعل أكسدة واختزال الألومنيوم والحديد.



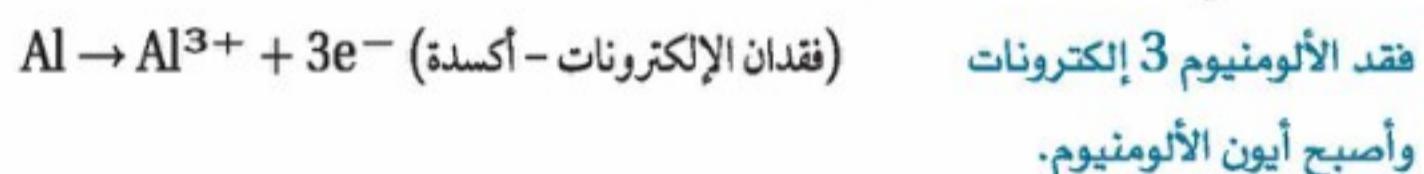
حدّد المادة التي تأكسدت والمادة التي اختزلت في هذا التفاعل. حدّد العامل المؤكسد والعامل المختزل.

1 تحليل المسألة

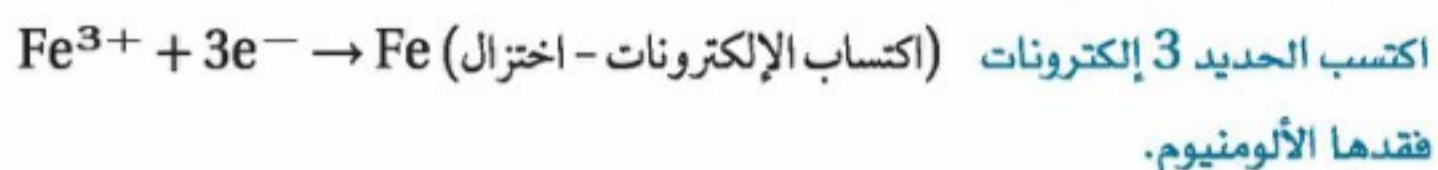
لقد أعطيت المتفاعلات والنواتج في التفاعل، لذا عليك تحديد انتقال الإلكترونات الحاصل، ثم يمكنك تطبيق تعريف العامل المؤكسد والعامل المختزل للإجابة عن السؤال.

2 حساب المطلوب

حدّد عمليتي التأكسد والاختزال.



وأصبح أيون الألومنيوم.



فقدتها الألومنيوم.

لأن الألومنيوم تأكسد لذا فهو العامل المختزل، ولأن الحديد اختزل لذا فهو العامل المؤكسد.

3 تقويم الإجابة

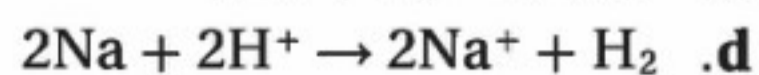
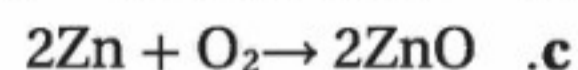
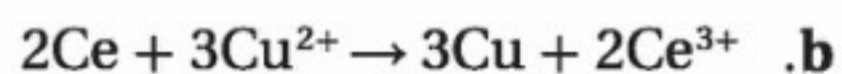
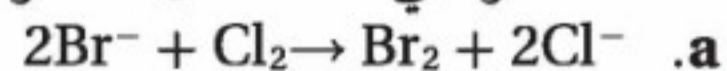
تأكسد الألومنيوم في هذه العملية بفقدته الإلكترونات، في حين اختزل الحديد واكتسب الإلكترونات، ومن ثم يتفق تعريف كل من الأكسدة والاختزال والعامل المؤكسد والعامل المختزل مع ما تقدم. لاحظ أن عدد تأكسد الأكسجين لم يتغير في هذا التفاعل؛ لذا لا يعدّ الأكسجين عاملاً مفتاحياً لحل المسألة.

مسائل تدريبية

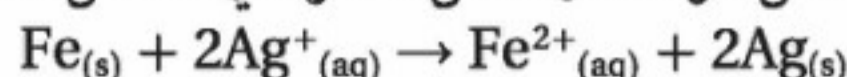
1. حدّد التغيرات، في كل مما يلي سواء أكانت أكسدة أم اختزالاً؟ وتذكر أن e^{-} هو رمز الإلكترون:



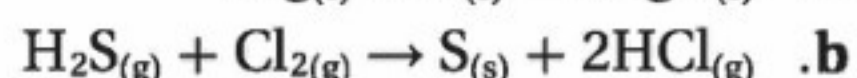
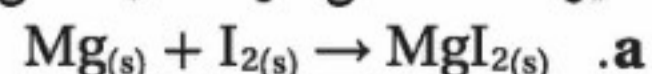
2. حدّد العناصر التي تأكسدت والعناصر التي اختزلت في العمليات الآتية:



3. حدّد العامل المؤكسد والعامل المختزل في التفاعل الآتي:



4. تحفيز حدّد العامل المؤكسد والعامل المختزل في التفاعل الآتي:




تحديد أعداد التأكسد

Determining Oxidation Numbers

لنفهم جميع أنواع تفاعلات الأكسدة والاختزال لا بد من تعرّف الطريقة التي يتم بها تحديد عدد التأكسد (n) لذرات العناصر الداخلة في التفاعل، ويلخص الجدول 4-2 القواعد التي يستعملها الكيميائيون لتسهيل عملية التحديد.

لاحظ أن الجدول لا يتضمن العناصر الانتقالية وأشباه الفلزات واللافلزات التي قد يكون لها أكثر من عدد تأكسد في المركبات المختلفة. فعلى سبيل المثال للحديد أعداد تأكسد مختلفة يُستدل عليها من خلال الألوان الموضحة في الشكل 4-5.

الجدول 4-2 قواعد تحديد أعداد التأكسد للعناصر		القاعدة
عدد التأكسد (n)	مثال	
0	Na, O ₂ , Cl ₂ , H ₂	1. عدد تأكسد الذرة غير المتحددة يساوي صفرًا.
+2	Ca ²⁺	2. عدد تأكسد الأيون الأحادي الذرة يساوي شحنة الأيون.
-1	Br ⁻	
-3	NH ₃ في N	3. عدد تأكسد الذرة الأكثر كهروسالبية في الجزيء أو الأيون المعقد هو الشحنة نفسها التي سيكون عليها كما لو كان أيونًا.
-2	NO في O	
-1	LiF في F	4. عدد تأكسد العنصر الأكثر كهروسالبية (الفلور) هو دائمًا -1 - عندما يرتبط بعنصر آخر.
-2	NO ₂ في O	5. عدد تأكسد الأكسجين في المركب دائمًا يساوي -2 - ما عدا مركبات فوق الأكاسيد كما في المركب فوق أكسيد الهيدروجين H ₂ O ₂ ، حيث يساوي -1 - . وعندما يرتبط بالفلور العنصر الوحيد الذي له كهروسالبية أعلى من الأكسجين يكون عدد تأكسده موجبًا.
+2	OF ₂ في O	
-1	NaH في H	6. عدد تأكسد الهيدروجين في معظم مركباته يساوي +1، ما عدا الهيدريدات فيساوي -4 -
+1	K	7. عدد تأكسد فلزات المجموعتين الأولى والثانية والألومنيوم يساوي عدد إلكترونات المدار الخارجي.
+2	Ca	
+3	Al	
(+2) + 2(-1) = 0	CaBr ₂	8. مجموع أعداد التأكسد في المركبات المتعادلة يساوي صفرًا.
(+4) + 3(-2) = -2	SO ₃ ²⁻	9. مجموع أعداد التأكسد للمجموعات الذرية يساوي شحنة المجموعة.



الشكل 4-5 صخر يوضح طبقات من الحديد ناتجة عن الاختلاف في حالة تأكسد الحديد.

تحديد أعداد التأكسد استعمال قواعد تحديد أعداد التأكسد لحساب عدد التأكسد لكل عنصر في مركب كلورات البوتاسيوم $KClO_3$ وفي أيون الكبريتيت SO_3^{2-} .

1 تحليل المسألة

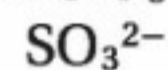
أعطيت أعداد التأكسد في قواعد تحديد أعداد التأكسد لكل من الأكسجين والبوتاسيوم، وأعطيت الشحنة الكلية للأيون أو المركب. استخدم هذه المعلومات، وطبق القواعد، وحدد عدد التأكسد لكل من الكلور والكبريت (اجعل n عدد التأكسد للعنصر في السؤال).

المطلوب

$$n_{Cl} = ?$$

$$n_S = ?$$

المعطيات



$$n_O = -2$$

$$n_K = +1$$

2 حساب المطلوب

بين أعداد التأكسد لكل من العناصر المعروفة، واجعل مجموع أعداد التأكسد للعناصر في المركب أو الأيون مساوية للصفر أو لشحنة الأيون، ثم جد القيمة المجهولة من أعداد التأكسد.

$$(n_K) + (n_{Cl}) + 3(n_O) = 0$$

$$(+1) + (n_{Cl}) + 3(-2) = 0$$

$$1 + n_{Cl} + (-6) = 0$$

$$n_{Cl} = +5$$

$$(n_S) + 3(n_O) = -2$$

$$(n_S) + 3(-2) = -2$$

$$n_S + (-6) = -2$$

$$n_S = +4$$

مجموع أعداد التأكسد للمركب المتعادل هو صفر.

ولفلزات المجموعة الأولى يكون $n = +1$.

$$n_K = +1, n_O = -2$$

جد قيمة n_{Cl} .

مجموع أعداد التأكسد للأيون المتعدد الذرات يساوي شحنة الأيون.

$$n_O = -2$$

جد قيمة n_S .

3 تقويم الإجابة

لقد طبقت قواعد حساب أعداد التأكسد تطبيقاً صحيحاً. فجميع أعداد التأكسد لكل عنصر أخذت القيمة الصحيحة لها.

مسائل تدريبية

- حدّد عدد التأكسد للعنصر المكتوب بلون داكن في الصيغ الجزيئية الآتية:

$NaClO_4$.a	$AlPO_4$.b	HNO_2 .c
--------------	-------------	------------
- حدّد عدد التأكسد للعنصر المكتوب بلون داكن في صيغ الأيونات الآتية:


NH_4^+ .a	AsO_4^{3-} .b	CrO_4^{2-} .c
-------------	-----------------	-----------------
- حدّد عدد التأكسد للنيتروجين في الجزيئات الآتية:

NH_3 .a	KCN .b	N_2H_4 .c
-----------	----------	-------------
- تحفيز حدّد التغير الكلي في عدد تأكسد كل من العناصر في معادلات الأكسدة والاختزال الآتية:

$C_{(s)} + O_{2(g)} \rightarrow CO_{2(g)}$.a
$Cl_{2(g)} + ZnI_{2(s)} \rightarrow ZnCl_{2(s)} + I_{2(s)}$.b
$CdO_{(s)} + CO_{(g)} \rightarrow Cd_{(s)} + CO_{2(g)}$.c

أعداد التأكسد في تفاعلات الأكسدة والاختزال Oxidation Numbers in Redox Reactions

بعد أن درست أعداد التأكسد عليك أن تكون قادرًا على الربط بين تفاعلات الأكسدة والاختزال والتغير في عدد التأكسد. وبالرجوع إلى معادلة التفاعل الذي شاهدته في بداية الدرس وهو استبدال البروم بالكلور Cl_2 في محلول بروميد البوتاسيوم KBr .



ابدأ أولاً بتحديد عدد التأكسد لجميع العناصر في المعادلة الموزونة مستخدمًا الجدول 3-4، ثم راجع التغيرات كما هو موضح في المعادلة أدناه.



ستلاحظ أن عدد تأكسد البروم قد تغير من -1 إلى صفر، بزيادة مقدارها 1. وقد تغير في الوقت نفسه عدد تأكسد الكلور من صفر إلى -1؛ أي قل بمقدار 1؛ لذا اختزل الكلور وتأكسد البروم.

عندما تتأكسد الذرة يزيد عدد التأكسد، وعندما تختزل يقل عدد التأكسد. لاحظ أنه ليس هناك تغير في عدد تأكسد البوتاسيوم؛ لأن أيون البوتاسيوم لا يشترك في التفاعل؛ لذا يُعدّ أيونًا متفرجًا.

الجدول 3-4 أعداد التأكسد لبعض العناصر					
عدد التأكسد	+1	+2	+3	-1	-2
الألمنيوم			×		
الباريوم		×			
البروم				×	
الكاديوم		×			
الكالسيوم		×			
السيزيوم	×				
الكلور				×	
الفلور				×	
الهيدروجين				×	×
اليود				×	
الليثيوم	×				
الماغنسيوم		×			
الأكسجين					×
البوتاسيوم					×
الصوديوم					×
الفضة					×
الإسترانشيوم			×		

التقويم 4-1

الخلاصة

- تتضمن تفاعلات الأكسدة والاختزال انتقال الإلكترونات من ذرة إلى أخرى.
- عندما تختزل ذرة أو أيون يقل عدد تأكسدها، وعندما تتأكسد ذرة أو أيون يزداد عدد تأكسدها.
- في تفاعلات الأكسدة والاختزال التي تتضمن مركبات جزيئية وأيونات متعددة الذرات بروابط تساهمية، فالذرات الأعلى كهروسالبية تختزل، في حين تتأكسد الذرات ذات الكهروسالبية الأقل.

9. **الفكرة الرئيسية** فسر لماذا يجب أن يحدث تفاعلا الأكسدة والاختزال دائماً معاً؟
10. **صف** دور كل من العوامل المؤكسدة والمختزلة في تفاعلات الأكسدة والاختزال. وكيف يتغير كل منهما في التفاعل؟
11. **اكتب** معادلة تفاعل فلز الحديد مع حمض الهيدروبروميك لتكوين بروميد الحديد III وغاز الهيدروجين. ثم حدّد التغير الكلي في عدد تأكسد العنصر الذي اختزل والعنصر الذي تأكسد.
12. **حدّد** عدد التأكسد للعنصر الذي يظهر باللون الداكن في المركبات الآتية:
a. HNO_3 . b. Ca_3N_2 . c. Sb_2O_5 . d. $CuWO_4$
13. **حدّد** عدد التأكسد للعنصر الذي يظهر باللون الداكن في الأيونات الآتية:
a. IO_4^- . b. MnO_4^- . c. $B_4O_7^{2-}$. d. NH_2^-
14. **الرسم البياني واستعماله** تعدّ الفلزات القلوية عوامل مختزلة قوية. ارسم رسمًا بيانيًا توضح فيه كيف تزداد أو تقل قابلية الفلزات القلوية للاختزال كلما اتجهنا أسفل المجموعة ابتداءً من الصوديوم حتى الفرانسيوم.



4-2

الأهداف

- تربط التغير في عدد التأكسد بانتقال الإلكترونات.
- تستعمل التغير في عدد الأكسدة لوزن معادلات الأكسدة والاختزال.
- تزن معادلة الأكسدة والاختزال الأيونية الكلية مستعملًا طريقة نصف التفاعل.

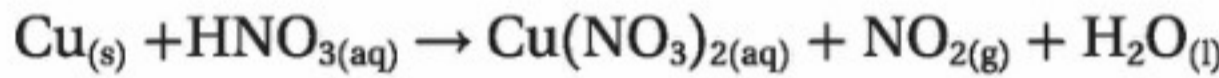
وزن معادلات الأكسدة والاختزال Balancing Redox Reactions

الفكرة الرئيسية تصبح معادلات الأكسدة والاختزال موزونة عندما تكون الزيادة الكلية في أعداد التأكسد مساوية لانخفاض الكلي في أعداد التأكسد للذرات الداخلة في التفاعل.

الربط مع الحياة عندما تفسد المواد الدهنية في الأطعمة، يقال إنها أصبحت حمضية؛ إذ تتكسر الجزيئات الكبيرة خلال تفاعلات الأكسدة والاختزال منتجة رائحة كريهة. وتعد المعادلة الخاصة بهذه العملية معقدة جدًا، ولكننا نستطيع وزنها باستعمال القواعد نفسها التي استعملناها في وزن المعادلات الأيسر.

طريقة عدد التأكسد The Oxidation-Number Method

يجب وزن المعادلات الكيميائية لتوضيح الكميات الصحيحة للمتفاعلات والنواتج. لذا ادرس المعادلات غير الموزونة الآتية للتفاعل الذي يحدث عندما يوضع النحاس في محلول مركز من حمض النيتريك، كما في الشكل 4-6. ينتج غاز بني اللون هو ثاني أكسيد النيتروجين NO_2 من اختزال أيونات النترات NO_3^- ، أما المحلول الأزرق فينتج عن تأكسد النحاس Cu إلى أيون النحاس Cu^{2+} (II).



لاحظ أن الأوكسجين يظهر فقط في مادة متفاعلة واحدة هي HNO_3 ، ولكنه يظهر في النواتج الثلاثة جميعها، أما النيتروجين فيظهر في HNO_3 وفي اثنين من النواتج. مثل معادلة الأكسدة والاختزال هذه التي يظهر فيها العنصر نفسه في عدة مواد متفاعلة وناتجة يصعب وزنها. وكما تعلم، فعندما تفقد الذرة الإلكترونات يزداد عدد تأكسدها، وعندما تكتسب الذرة الإلكترونات يقل عدد تأكسدها. ويجب أن يساوي عدد الإلكترونات المكتسبة عدد الإلكترونات المفقودة. ولذا يجب أن يكون مجموع الزيادة في عدد التأكسد مساويًا لمجموع الانخفاض في أعداد التأكسد للذرات المشتركة في التفاعل. وتسمى مثل هذه الطريقة **طريقة عدد التأكسد**، وتعتمد على المبادئ في الجدول 4-4.

مراجعة المفردات

المعادلة الأيونية الكلية: معادلة أيونية تتضمن الجسيمات المشاركة في التفاعل فقط.

المفردات الجديدة

طريقة عدد التأكسد
نصف التفاعل

الشكل 4-6 من الصعب أحيانًا وزن بعض المعادلات الكيميائية كما في تفاعلات الأكسدة والاختزال بين النحاس وحمض النيتريك؛ لأن العناصر تظهر أكثر من مرة في كل جهة من المعادلة.



طريقة عدد التأكسد

الجدول 4-4

1. حدّد أعداد التأكسد لجميع الذرات في المعادلة.
2. حدّد الذرات التي تأكسدت والذرات التي اختزلت.
3. حدّد التغير في عدد التأكسد للذرات التي تأكسدت والذرات التي اختزلت.
4. اجعل التغير في أعداد التأكسد متساويًا في القيمة؛ وذلك بضبط المعاملات في المعادلة.
5. استعمل الطريقة التقليدية في وزن المعادلة الكيميائية الكلية، إذا كان ذلك ضروريًا.

طريقة عدد التأكسد زن معادلة الأكسدة والاختزال الآتية: $\text{Cu}_{(s)} + \text{HNO}_{3(aq)} \rightarrow \text{Cu}(\text{NO}_3)_{2(aq)} + \text{NO}_{2(g)} + \text{H}_2\text{O}_{(l)}$

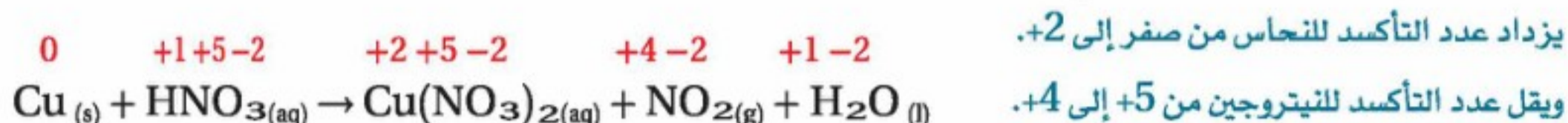
1 تحليل المسألة

استخدم قواعد تحديد عدد التأكسد، ويجب أن تتساوى زيادة عدد التأكسد للذرات المتأكسدة مع نقصان عدد التأكسد للذرات المختزلة.

ثم اضبط المعاملات لوزن المعادلة.

2 حساب المطلوب

حدّد أعداد التأكسد للذرات كلها في المعادلة:



حدّد أعداد التأكسد للذرات كلها في المعادلة:

Cu تأكسدت N اختزلت H لم تتغير O لم تتغير N لم تتغير في أيون النترات NO_3^-

حدّد التغيرات في عدد التأكسد لجميع الذرات التي تأكسدت والذرات التي اختزلت.

تأكسد النحاس؛ لأنه خسر إلكترونات

التغير في عدد تأكسد Cu = +2

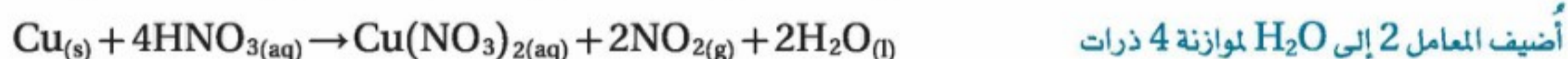
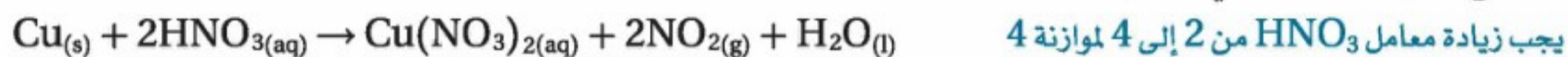
اختزل النيتروجين؛ لأنه اكتسب إلكترونات

التغير في عدد تأكسد N = -4

اجعل التغير في أعداد التأكسد متساويًا في القيمة؛ وذلك بضبط المعاملات في المعادلة:



استعمل الطريقة التقليدية في وزن بقية المعادلة:



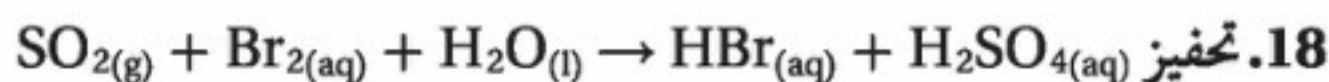
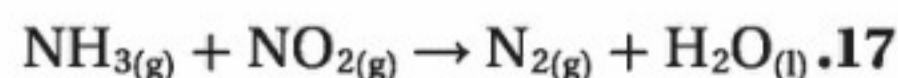
هيدروجين في الجهة اليسرى.

3 تقويم الإجابة

عدد ذرات كل عنصر متساوية على جانبي المعادلة.

مسائل تدريبية

استعمل طريقة عدد التأكسد في وزن معادلات الأكسدة والاختزال الآتية:



مختبر تحليل البيانات

* مبنية على بيانات واقعية

حلل واستنتج

كيف تعمل تفاعلات الأكسدة والاختزال على إطلاق المكوك الفضائي؟ يكتسب المكوك الفضائي 72% تقريباً من قوة اندفاعه من صواريخ الإطلاق التي تستعمل الوقود الصلب خلال الدقيقتين الأوليين من عملية إطلاق الصاروخ، ويرتبط صاروخان على هيئة قلم الرصاص معاً من كلا الجانبين بخزان الهيدروجين السائل ووقود الأكسجين. ويحتوي كل صاروخ على 499,000 kg تقريباً من مزيج الدفع.

البيانات والملاحظات

مزيج الدفع في صواريخ الإسناد	
النسبة المئوية	المكونات
69.6	فوق كلورات الأمونيوم
16	ألومنيوم
0.4	المادة المحفزة
12.04	الأسمت
1.96	معامل المعالجة

أخذت هذه البيانات من:

*Dumoulin, Jim. "SolidRocketBoosters." NSTSShuttle Reference Manual. 1988

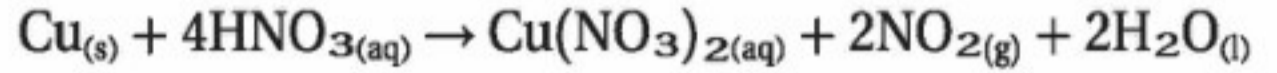
التفكير الناقد

1. زن استعمل طريقة عدد التأكسد في وزن المعادلة الكيميائية لتفاعل صاروخ الإسناد.

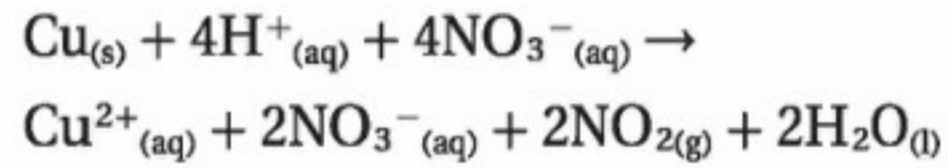
$$\text{NH}_4\text{ClO}_4(\text{s}) + \text{Al}(\text{s}) \rightarrow \text{Al}_2\text{O}_3(\text{s}) + \text{HCl}(\text{g}) + \text{N}_2(\text{g}) + \text{H}_2\text{O}(\text{g})$$
2. حدّد أي العناصر تأكسدت، وأيها اختزلت؟
3. استدل ما مزايا استعمال تفاعل وقود الصواريخ الصلب (solid rocket boosters) في الدقيقتين الأوليين من الإطلاق؟
4. احسب ما عدد مولات بخار الماء الناتجة عن تفاعل واحد من (SRB)؟

وزن معادلات الأكسدة والاختزال الأيونية الكلية Balancing Net Ionic Redox Equations

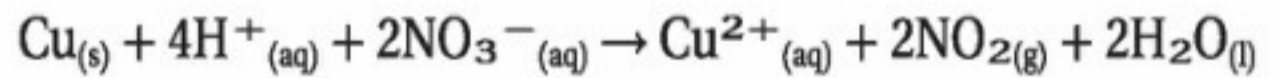
يفضل الكيميائيون في بعض الأحيان التعبير عن تفاعلات الأكسدة والاختزال بأبسط ما يمكن، كما في المعادلات التي توضح عمليات الأكسدة والاختزال فقط. وبالرجوع مجدداً إلى المعادلة الموزونة لتفاعل تأكسد النحاس في محلول حمض النيتريك:



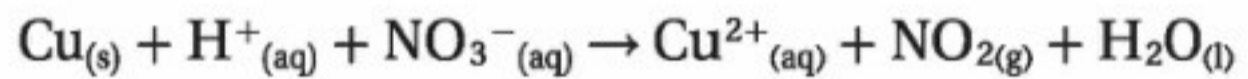
نلاحظ أن التفاعل يحدث في محلول مائي؛ لذا فإن HNO_3 ، وهو حمض قوي سوف يتأين كلياً، كما أن نترات النحاس $\text{Cu}(\text{NO}_3)_2$ ستتفكك إلى أيونات؛ لذا يمكن كتابة المعادلة على النحو الآتي:



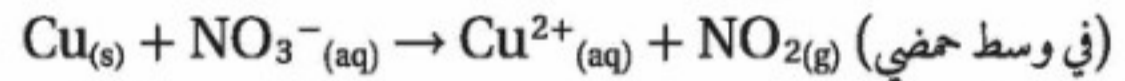
توجد أربعة أيونات من النترات في طرف المواد المتفاعلة؛ اثنان منها فقط قد تغيرا إلى ثاني أكسيد النيتروجين، وبقي الأيونان الآخران متفرجين، بحيث يمكن حذفهما من المعادلة. ولتبسيط الأمور، يكتب الكيميائيون أيونات الهيدروجين في صورة $\text{H}^+(\text{aq})$ مع الاتفاق على وجودها في صورة $\text{H}_3\text{O}^+(\text{aq})$. والآن يمكن كتابة المعادلة لبيان المواد المشتركة في التفاعل على النحو الآتي:



والآن إذا نظرت إلى المعادلة الآتية غير الموزونة:

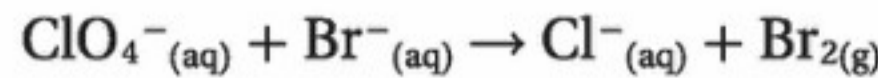


تلاحظ أن التفاعل نفسه يُعبر عنه بطريقة توضح فقط المواد التي تأكسدت والتي اختزلت في وسط حمضي:



وفي هذه الحالة، تحذف أيونات الهيدروجين وجزيئات الماء لأن أيًا منها لم يحدث لها أكسدة أو اختزال. وتوجد في المحلول أيونات الهيدروجين H^+ وجزيئات الماء بوفرة وتستطيع المشاركة في تفاعل الأكسدة والاختزال سواء في صورة متفاعلات أو نواتج. وتحدث بعض تفاعلات الأكسدة والاختزال فقط في المحاليل القاعدية، وعند وزن معادلات هذه التفاعلات يمكنك إضافة أيونات الهيدروكسيد OH^- وجزيئات الماء إلى طرفي المعادلة.

وزن معادلة الأكسدة والاختزال الأيونية الكلية زن معادلة الأكسدة والاختزال الآتية:

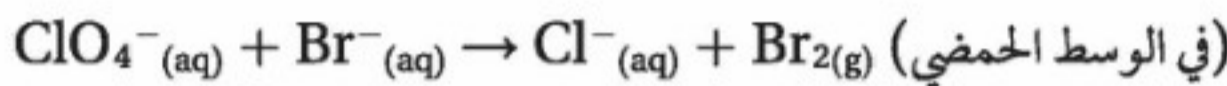


1 تحليل المسألة

استعمل قواعد تحديد عدد التأكسد. يجب أن تتساوى الزيادة في عدد التأكسد للذرات التي تأكسدت مع النقصان في عدد التأكسد للذرات التي اختزلت. يحدث التفاعل في وسط حمضي، اضبط المعاملات لوزن التفاعل.

2 حساب المطلوب

حدّد أعداد التأكسد لجميع الذرات في المعادلة.



استعمل القواعد في الجدول 4-2

حدّد الذرات التي اختزلت والذرات التي تأكسدت.

Br تأكسدت

ازداد عدد تأكسد البروم من -4 إلى الصفر

Cl اختزلت

نقص عدد تأكسد الكلور من +7 إلى -4.

حدّد التغير في عدد التأكسد للذرات التي تأكسدت والذرات التي اختزلت. التغير في عدد التأكسد:

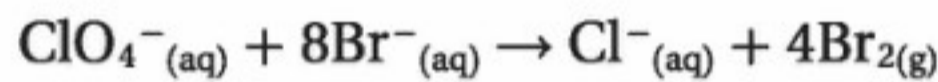
+1 = Br التغير في عدد تأكسد

ازداد عدد تأكسد البروم من -4 إلى الصفر

-8 = Cl التغير في عدد تأكسد

نقص عدد تأكسد الكلور من +7 إلى -4.

اجعل التغير في قيم عدد التأكسد متساويًا، وذلك بضبط معاملات المعادلة:

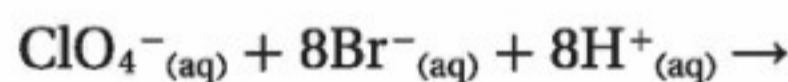


بما أن التغير في عدد التأكسد لـ Br هو +1؛ لذا يجب أن تضيف المعامل

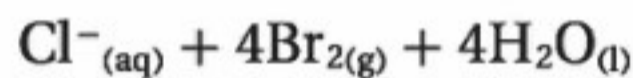
8 لوزن المعادلة الكيميائية. 4Br_2 تمثل 8 ذرات Br لوزن 8Br - في

الجانب الأيسر.

أضف عددًا كافيًا من أيونات الهيدروجين وجزيئات الماء إلى المعادلة؛ لوزن ذرات الأكسجين على طرفي المعادلة:



بما أنك تعرف أن التفاعل يتم في وسط حمضي، يمكنك



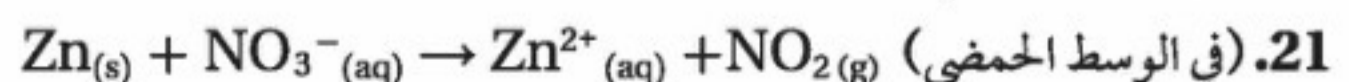
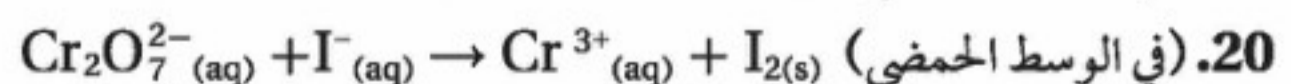
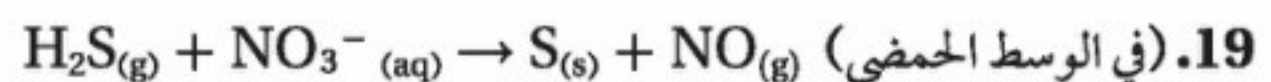
إضافة أيونات الهيدروجين H^+ إلى طرفي المعادلة.

3 تقويم الإجابة

عددا ذرات كل عنصر متساويان في كلا طرفي المعادلة. وكما في المعادلة الأيونية فإن الشحنة الكلية في الطرف الأيمن تساوي الشحنة الكلية في الطرف الأيسر.

مسائل تدريبية

استعمل طريقة عدد التأكسد في وزن المعادلات الأيونية الكلية الآتية:





الشكل 4-7 تُصدر بعض الكائنات الحية ضوءاً لأهداف مختلفة؛ لجذب الإناث، أو للدفاع عن الصفار. ويساعد الضوء المنبعث على الرؤية والتمييز والإدراك.

الرابط مع علم الأحياء فيم تشترك أسماك أعماق المحيط والذباب الناري مع البكتيريا المضيئة؟ إن هذه الأنواع من الكائنات - وكائنات أخرى - تطلق الضوء. والضوء المنبعث ما هو إلا تحويل لطاقة الوضع في الروابط الكيميائية إلى طاقة ضوئية خلال تفاعلات الأكسدة والاختزال. وينبعث الضوء بوسائل مختلفة اعتماداً على أنواع الكائنات. ففي الذباب الناري الموضح في الشكل 4-7، ينتج الضوء عن تأكسد جزيئات اللوسيفيرين Luciferin. ولا يزال العلماء يكتشفون سر الإضاءة الحيوية؛ فبعض الكائنات المضيئة تطلق الضوء باستمرار، في حين تطلق الكائنات الأخرى ضوءاً عندما تتعرض للمضايقة. ويبدو أن بعض أسماك أعماق البحار وقناديل البحر لها قدرة على التحكم في الضوء الذي تطلقه.

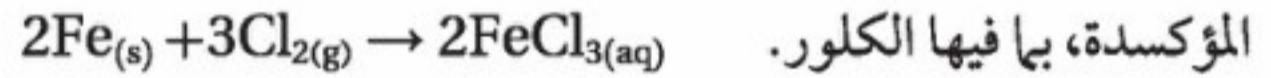
وزن معادلة الأكسدة والاختزال باستعمال طريقة نصف التفاعل

Balancing Redox Reactions Using Half-Reactions

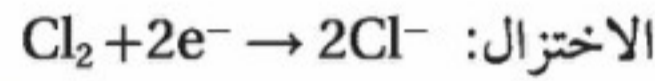
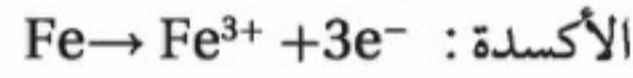
المواد في الكيمياء هي أي جسيمات توجد في المعادلة؛ حيث يوجد في معادلة الاتزان الآتية:



أربعة أنواع من المواد، كتالي جزيئان وهما H_2O و NH_3 ، وأيونان هما NH_4^+ و OH^- وتحدث تفاعلات الأكسدة والاختزال عندما توجد مواد قادرة على منح الإلكترونات (عوامل مختزلة) لمواد أخرى قريبة منها، ولها قدرة على كسب هذه الإلكترونات (عوامل مؤكسدة). فعلى سبيل المثال يمكن للحديد أن يختزل أنواعاً عدة من العوامل المؤكسدة، بما فيها الكلور.



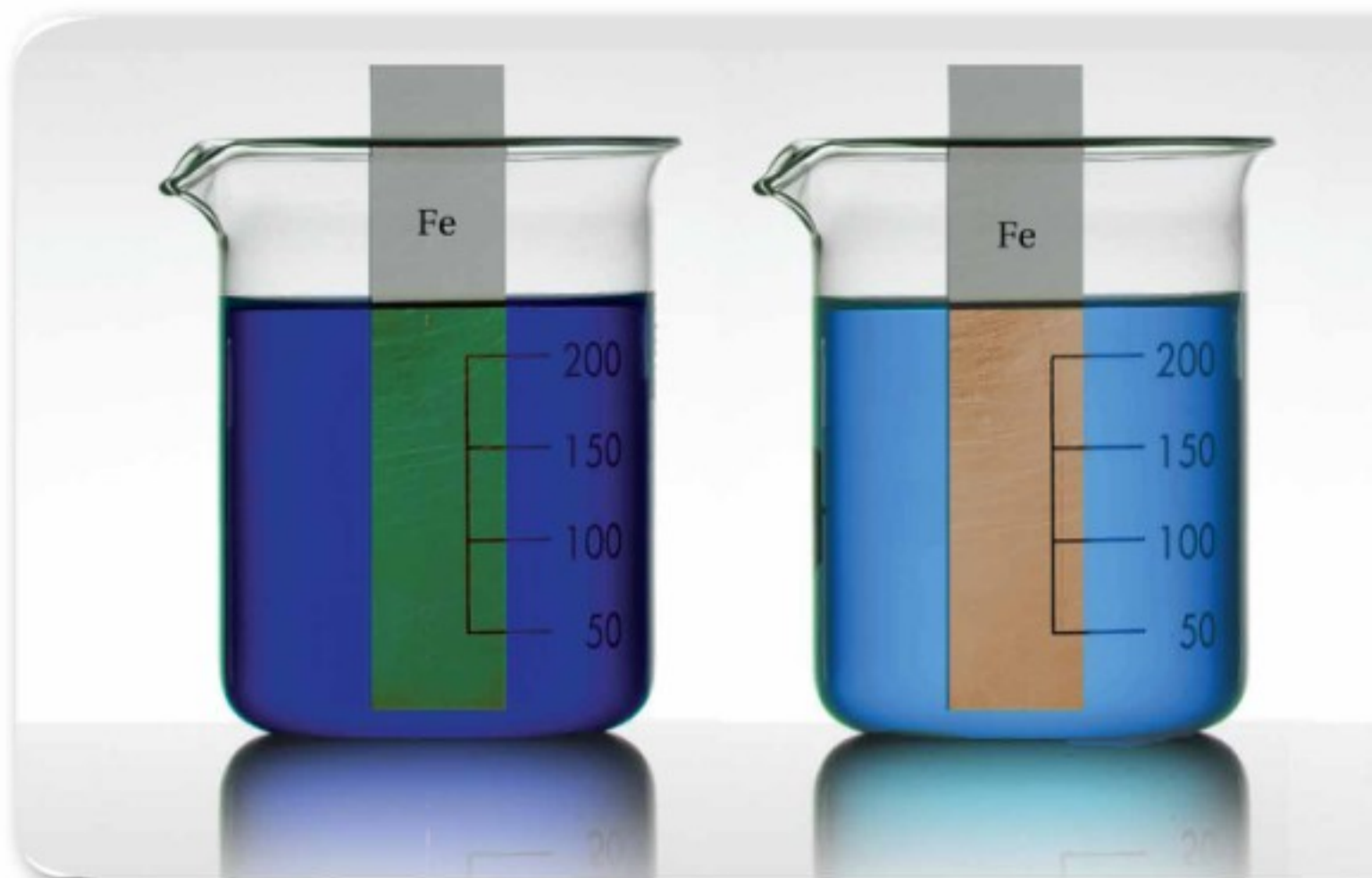
وفي هذا التفاعل تتأكسد كل ذرة حديد بفقدانها 3 إلكترونات لتصبح أيون Fe^{3+} . وفي الوقت نفسه، فإن كل ذرة كلور في Cl_2 تختزل باكتسابها إلكترونًا واحدًا لتصبح أيون Cl^- .



تمثل هذه المعادلات أنصاف تفاعلات؛ حيث يُمثل كل نصف تفاعل أحد جزأي تفاعل الأكسدة والاختزال؛ أي تفاعل الأكسدة أو تفاعل الاختزال. ويبين الجدول 4-5 التنوع في أنصاف تفاعلات الاختزال التي تتضمن تأكسد Fe إلى Fe^{3+} .

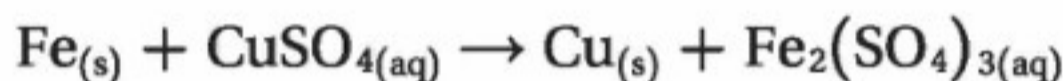
الجدول 4-5 تفاعلات الأكسدة والاختزال التي يحدث فيها تأكسد الحديد

نصف تفاعل الاختزال	نصف تفاعل التأكسد	التفاعل الكلي (غير المتوازن)
$\text{O}_2 + 4\text{e}^- \rightarrow 2\text{O}^{2-}$	$\text{Fe} \rightarrow \text{Fe}^{3+} + 3\text{e}^-$	$\text{Fe} + \text{O}_2 \rightarrow \text{Fe}_2\text{O}_3$
$\text{F}_2 + 2\text{e}^- \rightarrow 2\text{F}^-$		$\text{Fe} + \text{F}_2 \rightarrow \text{FeF}_3$
$2\text{H}^+ + 2\text{e}^- \rightarrow \text{H}_2$		$\text{Fe} + \text{HBr} \rightarrow \text{H}_2 + \text{FeBr}_3$
$\text{Ag}^+ + \text{e}^- \rightarrow \text{Ag}$		$\text{Fe} + \text{AgNO}_3 \rightarrow \text{Ag} + \text{Fe}(\text{NO}_3)_3$
$\text{Cu}^{2+} + 2\text{e}^- \rightarrow \text{Cu}$		$\text{Fe} + \text{CuSO}_4 \rightarrow \text{Cu} + \text{Fe}_2(\text{SO}_4)_3$



الشكل 4-8 يترسب النحاس على الحديد نتيجة لتفاعل الأكسدة والاختزال بين الحديد ومحلول كبريتات النحاس، ويمكنك وزن المعادلة الكيميائية لهذا التفاعل بطريقة نصف التفاعل.

سوف تتعلم المزيد عن أهمية أنصاف التفاعلات عند دراستك الكيمياء الكهربائية لاحقاً، ولكن في الوقت الحالي سوف نتعلم كيف تستعمل أنصاف التفاعل لوزن معادلة الأكسدة. فعلى سبيل المثال، تمثل المعادلة غير الموزونة الآتية التفاعل الذي يحدث عند وضع صفيحة من الحديد في محلول كبريتات النحاس II، كما في الشكل 4-8.



تتأكسد ذرات الحديد عندما تفقد الإلكترونات لأيونات النحاس II. أما خطوات وزن معادلات الأكسدة والاختزال باستخدام طريقة نصف التفاعل فهي موضحة في الجدول 4-6.

المطويات

ضمّن مطويتك معلومات من هذا القسم.

المفردات

المفردات الأكاديمية

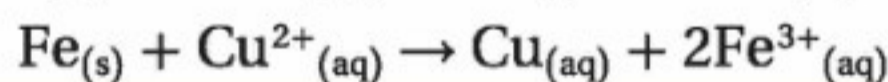
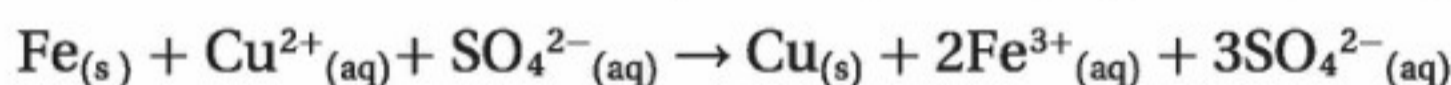
الطريقة (Method)

آلية لعمل شيء ما. يستعد الطلبة للامتحان بطرائق مختلفة.

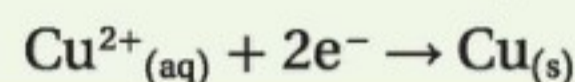
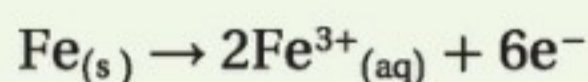
طريقة نصف التفاعل

الجدول 4-6

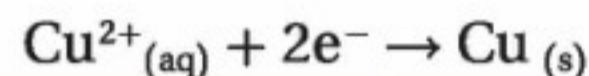
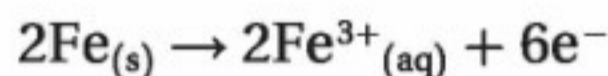
1. اكتب المعادلة الأيونية الكلية للتفاعل، مهملاً الأيونات المتفرجة.



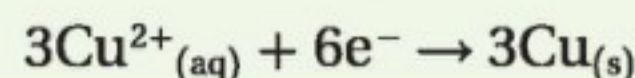
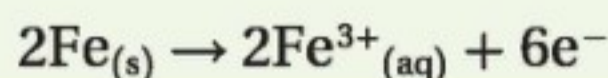
2. اكتب نصفي تفاعل الأكسدة والاختزال للمعادلة الأيونية الكلية.



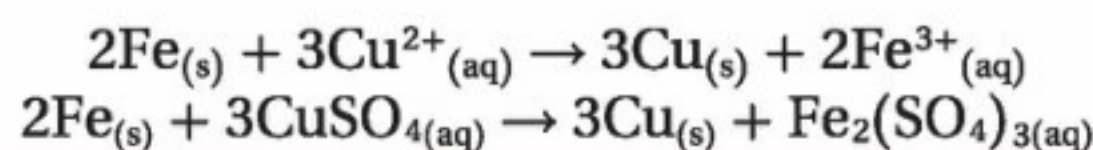
3. زن الذرات والشحنات في كل نصف تفاعل.



4. زن المعادلات على أن يكون عدد الإلكترونات المفقودة في التأكسد يساوي عدد الإلكترونات المكتسبة في الاختزال.

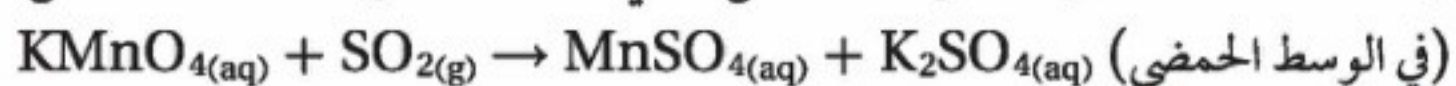


5. اجمع نصفي التفاعل الموزونين، وأعد الأيونات المتفرجة.



وزن معادلة الأكسدة والاختزال باستعمال طريقة نصف التفاعل

زن معادلة التأكسد والاختزال للتفاعل الآتي مستعملاً طريقة نصف التفاعل:



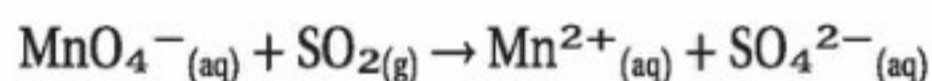
1 تحليل المسألة

يحدث التفاعل في الوسط الحمضي، استعمل قواعد تحديد أعداد التأكسد وخطوات وزن المعادلة بطريقة نصف التفاعل لوزن معادلة التفاعل بين برمنجنات البوتاسيوم وثاني أكسيد الكبريت.

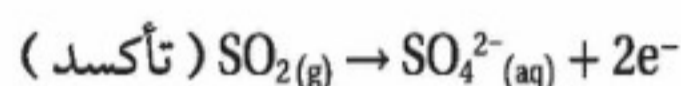
2 حساب المطلوب

اكتب المعادلة الأيونية الكلية للتفاعل.

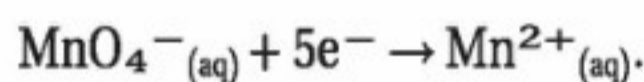
احذف المعاملات، والأيونات المتفرجة.



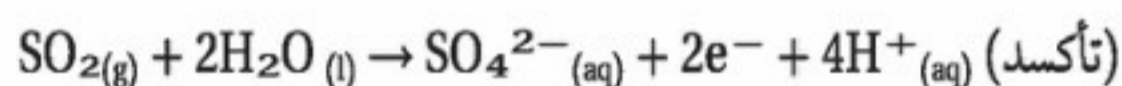
اكتب معادلة نصفي تفاعل الأكسدة والاختزال للمعادلة الأيونية الكلية، متضمنة أعداد التأكسد.



استخدم القواعد الواردة في الجدولين 4-2 و 4-6

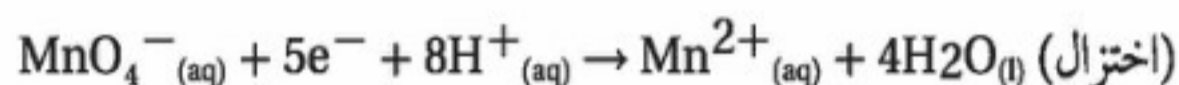


زن الذرات والشحنات في نصفي التفاعل.



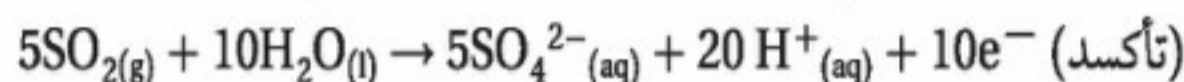
تتوافر جزيئات H_2O في الوسط الحمضي بكثرة، ويمكن

استخدامها في وزن ذرات الأكسجين في أنصاف التفاعل؛ وكذلك

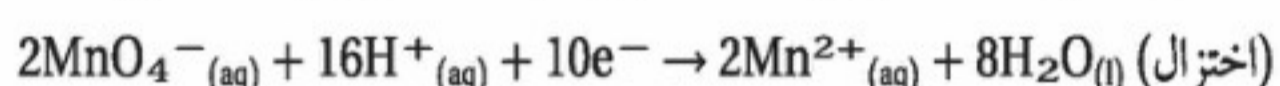


تتوافر أيونات H^+ بسهولة، ويمكن أن تستخدم في وزن الشحنة.

اضبط المعاملات على أن يكون عدد الإلكترونات المفقودة في التأكسد (2) يساوي عدد الإلكترونات المكتسبة في الاختزال (5).

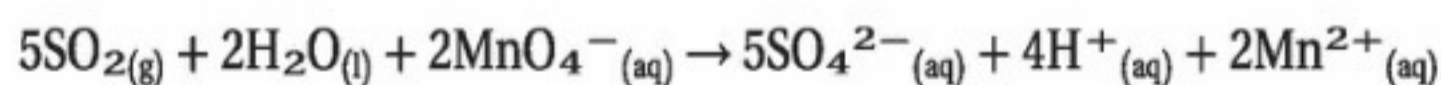
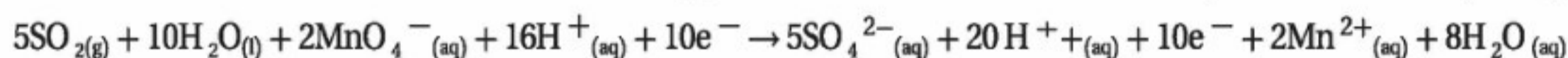


المضاعف المشترك الأصغر 2،5 هو 10. وبالضرب التبادلي

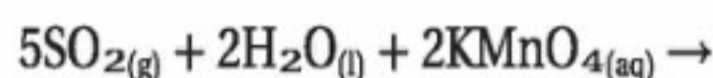


ستحصل على وزن لنصفي تفاعل التأكسد والاختزال.

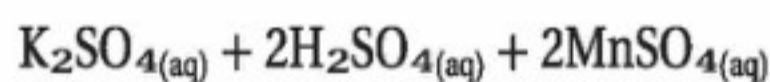
اجمع نصفي التفاعل اللذين تم وزنهما، وبسط المعادلة بحذف أو تجميع المواد المتشابهة في طرفي المعادلة.



أعد وضع الأيونات المتفرجة (K^+)، وكذلك حالات المواد.



أضف أيونات K^+ إلى أيونات MnO_4^- في الجهة اليسرى، وأحد أيونات SO_4^{2-}



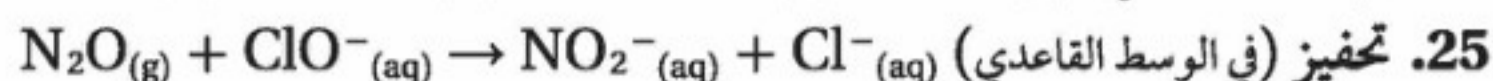
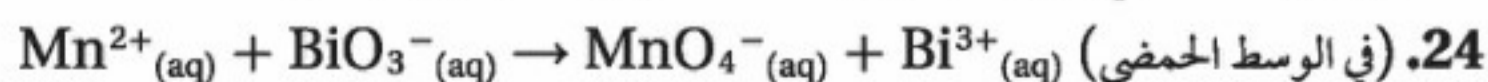
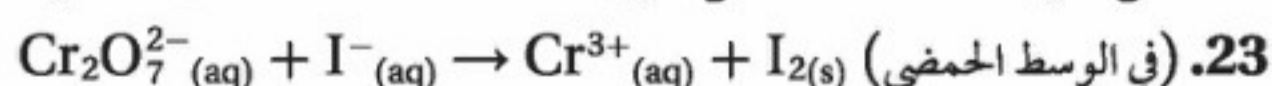
إلى الجهة اليمنى. ثم وزع الأيونات المتبقية بين أيون H^+ وأيونات Mn^{2+} .

3 تقويم الإجابة

تشير مراجعة المعادلة الموزونة إلى أن عدد ذرات كل عنصر هو نفسه في طرفي المعادلة.

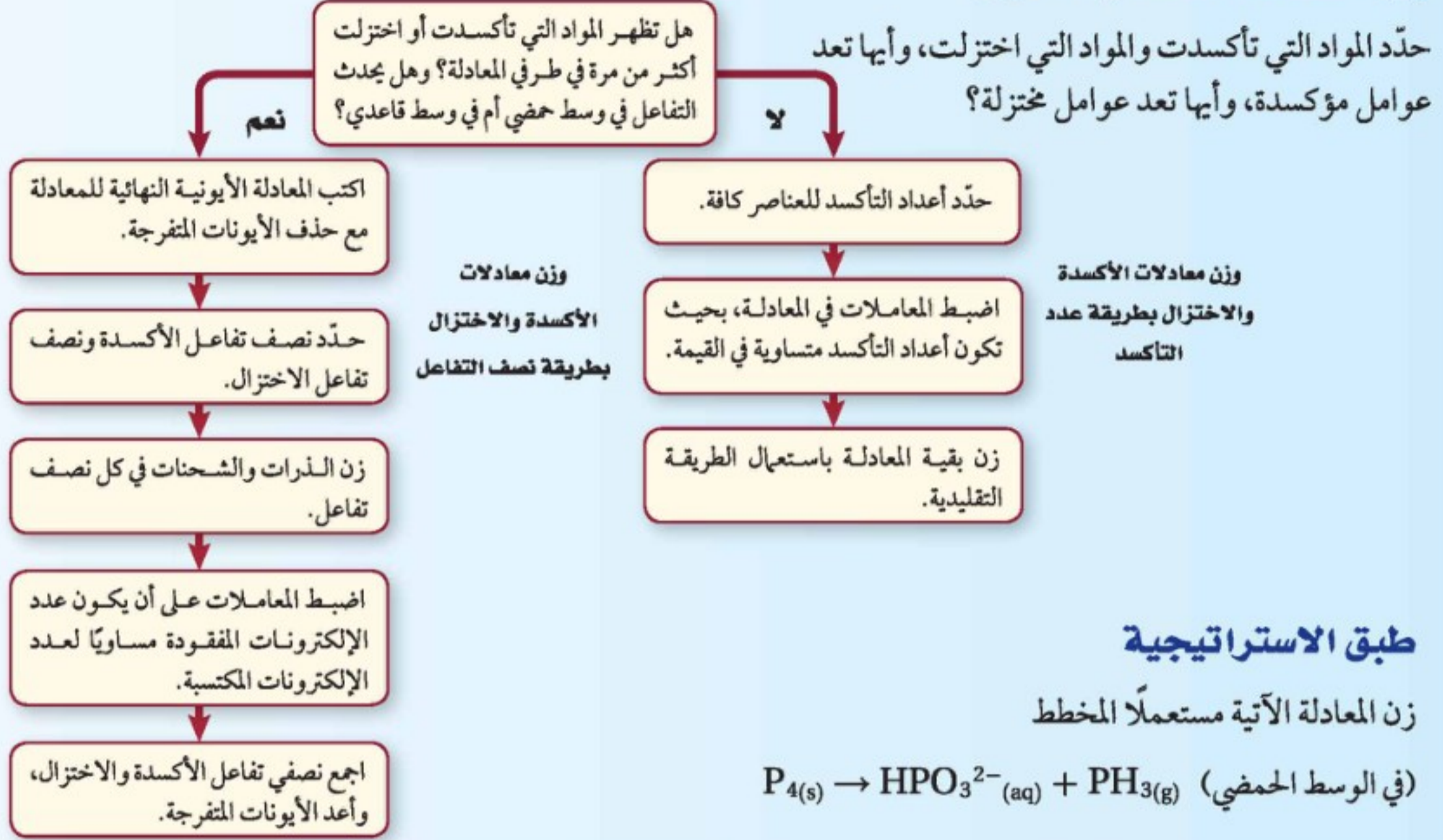
مسائل تدريبية

استعمل طريقة نصف التفاعل لوزن معادلات الأكسدة والاختزال الآتية:



استراتيجية حل المسألة

وزن معادلات الأكسدة والاختزال

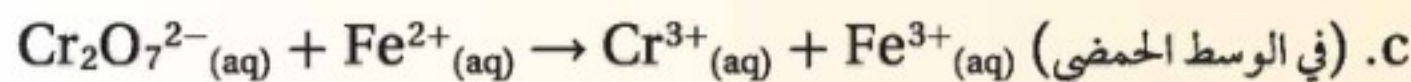
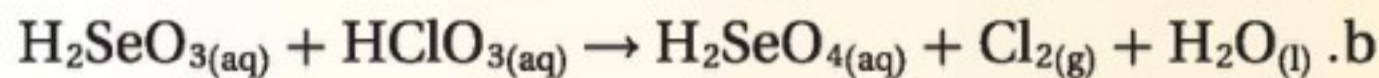
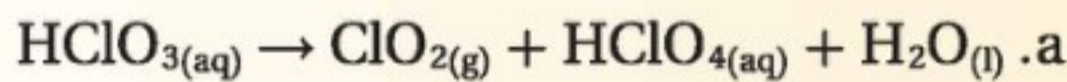


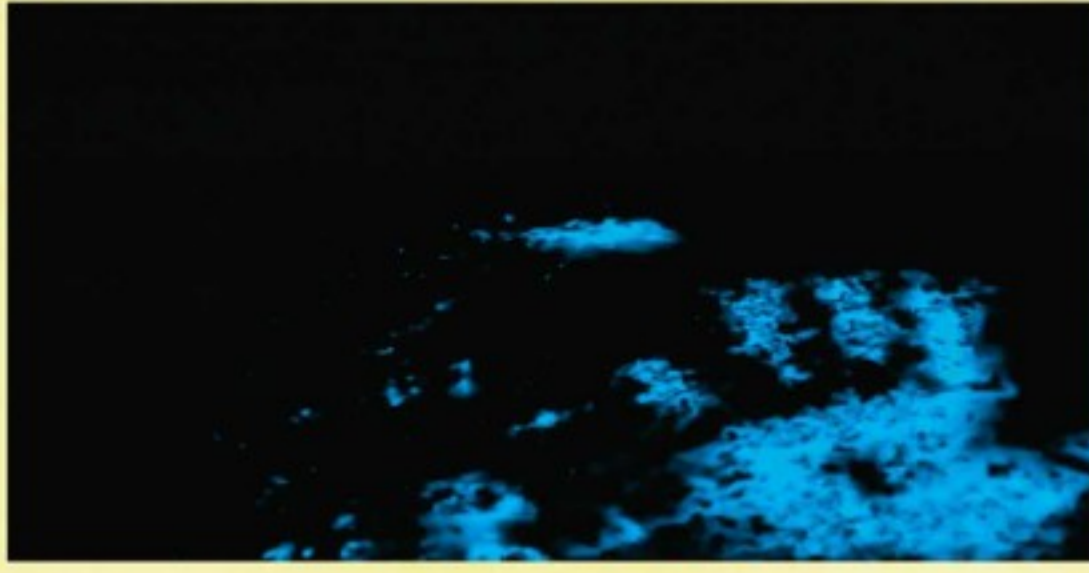
التقويم 4-2

الخلاصة

- يصعب وزن معظم معادلات الأكسدة والاختزال باستعمال الطريقة التقليدية.
- تعتمد طريقة عدد التأكسد على مساواة عدد الإلكترونات المفقودة من الذرات بعدد الإلكترونات المكتسبة من قبل ذرات أخرى.
- لوزن معادلات التفاعلات في الوسط الحمضي، أضف عددًا كافيًا من أيونات الهيدروجين وجزيئات الماء.
- أضف عددًا كافيًا من أيونات الهيدروكسيد وجزيئات الماء، لوزن معادلات التفاعلات في الوسط القاعدي.
- نصف التفاعل هو أحد جزأي تفاعل الأكسدة والاختزال.

26. **الفكرة الرئيسية** هَسِّر كيف يرتبط التغير في عدد التأكسد بعمليات الأكسدة والاختزال؟
27. **صف** لماذا يُعدّ من المهم معرفة الظروف التي يتم فيها تفاعل الأكسدة والاختزال في المحلول المائي بهدف وزن معادلة التفاعل؟
28. **هَسِّر** خطوات طريقة عدد التأكسد لوزن المعادلة.
29. **حدّد** ماذا يوضح نصف تفاعل التأكسد؟ وماذا يوضح نصف تفاعل الاختزال؟
30. **اكتب** نصف تفاعل الأكسدة ونصف تفاعل الاختزال لتفاعل الأكسدة والاختزال الآتي: $Pb_{(s)} + Pd(NO_3)_{2(aq)} \rightarrow Pb(NO_3)_{2(aq)} + Pd_{(s)}$
31. **حدّد** إذا كان نصف تفاعل الأكسدة هو $Sn^{2+} \rightarrow Sn^{4+} + 2e^-$ ونصف تفاعل الاختزال هو $Au^{3+} + 3e^- \rightarrow Au$ ، فما أقل عدد من أيونات القصدير II وأيونات الذهب III يمكن أن تتفاعل حتى لا يتبقى إلكترونات؟
32. **طبق** وزن المعادلات الآتية:





شكل 2 يمكن مقارنة مظهر اللومينول من مسرح الجريمة ببصمات يد المتهم.

الأدلة المتوهجة Glowing evidence يمكن أن تكشف بقع الدم عن أنماط البقع، معطية دلائل حول نوعية السلاح المستخدم في إتمام الجريمة. إذ يمكن أن يُرشد وهج اللومينول على السجاد المحققين حول بقع الدم. كما قد تدل البصمات الدموية في الشكل 2 على المجرم.

وهناك آخرون يستخدمون اللومينول غير المحققين؛ ففي حوادث السيارات، يمكن أن يكشف اللومينول ما إذا كان المهاجم مرتدياً حزام الأمان أم لا، حتى لو صدمت السيارة في أثناء المطر، أو البرد، أو كانت متعرضة لأشعة الشمس المباشرة التي قد تغير بقع الدم.

رذاذ الحل الأخير **Spray of last resort** هناك مواد أخرى تحتوي على الحديد، بالإضافة إلى الدم، وتجعل اللومينول يتوهج، ويمكن للخبراء فقط معرفة الاختلافات. والأكثر أهمية أن اللومينول يمكن أن يتداخل مع اختبارات أخرى؛ ولهذا السبب لا يلجأ رجال التحقيق إلى استخدام اللومينول حتى يكملوا جميع اختباراتهم الأخرى.

الكتاب في الكيمياء

صحيفة الأخبار اكتب مقالة لصحيفة الأخبار تصف فيها كيف يقود اللومينول المحققين إلى الاشتباه بالمجرمين. صف نوع الإثبات المستخدم في التحقيق.

في الميدان


المهنة : محقق البحث الجنائي

الدم المضيء، Blood That Glows

في الطب الشرعي الحديث يمكن استخدام مادة كيميائية تسمى " اللومينول "؛ حيث تتيح للمحققين القدرة على رؤية الآثار.

الأثر الأزرق المخضر **Blue-green whisper** يتأكسد اللومينول عندما يلامس الحديد، كما في الشكل 1 . وتنتج في هذه العملية جزيئات الطاقة في صورة ضوء أزرق مخضر واضح، ويظهر الوهج الباهت الأزرق للومينول في الغرفة المظلمة للمحققين عند وجود آثار الدماء غير الظاهرة، وهي ما لا يمكن رؤيته بالعين المجردة. حيث تتكون خلايا الدم بشكل أساسي من الهيموجلوبين، وهو بروتين يحتوي على حديد.

ولاستخدام اللومينول، يلجأ المحققون إلى مزج مسحوق أبيض $C_8H_7N_3O_2$ بفوق أكسيد الهيدروجين H_2O_2 ، وكيمياء أخرى؛ مما يجعل من المزيج سائلاً يمكن أن يُنشر في المنطقة التي يتوقع أن تحتوي على كمية ضئيلة من الآثار فيجعلها تتوهج. يقوم المصور الفوتوجرافي للطب الشرعي بالتقاط صور فوتوجرافية سريعة بكاميرات خاصة يمكنها التقاط كل من الوهج الخافت للومينول والمنطقة المضيئة من حولها.



شكل 1 يتأكسد اللومينول في الكأس عند إضافة مسمار من الحديد.

مختبر الكيمياء

تعرف شاحنة متهالكة (قديمة)

الملاحظات				
محلول مجهول	ZnSO ₄	HCl	AgNO ₃	
				Cu
				Pb
				Fe
				Mg

10. كرر الخطوة 8 بإضافة محلول كبريتات الخارصين ZnSO₄ إلى العمود الثالث.

11. كرر الخطوة 8، بإضافة المحلول المجهول إلى العمود الرابع.

12. اسمح باستمرار التفاعلات مدة خمس دقائق، ثم صفها، واكتب

"لا تفاعل" لأي حجرة لم يكن هناك دليل على حدوث تفاعل فيها.

13. التنظيف والتخلص من النفايات تخلص من النفايات الصلبة والمحاليل

كما يرشدك المعلم، واغسل المواد والأدوات، وأعدّها إلى أماكنها.

التحليل والاستنتاج

1. لخص النتائج التي لاحظتها في كل فجوة. كيف عرفت بحدوث تفاعل كيميائي؟

2. اعمل نموذجاً اكتب معادلة تفاعل موزونة لكل تفاعل شاهدته، وحدد في كل معادلة المواد التي تأكسدت والمواد التي اختزلت.

3. استنتج استناداً لبياناتك، أي المحاليل أكثر تلويثاً للمياه؟ فسر إجابتك.

4. استخدم المتغيرات والثوابت والضوابط لماذا كان مهماً مقارنة التفاعلات للمحلل المجهول مع أكثر من محلل معروف واحد؟

5. ابحث اكتب تقريراً حول أهمية الكيمياء التي توجد في النظام البيئي.

6. توسع ماذا تتوقع إذا كان محلول نترات الرصاص Pb(NO₃)₂ II أحد المحاليل المستعملة؟

7. تحليل الخطأ قارن إجابتك بإجابات الطلبة الآخرين في المختبر. فسّر وجود أي من الفروق.

الاستقصاء

صمّم تجربة ضع فرضية حول الطريقة التي يمكنك بها إزالة الكيمياء من مصادر المياه دون إلحاق أذى إضافي بالبيئة والمنطقة المحيطة بها، ثم صمّم تجربة لاختبار فرضيتك.

الخلفية النظرية هناك شيء ما يتفاعل مع المعادن التي توجد على أجسام العديد من القوارب في النهر المجاور لشاحنة متهالكة (قديمة). وقد ربط المحقق ذلك بثلاثة أسباب محتملة، ترتبط بثلاثة ملوثات كيميائية. ومهمتك أن تختبر هذه الملوثات وتقارنها بعينة من النهر. والحيوانات التي تعتمد على مياه النهر بوصفها مصدرًا أساسيًا لها، تحتاج إلى مساعدتك لحل لغز الشاحنة المتهالكة ومن ثم معرفة الملوثات الحقيقية لمياه النهر.

سؤال كيف يمكن استخدام سلسلة تفاعلات كيميائية في تحديد طبيعة الشيء الذي يؤدي إلى تلويث مصدر المياه؟

المواد الكيميائية والأدوات اللازمة

0.1 M AgNO₃ برادة Fe

0.1 M HCl شريط Mg

0.1 M ZnSO₄ ملقط

محلول مجهول المكونات قطارة عدد (4)

أسلاك نحاس طبق تفاعلات بلاستيكي 24 فجوة

حبيبات Pb صلبة

إجراءات السلامة

تحذير: تُعد نترات الفضة AgNO₃ مادة شديدة السمية، وتؤدي إلى تكوّن البقع على الجلد والملابس.

خطوات العمل

1. اقرأ تعليمات السلامة في المختبر.
2. صمّم جدولاً لتسجيل بياناتك.
3. ضع طبق التفاعلات البلاستيكي على ورقة بيضاء.
4. ضع قطعة من أسلاك النحاس في أربع فجوات من الصف الأول.
5. كرر الخطوة 4، وذلك بإضافة عينات صغيرة من الحديد إلى أربع فجوات في الصف الثاني.
6. كرر الخطوة 4، وذلك بإضافة عينات صغيرة من الرصاص إلى أربع فجوات في الصف الثالث.
7. كرر الخطوة 4، وذلك بإضافة قطع من شريط الماغنسيوم إلى أربع فجوات في الصف الرابع.
8. ضع 20 قطرة من محلول نترات الفضة AgNO₃ في كل فجوة من العمود الأول.
9. كرر الخطوة 8، بإضافة حمض الهيدروكلوريك HCl إلى العمود الثاني.

الفكرة العامة تعدّ تفاعلات الأكسدة والاختزال من العمليات الكيميائية الشائعة في الطبيعة وفي الصناعة، وتتضمّن انتقالاً للإلكترونات.

4-1 الأكسدة والاختزال

المفاهيم الرئيسية

- تتضمن تفاعلات الأكسدة والاختزال انتقال الإلكترونات من ذرة إلى أخرى.
- عندما تختزل ذرة أو أيون فإن عدد التأكسد ينخفض، وعندما تتأكسد ذرة أو أيون فإن عدد التأكسد يزداد.
- تُعامل الذرات ذات الكهروسالبية العالية، في تفاعلات الأكسدة والاختزال التي تتضمن مركبات جزيئية (والأيونات المتعددة الذرات التي تحتوي على روابط تساهمية) كما لو اختزلت، في حين تُعامل الذرات ذات الكهروسالبية المنخفضة كما لو تأكسدت.

الكهروسالبية →

	1	2		13	14	15	16	17	18
↑ الكهروسالبية	1								
	2	Li	Be				O	F	
	3	Na	Mg					Cl	
	4	K	Ca					Br	
	5	Rb	Sr					I	
	6	Cs	Ba						
	7								

□ عامل مختزل □ عامل مؤكسد

الفكرة الرئيسية يعدّ تفاعلاً الأكسدة والاختزال تفاعلين متكاملين؛ إذ تتأكسد ذرة وتختزل أخرى.

المفردات

- تفاعل الأكسدة والاختزال
- الأكسدة
- الاختزال
- العامل المؤكسد
- العامل المختزل

4-2 وزن معادلات الأكسدة والاختزال

المفاهيم الرئيسية

- يصعب وزن معادلات الأكسدة والاختزال التي يظهر فيها العنصر نفسه في كل من المواد المتفاعلة والناجمة باستعمال الطريقة التقليدية.
- تعتمد طريقة عدد التأكسد على مساواة عدد الإلكترونات التي تفقد من الذرات مع عدد الإلكترونات التي تكتسب من ذرات أخرى.
- تُضاف أيونات الهيدروجين وجزيئات الماء لوزن معادلات التفاعلات في الوسط الحمضي.
- تُضاف أيونات الهيدروكسيد وجزيئات الماء لوزن معادلات التفاعلات في الوسط القاعدي.
- نصف التفاعل هو أحد جزأي تفاعل الأكسدة والاختزال.

الفكرة الرئيسية تصبح معادلات الأكسدة والاختزال موزونة عندما تكون الزيادة الكلية في أعداد التأكسد مساوية لانخفاض الكلي في أعداد التأكسد للذرات الداخلة في التفاعل.


المفردات

- طريقة عدد التأكسد
- نصف التفاعل

4-1

إتقان المفاهيم

33. ما أهم خواص تفاعلات الأكسدة والاختزال؟
34. فسر، لماذا لا تتضمن جميع تفاعلات الأكسدة الأوكسجين؟
35. ماذا يحدث للإلكترونات في الذرة عندما تتأكسد، أو تختزل؟
36. عرّف عدد التأكسد.
37. ما عدد التأكسد لكل من الفلزات القلوية الأرضية والفلزات القلوية في مركباتها؟
38. كيف يرتبط عدد التأكسد في عمليات التأكسد بعدد الإلكترونات المفقودة؟ وكيف يرتبط عدد التأكسد في عمليات الاختزال بعدد الإلكترونات المكتسبة؟



الشكل 4-9

39. ما سبب الاختلاف في أشكال خراطة النحاس الموضحة في الشكل 4-9؟
40. النحاس والهواء تبدأ أواني النحاس في الظهور بلون أخضر بعد تعرضها للهواء. ويتفاعل فلز النحاس في عملية الأكسدة هذه مع الأوكسجين لتكوين أكسيد النحاس الصلب، والذي يكون الغطاء الأخضر. اكتب تفاعل الأكسدة والاختزال، وعرّف ما الذي تأكسد، وما الذي اختزل في هذه العملية.

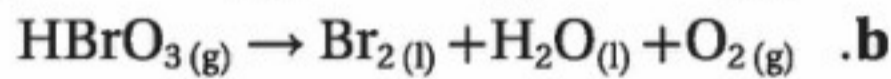
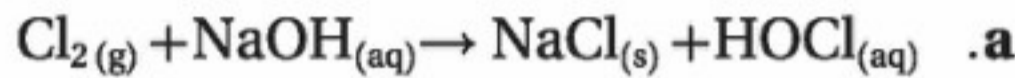
إتقان حل المسائل

41. حدّد المواد التي تأكسدت والتي اختزلت في معادلات الأكسدة والاختزال الآتية:
- a. $2\text{Br}_{2(l)} + 2\text{Ga}_{(s)} \rightarrow 2\text{GaBr}_{3(s)}$
- b. $2\text{HCl}_{(aq)} + \text{Zn}_{(s)} \rightarrow \text{ZnCl}_{2(g)} + \text{H}_{2(g)}$
- c. $3\text{Mg}_{(s)} + \text{N}_{2(g)} \rightarrow \text{Mg}_3\text{N}_{2(s)}$
42. حدّد العامل المؤكسد والعامل المختزل في كل من معادلات الأكسدة والاختزال الآتية:
- a. $\text{N}_{2(g)} + 3\text{H}_{2(g)} \rightarrow 2\text{NH}_{3(g)}$
- b. $2\text{Na}_{(s)} + \text{I}_{2(s)} \rightarrow 2\text{NaI}_{(s)}$
43. ما العامل المختزل في المعادلة الموزونة الآتية؟
- $$8\text{H}^+_{(aq)} + \text{Sn}_{(s)} + 6\text{Cl}^-_{(aq)} + 4\text{NO}_3^-_{(aq)} \rightarrow \text{SnCl}_6^{2-}_{(aq)} + 4\text{NO}_{2(g)} + 4\text{H}_2\text{O}_{(l)}$$
44. ما عدد التأكسد للمنجنيز في KMnO_4 ؟
45. حدّد عدد التأكسد للعنصر الظاهر باللون الداكن في المواد والأيونات الآتية:
- a. CaCrO_4
- b. NaHSO_4
- c. NO_2^-
- d. BrO_3^-
46. حدّد أي أنصاف التفاعلات الآتية أكسدة، وأيها اختزال؟
- a. $\text{Al}_{(s)} \rightarrow \text{Al}^{3+}_{(aq)} + 3\text{e}^-$
- b. $\text{Cu}^{2+}_{(aq)} + \text{e}^- \rightarrow \text{Cu}^+_{(aq)}$
47. أي المعادلات الآتية لا تمثل تفاعل أكسدة واختزال؟ فسر إجابتك.
- a. $\text{LiOH}_{(s)} + \text{HNO}_{3(aq)} \rightarrow \text{LiNO}_{3(s)} + \text{H}_2\text{O}_{(l)}$
- b. $\text{MgI}_{2(s)} + \text{Br}_{2(l)} \rightarrow \text{MgBr}_{2(s)} + \text{I}_{2(s)}$
48. حدّد عدد التأكسد للنيتروجين في كل من الجزيئات أو الأيونات الآتية:
- a. NO_3^-
- b. N_2O
- c. NF_3

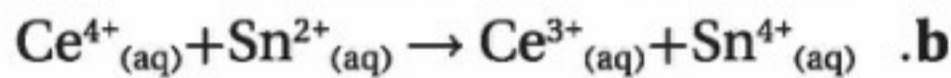

58. صف ما يحدث للإلكترونات في كل نصف تفاعل من عملية الأكسدة والاختزال.

إتقان حل المسائل

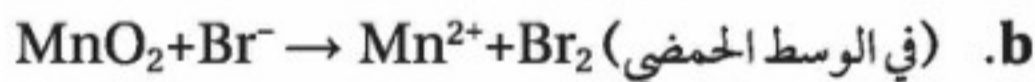
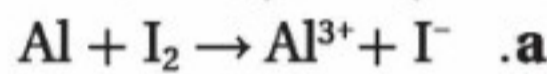
59. استعمل طريقة عدد التأكسد لوزن معادلات الأكسدة والاختزال الآتية:



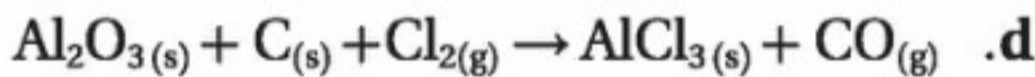
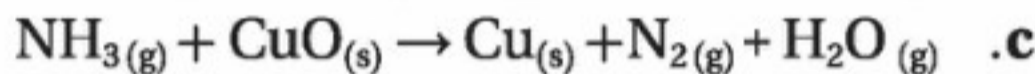
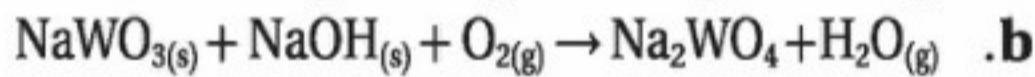
60. زن المعادلات الأيونية الكلية لتفاعلات الأكسدة والاختزال الآتية:



61. استخدم طريقة عدد التأكسد لوزن معادلات الأكسدة والاختزال الأيونية الآتية:



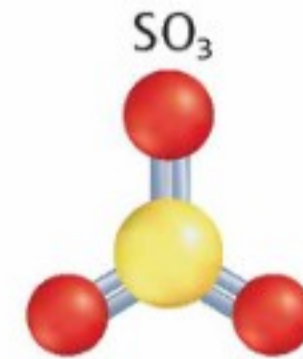
62. استعمل طريقة عدد التأكسد لوزن معادلات الأكسدة والاختزال الآتية:



الشكل 4-11

63. الياقوت يتكون معدن الكورنديوم من أكسيد الألومنيوم Al_2O_3 وهو عديم اللون، ويعد أكسيد الألومنيوم المكون الرئيس للياقوت، إلا أنه يحتوي على مقادير بسيطة من Fe^{2+} و Ti^{4+} . ويعزى لون الياقوت إلى انتقال الإلكترونات من Fe^{2+} إلى Ti^{4+} . استناداً إلى الشكل 4-11، استنتج التفاعل الذي يحدث ليتبع المعدن في الجهة اليمنى، وحدد العامل المؤكسد، والعامل المختزل.

49. حدّد أعداد التأكسد لكل عنصر في المركبات أو الأيونات الآتية:



الشكل 4-10

50. فسر كيف يختلف أيون الكبريتيت SO_3^{2-} عن ثالث أكسيد الكبريت SO_3 ، الموضح في الشكل 4-10؟

4-2

إتقان المفاهيم

51. قارن بين معادلة الأكسدة والاختزال الموزونة في الوسط الحمضي والوسط القاعدي.


52. فسر لماذا تعد كتابة أيون الهيدروجين على هيئة H^+ في تفاعلات الأكسدة والاختزال تبسيطاً للواقع.

53. لماذا يتعين عليك قبل أن تبدأ بوزن معادلة تفاعل الأكسدة والاختزال معرفة ما إذا كان التفاعل يحدث في وسط حمضي أو قاعدي؟

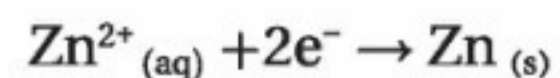
54. فسر ما الأيون المتفرج؟

55. عرّف مصطلح أنواع المواد بدلالة تفاعلات الأكسدة والاختزال.

56. هل المعادلة الآتية موزونة؟ فسر إجابتك.



57. هل المعادلة الآتية تمثل عملية أكسدة أم عملية اختزال؟ فسر إجابتك.



69. استعمل طريقة نصف التفاعل لوزن معادلات تفاعلات الأكسدة والاختزال الآتية، مضيفاً جزيئات الماء وأيونات الهيدروجين (في الوسط الحمضي)، أو أيونات الهيدروكسيد (في الوسط القاعدي) إذا تطلب الأمر ذلك:

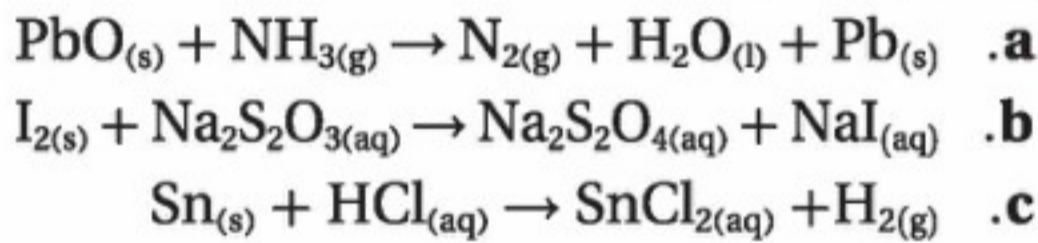
a. $\text{NH}_3(\text{g}) + \text{NO}_2(\text{g}) \rightarrow \text{N}_2(\text{g}) + \text{H}_2\text{O}(\text{l})$

b. $\text{Br}_2(\text{l}) \rightarrow \text{Br}^-(\text{aq}) + \text{BrO}_3^-(\text{aq})$ (في الوسط القاعدي)

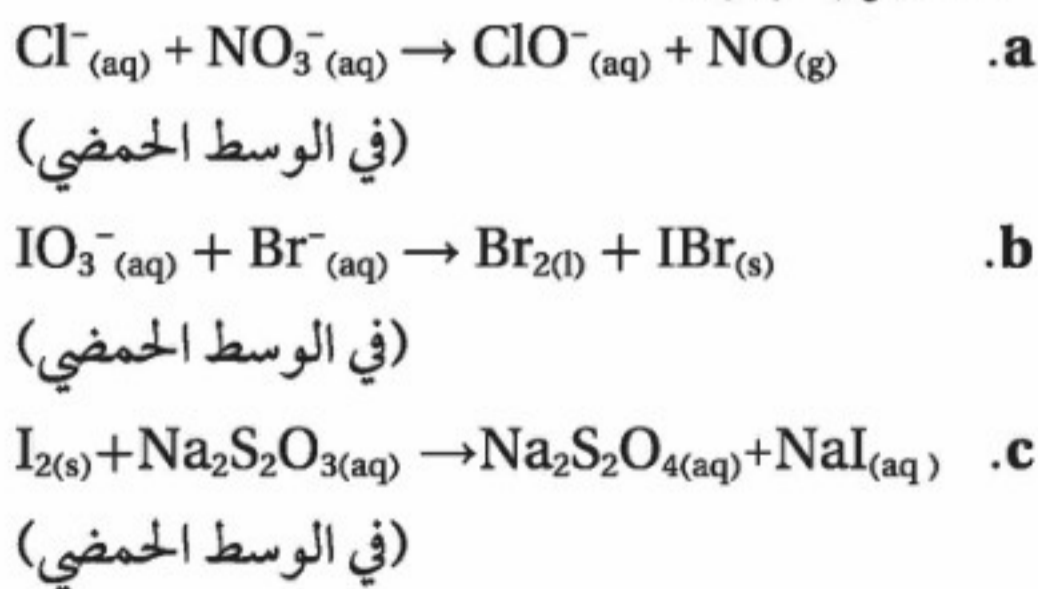
70. زن معادلة التأكسد والاختزال الآتية، وأعد كتابتها بشكلها الأيوني الكامل، ثم اشتق المعادلة الأيونية الكلية، وزنها بطريقة نصف التفاعل. على أن تكون الإجابة النهائية بمعاملات الوزن ولكن على النحو الآتي:

$\text{KMnO}_4(\text{aq}) + \text{FeSO}_4(\text{aq}) + \text{H}_2\text{SO}_4(\text{aq}) \rightarrow$
 $\text{Fe}_2(\text{SO}_4)_3(\text{aq}) + \text{MnSO}_4(\text{aq}) + \text{K}_2\text{SO}_4(\text{aq}) + \text{H}_2\text{O}(\text{l})$

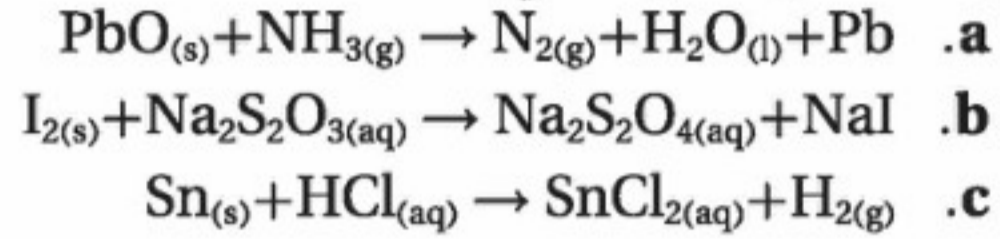
71. استخدم طريقة عدد التأكسد في وزن معادلات الأكسدة والاختزال الآتية:



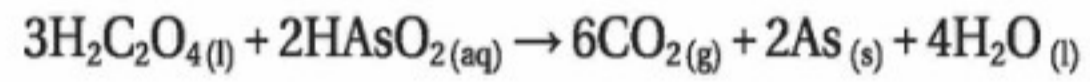
72. استخدم طريقة نصف التفاعل في وزن هذه المعادلات مضيفاً جزيئات الماء وأيونات الهيدروجين (في الوسط الحمضي)، أو أيونات الهيدروكسيد (في الوسط القاعدي) عند الحاجة. واحتفظ بالمعادلات الموزونة في صورة معادلة أيونية نهائية:




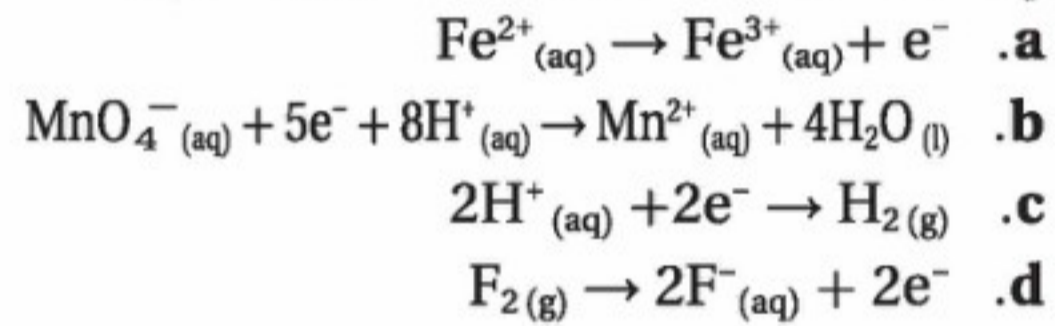
64. اكتب نصفي تفاعل الأكسدة والاختزال في كل من معادلات الأكسدة والاختزال الآتية على الصورة الأيونية إذا حدث في المحلول المائي:



65. اكتب نصفي التفاعل اللذين يكوّنان معادلة الأكسدة والاختزال الموزونة الآتية:



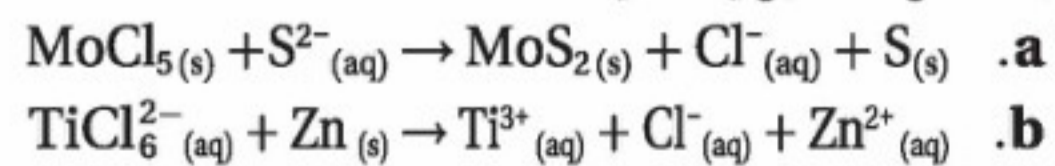
66. أي أنصاف التفاعلات الآتية أكسدة، وأيها اختزال؟



الشكل 4-12


67. النحاس عندما توضع شرائح النحاس في محلول نترات الفضة كما في الشكل 4-12 يبدو فلز الفضة أزرق اللون، وتتكون نترات النحاس II. اكتب المعادلة الكيميائية غير الموزونة، ثم حدد حالة التأكسد لكل عنصر فيها. اكتب أيضاً نصفي معادلة التفاعل، وحدد أيهما تأكسد، وأيها اختزل. وأخيراً اكتب المعادلة الكيميائية الموزونة للتفاعل.

68. استخدم طريقة عدد التأكسد لوزن معادلات الأكسدة والاختزال الأيونية الآتية:



78. ما عدد تأكسد الكروم في كل من المركبات الموضحة في

الشكل 13-4؟

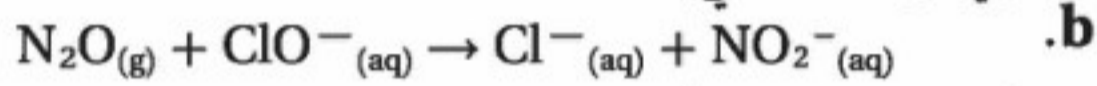


الشكل 13-4

79. زن معادلات الأكسدة والاختزال الأيونية الآتية بأي طريقة من طرائق وزن المعادلات.



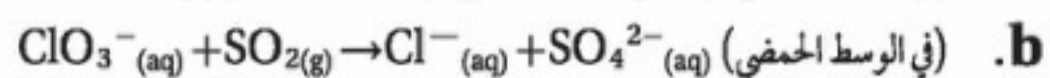
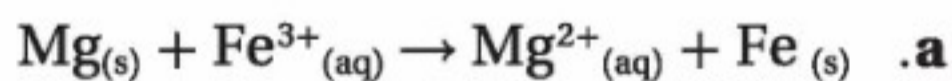
(في الوسط الحمضي)



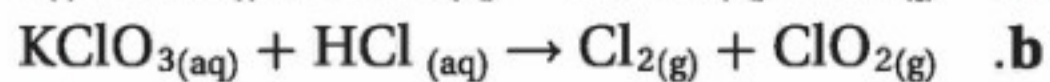
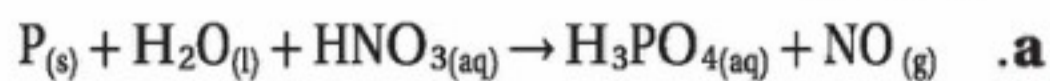
(في الوسط القاعدي)

80. الأحجار الكريمة الياقوت حجر كريم يتكون من أكسيد الألومنيوم، أما لونه الأحمر فقد جاء من احتوائه على مقادير ضئيلة من أيونات الكروم III التي تحل محل أيونات الألومنيوم. ارسم تركيب أكسيد الألومنيوم، ووضح التفاعل الذي تحل فيه أيونات الكروم محل أيونات الألومنيوم. هل هذا التفاعل تفاعل تأكسد واختزال؟

81. زن معادلات الأكسدة والاختزال الأيونية الآتية بأي طريقة من طرائق الوزن:



82. زن معادلات الأكسدة والاختزال الآتية بأي طريقة من طرائق الوزن:


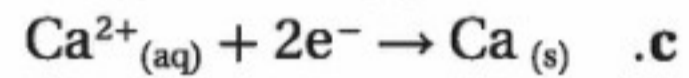
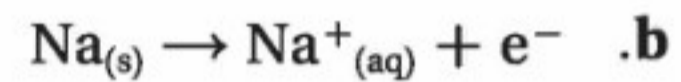
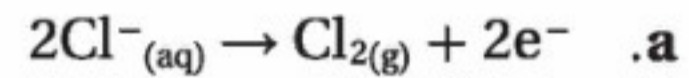


مراجعة عامة

73. حدّد عدد التأكسد لكل عنصر من العناصر الظاهرة بلون داكن:



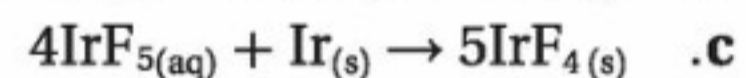
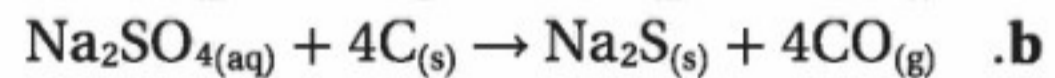
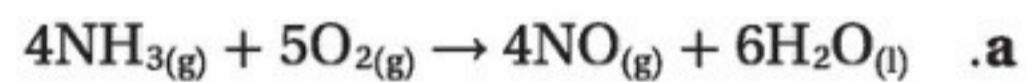
74. حدّد كلاً من التغيرات الآتية إذا كانت أكسدة أو اختزال:



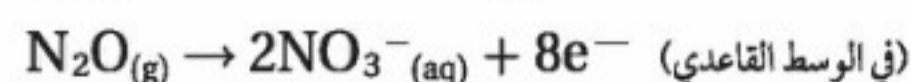
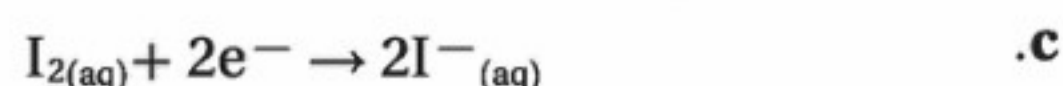
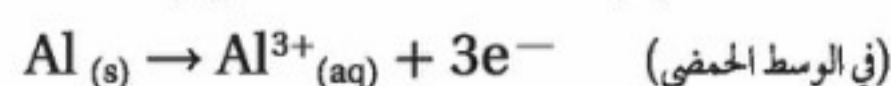
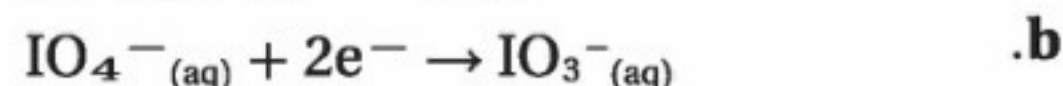
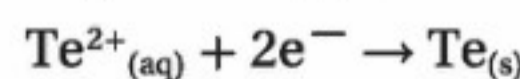
75. استعمل قواعد تحديد عدد التأكسد لإكمال الجدول 4-7.

الجدول 1 - 7 بيانات المركبين		
القاعدة	عدد التأكسد	العنصر
	+1	K in KBr
8		Br in KBr
1		Cl in Cl_2
7		K in KCl
	-1	Cl in KCl
	0	Br in Br_2

76. حدّد العوامل المختزلة في المعادلات الآتية:

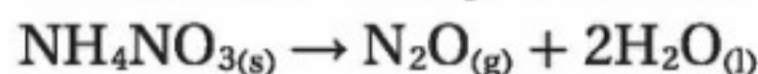
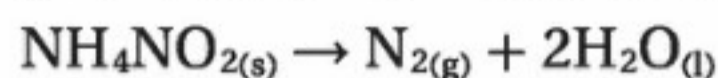


77. اكتب معادلة أيونية موزونة مستعملًا أزواج أنصاف تفاعلات الأكسدة والاختزال الآتية:

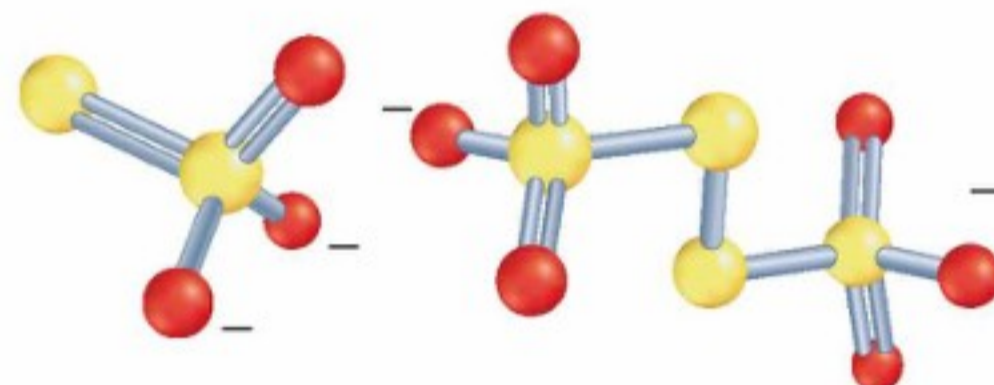
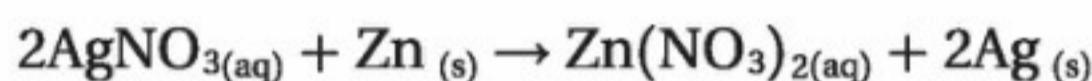


التفكير الناقد

83. طبق تبيين المعادلات الآتية تفاعلات الأكسدة والاختزال التي تستخدم لتحضير غاز النيتروجين النقي وغاز ثاني أكسيد النيتروجين وغاز أول أكسيد النيتروجين في المختبر:

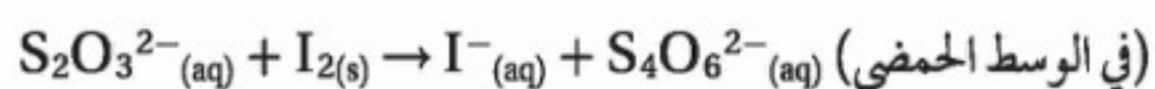


- a. حدّد عدد التأكسد لكل عنصر في المعادلتين، ثم ارسم مخططاً توضح فيه التغير في عدد التأكسد الذي يحدث في كل تفاعل.
- b. حدّد الذرة التي تأكسدت والذرة التي اختزلت في كلا التفاعلين.
- c. حدّد العامل المؤكسد والعامل المختزل لكلا التفاعلين.
- d. اكتب جملة توضح فيها كيفية انتقال الإلكترونات الذي حدث في هذين التفاعلين عن التفاعل الآتي:

أيون الثيوكبريتات ($\text{S}_2\text{O}_3^{2-}$)أيون رابع ثيونات ($\text{S}_4\text{O}_6^{2-}$)

الشكل 4-14

84. حلّل ادرس المعادلة الأيونية الكلية أدناه، للتفاعل الذي يحدث عند تأكسد أيون الثيوكبريتات $\text{S}_2\text{O}_3^{2-}$ إلى أيون رابع ثيونات $\text{S}_4\text{O}_6^{2-}$. زن المعادلة مستعملاً طريقة نصف التفاعل. وسوف يساعدك الشكل 4-14 على تحديد أعداد التأكسد لاستعمالها.



85. توقع اعتبر أن جميع المركبات الآتية مركبات مستقرة حقيقة. ما الذي يمكنك أن تستدل عليه عن حالة التأكسد للفوسفور في مركباته؟



86. جد الحل تؤكسد برمنجنات البوتاسيوم أيونات الكلوريد لتكون غاز الكلور وأيون منجنيز Mn^{2+} . قم بموازنة معادلة تفاعل التأكسد والاختزال الذي يحدث في الوسط الحمضي.

87. في نصف التفاعل $\text{NO}_3^- \rightarrow \text{NH}_4^+$ ، في أي الطرفين يجب إضافة الإلكترونات؟ قم بإضافة العدد الصحيح من الإلكترونات للطرف الذي يحتاج إلى ذلك، ثم أعد كتابة المعادلة.



الشكل 4-15

88. استعمل طريقة نصف التفاعل لوزن معادلة تفاعل الأكسدة والاختزال الذي يحدث بين أيونات الدايمكرومات وأيونات اليوديد في الوسط الحمضي، والذي يوضحه الشكل 4-15.

مسألة تحفيز

89. اكتب المعادلة الكيميائية لكل تفاعل موصوف فيما يأتي دون كتابة المعاملات لوزنها، ثم حدد حالة التأكسد لكل عنصر في المعادلة. ثم اكتب نصفي التفاعل محدداً أيهما نصف تفاعل أكسدة وأيها نصف تفاعل اختزال.

a. عند وضع أكسيد الزئبق (II) الصلب في أنبوب وتسخينه بلطف يتكون الزئبق السائل في قاع أنبوب الاختبار وتتصاعد فقاعات غاز الأكسجين من أنبوب الاختبار.

b. عند وضع قطع من النحاس الصلب في محلول نترات الفضة، تتكون نترات النحاس II الأزرق ويظهر فلز الفضة في المحلول.



96. النحاس كان النحاس فلزاً مهماً قبل استخلاص فلزات الحديد والفضة والذهب خاصة، واستعمال خاماتها في صناعة الأدوات والأواني والمجوهرات والأعمال الفنية. وكان يصهر بتسخين خاماته مع الفحم إلى درجة حرارة عالية كما كان الحال قبل 8000 سنة. قارن بين عمليات استخراج النحاس واستعمالاته في الحضارات القديمة والآن.

أسئلة المستندات

أعمال الزجاج تتأثر الألوان المتكونة في زجاج السيراميك كما في الشكل 16-4 بدرجة حرارة التسخين؛ حيث تُكسب الأيونات الفلزية النحاس الذي له أكثر من حالة أكسدة ألواناً مختلفة عند تسخينه. تتوافر كميات كبيرة من الأكسجين في أثناء عمليات الحرق مما يجعل أيونات النحاس الموجودة في الزجاج تلون اللهب باللون الأخضر المائل إلى الزرقة. وفي حالة الاختزال يوجد الأكسجين بكميات قليلة، وتزداد كمية ثاني أكسيد الكربون مما يجعل أيونات النحاس في الزجاج تميل إلى اللون الأحمر.



الشكل 16-4

97. اكتب معادلة لما يحدث في الأنية الخزفية الموضحة في الشكل 16-4.

98. استناداً إلى لون آنية النحاس الخزفية، أيهما أكثر ميلاً للتأكسد، وأيها أكثر ميلاً للاختزال؟

مراجعة تراكمية

استخدم القائمة الآتية للإجابة عن الأسئلة من 90 إلى 93. تحتوي خمس كؤوس على 500 mL من محلول مائي تركيزه 0.250 M على المواد الكيميائية الآتية:

KCl .A

CH₃OH .B

Ba (OH)₂ .C

CH₃COOH .D

NaOH .E

90. أي المواد ستفكك إلى أكبر عدد من الجسيمات عندما تكون في المحلول؟
91. أي المواد لها أكبر كتلة مولية؟
92. أي الكؤوس يمكن أن تحتوي على 9.32g من المادة الكيميائية؟
93. أي الكؤوس تتكون محتوياته من 18.6% أكسجين؟

تقويم إضافي

الكتابة في الكيمياء

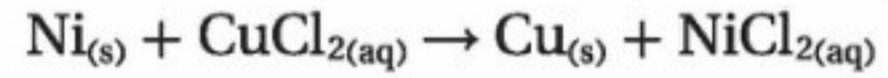
94. الفولاذ ابحث عن دور تفاعلات الأكسدة والاختزال في صناعة الفولاذ، واكتب ملخصاً للنتائج التي حصلت عليها متضمناً الرسوم المناسبة والمعادلات التي تمثل التفاعلات.
95. الأواني الفضية اكتب طريقة لتنظيف الأواني الفضية من الملوثات الناتجة عن عمليات الأكسدة والاختزال. وتأكد من تضمين ذلك معلومات نظرية تصف فيها العملية في خطوات متسلسلة تجعل أي شخص قادراً على تنفيذ هذه المهمة.

أسئلة الاختيار من متعدد

1. أي مما يأتي لا يعد عاملاً مختزلاً في تفاعل الأكسدة والاختزال؟

- a. المادة التي تأكسدت
- b. مستقبل الإلكترون
- c. المادة الأقل كهروسالبية
- d. مانح الإلكترون

التفاعل بين النيكل وكلوريد النحاس II موضح على النحو الآتي:



استعمل المعادلة الكيميائية في الإجابة عن السؤالين 2 و 3.

2. ما نصف تفاعل الأكسدة والاختزال للتفاعل؟

- a. $\text{Ni}_{(s)} \rightarrow \text{Ni}^{2+}_{(aq)} + 2e^{-}$, $\text{Cl}_{2(g)} \rightarrow 2\text{Cl}^{-}_{(aq)} + 2e^{-}$
- b. $\text{Ni}_{(s)} \rightarrow \text{Ni}^{2+}_{(aq)} + e^{-}$, $\text{Cu}^{+}_{(aq)} + e^{-} \rightarrow \text{Cu}_{(s)}$
- c. $\text{Ni}_{(s)} \rightarrow \text{Ni}^{2+}_{(aq)} + 2e^{-}$, $\text{Cu}^{2+}_{(aq)} + 2e^{-} \rightarrow \text{Cu}_{(s)}$
- d. $\text{Ni}_{(s)} \rightarrow \text{Ni}^{2+}_{(aq)} + 2e^{-}$, $2\text{Cu}^{+}_{(aq)} + 2e^{-} \rightarrow \text{Cu}_{(s)}$

3. العامل المختزل في المعادلة هو:

- a. NiCl_2
- b. Cu
- c. CuCl_2
- d. Ni

4. رقم التأكسد للكlor في HClO_4 هو:

- a. +7
- b. +5
- c. +3
- d. +1

5. العنصر الأعلى كهروسالبية بين العناصر الآتية

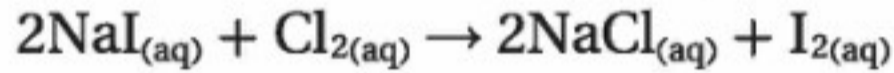
هو:

- a. Cl
- b. N
- c. O
- d. F

6. المادة التي عدد تأكسدها يساوي صفراً هي:

- a. Cu^{2+}
- b. H_2
- c. SO_3^{2-}
- d. Cl^{-}

7. التفاعل بين يوديد الصوديوم والكلور موضح على النحو الآتي:

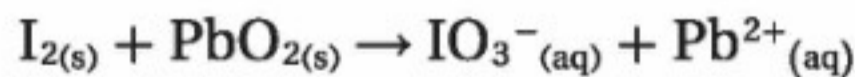


أي الأسباب الآتية تبقي حالة تأكسد الصوديوم دون تغيير:

- a. Na^{+} أيون متفرج.
- b. Na^{+} لا يمكن أن يختزل.
- c. Na^{+} عنصر غير متحد.
- d. Na^{+} أيون أحادي الذرة.

أسئلة الإجابات القصيرة

استعمل المعادلة أدناه للإجابة عن السؤالين 8 و 9، علماً أن المعادلة الأيونية الكلية بين اليود وأكسيد الرصاص IV موضحة على النحو الآتي:



8. حدّد عدد التأكسد لكل مشارك في التفاعل.

9. فسّر كيف تحدد العنصر الذي تأكسد والعنصر الذي اختزل؟



أسئلة الإجابات المفتوحة

استعمل جدول العناصر الآتي للإجابة عن الأسئلة من 10 إلى 12.

		الكهروسالبية →																	
		1	2											13	14	15	16	17	18
↑ الكهروسالبية	1																		
	2	Li	Be														O	F	
	3	Na	Mg															Cl	
	4	K	Ca															Br	
	5	Rb	Sr															I	
	6	Cs	Ba																
	7																		

10. أي العناصر تمثل أقوى عامل مؤكسد؟

11. أي العناصر تمثل أقوى عامل مختزل؟

12. أي العناصر لها أقل كهروسالبية؟



مجس كاميرا



بطارية ليثيوم

بطاريات

قلوية حجم C

الفكرة العامة يمكن تحويل الطاقة الكيميائية إلى طاقة كهربائية، كما يمكن تحويل الطاقة الكهربائية إلى طاقة كيميائية.

5-1 الخلايا الجلفانية

الفكرة الرئيسية تحدث الأكسدة في الخلايا الجلفانية عند الأنود (المصعد) منتجة إلكترونات تتدفق نحو الكاثود (المهبط) حيث يحدث الاختزال.

5-2 البطاريات

الفكرة الرئيسية البطاريات خلايا جلفانية تستعمل التفاعلات التلقائية لإنتاج الطاقة لأغراض متعددة.

5-3 التحليل الكهربائي

الفكرة الرئيسية يؤدي وجود مصدر تيار كهربائي في التحليل الكهربائي إلى حدوث تفاعل غير تلقائي في الخلايا الكهروكيميائية.

حقائق كيميائية

- التقطت كاميرا خاصة هذه الصورة لأسد الجبل، ويعد استعمال هذه الكاميرا طريقة غير مؤذية لدراسة الحيوانات.
- توصل هذه الكاميرا بجهاز استشعار يجعلها تعمل عند اقتراب الحيوان.
- يعمل جهاز الاستشعار عادة بالأشعة تحت الحمراء، ولكن قد تستعمل أيضاً مجسات الضغط الحساسة.
- تزود البطارية كلاً من الكاميرا وجهاز الاستشعار بالطاقة، وتشكل الحرارة والرطوبة والبرودة تحديات لأداء كل منها.
- يمكن تعديل المجسات لتعمل في أوقات معينة فقط؛ وذلك للمحافظة على البطارية.


نشاطات تمهيدية

الخلايا الكهروكيميائية
قم بإعداد المطوية الآتية
لمساعدتك على مقارنة
الخلايا الكهروكيميائية بخلايا
التحليل الكهربائي.

المطويات

منظمات الأفكار

الخطوة 1 اثن 5 cm من
أسفل الورقة أفقيًا.



الخطوة 2 اثن الورقة
رأسياً نصفين.



الخطوة 3 افتح الورقة،
ثم ثبت الشئ في أسفلها
لعمل قسمين منفصلين،
وعنونهما كما في الشكل.




المطويات استعمل هذه المطوية مع القسمين 1-5
و3-5، وذلك عند قراءتك للخلايا الكهروكيميائية. لخص
المعلومات في بطاقات، واحفظها في القسم الخاص بها.

تجربة استهلاكية

كيف يمكن عمل بطارية من حبة ليمون؟

يمكن شراء بطارية بوصفها مصدرًا للطاقة المحمولة من أي
متجر، كما يمكنك أيضًا إضاءة مصباح كهربائي باستعمال
ليمونة. كيف يتشابه هذان المصدران للطاقة؟



خطوات العمل

1. اقرأ تعليمات السلامة في المختبر.
2. اغرس شريحة من الخارصين وأخرى من النحاس في حبة
ليمون، واترك بينها مسافة 2 cm.
3. صل الطرف الأسود لمقياس الجهد بشريحة الخارصين،
وصل شريحة النحاس بطرفه الأحمر. ثم لاحظ قراءة فرق
الجهد، وسجلها.
4. انزع إحدى الشريحتين المعدنيتين من الليمونة، ولاحظ ما
يحدث لقراءة فرق الجهد على المقياس.

تحليل النتائج

1. اشرح الغرض من شريحتي الخارصين والنحاس.
2. استنتج دور الليمونة.

استقصاء هل تعتقد أنه يمكنك عمل بطارية من أطعمة غير
الليمون؟ ضع فرضية لأنواع الأطعمة التي يمكن استعمالها في
عمل بطارية، ثم ابدأ في تصميم البطارية، وطبق فرضيتك بعد
موافقة معلمك عليها.



الخلايا الجلفانية Voltaic Cells

الأهداف

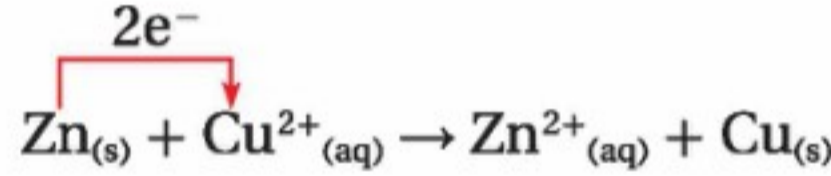
الفكرة الرئيسة تحدث الأكسدة في الخلايا الجلفانية عند الأنود (المصعد) منتجة إلكترونات تتدفق نحو الكاثود (المهبط) حيث يحدث الاختزال.

الربط مع الحياة إذا تم قص ورقة نقدية من فئة الريال نصفين. فما الذي يمكن عمله بأحد النصفين؟ لا يمكن استعماله من دون النصف الآخر. وهذا ينطبق أيضاً على الخلايا الجلفانية التي تتكون من نصفي خلية؛ إذ يجب وجودهما معاً لإنتاج الطاقة.

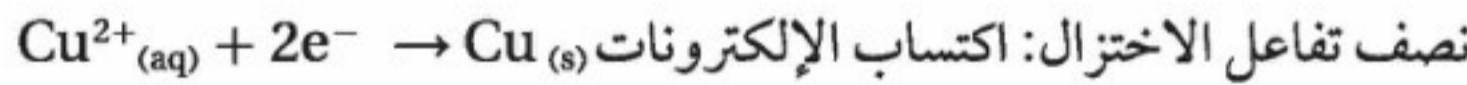
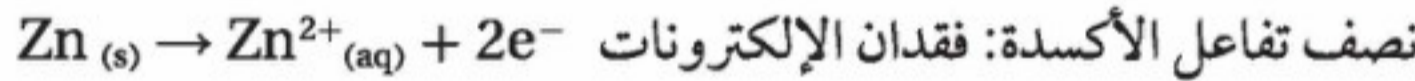
الأكسدة والاختزال في الكيمياء الكهربائية Redox in Electrochemistry

الكيمياء الكهربائية هي دراسة عمليات الأكسدة والاختزال التي تتحول من خلالها الطاقة الكيميائية إلى طاقة كهربائية، وبالعكس.

من المعروف أن تفاعلات الأكسدة والاختزال جميعها تتضمن انتقال الإلكترونات من المواد المتأكسدة إلى المواد المختزلة. ويوضح كل من الشكلين 1-5 و 2-5 تفاعلاً بسيطاً للأكسدة والاختزال؛ حيث تتأكسد ذرات الخارصين لتكوّن أيونات الخارصين Zn^{2+} ، ويكتسب أيون النحاس Cu^{2+} الإلكترونين اللذين فقدتهما ذرة خارصين ليكون ذرة النحاس. وتبين المعادلة الأيونية الكلية الآتية انتقال الإلكترونات:



أنصاف التفاعل يتألف هذا التفاعل من نصفي تفاعل الأكسدة والاختزال الآتين:



تري، ماذا يحدث لو فصل نصف تفاعل الأكسدة عن نصف تفاعل الاختزال؟ وهل يمكن أن يحدث التفاعل؟ مع الأخذ في الاعتبار الشكل 1a-5 الذي غُمست فيه شريحة الخارصين في محلول كبريتات الخارصين، وغُمست فيه شريحة النحاس في محلول كبريتات النحاس II.

تصف طريقة للحصول على طاقة كهربائية من تفاعل أكسدة واختزال.

تحدد أجزاء الخلية الجلفانية، وتفسر كيفية عمل كل من هذه الأجزاء.

تحسب جهد الخلية، وتحدد تلقائية تفاعل الأكسدة والاختزال فيها.

مراجعة المفردات

الأكسدة فقدان الذرات للإلكترونات؛ أو الزيادة في عدد التأكسد.

الاختزال اكتساب الذرات للإلكترونات؛ أو النقص في عدد التأكسد.

المفردات الجديدة

القنطرة الملحية

الخلية الكهروكيميائية

الخلية الجلفانية

نصف الخلية

الأنود

الكاثود

جهد الاختزال

قطب الهيدروجين القياسي

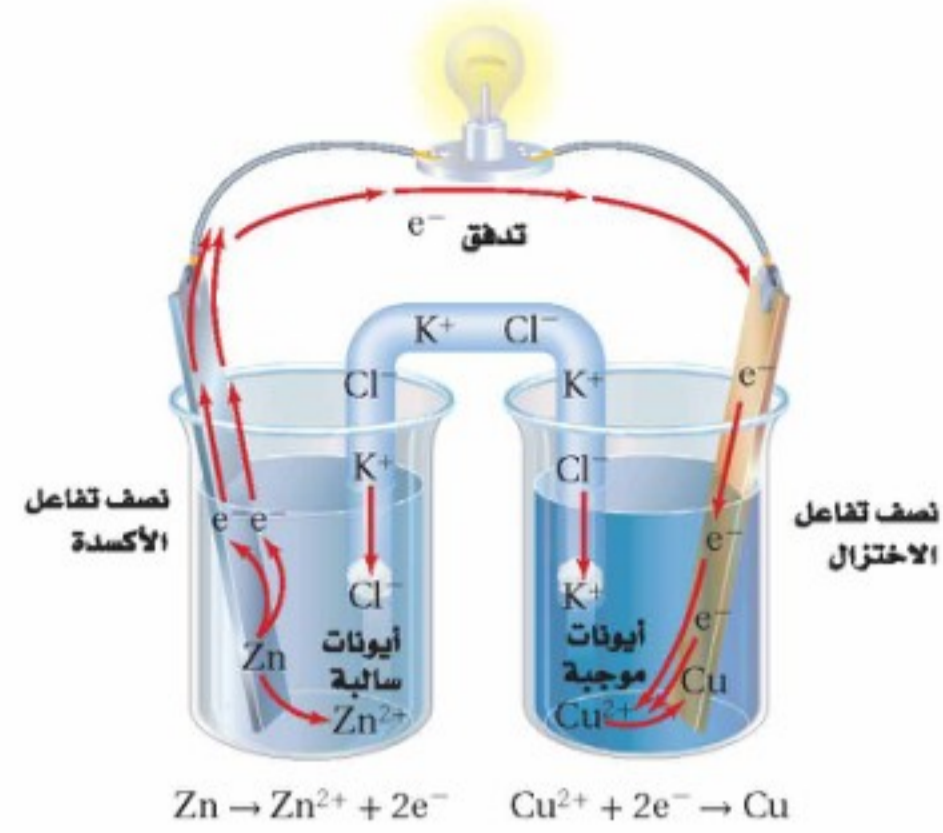


الشكل 5-1

a. غُمست شريحة الخارصين في محلول 1M من كبريتات الخارصين، وغُمست شريحة النحاس في محلول 1M من كبريتات النحاس.

b. تم توصيل شريحتي الخارصين والنحاس بسلك كهربائي لتوفير طريق لتدفق الإلكترونات، إلا أن الطريق لم تكتمل بعد، ولا يمكن مرور الإلكترونات فيها.


الشكل 5-2 إضافة القنطرة الملحية إلى جانب السلك تعمل على إكمال طريق التدفق؛ فتتحرك الأيونات السالبة خلال القنطرة الملحية نحو الخارصين النحاس. أما الأيونات الموجبة فتتحرك خلال القنطرة نحو



هناك مشكلتان تمنعان حدوث تفاعل الأكسدة والاختزال: الأولى أنه لا يوجد أي طريق لنقل الإلكترونات من ذرات الخارصين إلى أيونات النحاس، وهذه يمكن حلها بتوصيل شريحتي الخارصين والنحاس بأسلاك معدنية، كما في الشكل 5-1b؛ إذ يعمل السلك عمل ممر لتدفق الإلكترونات من الخارصين إلى النحاس. أما الثانية فعندما توضع الشرائح المعدنية في محاليلها تبدأ الأكسدة عند الخارصين، في حين يبدأ الاختزال عند النحاس. إلا أن هذه التفاعلات لا تستمر؛ لأن أيونات الخارصين الموجبة تتراكم حول قطب الخارصين خلال تأكسده، كما تتراكم أيونات الكبريتات السالبة حول قطب النحاس خلال اختزاله، وهذا التراكم للأيونات يوقف أي استمرار للتفاعل. ولحل هذه المشكلة تستعمل القنطرة الملحية؛ وهي ممر لتدفق الأيونات من جهة إلى أخرى، كما في الشكل 5-2. وتتكون من أنبوب يحتوي على محلول موصل للتيار الكهربائي (محلول إلكتروليتي) لملح ذائب في الماء مثل KCl، ويحفظ داخل الأنبوب بواسطة جل هلامي أو أي غطاء يسمح للأيونات بالحركة من خلاله، على ألا يختلط المحلولان في الكأسين. وعندما يوضع السلك المعدني والقنطرة الملحية في مكانيهما يبدأ تفاعل الأكسدة والاختزال التلقائي، وتنتقل الإلكترونات عبر السلك من نصف تفاعل الأكسدة إلى نصف تفاعل الاختزال، في حين تنتقل الأيونات السالبة والموجبة خلال القنطرة الملحية. ويسمى تدفق الأجسام المشحونة التيار الكهربائي. ففي الشكل 5-2 تتدفق الإلكترونات خلال السلك، وتتدفق الأيونات خلال القنطرة الملحية، فيتكون ما يعرف بالتيار الكهربائي. وتنتج طاقة تدفع الإلكترونات لإضاءة المصابيح

الخلايا الكهروكيميائية بين الشكل 5-2 نوعاً من الخلايا الكهروكيميائية يعرف بالخلايا الجلفانية. والخلية الكهروكيميائية جهاز يستعمل تفاعل الأكسدة والاختزال لإنتاج طاقة كهربائية، أو يستعمل الطاقة الكهربائية لإحداث تفاعل كيميائي. والخلية الجلفانية نوع من الخلايا الكهروكيميائية التي تحول الطاقة الكيميائية إلى طاقة كهربائية بواسطة تفاعل الأكسدة والاختزال التلقائي. وقد سميت أيضاً الخلايا الفولتية نسبة إلى أليساندرو فولتا Alessandro Volta (1745-1827م) العالم الفيزيائي الإيطالي الذي نسب إليه الاختراع عام 1800م، انظر الشكل 5-3.

الشكل 5-3 خلية نسخة طبق الأصل من أول خلية لأليساندرو فولتا تتكون من ألواح من الخارصين والنحاس مرتبة في طبقات متبادلة ومفصولة بقطع قماش أو ورق مقوى مغموس بمحلول حمضي. وتزداد شدة التيار الكهربائي المتولد بزيادة عدد الأقراص المعدنية المستخدمة.



كيمياء الخلايا الجلفانية Chemistry of Voltaic Cells

تتكون الخلايا الكهروكيميائية من جزأين يطلق على كل منهما نصف الخلية؛ حيث يحدث فيها تفاعلات الأكسدة والاختزال المنفصلين. ويحتوي كل نصف خلية على قطب ومحلول يشتمل على أيونات. ويتكون القطب من مادة موصلة للتيار الكهربائي، وعادة ما تكون هذه المادة قطعة معدنية أو قطعة من الجرافيت توصل الإلكترونات من محلول نصف الخلية وإليه. ويوضح الشكل 2-5 كأس قطب الخارصين التي يحدث فيها نصف تفاعل الأكسدة، وكأس قطب النحاس التي يحدث فيها نصف تفاعل الاختزال. ويسمى التفاعل الذي يحدث في كل نصف خلية تفاعل نصف الخلية. ويسمى القطب الذي يحدث عنده تفاعل الأكسدة الأنود (المصعد)، في حين يسمى القطب الذي يحدث عنده تفاعل الاختزال الكاثود (المهبط)

✓ **ماذا قرأت؟** حدد أي الكأسين في الشكل 2-5 تحتوي على الأنود؟

الخلايا الجلفانية والطاقة لأن طاقة الوضع لأي جسم ناتجة عن موضعه أو مكوناته. لذا تعد طاقة الوضع الكهربائية في الكيمياء الكهربائية مقياس كمية التيار التي يمكن توليدها من خلية جلفانية للقيام بشغل. وتستطيع الشحنة الكهربائية الانتقال بين نقطتين فقط عندما يكون هناك فرق في طاقة الوضع الكهربائية بينهما. وهاتان النقطتان في الخلايا الكهروكيميائية هما القطبان؛ حيث تدفع الإلكترونات المتكونة عند الأنود موقع التأكسد أو تتحرك نحو الكاثود بواسطة القوة الدافعة الكهربائية التي تنشأ عن وجود فرق في طاقة الوضع الكهربائية بين القطبين، وتعرف بجهد الخلية. والفولت هو الوحدة المستعملة في قياس جهد الخلية. وفرق الجهد في الخلية الجلفانية هو إشارة إلى كمية الطاقة المتوافرة لدفع الإلكترونات من الأنود إلى الكاثود.

انظر إلى التماثل الظاهر في الشكل 4-5، حيث تقف الأفعوانية عند قمة المنحدر لحظة قصيرة، ثم تتحرك من موقعها المرتفع نزولاً إلى أسفل؛ بسبب اختلاف طاقة الوضع للجاذبية الأرضية بين قاع المسار وقمته. وتتحدد طاقة الأفعوانية الحركية بواسطة الاختلاف في الارتفاع بين قاع المسار وقمته. وكذلك تتحدد طاقة الإلكترونات المتدفقة من الأنود إلى الكاثود في الخلايا الجلفانية بواسطة الاختلاف في طاقة الوضع الكهربائية بين القطبين. ووفقاً لمفردات تفاعل الأكسدة والاختزال يتحدد فرق جهد الخلية بمقارنة مدى الفرق في قابلية مادتي الأقطاب على اكتساب الإلكترونات؛ فكلما زاد الفرق بين القطبين زاد فرق جهد الخلية وزاد معه أيضاً جهد الخلية.



الشكل 4-5 عندما تكون الأفعوانية في قمة المسار يكون لها طاقة وضع عالية بالنسبة إلى المسار المنخفض بسبب اختلاف الارتفاع، وبالمثل يكون للخلية الكهروكيميائية طاقة وضع لإنتاج تيار بسبب اختلاف قابلية الأقطاب لتحريك الإلكترونات من الأنود إلى الكاثود.




وتسحب قوة الجاذبية هواء رياضة الغطس في الماء دائماً للسقوط نحو وضع منخفض من الطاقة، وليس إلى أعلى؛ حيث يكون مستوى الطاقة أعلى. وعندما يقفز الغواص من فوق لوح الغوص تكون حركته إلى أسفل بصورة تلقائية. وكذلك في خلية الخارصين - النحاس وتحت الظروف القياسية، تكتسب أيونات النحاس عند الكاثود إلكترونات بسهولة أكثر من الخارصين عند الأنود، لذا يحدث تفاعل الأكسدة والاختزال بتلقائية فقط عندما تتدفق الإلكترونات من الخارصين إلى النحاس.

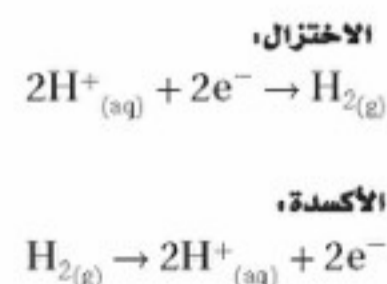
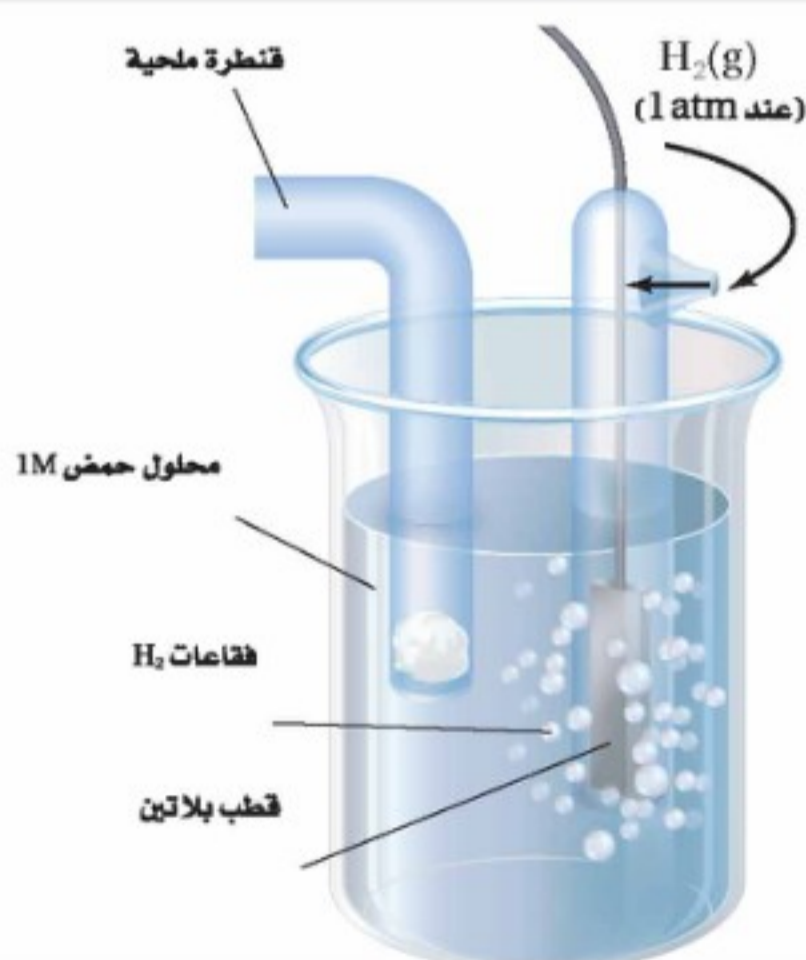
حساب فرق الجهد في الخلايا الكهروكيميائية Calculating Electrochemical Cell Potentials

من المعروف أن اكتساب الإلكترونات يسمى اختزالاً. وبناءً على هذه الحقيقة فإن مدى قابلية المادة لاكتساب الإلكترونات هو **جهد الاختزال** لهذه المادة. ولا يمكن تحديد جهد اختزال القطب بصورة مباشرة؛ وذلك لأن نصف تفاعل الاختزال لا بد أن يقترن بنصف تفاعل الأكسدة. وعند اقتران نصفي التفاعل فإن الجهد الناتج يساوي فرق الجهد لنصفي التفاعل. ويعبر عن فرق الجهد الكهربائي بين نقطتين بالفولت V.

قطب الهيدروجين القياسي قرر علماء الكيمياء منذ زمن بعيد أن يقيسوا جهد الاختزال لكل الأقطاب مقابل قطب واحد، فاختاروا **قطب الهيدروجين القياسي** الذي يتكون من شريحة صغيرة من البلاتين مغموسة في محلول حمض الهيدروكلوريك HCl الذي يحتوي على أيونات هيدروجين بتركيز 1M. ويتم ضخ غاز الهيدروجين H₂ في المحلول عند ضغط 1 atm ودرجة حرارة 25 °C، وتعرف هذه الظروف بالظروف القياسية (STP)، كما في الشكل 5-5، ويكون فرق الجهد لقطب الهيدروجين القياسي، المسمى جهد الاختزال القياسي (E°_{H₂}) مساوياً 0.000 V، ويعمل هذا القطب بوصفه نصف تفاعل اختزال، أو نصف تفاعل أكسدة؛ اعتماداً على نصف الخلية الموصلة به. والتفاعلات اللذان يمكن حدوثهما عند قطب الهيدروجين القياسي هما:



الشكل 5-5 يتكون قطب الهيدروجين القياسي من قطب بلاتين يتدفق فوقه غاز الهيدروجين عند 1 atm ويضخ في محلول حمضي يحتوي على أيونات هيدروجين بتركيز 1 M. ويعرف فرق جهد الاختزال لهذا الترتيب بالقيمة 0.000 V.



المفردات

أصل الكلمة

التلازم: (Correspond)

الموافقة أو الانسجام
تتوافق الاتجاهات مع الخريطة،
أو الأكسدة والاختزال عمليتان
متلازمتان.

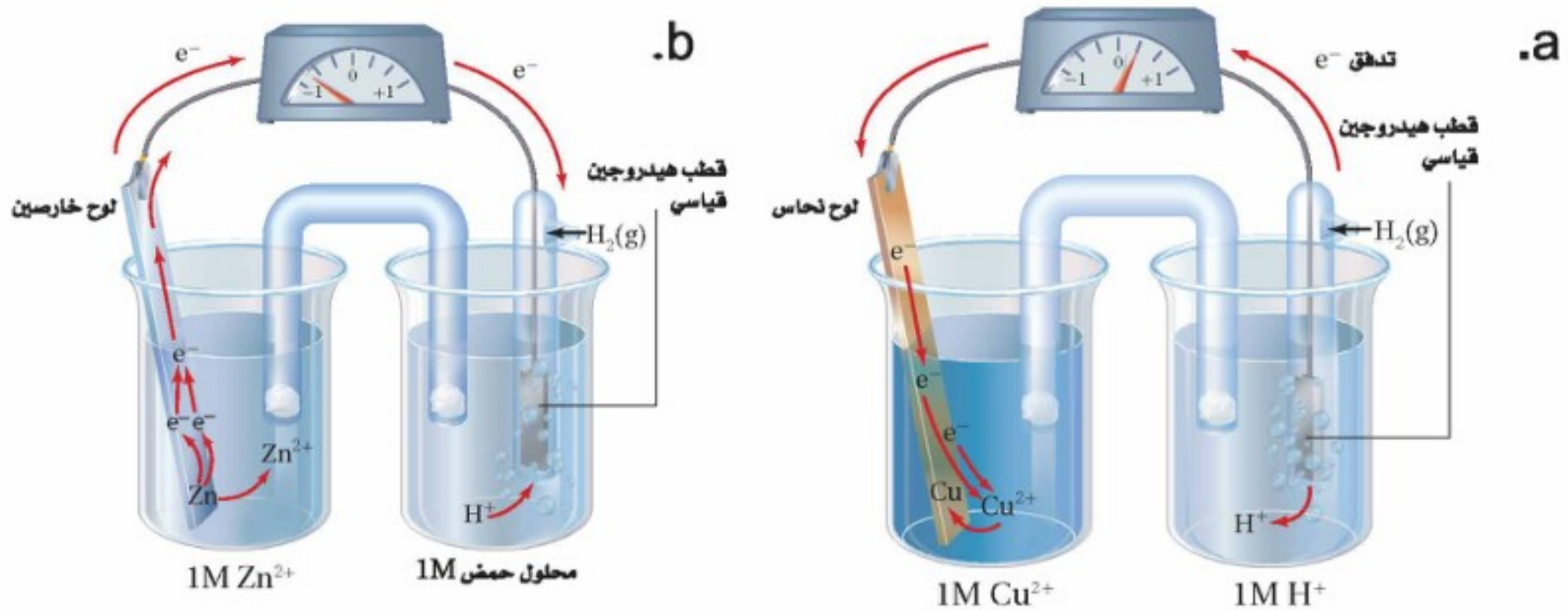
المطوبات

ضمّن مطويتك معلومات
من هذا القسم.

جهود نصف الخلية قام الكيميائيون عبر السنين بقياس جهود الاختزال القياسية وتسجيلها لعدد من أنصاف الخلايا. ويرتب الجدول 1-5 بعض تفاعلات نصف الخلية الشائعة تصاعدياً بحسب قيم جهود الاختزال. وقد تم الحصول على القيم في الجدول من خلال قياس الجهد عند توصيل كل نصف خلية بنصف خلية الهيدروجين القياسية. وقد كتبت التفاعلات في الجدول 1-5 جميعها في صورة تفاعلات اختزال. ومع ذلك ففي أي خلية جلفانية تحتوي دائماً على نصفي تفاعل سيحدث نصف التفاعل الذي له جهد اختزال أقل في اتجاه عكسي، ويصبح تفاعل أكسدة؛ أي أن نصف التفاعل الذي له جهد اختزال موجب أكبر يحدث في صورة اختزال، أما نصف التفاعل الذي له جهد اختزال سالب أكبر فيحدث في صورة أكسدة. ويجب أن يقاس جهد القطب تحت الظروف القياسية، وهي غمس القطب في محلول من أيوناته تركيزه 1 M عند 25°C و 1 atm. حيث يشير الصفر فوق الترميز E° باختصار إلى أن القياس تم تحت ظروف قياسية.

جهود الاختزال القياسية		الجدول 1-5	
نصف التفاعل	E° (V)	نصف التفاعل	E° (V)
$\text{Cu}^{2+} + e^{-} \rightarrow \text{Cu}^{+}$	+0.153	$\text{Li}^{+} + e^{-} \rightarrow \text{Li}$	-3.0401
$\text{Cu}^{2+} + 2e^{-} \rightarrow \text{Cu}$	+0.3419	$\text{Ca}^{2+} + 2e^{-} \rightarrow \text{Ca}$	-2.868
$\text{O}_2 + 2\text{H}_2\text{O} + 4e^{-} \rightarrow 4\text{OH}^{-}$	+0.401	$\text{Na}^{+} + e^{-} \rightarrow \text{Na}$	-2.71
$\text{I}_2 + 2e^{-} \rightarrow 2\text{I}^{-}$	+0.5355	$\text{Mg}^{2+} + 2e^{-} \rightarrow \text{Mg}$	-2.372
$\text{Fe}^{3+} + e^{-} \rightarrow \text{Fe}^{2+}$	+0.771	$\text{Be}^{2+} + 2e^{-} \rightarrow \text{Be}$	-1.847
$\text{NO}_3^{-} + 2\text{H}^{+} + e^{-} \rightarrow \text{NO}_2 + \text{H}_2\text{O}$	+0.775	$\text{Al}^{3+} + 3e^{-} \rightarrow \text{Al}$	-1.662
$\text{Hg}_2^{2+} + 2e^{-} \rightarrow 2\text{Hg}$	+0.7973	$\text{Mn}^{2+} + 2e^{-} \rightarrow \text{Mn}$	-1.185
$\text{Ag}^{+} + e^{-} \rightarrow \text{Ag}$	+0.7996	$\text{Cr}^{2+} + 2e^{-} \rightarrow \text{Cr}$	-0.913
$\text{Hg}^{2+} + 2e^{-} \rightarrow \text{Hg}$	+0.851	$2\text{H}_2\text{O} + 2e^{-} \rightarrow \text{H}_2 + 2\text{OH}^{-}$	-0.8277
$2\text{Hg}^{2+} + 2e^{-} \rightarrow \text{Hg}_2^{2+}$	+0.920	$\text{Zn}^{2+} + 2e^{-} \rightarrow \text{Zn}$	-0.7618
$\text{NO}_3^{-} + 4\text{H}^{+} + 3e^{-} \rightarrow \text{NO} + 2\text{H}_2\text{O}$	+0.957	$\text{Cr}^{3+} + 3e^{-} \rightarrow \text{Cr}$	-0.744
$\text{Br}_{2(l)} + 2e^{-} \rightarrow 2\text{Br}^{-}$	+1.066	$\text{S} + 2e^{-} \rightarrow \text{S}^{5-}$	-0.47627
$\text{Pt}^{2+} + 2e^{-} \rightarrow \text{Pt}$	+1.18	$\text{Fe}^{2+} + 2e^{-} \rightarrow \text{Fe}$	-0.447
$\text{O}_2 + 4\text{H}^{+} + 4e^{-} \rightarrow 2\text{H}_2\text{O}$	+1.229	$\text{Cd}^{2+} + 2e^{-} \rightarrow \text{Cd}$	-0.4030
$\text{Cl}_2 + 2e^{-} \rightarrow 2\text{Cl}^{-}$	+1.35827	$\text{PbI}_2 + 2e^{-} \rightarrow \text{Pb} + 2\text{I}^{-}$	-0.365
$\text{Au}^{3+} + 3e^{-} \rightarrow \text{Au}$	+1.498	$\text{PbSO}_4 + 2e^{-} \rightarrow \text{Pb} + \text{SO}_4^{5-}$	-0.3588
$\text{MnO}_4^{-} + 8\text{H}^{+} + 5e^{-} \rightarrow \text{Mn}^{2+} + 4\text{H}_2\text{O}$	+1.507	$\text{Co}^{2+} + 2e^{-} \rightarrow \text{Co}$	-0.28
$\text{Au}^{+} + e^{-} \rightarrow \text{Au}$	+1.692	$\text{Ni}^{2+} + 2e^{-} \rightarrow \text{Ni}$	-0.257
$\text{H}_2\text{O}_2 + 2\text{H}^{+} + 2e^{-} \rightarrow 2\text{H}_2\text{O}$	+1.776	$\text{Sn}^{2+} + 2e^{-} \rightarrow \text{Sn}$	-0.1375
$\text{Co}^{3+} + e^{-} \rightarrow \text{Co}^{2+}$	+1.92	$\text{Pb}^{2+} + 2e^{-} \rightarrow \text{Pb}$	-0.1262
$\text{S}_2\text{O}_8^{5-} + 2e^{-} \rightarrow 2\text{SO}_4^{5-}$	+2.010	$\text{Fe}^{3+} + 3e^{-} \rightarrow \text{Fe}$	-0.037
$\text{F}_2 + 2e^{-} \rightarrow 2\text{F}^{-}$	+2.866	$2\text{H}^{+} + 2e^{-} \rightarrow \text{H}_2$	0.0000

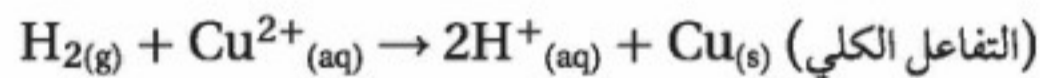
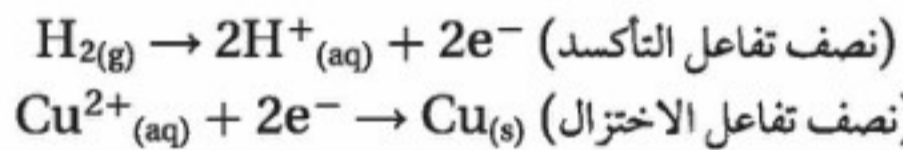




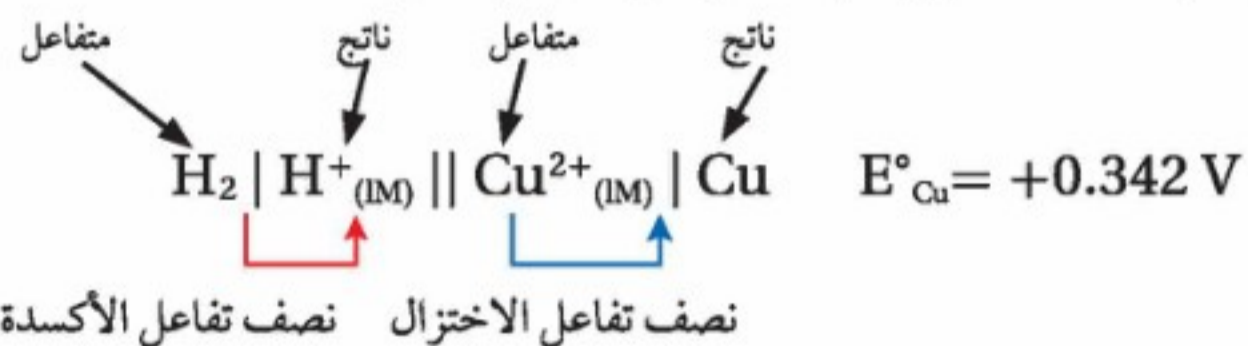
الشكل 5-6

a. عند توصيل قطب $\text{Cu}^{2+}|\text{Cu}$ بقطب هيدروجين تتدفق الإلكترونات نحو لوح النحاس، فتختزل أيونات Cu^{2+} إلى ذرات Cu ، وفرق الجهد لهذا التفاعل يساوي $+0.342\text{V}$.
b. وعند توصيل قطب $\text{Zn}|\text{Zn}^{2+}$ بقطب الهيدروجين تتدفق الإلكترونات مبتعدة عن لوح الخارصين، فتتأكسد ذرات الخارصين إلى أيونات Zn^{2+} . وفرق الجهد لهذا التفاعل يساوي -0.762V .

تحديد جهود اختزال الخلية الكهروكيميائية يمكنك استعمال الجدول 1-5 في حساب الجهد الكهربائي لخلية جلفانية مكونة من قطب نحاس وقطب خارصين تحت الظروف القياسية. وتكون الخطوة الأولى هي تحديد جهد الاختزال القياسي لنصف خلية النحاس E°_{Cu} عند توصيل قطب النحاس بقطب الهيدروجين القياسي، كما في الشكل 5-6a؛ حيث تتدفق الإلكترونات من قطب الهيدروجين إلى قطب النحاس، وتختزل أيونات النحاس إلى فلز النحاس، وتساوي قيمة E°_{Cu} المقاسة بواسطة مقياس فرق الجهد (voltmeter) $+0.342\text{V}$. ويشير الجهد الموجب إلى أن أيونات Cu^{2+} عند قطب النحاس تكتسب إلكترونات بصورة أسهل من أيونات H^+ عند قطب الهيدروجين القياسي؛ لذا يحدث الاختزال عند قطب النحاس، في حين تحدث الأكسدة عند قطب الهيدروجين، وتكون أنصاف تفاعلات الأكسدة والاختزال والتفاعل الكلي كما يلي:

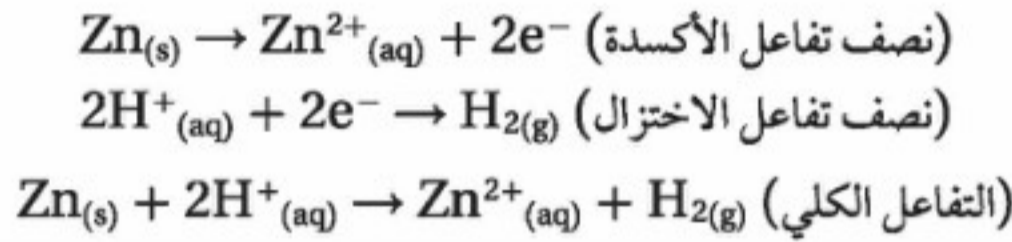


ويمكن كتابة هذا التفاعل بصيغة تعرف بـ "رمز الخلية":

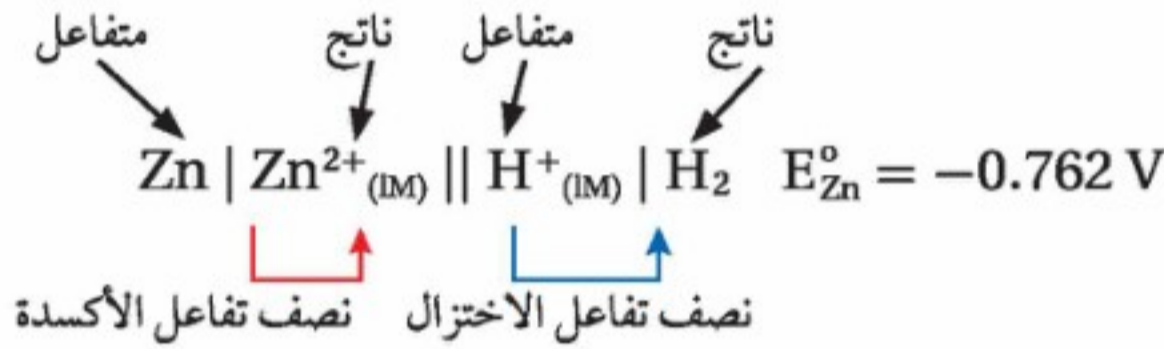


تكتب الذرات/ الأيونات (التركيز) الداخلة في عملية الأكسدة أولاً وبالترتيب الذي تظهر به في نصف تفاعل الأكسدة، ويوضع بعدهما خطان عموديان (||) يمثلان السلك والقنطرة الملحية وتربطان نصفي الخلية. ثم تكتب الأيونات (التركيز)/ الذرات الداخلة في الاختزال بالترتيب نفسه. لاحظ ضرورة وضع إشارة ناتج الجمع لقيم E° قبل قيمة الجهد.

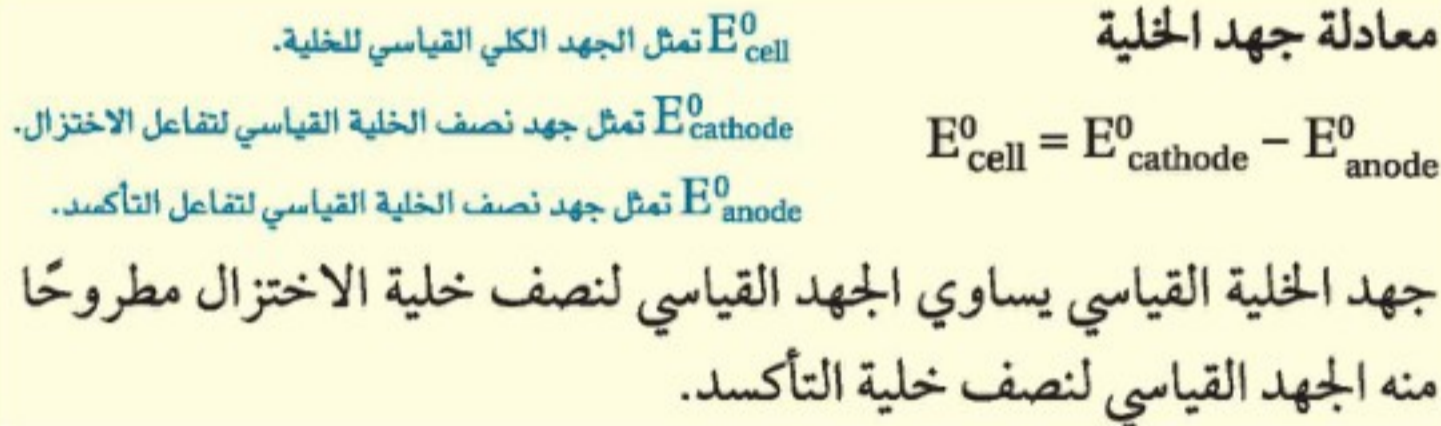
إن الخطوة الآتية هي تحديد جهد الاختزال القياسي لنصف خلية الخارصين E°_{Zn} عند قياس جهد اختزال الخارصين مقابل قطب الهيدروجين القياسي تحت الظروف القياسية، كما في الشكل 5-6b؛ حيث تتدفق الإلكترونات من قطب الخارصين إلى قطب الهيدروجين. وعند قياس قيمة E° لنصف خلية الخارصين بواسطة مقياس الجهد فإنها تساوي $-0.762V$ ، وهذا يعني أن أيونات الهيدروجين عند قطب الهيدروجين تكتسب إلكترونات أسهل من أيونات الخارصين، لذا يكون جهد اختزال أيونات الهيدروجين أعلى من جهد اختزال أيونات الخارصين. تذكر أن جهد الاختزال للهيدروجين تم تعيينه بالقيمة $0.00V$ ، لذا فإن جهد اختزال قطب الخارصين يجب أن يكون قيمة سالبة. ويمكن كتابة تفاعلي أنصاف الخلية والتفاعل الكلي على النحو الآتي:



ويمكن كتابة هذا التفاعل بصيغة تعرف بـ "رمز الخلية":



أما الخطوة النهائية في حساب جهد الخلية الكهروكيميائية فتكون بجمع نصفي تفاعل النحاس والخارصين، على أنها خلية جلفانية، وهذا يعني حساب جهد الخلية الجلفانية القياسي باستعمال المعادلة الآتية:

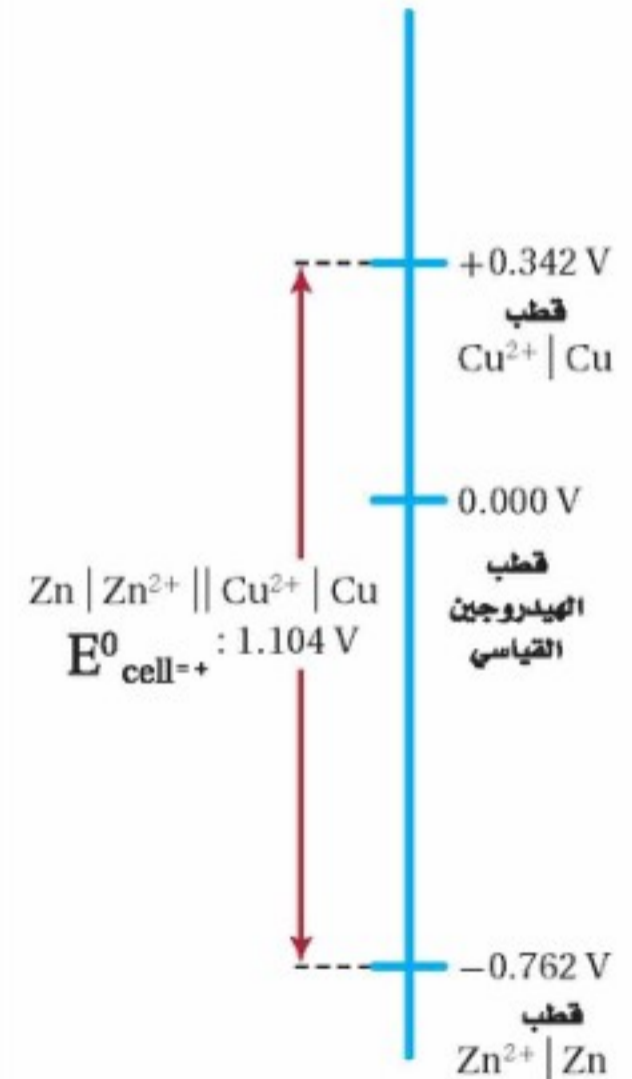


ولما كان الاختزال يحدث عند قطب النحاس، والأكسدة تحدث عند قطب الخارصين، فإن قيم E° يمكن تعويضها على النحو الآتي:

$$\begin{aligned} E^{\circ}_{cell} &= E^{\circ}_{\text{Cu}^{2+}|\text{Cu}} - E^{\circ}_{\text{Zn}^{2+}|\text{Zn}} \\ &= +0.342 V - (-0.762 V) \\ &= +1.104 V \end{aligned}$$

والشكل 5-7 يوضح طريقة حساب الجهد الكلي لهذه الخلية.

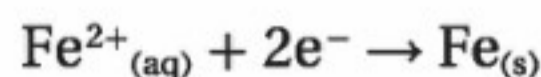
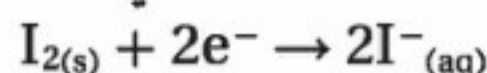
الشكل 5-7 يوضح كيف يحسب جهد الخلية الكلي من فرق جهود الاختزال لقطبين.



اختبار الرسم البياني

أيهما يتأكسد أسهل من الهيدروجين: النحاس أم الخارصين؟

حساب جهد الخلية تمثل أنصاف تفاعلات الاختزال الآتية نصفي خلية جلفانية:



حدّد التفاعل الكلي للخلية وجهدها القياسي، ثم اكتب رمز الخلية.

1 تحليل المسألة

لقد أعطيت معادلات أنصاف الخلية، ويمكن إيجاد جهود الاختزال القياسية من الجدول 1-5. وسيكون نصف التفاعل الذي له أقل جهد اختزال هو تفاعل الأكسدة، ويمكنك بهذه المعلومة كتابة التفاعل الكلي للخلية وكتابة رمزها.

المعطيات

جهود الاختزال القياسية لأنصاف الخلايا

$$E^0_{cell} = E^0_{cathode} - E^0_{anode}$$

المطلوب

التفاعل الكلي للخلية = ؟

$$E^0_{cell} = ?$$

رمز الخلية = ؟

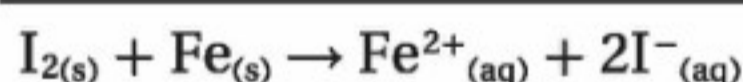
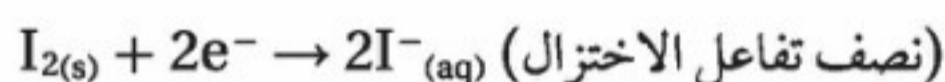
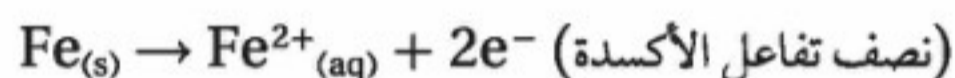
2 حساب المطلوب

أوجد قيم جهود الاختزال القياسية لكل نصف خلية من الجدول 1-5.

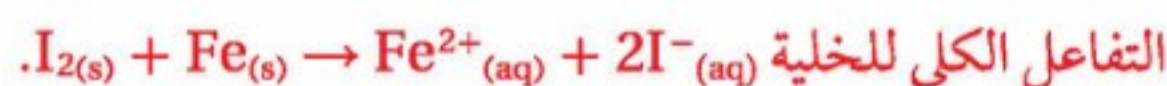


لما كان لاختزال اليود أكبر جهد اختزال فإن نصف التفاعل هذا يستمر في الاتجاه الطرد في صورة اختزال، في حين يستمر نصف تفاعل الحديد في الاتجاه العكسي في صورة أكسدة.

أعد كتابة نصف تفاعل الحديد في الاتجاه الصحيح.



اجمع المعادلتين.



احسب جهد الخلية القياسي.

ضع معادلة جهد الخلية

$$E^0_{cell} = E^0_{cathode} - E^0_{anode}$$

$$E^0_{cell} = E^0_{I_2|I^{-}} - E^0_{Fe^{2+}|Fe}$$

$$E^0_{cell} = +0.536 \text{ V} - (-0.447 \text{ V})$$

$$E^0_{cell} = +0.983 \text{ V}$$

عوض عن $E^0_{I_2|I^{-}}$ و $E^0_{Fe^{2+}|Fe}$ في المعادلة العامة.

عوض عن $E^0_{I_2|I^{-}}$ بالقيمة $+0.536 \text{ V}$ ، وعن $E^0_{Fe^{2+}|Fe}$ بالقيمة -0.447 V

كتابة رمز الخلية.



اكتب أولاً نصف تفاعل الأكسدة باستعمال رمز المادة المتفاعلة ثم الناتجة.



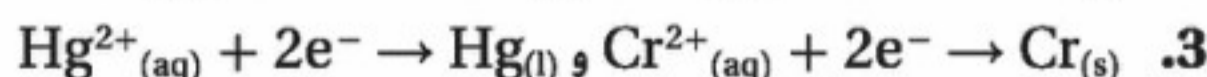
واكتب بعد ذلك نصف تفاعل الاختزال عن اليمين، وافصل بين نصفي التفاعل بخطين عموديين.



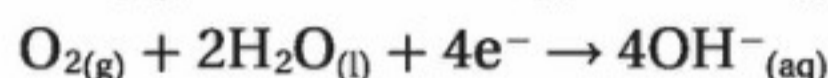
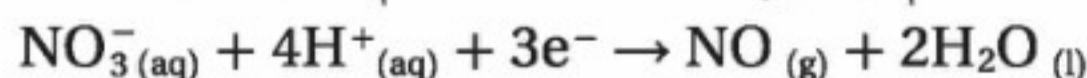
3 تقويم الإجابة

جهد الاختزال المحسوب معقول بالنظر إلى جهود أنصاف الخلية.

اكتب معادلة موزونة لتفاعل الخلية الكلي لكل من أزواج أنصاف التفاعلات الآتية. احسب جهد الخلية القياسي، ثم اكتب رمز الخلية. ارجع إلى قواعد وزن معادلات الأكسدة والاختزال التي درستها سابقاً.



4. تخفيز اكتب معادلة موزونة لتفاعل الخلية، واحسب جهد الخلية القياسي للتفاعل الذي يحدث عندما يتم توصيل هذه الخلايا معاً، ثم اكتب رمز الخلية.



استعمال جهود الاختزال القياسية


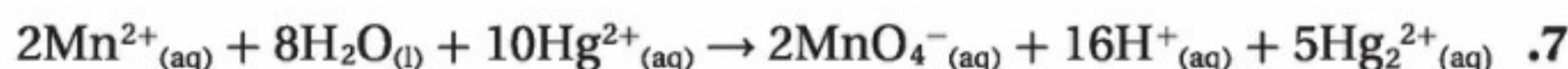
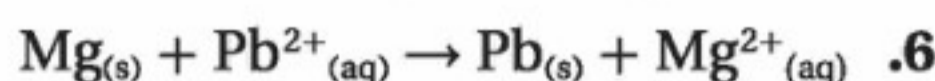
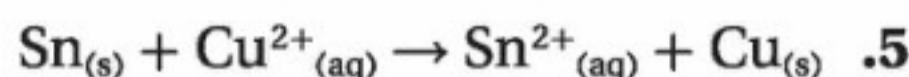
Using Standard Reduction Potentials

توضح الأمثلة كيفية استعمال البيانات في الجدول 1-5 لحساب الجهد القياسي للخلايا الجلفانية. والاستعمال الآخر المهم لجهود الاختزال القياسية هو تحديد هل سيكون التفاعل المقترح تحت الظروف القياسية تلقائياً؟ وكيف يمكن أن تكون جهود الاختزال القياسية مؤشراً على التلقائية؟ تتدفق الإلكترونات في الخلية الجلفانية من نصف الخلية ذات جهد الاختزال القياسي الأقل إلى نصف الخلية ذات جهد الاختزال القياسي الأكبر؛ لتعطي جهداً موجباً للخلية. ولتتوقع حدوث تفاعل أكسدة واختزال معين بشكل تلقائي، اكتب التفاعل في صورة أنصاف تفاعل، وابحث عن جهد الاختزال لكل منها. واستخدم هذه القيم لحساب جهد الخلية الجلفانية. إذا كان الجهد المحسوب موجباً فالتفاعل تلقائي، أما إذا كانت القيمة سالبة فالتفاعل غير تلقائي. لكن في حالة عكس تفاعل غير تلقائي فسيكون له جهد خلية موجب؛ وهذا يعني أن التفاعل العكسي يكون تلقائياً.

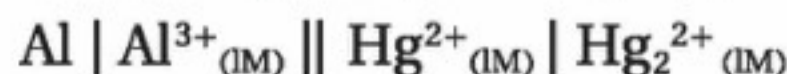
✓ **ماذا قرأت؟** حدد إشارة جهد الخلية القياسي لتفاعل الأكسدة والاختزال الذي يحدث بصورة تلقائية.

مسائل تدريبية

احسب جهد الخلية لتحديد ما إذا كانت تفاعلات الأكسدة والاختزال الآتية تحدث بصورة تلقائية كما هي مكتوبة أم لا، واستخدم الجدول 1-5 لمساعدتك على تحديد أنصاف التفاعل الصحيحة:



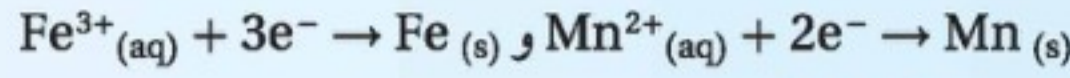
9. تخفيز اكتب المعادلة، وحدد جهد الخلية E° للخلية الآتية باستعمال الجدول 1-5. هل التفاعل تلقائي؟



استراتيجية حل المسألة

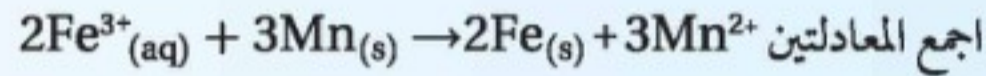
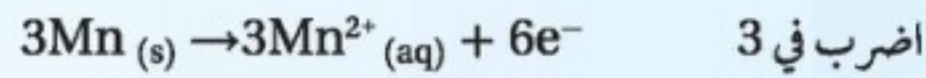
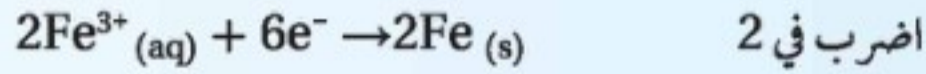
تحديد جهود الخلية

تلخص الخطوات الخمس الآتية إجراءات حساب جهد الخلية الجلفانية التي يحدث فيها تفاعل الأكسدة والاختزال بشكل تلقائي. افترض أن عليك كتابة معادلة للخلية التي تتكون من أنصاف التفاعل الآتية وحساب جهدها:



كل ما تحتاج إليه هو جدول لجهود الاختزال، مثل الجدول 1-5.

4. زن الإلكترونات في معادلات نصفي الخلية بضرب كلتا المعادلتين في المعامل المناسب، ثم اجمعهما.


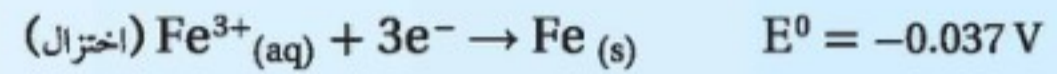


5. لا تؤثر مساواة الإلكترونات المفقودة والمكتسبة في E° للتفاعل الكلي. استخدم الصيغة $E^{\circ}_{\text{cell}} = E^{\circ}_{\text{reduction}} - E^{\circ}_{\text{oxidation}}$ للحصول على جهد الخلية.

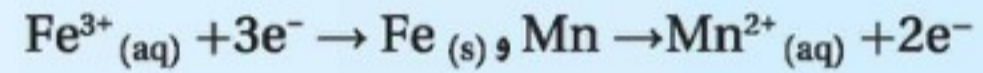
$$E^{\circ}_{\text{cell}} = E^{\circ}_{\text{Fe}^{3+}/\text{Fe}} - E^{\circ}_{\text{Mn}^{2+}/\text{Mn}} = -0.037\text{ V} - (-1.185\text{ V}) = +1.148\text{ V}$$

1. ابحث عن نصفي التفاعل في الجدول 1-5.

2. قارن بين جهد نصفي الخلية؛ فنصف الخلية التي لها جهد اختزال أعلى هي التي سيحدث عندها الاختزال، في حين تحدث أكسدة في نصف الخلية التي لها جهد اختزال أقل.



3. اكتب معادلة الاختزال كما هي في الجدول 1-5، واكتب معادلة الأكسدة في الاتجاه المعاكس.



استراتيجية حل المسألة

حدّد E° لتفاعل التأكسد والاختزال التلقائي الذي يحدث بين المغنسيوم والنيكل.

التقويم 5-1

الخلاصة

يحدث تفاعل الأكسدة والاختزال في الخلايا الجلفانية على أقطاب منفصلة بعضها عن بعض.

جهد نصف خلية التفاعل القياسي هو جهد التيار الناتج عند اقترانها بقطب الهيدروجين القياسي تحت الظروف القياسية.

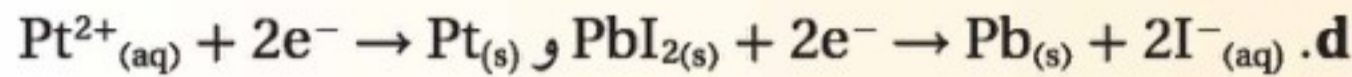
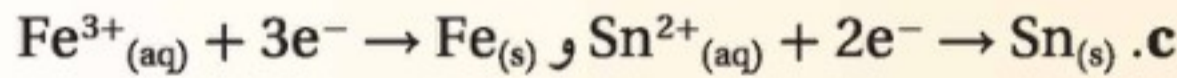
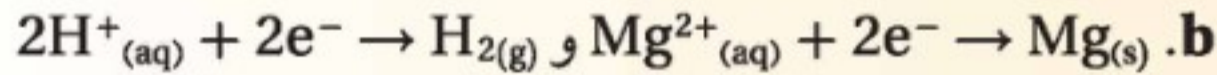
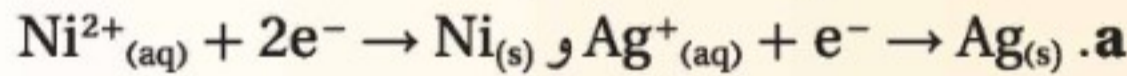
يكون جهد اختزال نصف الخلية سالبًا إذا حدث لها أكسدة عند توصيلها بقطب الهيدروجين القياسي، ويكون لها جهد اختزال موجب إذا حدث لها اختزال عند توصيلها بقطب الهيدروجين القياسي.

الجهد القياسي لخلية جلفانية هو الفرق بين جهود الاختزال لأنصاف الخلايا.

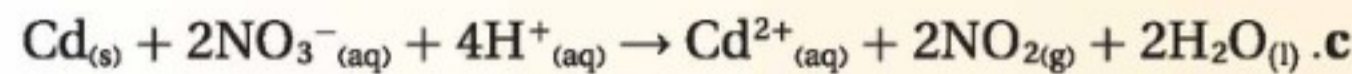
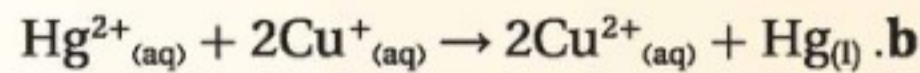
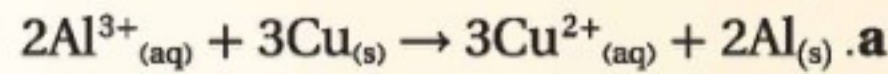
10. الفكرة الرئيسية صف الظروف التي يؤدي عندها تفاعل الأكسدة والاختزال إلى تدفق التيار الكهربائي خلال السلك.

11. حدّد مكونات الخلية الجلفانية، وفسّر دور كل مكون في عملية تشغيل الخلية.

12. اكتب المعادلة الموزونة لتفاعل الخلية التلقائي الذي يحدث في الخلية التي لها أنصاف تفاعل الاختزال الآتية:



13. حدّد الجهد القياسي للخلايا الكهروكيميائية؛ حيث تمثل كل معادلة التفاعل الكلي للخلية. وحدد أيضًا هل التفاعلات المكتوبة أدناه تلقائية أم غير تلقائية.



14. صمّم خريطة مفاهيم للبند 1-5 مبتدئًا بالمصطلح "خلية كهروكيميائية"، ثم أدرج جميع المصطلحات الجديدة في خريطة.



البطاريات Batteries

الأهداف

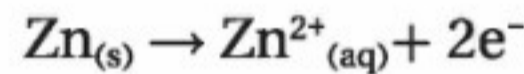
الفكرة الرئيسية البطاريات خلايا جلفانية تستعمل التفاعلات التلقائية لإنتاج الطاقة لأغراض متعددة.

الربط مع الحياة تأمل قليلاً عند كتابة قائمة بالأشياء التي تستعمل فيها البطاريات؛ فقد تضم قائمتك المصباح الكهربائي والسيارات والهواتف والمذياع والحاسبات والساعات والألعاب وغيرها. فهل جميع البطاريات في هذه الأجهزة متشابهة؟

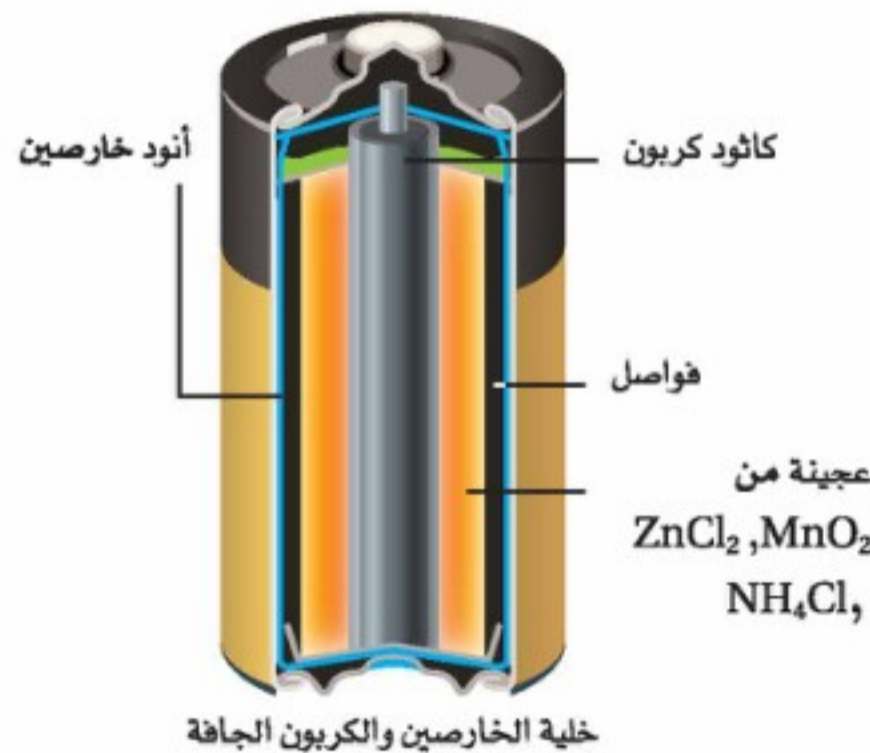

الخلايا الجافة Dry Cells

تزود بعض تفاعلات الخلايا التلقائية التي درستها البطاريات بالطاقة التي نستعملها يومياً. **والبطارية** عبارة عن خلية جلفانية أو أكثر في عبوة واحدة تنتج التيار الكهربائي. ولقد كانت البطارية الجافة المكونة من الخارصين والكربون، كما في الشكل 5-8، هي الأكثر استعمالاً منذ اكتشاف البطارية عام 1860 م حتى الآن.

خلية الخارصين والكربون الجافة الخلية الجافة هي خلية جلفانية؛ حيث يكون المحلول الموصل للتيار عجينة رطبة تتكون من خليط من كلوريد الخارصين وأكسيد المنجنيز IV وكلوريد الأمونيوم وكمية قليلة من الماء داخل حاوية من الخارصين. وحافطة الخارصين هي الأنود في الخلية؛ حيث يحدث تأكسد الخارصين بحسب المعادلة الآتية:



ويعمل عمود الكربون أو الجرافيت في مركز الخلية الجافة عمل الكاثود، ولكن تفاعل الاختزال لنصف الخلية يحدث داخل العجينة. ويسمى عمود الكربون في هذا النوع من الخلايا الجافة الكاثود غير الفعال؛ لأنه يتكون من مادة لا تسهم في تفاعل الأكسدة والاختزال، إلا أن القطب غير الفعال له غرض مهم في توصيل الإلكترونات. ويتم تفاعل الاختزال لنصف الخلية على النحو الآتي:



- تصف تركيب البطارية الجافة التقليدية المصنوعة من الكربون والخارصين ومكوناتها وآلية عملها.
- تميز بين البطاريات الأولية والثانوية، وتعطي مثالين على كل نوع.
- تفسر تركيب خلية الوقود (الهيدروجين-الأكسجين) وعملها.
- تصف عملية تآكل الحديد وطرائق حمايته من التآكل.

مراجعة المفردات

التفاعل العكسي التفاعل الذي يمكن أن يحدث في الاتجاهين الطردي والعكسي.

المفردات الجديدة

البطارية

الخلية الجافة

البطارية الأولية

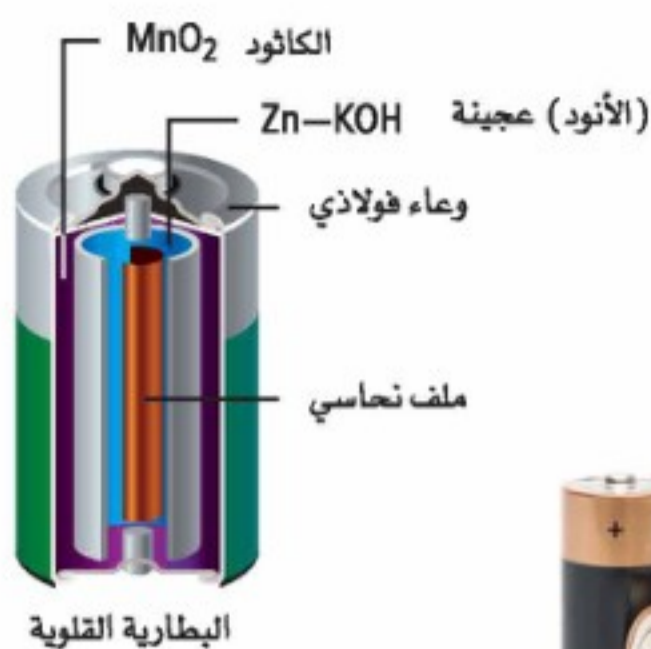
البطارية الثانوية

خلية الوقود

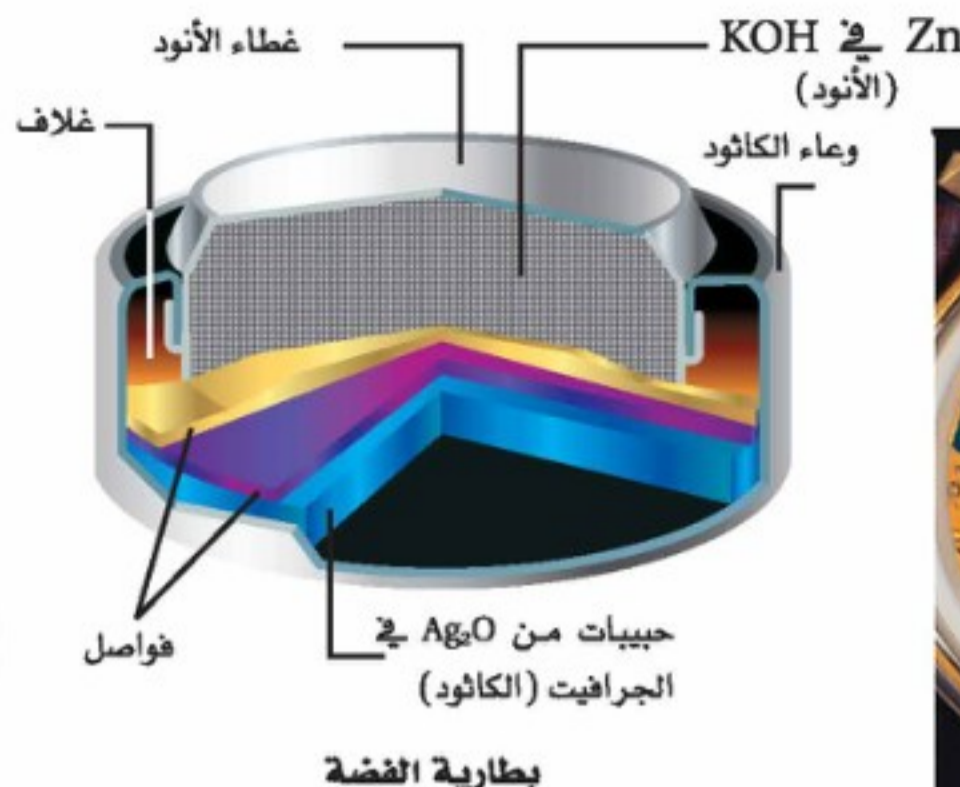
التآكل

الجلفنة

الشكل 5-8 تتكون ما يطلق عليه الخلية الجافة من عجينة رطبة يحدث فيها نصف تفاعل الاختزال، وتعمل حاوية الخارصين في خلية الخارصين والكربون عمل الأنود.



البطارية القلوية



بطارية الفضة



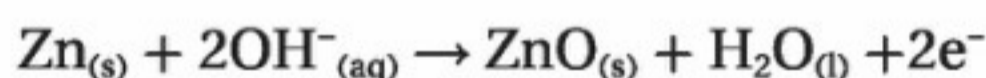
تستخدم البطارية القلوية مسحوق الخارصين كأنود

تشبه بطارية الفضة إلى حد كبير البطارية القلوية، على الرغم من أنها تظهر مختلفة وتستعمل أكسيد الفضة Ag_2O في الكاثود بدلاً من أكسيد المنجنيز

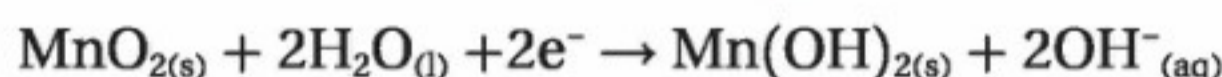
الشكل 9-5 البطاريات القلوية أكثر كفاءة من خلية الخارصين والكربون الجافة، وأكثر نفعاً عند الحاجة إلى بطاريات صغيرة الحجم. أما بطاريات الفضة فهي أصغر حجماً من القلوية، وتناسب الأجهزة الصغيرة الحجم مثل الساعات.

يوجد في خلية الخارصين والكربون الجافة فواصل رقيقة مصنوعة من مادة مسامية تحتوي على عجينة رطبة تفصلها عن أنود الخارصين. وتعمل هذه الفواصل عمل القنطرة الملحية للسماح بتحريك الأيونات، ومن ثم فإنها تشبه إلى حد كبير نموذج الخلية الجلفانية الذي درسته في القسم 1-5. وتنتج خلية الخارصين والكربون الجافة 1.5 V حتى يبدأ إنتاج الأمونيا بوصفه ناتج تفاعل الاختزال عن محلولها المائي في صورة غاز. وعندها ينخفض الجهد إلى مستوى يجعل البطارية غير نافعة.

البطاريات القلوية لقد حلت الخلية القلوية الجافة الأكثر كفاءة، محل خلية الخارصين والكربون الجافة في الكثير من التطبيقات كما في الشكل 9-5. ويوجد الخارصين في الخلية القلوية على هيئة مسحوق، مما يوفر مساحة سطح أكبر للتفاعل، ويخلط مع هيدروكسيد البوتاسيوم على شكل عجينة، وهي قاعدة قوية، وتوضع العجينة في علبة من الفولاذ. ويقوم مخلوط من ثاني أكسيد المنجنيز وهيدروكسيد البوتاسيوم مقام الكاثود. ويمكن تمثيل تفاعل الأنود لنصف الخلية على النحو الآتي:

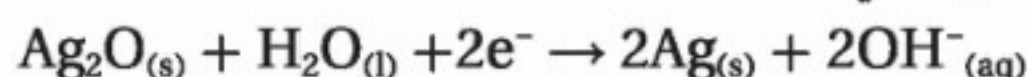


أما تفاعل الكاثود لنصف الخلية فهو:




ولا تحتاج البطاريات القلوية إلى عمود الكربون بوصفه كاثوداً؛ لذا يمكن تصنيعها بأحجام صغيرة، ولها استعمالات متعددة في الأجهزة الصغيرة.

بطاريات الفضة بطاريات الفضة الموضحة في الشكل 9-5 أصغر حجماً، وتستعمل في تزويد الأجهزة بالطاقة، ومنها ساعات الأذن والساعات وآلات التصوير. وتستعمل بطاريات الفضة تفاعل أنود نصف خلية البطاريات القلوية. أما تفاعل الكاثود لنصف الخلية فهو على النحو الآتي:

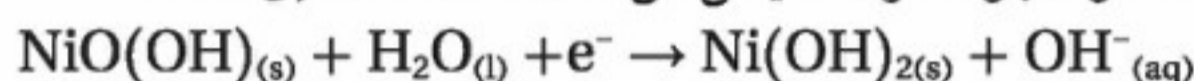


✓ **ماذا قرأت؟** حدد أنصاف التفاعلات المشتركة التي تحدث في كل من البطاريات القلوية، وبطاريات الفضة.

البطاريات الأولية والثانوية تقسم البطاريات إلى نوعين اعتمادًا على عملياتها الكيميائية. وتصنف خلايا الخارصين والكربون، والقلوية، والفضة على أنها بطاريات أولية. **والبطاريات الأولية** هي التي تنتج طاقة كهربائية من تفاعل الأكسدة والاختزال الذي لا يحدث بشكل عكسي بسهولة، وتصبح البطارية غير صالحة للاستعمال بعد انتهاء التفاعل. ويسمى النوع الآخر **البطاريات الثانوية**، وهي تعتمد على تفاعل الأكسدة والاختزال العكسي، لذا فإنه يمكن شحنها. فبطارية السيارة والحاسوب المحمول مثالان على هذا النوع من البطاريات التي تُسمى في بعض الأحيان بطاريات التخزين. وعادة ما تكون بطاريات التخزين التي تستعمل في آلات الحلاقة وآلات التصوير الرقمية بطاريات نيكال - كادميوم قابلة للشحن، وتسمى في بعض الأحيان بطاريات NiCad، كما في الشكل 5-10. وللحصول على الكفاءة القصوى للبطارية يصنع كل من الأنود والكاثود من أشرطة دقيقة طويلة من مواد مفصولة بطبقة يمكن للأيونات أن تمر من خلالها. وتلف الأشرطة في لفائف ضيقة وتعبأ داخل علبة فولاذية. ويتمثل تفاعل الأنود الذي يحدث عند استعمال البطارية لتوليد تيار كهربائي في أكسدة الكادميوم في وسط قاعدي:



أما تفاعل الكاثود فهو اختزال النيكل من حالة تأكسد +3 إلى +2.

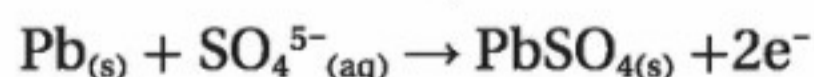


وتحدث هذه التفاعلات بشكل عكسي عند شحن البطارية.

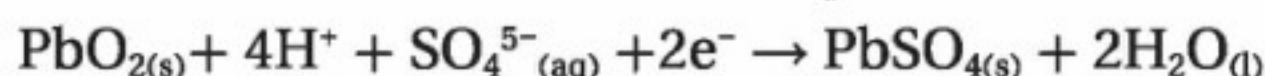
بطاريات تخزين المرمك الرصاصي الحمضية Lead-Acid Storage Battery

هذا النوع من البطاريات شائع الاستخدام في السيارات. وتتكون معظم بطاريات السيارات من 6 خلايا تولد كل منها 2V ليصبح ناتجها الكلي 12V. ويتكون الأنود في كل خلية من شبكتين مساميتين أو أكثر من الرصاص. أما الكاثود فيتكون من شبكة واحدة من الرصاص المملوءة بأكسيد الرصاص IV. ويجب أن يسمى هذا النوع من البطاريات بطارية رصاص - أكسيد الرصاص IV، إلا أن بطاريات الرصاص الحمضية هو الاسم الأكثر شيوعًا لها؛ لأن المحلول الموصل في البطارية هو محلول حمض الكبريتيك، وهي بطارية غير جافة.

وتمثل المعادلات الآتية تفاعل الأكسدة لنصف الخلية عند الأنود؛ حيث يتأكسد الرصاص من حالة تأكسد 0 إلى +2 في PbSO_4 .



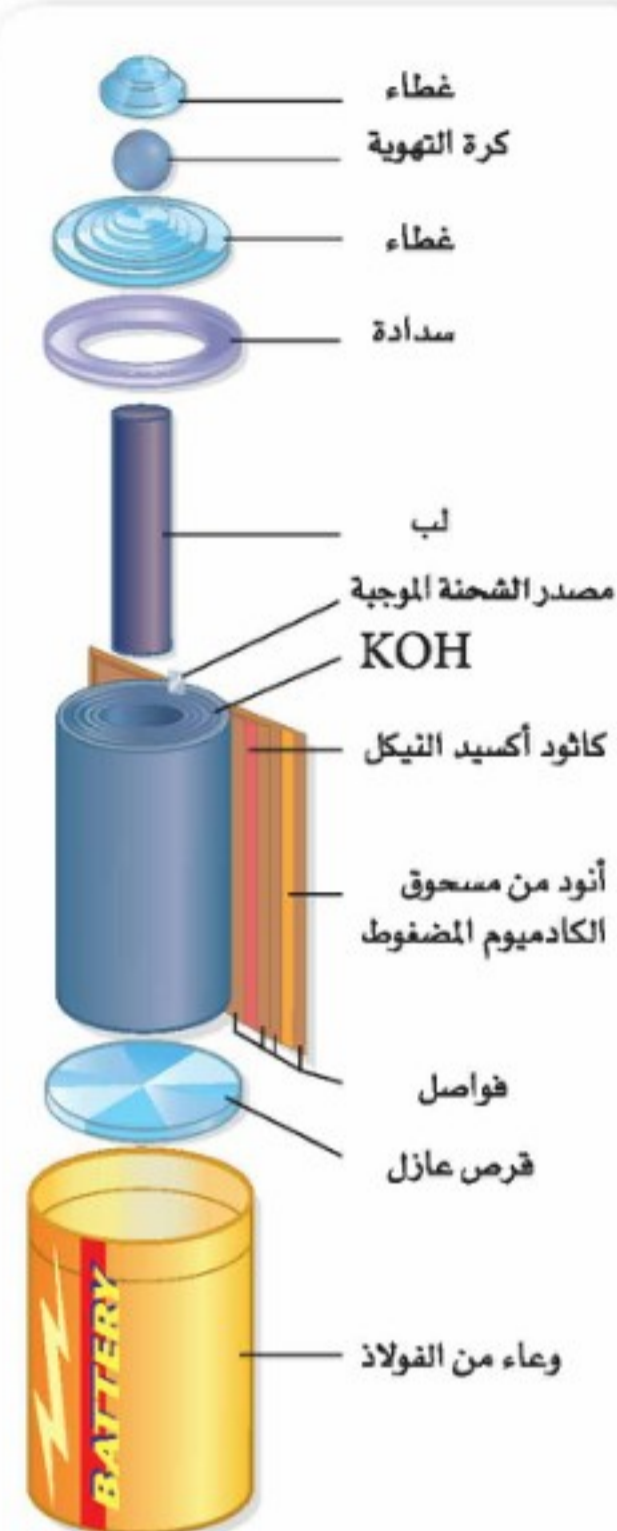
ويختزل الرصاص من حالة تأكسد +4 إلى +2 عند الكاثود، ويمثل تفاعل الاختزال لنصف الخلية عند الكاثود كما يلي:



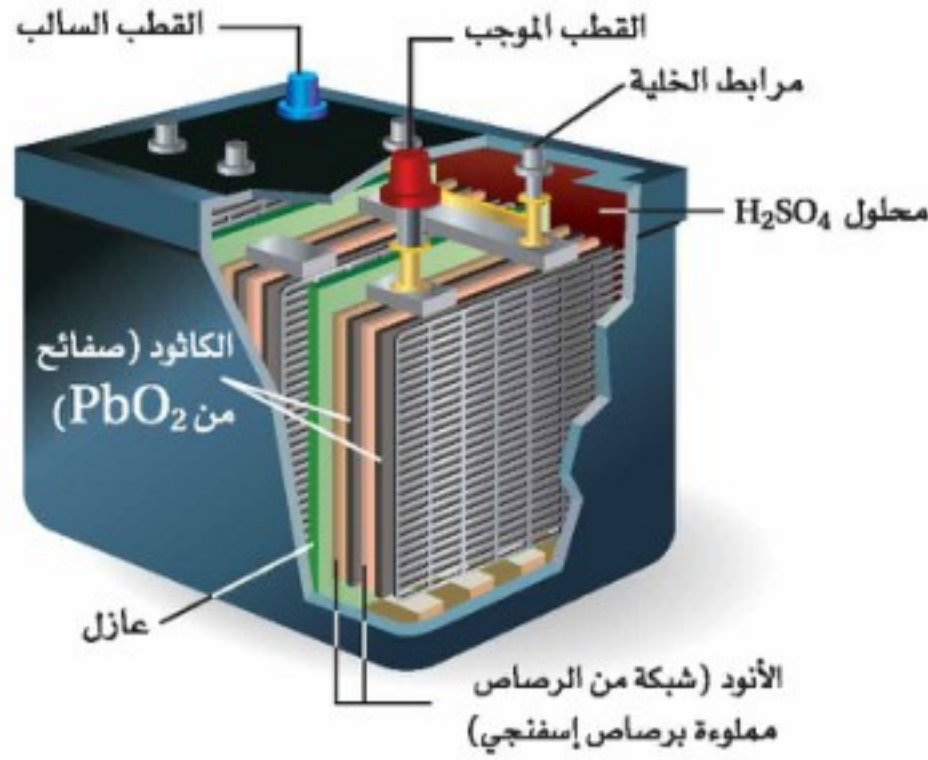
لذا فإن التفاعل الكلي هو:



وبالنظر إلى تفاعلات نصف الخلية يمكنك ملاحظة أن كبريتات الرصاص PbSO_4



الشكل 5-10 تزود الأدوات والهواتف اللاسلكية عادة بالطاقة بواسطة بطاريات يمكن إعادة شحنها، ويتم إعادة شحن بطارية NiCad عند توصيلها بمصدر كهربائي يزودها بالطاقة لتدفع تفاعل الشحن غير التلقائي للحدوث.



تحتوي بطاريات المركم الرصاصي على صفائح من الرصاص وأكسيده ، والمحلول الموصل عبارة عن محلول حمض الكبريتيك، وعند استعمال البطارية يُستهلك الحمض ويصبح المحلول الموصل أقل كثافة .



يسبب انخفاض مستوى المحلول الموصل نفاذ شحنة البطارية .وتقوم أسلاك الشحن بنقل التيار من سيارة بها بطارية جيدة وذلك لإعادة شحن البطارية المستهلكة.

الشكل 11-5 تستهلك بطاريات المركم الرصاصي المستعملة في السيارات عند تشغيل السيارة، وتشحن عندما يعمل المحرك.

هي ناتج الأكسدة والاختزال. وكذلك فإن كلاً من PbO_2 و Pb و $PbSO_4$ مادة صلبة، لذا تبقى في مكان تكوُّنها نفسه. ولذلك تكون المواد المتفاعلة في الأماكن المطلوبة سواء أكانت البطارية في حالة استعمال أو شحن.

يعمل حمض الكبريتيك عمل محلول موصل بالبطارية، إلا أنه يُستهلك في أثناء توليد البطارية للتيار الكهربائي، كما توضح معادلة الخلية الكلية ذلك. ماذا يحدث عند إعادة شحن البطارية؟ يصبح التفاعل في هذه الحالة عكسيًا؛ لينتج الرصاص وأكسيد الرصاص IV وحمض الكبريتيك، والموضح بالجزء في المعادلة $4H^+_{(aq)} + 2SO_4^{5-}_{(aq)}$ من المعادلة الكلية للبطارية.

وتعد بطاريات تخزين المركم الرصاصية في الشكل 11-5 اختيارًا جيدًا للسيارات؛ لأنها تزود المحرك بطاقة ابتدائية عالية جدًا في البداية، ولها زمن حفظ طويل قبل البيع، ويعتمد عليها عند انخفاض درجات الحرارة.

✓ **ماذا قرأت؟** حدّد المواد التي تتأكسد والمواد التي تختزل عند شحن بطارية المركم الرصاصي.

بطاريات الليثيوم Lithium Batteries

على الرغم من أن بطاريات المركم الرصاصي موثوق بها ومناسبة للكثير من التطبيقات، فما زال المهندسون يطورون بطاريات بكتلة أقل وقدرة أكبر لتزويد الأجهزة بالطاقة؛ بدءًا من ساعة اليد إلى السيارات الكهربائية. وفي التطبيقات التي تكون فيها البطارية هي المكوّن الأهم ويجب تزويدها بكميات كبيرة من القدرة - كما في عملية تشغيل السيارات الكهربائية - تكون بطاريات المركم الرصاصي ثقيلة جدًا، لذا لا تكون عملية.

ولقد كان الحل في تطوير بطارية ذات وزن خفيف، تخزن كميات كبيرة من الطاقة بالنسبة لحجمها. لذا ركز المهندسون انتباههم على عنصر الليثيوم لسببين، هما: أن الليثيوم أخف فلز معروف، وأن له أقل جهد اختزال قياسي بالنسبة إلى العناصر الفلزية الأخرى $3.04 V$ - كما في الجدول 1-5. لذا تولد البطارية التي تؤكسد الليثيوم على الأنود $2.3 V$ تقريبًا أكثر من البطاريات المشابهة، وتؤدي إلى تأكسد الخارصين.

المفردات


أصل الكلمة

السعة (Capacity):

من أصل لاتيني وتعني القدرة على الاستيعاب أو الاحتواء.




تنتج بطاريات الليثيوم عادة 3 و9 فولت، ولها عدة أحجام لتناسب الأجهزة المختلفة



تزود بطاريات الليثيوم سيارة التجربة هذه بطاقة تجعلها تسير بسرعة قصوى مقدارها 113 km/h قبل أن يعاد شحنها . كما أنها تستطيع السير مسافة 320 km

قارن بين نصف تفاعل التأكسد للخارصين والليثيوم وجهود اختزالها القياسية.



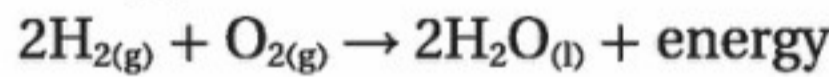
$$E_{\text{Zn}^{2+}|\text{Zn}}^0 - E_{\text{Li}^+|\text{Li}}^0 = +2.28 \text{ V}$$

يمكن لبطاريات الليثيوم أن تكون أولية أو ثانوية اعتماداً على أي تفاعلات اختزال تم دمجها مع تأكسد الليثيوم. تستخدم بعض بطاريات الليثيوم مثلاً تفاعل الكاثود نفسه الذي تستعمله الخلايا الجافة الخارصين والكربون، وهو اختزال أكسيد المنجنيز IV MnO_2 إلى أكسيد المنجنيز III Mn_2O_3 ، وتنتج هذه البطاريات تياراً إذا جهد يساوي 3 V مقارنة بـ 1.5 V لخلايا الخارصين والكربون. وتستمر بطاريات الليثيوم فترة أطول من أنواع البطاريات الأخرى. ونتيجة لذلك تستعمل عادة في الساعات والحواسيب وآلات التصوير للحفاظ على الزمن والتاريخ والذاكرة والاستعدادات الشخصية حتى إطفاء الجهاز. والشكل 12-5 يوضح التطبيقات الحالية والمطورة لبطاريات الليثيوم.

✓ **ماذا قرأت؟** اذكر ثلاث مزايا لبطاريات الليثيوم.

خلايا الوقود Fuel Cells

ينفجر الهيدروجين بقوة كبيرة عند احتراقه في الهواء، وينتج عنه ضوء وحرارة.



فهل يمكن أن يحدث هذا التفاعل تحت ظروف مضبوطة داخل الخلية؟

الربط مع الفيزياء **خلية الوقود** خلية جلفانية؛ حيث ينتج تأكسد الوقود طاقة كهربائية. وتختلف خلايا الوقود عن البطاريات الأخرى؛ لأنها تزود بالوقود باستمرار من مصدر خارجي. ويعتقد الكثيرون أن خلايا الوقود اختراع حديث، إلا أن الخلايا الأولى عُرضت عام 1839 م عن طريق عالم الكيمياء الكهربائية البريطاني وليام جروف William Grove والذي سُمى خليته بطارية الغاز. وقد بدأ بعض العلماء عملاً جاداً في خمسينيات القرن الماضي لتطوير خلايا وقود عملية ذات كفاءة لبرامج الفضاء. وإذا كان على رواد الفضاء الطيران في سفن فضائية فإنهم يحتاجون إلى الماء للمحافظة على حياتهم في السفينة، ومصدر كهربائي موثوق به لتزويد أنظمة السفينة المختلفة

الشكل 12-5 الصفات التي تجعل

بطاريات الليثيوم الاختيار الأمثل

للعديد من الاستعمالات هي خفة

الوزن وطول العمر والجهد العالي.

واقع الكيمياء في الحياة

خلايا الوقود



التقليل من التلوث تعد السيارات

من أكبر مصادر تلوث الهواء في المدن.

وقد أدى تزويد حافلات - تحت التجربة

في بعض المدن الأوروبية - بخلايا وقود

الهيدروجين إلى إحداث فرق في كمية

التلوث. كما تخلو عوادم هذه الحافلات

من ثاني أكسيد الكربون أو أي من

أكاسيد النيتروجين أو الكبريت. والماء

النقي هو الناتج الوحيد.

مهن في الكيمياء

اختصاصي الطاقة البديلة

إذا كنت ترغب في اختراع أشياء جديدة وجعلها تعمل فقد تكون مهتماً بالمساعدة على تطوير مصادر طاقة لهذا العالم يعتمد عليها بصورة متزايدة. وتتضمن هذه التقنيات الطاقة الشمسية، والرياح، والطاقة الجوفية، وطاقة التيارات المائية، واستعمال تدرج درجات الحرارة في تجمعات الماء، وغيرها.

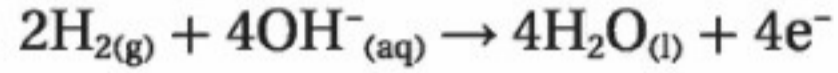
الشكل 5-13

a. يكون الهيدروجين هو الوقود. ويتم فصل نصفي التفاعل بواسطة غشاء لتبادل البروتونات؛ حيث تتدفق الإلكترونات المفقودة من عملية الأكسدة في الدائرة الخارجية للوصول إلى موقع الاختزال، وخلال انتقالها تقوم بعمل مفيد كتشغيل محرك إلكتروني. أما الناتج الجانبي لتفاعل الأكسدة والاختزال فهو الماء.

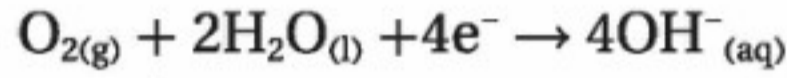
b. يمكن لخلايا الحزمة من نوع PEM إنتاج طاقة كافية لتشغيل سيارة كهربائية.

بالكهرباء. والحاجتان السابقتان كلتاهما ساعدتا على تطوير خلايا وقود الهيدروجين التي تضبط عملية تأكسد الهيدروجين وتزود السفينة بالماء والكهرباء؛ إذ لا يصاحب ذلك إنتاج مواد جانبية ينبغي التخلص منها أو تخزينها على السفينة خلال الرحلة.

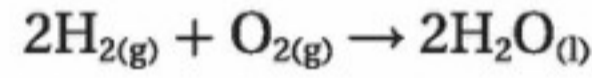
كيف تعمل خلية الوقود؟ خلية الوقود - كما في الخلايا الجلفانية الأخرى - أنود وكاثود، وتتطلب محلولاً موصلًا؛ حتى تستطيع الأيونات الانتقال بين الأقطاب. والمحلول الموصل الشائع في خلية الوقود محلول قلوي من هيدروكسيد البوتاسيوم. وكل قطب عبارة عن وعاء أجوف، جدرانه من كربون مساميّ تسمح بالاتصال بين الحجرة الداخلية والمحلول الموصل المحيط بها. ويكتب نصف تفاعل الأكسدة للخلية على الأنود على النحو الآتي:



يستعمل التفاعل أيونات الهيدروكسيد المتوافرة في المحلول الموصل القلوي، ويطلق إلكترونات على الأنود. فتتدفق الإلكترونات الناتجة عن أكسدة الهيدروجين خلال الدائرة الخارجية نحو الكاثود؛ حيث يحدث نصف تفاعل الاختزال على النحو الآتي:



تختزل الإلكترونات الأكسجين عند وجود الماء لإنتاج 4 أيونات هيدروكسيد تعمل على تعويض أيونات الهيدروكسيد المستخدمة عند الأنود. وعند جمع معادلتي نصفي التفاعل تكون المعادلة الكلية هي نفس معادلة احتراق الهيدروجين في الأكسجين.

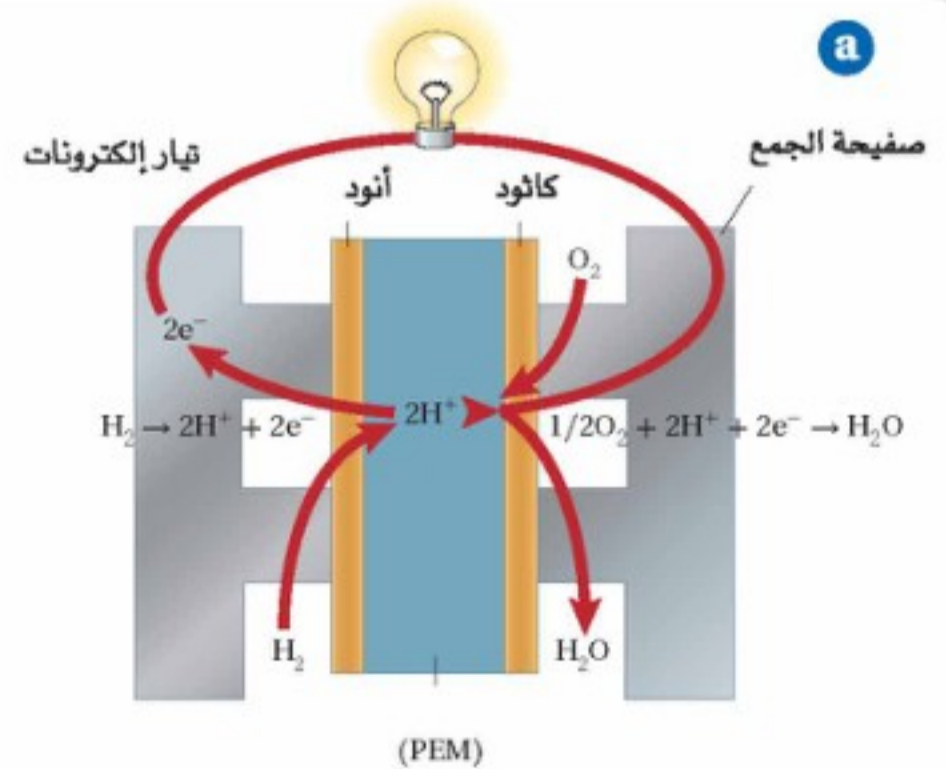



ولما كانت الخلية تزود بالوقود من مصدر خارجي فإن خلية الوقود لا تنفذ مثل سائر البطاريات؛ حيث تستمر في إنتاج الكهرباء ما دام الوقود متوافراً.

وتستخدم بعض الخلايا وقوداً غير الهيدروجين. فمثلاً يستبدل الهيدروجين بالميثان في بعض الخلايا إلا أنه قد يؤدي إلى إنتاج ثاني أكسيد الكربون كغاز الدفيئة. وتستعمل خلايا الوقود، كما في الشكل 5-13، صفيحة بلاستيكية تسمى غشاء تبادل البروتون (PEM) aproton - exchange membrane، مما يستبعد الحاجة إلى محلول موصل سائل.

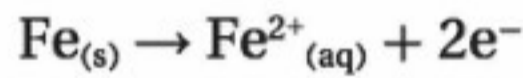
✓ **ماذا قرأت؟** قارن خلايا الوقود بغيرها من الخلايا الجلفانية.

خلية وقود

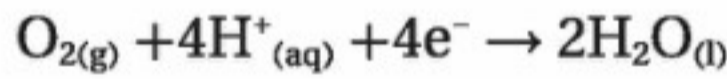


التآكل Corrosion

من المعروف أن تفاعلات الأكسدة والاختزال التلقائية تحدث في الخلايا الجلفانية، كما تحدث في الطبيعة أيضاً بشكل تلقائي، ومن ذلك تآكل الحديد، المعروف بالصدأ. التآكل هو خسارة الفلز الناتج عن تفاعل أكسدة واختزال بين الفلز والمواد التي في البيئة. وعلى الرغم من الاعتقاد أن الصدأ ناتج عن تفاعل الحديد مع الأكسجين إلا أنه تفاعل أكثر تعقيداً. ولما كان الصدأ يحدث عند توافر كل من الماء والأكسجين، لذا فإن قطعة الحديد التي تركت معرضة للهواء والرطوبة تكون أكثر عرضة للصدأ، كما في الشكل 14-5؛ حيث يصدأ الجزء المتصل بالتربة الرطبة أولاً. ويبدأ الصدأ عند وجود شق أو كسر في سطح الحديد. ويصبح هذا الجزء أنود الخلية؛ حيث تبدأ ذرات الحديد في فقدان الإلكترونات، كما في الشكل 15-5.



وتصبح أيونات الحديد II جزءاً من المحلول المائي، في حين تتحرك الإلكترونات خلال القطعة الحديدية إلى منطقة الكاثود، فتصبح القطعة الحديدية هي الدائرة الخارجية والأنود في آن واحد. ويقع الكاثود عادة على حافة قطرة الماء، حيث يتم الاتصال بين الماء والهواء وقطعة الحديد. وهناك تختزل الإلكترونات الأكسجين من الهواء، كما في المعادلة الآتية:



ويتم تزويد أيونات H^{+} على الأرجح من تكوّن حمض الكربونيك الناتج عن ذوبان CO_2 من الهواء في الماء. ثم تتأكسد أيونات

الشكل 14-5 يتأكسد الحديد ببطء عند تركه مكشوفاً ومعرضاً للهواء والرطوبة مكوناً الصدأ (Fe_2O_3).



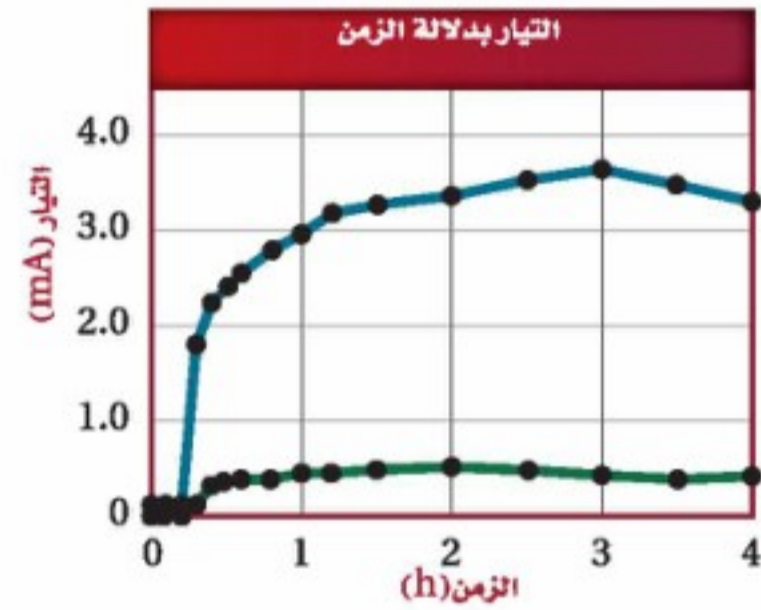
مختبر تحليل البيانات

تفسير الرسوم البيانية

كيف يمكنك الحصول على التيار الكهربائي من الميكروبات؟ درس العلماء استعمال الميكروبات كخلايا وقود حيوية؛ حيث تحوّل هذه الخلايا الطاقة الأيضية الميكروبية بصورة مباشرة إلى طاقة كهربائية. ويسهل إلكترون وسيط انتقال الإلكترونات إلى القطب. والإلكترون الوسيط عبارة عن مركب يدخل ضمن سلسلة انتقال الإلكترون للخلايا ويسرق الإلكترونات المنتجة.

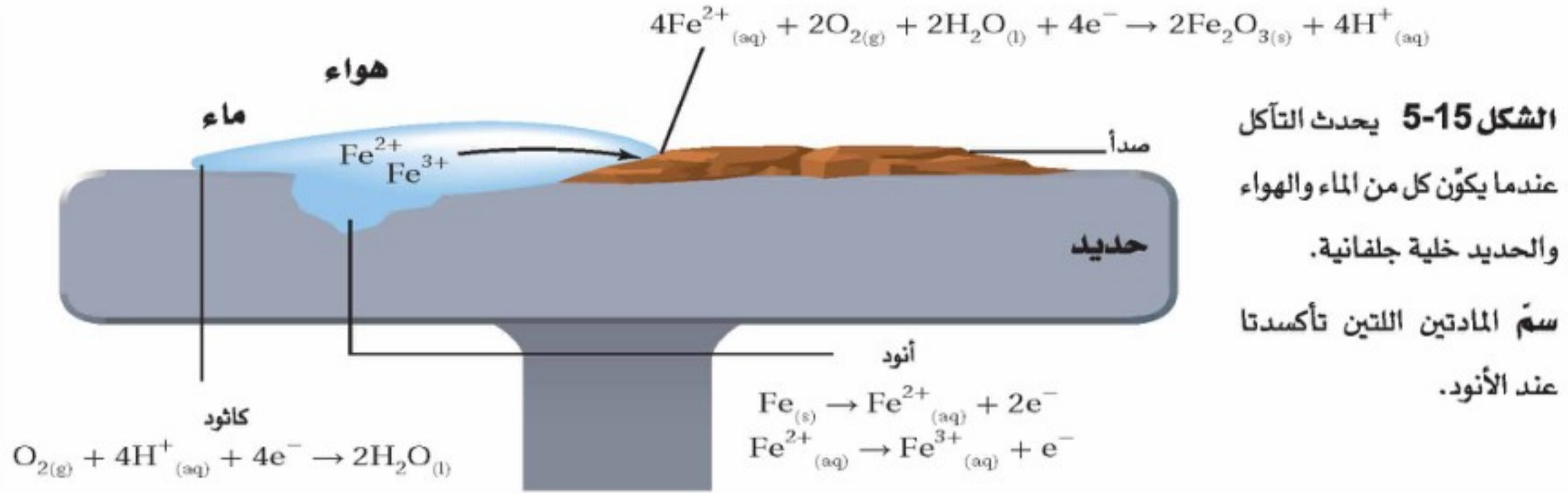
البيانات والملاحظات

يوضح الرسم البياني التيار الناتج عن خلية وقود حيوية باستعمال إلكترون وسيط (الخط الأزرق)، ومن دون استعماله (الخط الأخضر).

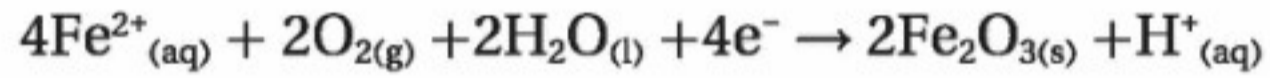


التفكير الناقد

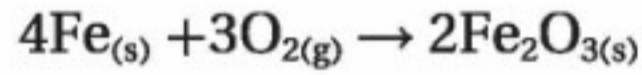
1. استنتج الزمن التقريبي لإدخال الإلكترون الوسيط.
2. حدّد هل أحدث إدخال الإلكترون الوسيط اختلافاً في إنتاج التيار؟ فسر إجابتك.
3. حلّل ما أعلى شدة تيار تم الحصول عليها من الخلية؟



الحديد Fe^{2+} في المحلول إلى أيونات Fe^{3+} عن طريق التفاعل مع الأكسجين الذائب في الماء. وتتحد أيونات Fe^{3+} بالأكسجين لتكوين صدأ غير ذائب من Fe_2O_3 :



وعند جمع المعادلات الثلاث تنتج المعادلة الكلية لتفاعل الخلية لتآكل الحديد:



والصدأ عملية بطيئة؛ لأن قطرات الماء تحتوي على كمية قليلة من الأيونات، لذا فهي محاليل موصلة غير جيدة. أما إذا كان الماء يحتوي على كمية كبيرة من الأيونات - كما في ماء البحر أو المناطق التي ترش فيها الطرق بالملح شتاءً - فإن التآكل يحدث أسرع؛ لأن الماء يصبح محلولاً موصلاً جيداً.

منع التآكل لما كان تآكل السيارات والجسور والسفن وهياكل المباني الفولاذية والعديد من الأشياء الفولاذية يكلف أكثر من 100 بليون دولار من الخسائر سنوياً في الولايات المتحدة، لذا تم ابتكار طرائق عديدة لتقليل هذا التآكل. ومن هذه الطرائق عمل غطاء من الطلاء لعزل الماء والهواء. ونظراً لأن الطلاء يتلف مع الزمن، كالجسر الذي في الشكل 5-16 مثلاً، فإنه يجب إعادة طلائه مرات عديدة.



الشكل 5-16 لما كان التآكل يسبب الكثير من الضرر، فإنه من الأهمية بمكان إيجاد طرائق لمنع الصدأ. والطلاء أو أي غطاء حماية آخر هو أحد طرائق حماية هياكل المباني الفولاذية من التآكل.

تجربة

ملاحظة التآكل

أي الفلزات ستتآكل؟



خطوات العمل



1. اقرأ تعليمات السلامة في المختبر.

2. استعمل ورق الصنفرة لتلميع سطوح أربعة مسامير حديد، وغلف مساميرين بشريط ماغنسيوم، وغلف مساميرين آخرين بقطع من النحاس، وتأكد من إحكام لفّ المسامير حتى لا تنزلق.

3. ضع المسامير في كؤوس منفصلة، وأضف ماءً مقطّراً إلى أحد المسامير الملقوفة بالمغنسيوم وأحد المسامير الملقوفة بالنحاس. وأضف كمية ماء كافية حتى تغمّر المسامير، ثم أضف ماء مالحاً إلى الكأسين الآخرين، وسجل ملاحظاتك عن المسامير في كل كأس.

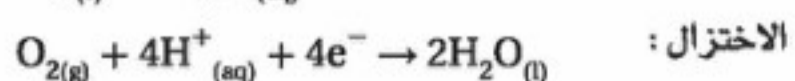
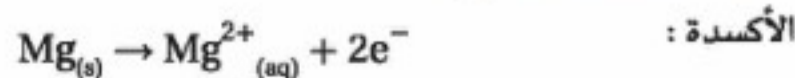
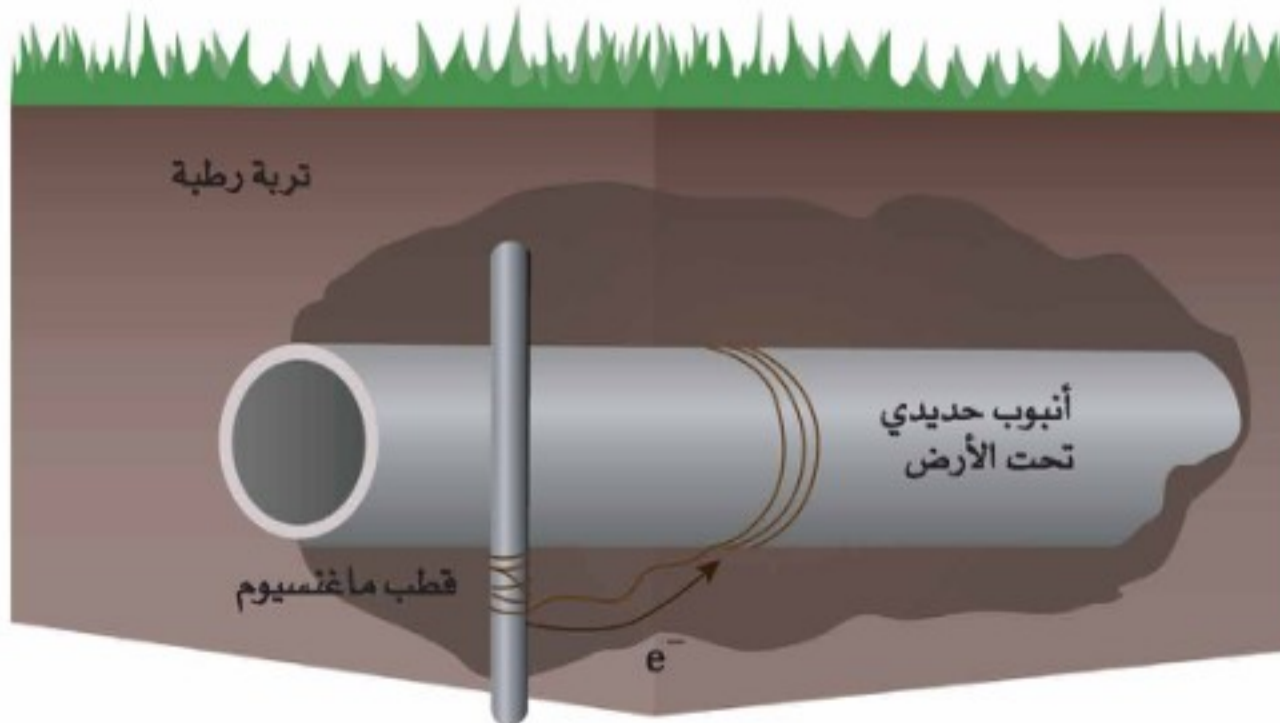
4. اترك الكؤوس في أكثر الأماكن دفئاً خلال الليل، وافحص المسامير والمحاليل في اليوم التالي، وسجل ملاحظاتك.

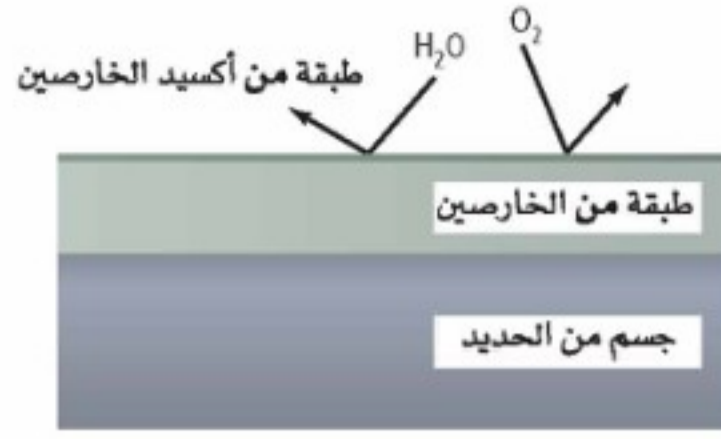
التحليل

1. صف الاختلاف بين المسامير الملقوفة بالنحاس في الماء المقطر والماء المالح بعد تركها خلال الليل.
2. صف الاختلاف بين المسامير الملقوفة بالمغنسيوم في الماء المقطر والماء المالح بعد تركها خلال الليل.
3. فسّر الاختلاف بين المسامير الملقوفة بالنحاس والمسامير الملقوفة بالمغنسيوم.

لما كانت هياكل السفن تتصل بصورة دائمة بالماء المالح، لذا فإن منع التآكل شيء ضروري. وعلى الرغم من إمكانية طلاء الهيكل إلا أن هناك طريقة أخرى تستعمل في تقليل التآكل؛ حيث توصل كتل من الفلز مثل الماغنسيوم أو الألومنيوم أو التيتانيوم بالهيكل الفولاذي، فتتأكسد هذه الكتل أسهل من الحديد، وتصبح الأنود في خلية التآكل، في حين يبقى حديد الهيكل دون تآكل أو أكسدة. وتستعمل التقنية نفسها في حماية أنابيب الحديد المدفونة في الأرض؛ حيث يلف الماغنسيوم بواسطة أسلاك بالأنابيب، فيتآكل الماغنسيوم بدلاً من الأنابيب، كما في الشكل 5-17.

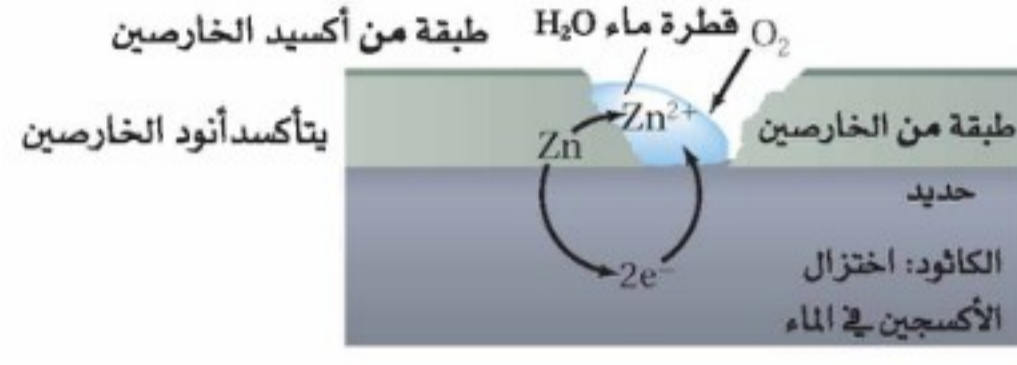
الشكل 5-17 يستعمل الماغنسيوم أو أي فلز نشط آخر لمنع التآكل؛ إذ يتأكسد الماغنسيوم الملقوف حول أنابيب الحديد المدفونة في الأرض أولاً، مما يساعد على منع تآكل الأنابيب.





جسم مجلفن بطبقة خارصين سليمة

تعزل طبقة الخارصين الحديد عن الماء والهواء عن طريق تكوين حاجز من أكسيد الخارصين يصد الماء والأكسجين .



جسم مجلفن بطبقة خارصين مشققة

إذا تشققت طبقة الخارصين يصبح الخارصين هو الأنود، المضحي؛ حيث يتأكسد غطاء الخارصين بدلاً من الحديد

الشكل 5-18 تساعد الجلفنة على منع التآكل بطريقتين.

والطريقة الأخرى لمنع التآكل هي الجلفنة؛ إذ يتم بها تغليف الحديد بفلز أكثر مقاومة للتأكسد. وكمثال على ذلك يتم تغليف الحديد بطبقة من الخارصين؛ إما عن طريق غمس القطعة الحديدية بمصهور الخارصين، وإما بطلاء الجسم بالخارصين كهربائياً. وعلى الرغم من أن الخارصين يتأكسد أسهل من الحديد إلا أنه أحد العناصر التي تحمي نفسها، وتتضمن الألومنيوم والكروم. فعند تعرضها للهواء يتأكسد سطحها مكوناً طبقة رقيقة من أكسيد الفلز تحمي الفلز من التأكسد مرة أخرى. وتحمي الجلفنة الحديد بطريقتين ما دامت طبقة الخارصين سليمة؛ إذ لا تمكن الماء والهواء من الوصول إلى سطح الحديد. ولكن عند تشقق طبقة الخارصين فإنه يقوم بحماية الحديد من التآكل السريع بأن يصبح الخارصين أنود الخلية الجلفانية المتكونة ملاصقة للهواء والماء للحديد والخارصين في الوقت نفسه. ويوضح الشكل 5-18 كيف تعمل طريقتنا الحماية من التآكل.

التقويم 5-2

الخلاصة

15. الفكرة الرئيسية حدد ما الذي يتأكسد؟ وما الذي يختزل في بطارية الخلية الجافة الخارصين والكربون؟ وما الخواص التي تجعل الخلية الجافة القلوية أكثر تطوراً من أنواع البطاريات الجافة الأقدم؟
16. فسر ماذا يحدث عند إعادة شحن البطارية؟
17. صف أنصاف التفاعل التي تحدث في خلية وقود الهيدروجين، واكتب معادلة التفاعل الكلية.
18. صف عمل أنود عندما يستخدم قطباً مضحياً. وفيم يتشابه عمله مع الجلفنة؟
19. فسر لماذا يعد الليثيوم اختياراً جيداً ليكون أنوداً للبطارية؟
20. احسب باستعمال بيانات الجدول 1-5 جهد خلية وقود الهيدروجين-الأكسجين الموضحة في صفحة 57.
21. صمم تجربة استخدم معرفتك بالأحماض في ابتكار طريقة لتحديد ما إذا كان المركب الرصاصي مشحوناً بصورة كاملة أم أن شحنه بدأ ينفد.

- تستخدم البطاريات الأولية مرة واحدة فقط، ولكن يمكن شحن البطاريات الثانوية.
- تُزود البطارية عند شحنها بطاقة كهربائية تعكس اتجاه تفاعل البطارية التلقائي.
- خلايا الوقود بطاريات تكون فيها المادة المتأكسدة وقوداً من مصدر خارجي.
- طرائق الحماية من التآكل هي: الطلاء، أو التغليف بفلز آخر، أو استعمال أنود مضح.



التحليل الكهربائي Electrolysis

الأهداف

الفكرة الرئيسية يؤدي وجود مصدر تيار كهربائي في التحليل الكهربائي إلى حدوث تفاعل غير تلقائي في الخلايا الكهروكيميائية.

الربط مع الحياة لا يتطلب الهبوط بالدراجة الهوائية إلى أسفل التل بذل أي جهد؛ لأنها تهبط بفعل الجاذبية. ولكن الأمر يختلف عند الصعود إلى أعلى التل؛ إذ عليك بذل طاقة كبيرة لقيادة الدراجة.

عكس تفاعلات الأكسدة والاختزال

Reversing Redox Reactions

عندما تولد بطارية تياراً كهربائياً تتدفق الإلكترونات الناتجة عند الأنود من خلال الدائرة الخارجية إلى الكاثود؛ حيث تستعمل في تفاعل الاختزال. والبطاريات الثانوية نوع من البطاريات يمكن إعادة شحنها عن طريق تمرير تيار كهربائي من خلالها في الاتجاه المعاكس. ولمساعدتك على فهم العملية ادرس الخلايا الكهروكيميائية في الشكل 19-5؛ حيث تحتوي الكؤوس التي في الجهة اليسرى على قطعة خارصين في محلول أيونات الخارصين، في حين تحتوي الكؤوس التي في الجهة اليمنى على قطعة نحاس في محلول أيونات النحاس. وتزود إحدى الخلايا الكهروكيميائية المصباح بالكهرباء لإضاءةه عن طريق تفاعل الأكسدة والاختزال التلقائي. وتتدفق الإلكترونات تلقائياً من جهة الخارصين إلى جهة النحاس مولدة تياراً كهربائياً. ويستمر التفاعل حتى تستهلك قطعة الخارصين أو تنفذ أيونات النحاس، وعندئذ يتوقف التفاعل. إلا أنه يمكن تجديد الخلية إذا تم تزويدها بتيار في الاتجاه المعاكس باستعمال مصدر طاقة خارجي، وهو مطلوب؛ لأن التفاعل في الاتجاه العكسي غير تلقائي. وإذا تم تزويد الخلية بطاقة خارجية لفترة زمنية كافية فسوف تعود البطارية إلى قوتها الأصلية تقريباً. ويسمى استعمال الطاقة الكهربائية لإحداث تفاعل كيميائي التحليل الكهربائي. وتسمى الخلية الكهروكيميائية التي يحدث فيها تحليل كهربائي خلية التحليل الكهربائي. فعند إعادة شحن بطارية ثانوية مثلاً فإنها تعمل عمل خلية تحليل كهربائي.

- تصف كيف يمكن عكس تفاعل الأكسدة والاختزال التلقائي في الخلية الكهروكيميائية.
- تقارن التفاعلات المرتبطة مع التحليل الكهربائي لمصهور كلوريد الصوديوم بالتفاعلات المرتبطة مع التحليل الكهربائي لماء البحر.

- تناقش أهمية التحليل الكهربائي في عملية صهر الفلزات وتنقيتها.

مراجعة المفردات

تفاعل الأكسدة والاختزال التفاعل الذي يتضمن فقد واكتساب الإلكترونات.

المفردات الجديدة

التحليل الكهربائي
خلية التحليل الكهربائي



تعمل أكسدة الخارصين في هذه الخلية على تزويد المصباح بالإلكترونات لإضاءته واختزال أيونات النحاس. ويستمر التفاعل التلقائي حتى يستهلك الخارصين.

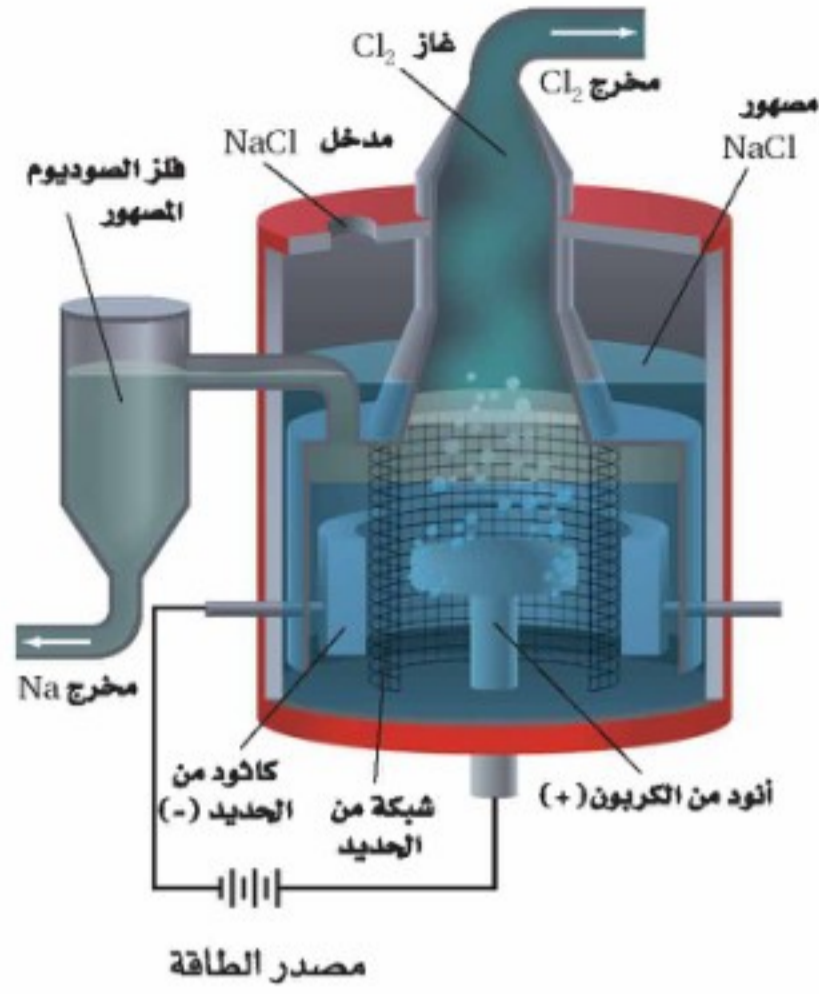


عندما يتم تزويد الخلية بطاقة خارجية ينعكس تدفق الإلكترونات ويحدث التفاعل غير التلقائي، الذي يستعيد الوضع الأصلي للخلية.

الشكل 19-5 يمكن أن تكون خلية الخارصين والنحاس الكهروكيميائية خلية جلفانية أو خلية تحليل كهربائي.

استنتج أي الفلزين يتأكسد، وأيها يختزل في كل من الخليتين؟

تطبيقات التحليل الكهربائي Applications of Electrolysis



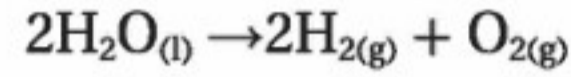
خلية داون Down's cell

الشكل 20-5 في خلية داون، تستخدم الإلكترونات التي يوفرها المولد لاختزال أيونات الصوديوم وعند انتزاع الإلكترونات من الأنود تتأكسد أيونات الكلوريد إلى غاز الكلور.

المطويات

ضمّن مطويتك معلومات من هذا القسم.

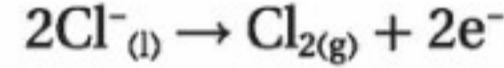
تقوم الخلايا الجلفانية بتحويل الطاقة الكيميائية إلى طاقة كهربائية نتيجة تفاعل الأكسدة والاختزال التلقائي. وتعمل خلايا التحليل الكهربائي على عكس ذلك؛ حيث تستعمل الطاقة الكهربائية لإحداث تفاعل أكسدة واختزال غير تلقائي. ومن الأمثلة الشائعة التحليل الكهربائي للماء؛ حيث يعد هذا التفاعل عكس احتراق الهيدروجين في خلية الوقود:



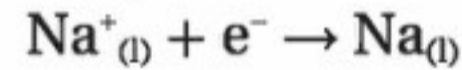
والتحليل الكهربائي للماء هو إحدى طرائق إنتاج الهيدروجين لاستعمالات تجارية.

التحليل الكهربائي لمصهور NaCl لما كان التحليل الكهربائي يستطيع تحليل الماء إلى عناصره، لذا فإنه يمكنه أيضاً أن يحلل مصهور كلوريد الصوديوم إلى فلز الصوديوم وغاز الكلور. وتحدث هذه العملية في حجرة خاصة تعرف بخلية داون Down's cell، كما في الشكل 20-5؛ حيث يتكون الموصل في الخلية من مصهور كلوريد الصوديوم نفسه. تذكر أن المركبات الأيونية يمكنها توصيل التيار الكهربائي فقط عندما تكون أيوناتها حرة الحركة، وذلك عند ذوبانها في الماء أو انصهارها.

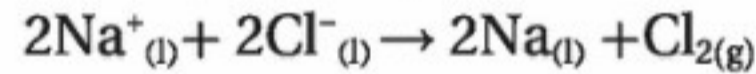
يتأكسد أيون الكلوريد عند الأنود إلى غاز الكلور Cl_2 :



أما عند الكاثود فتختزل أيونات الصوديوم إلى فلز الصوديوم:



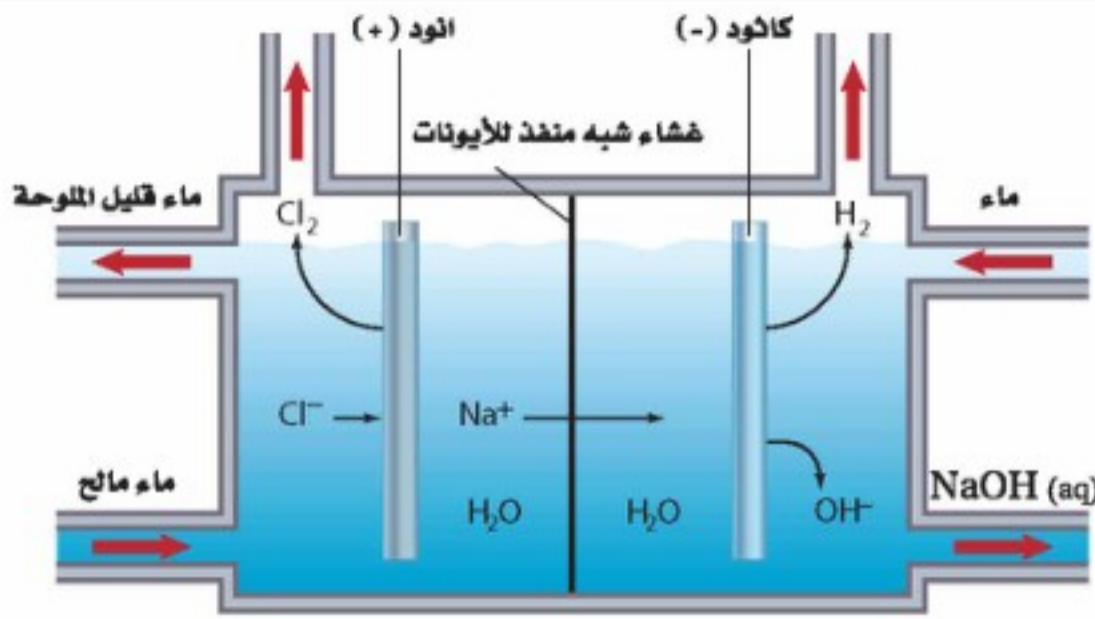
ويكون التفاعل الكلي للخلية كما يلي



ويمكن تقدير أهمية خلية داون بصورة ممتازة اعتماداً على أهمية الدور الذي يؤديه كل من الصوديوم والكلور في حياة كل فرد؛ إذ يستعمل الكلور في جميع أنحاء العالم في تنقية المياه لأغراض الشرب والسباحة. وتحتوي الكثير من منتجات التنظيف التي نستعملها - وخصوصاً المبيضات المنزلية - على مركبات الكلور. كما تُتخذ مركبات الكلور وسيلة لمعالجة الكثير من المنتجات، ومنها الورق والبلاستيك ومبيدات الحشرات والقماش والأصباغ والطلاء التي تحتوي على الكلور أو استعمل في إنتاجها.

ويستعمل الصوديوم في حالته النقية مبرّداً في المفاعلات النووية، وفي مصابيح الصوديوم الغازية المستعملة في الإضاءة الخارجية. أما في مركباته الأيونية فما عليك إلا النظر في قائمة محتويات المنتجات المستهلكة لتجد مدى تنوع أملاح الصوديوم في المنتجات التي نستخدمها ونأكلها.

✓ **ماذا قرأت؟** فسّر لماذا يجب أن يكون كلوريد الصوديوم مصهوراً في خلية داون؟



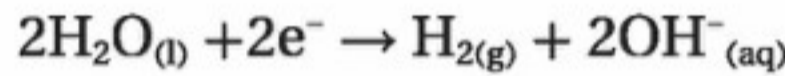
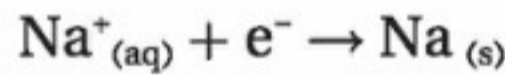
تقوم بعض الصناعات على استعمال غاز الهيدروجين والكلور ومحلول هيدروكسيد الصوديوم التي تنتج عن التحليل الكهربائي لماء البحر.



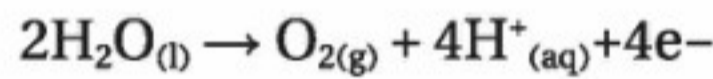
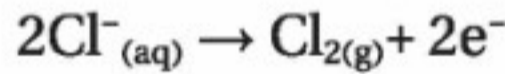
يستعمل الكلور في صناعة بوليمر كلوريد الفينيل الذي يستعمل في صناعة الأنابيب.

الشكل 5-21 لا ينتج الصوديوم عن التحليل الكهربائي لماء البحر؛ لأن جزيئات الماء لديها ميل للاختزال أكثر من الصوديوم.

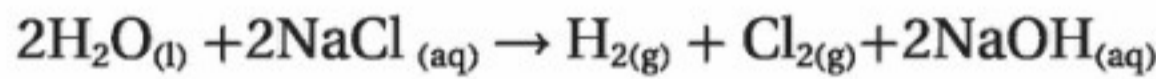
التحليل الكهربائي لماء البحر يتم تحليل ماء البحر - وهو محلول مائي لكلوريد الصوديوم - بواسطة التحليل الكهربائي أيضاً، ويوضح الشكل 5-21 خلية تحليل كهربائي نموذجية، ونواتج التحليل الكهربائي؛ حيث يوجد احتمال لحدوث تفاعلين عند الكاثود، هما: اختزال أيونات الصوديوم، أو الهيدروجين في جزيئات الماء.



إلا أن اختزال أيونات الصوديوم Na^+ لا يحدث؛ بسبب أن اختزال أيونات الهيدروجين في الماء أسهل حدوثاً، ومن ثم يتم الاختزال التفضيلي. وكذلك هناك احتمال لحدوث تفاعلين عند الأنود، هما تأكسد أيونات الكلوريد، أو تأكسد الأكسجين في جزيئات الماء.



إلا أن تأكسد أيونات الهيدروكسيد لا يحدث؛ بسبب أن تأكسد أيونات الكلوريد أسهل حدوثاً، لذلك يحدث تفاعل الأكسدة للأكسجين في جزيئات الماء. أما التفاعل الكلي للخلية فهو على النحو الآتي:



وتكون النواتج الثلاثة جميعها مواد ذات أهمية تجارية.

✓ ماذا قرأت؟ حدد المواد التي تأكسدت والتي اختزلت في التحليل الكهربائي لماء البحر. **إنتاج الألومنيوم** كان فلز الألومنيوم حتى أواخر القرن التاسع عشر ذا قيمة أكثر من الذهب؛ إذ لم يكن أحد يعرف كيف يُنقى بكميات كبيرة. قام تشارلز مارتن هول Charles Martin Hall وهو في سن 22 عاماً (1863-1914م) عام 1886م بتطوير عملية إنتاج الألومنيوم بالتحليل الكهربائي؛ حيث استعمل الكير (آلة الحداد) في الحصول على الحرارة، والبطاريات المنزلية في الحصول على الكهرباء، واتخذ من المقلاة أقطاباً. وفي الوقت نفسه اكتشف أحد طلبة لوتشاتليه Lechatelier وهو هيروليت T. Heroult البالغ من العمر 22 عاماً أيضاً (1863-1914م) العملية نفسها. لذا تسمى هذه العملية هول-هيروليت،

المفردات

الاستعمال العلمي مقابل

الاستعمال الشائع

يختزل Reduce:

الاستعمال العلمي: تقليل عدد

التأكسد بإضافة إلكترونات.

يختزل الخارصين أيونات النحاس

II إلى ذرات النحاس بفقدان

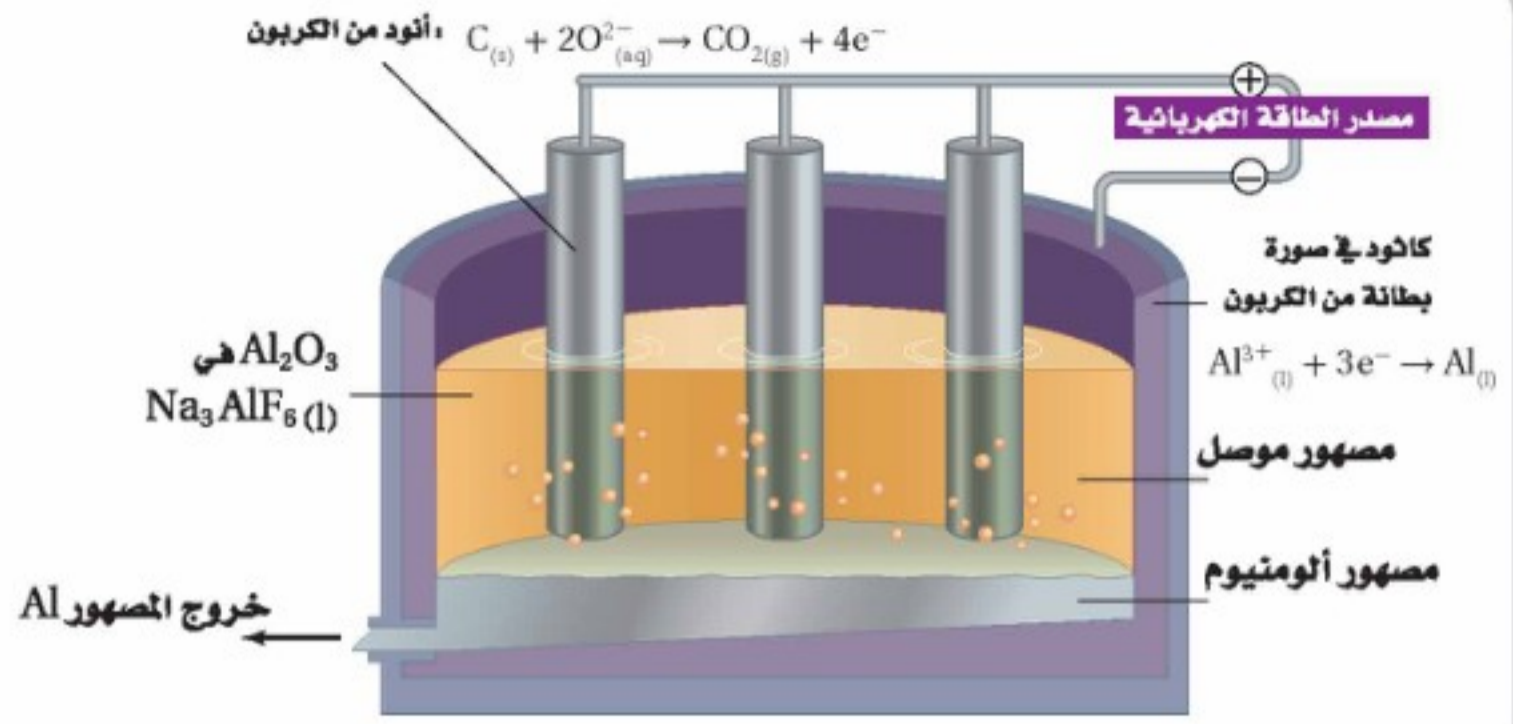
إلكترونين.

الاستعمال الشائع: تقليل الحجم

أو الكمية أو البعد أو العدد.....

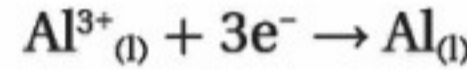


يوفر كل طن يعاد تدويره من الألومنيوم كميات كبيرة من الطاقة الكهربائية التي تستعمل في إنتاج ألومنيوم جديد من خاماته.

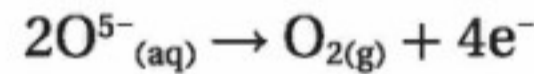


الشكل 22-5 تتم عملية هول - هيروليت عند درجة 1000°C في مصهر مشابه لهذا . ويستعمل الجرافيت أنودًا وكاثودًا . وتتم إضافة الألومنيوم المعاد تدويره إلى الخلية مع الألومنيوم لتساعد على خفض درجة الانصهار.

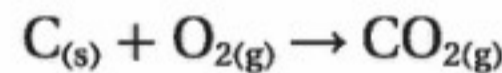
وهي موضحة في الشكل 22-5. يتم الحصول على فلز الألومنيوم في النموذج الحديث لطريقة هول-هيروليت من التحليل الكهربائي لأكسيد الألومنيوم المستخلص من خام البوكسيت $\text{Al}_2\text{O}_3 \cdot 2\text{H}_2\text{O}$ ؛ حيث يذوب أكسيد الألومنيوم عند 1000°C في مصهور الكريوليت الصناعي Na_3AlF_6 الذي يعد مركبًا آخر للألومنيوم؛ حيث تُغطى الخلية من الداخل بطبقة من الجرافيت لتعمل عمل كاثود للتفاعل، كما في الشكل 22-5. وهناك مجموعة أخرى من أصابع الجرافيت تُغمس في المصهور وتعمل عمل الأنود، ومن ثم يحدث التفاعل الآتي عند الكاثود:



يستقر الألومنيوم المصهور في قاع الخلية، ويسحب بصورة دورية. وتتأكسد أيونات الأكسيد عند الأنود في نصف التفاعل الآتي:



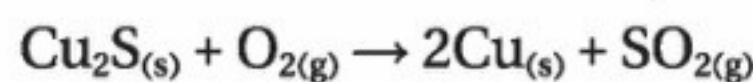
لما كانت درجات الحرارة عالية، لذا فإن الأكسجين الناتج يتفاعل مع كربون الأنود لتكوين ثاني أكسيد الكربون:



تستخدم عملية هول-هيروليت كميات ضخمة من الطاقة الكهربائية؛ لذا يتم إنتاج الألومنيوم في مصانع قريبة من محطات طاقة كهربائية؛ حيث تقل تكلفة الطاقة الكهربائية. والكمية الهائلة من الكهرباء التي يتطلبها إنتاج الألومنيوم من الخام هي السبب الأولي لإعادة تدوير الألومنيوم، الذي كان قد حُلل كهربائيًا من قبل، لذا فالطاقة الوحيدة اللازمة لجعله قابلاً للاستعمال هي الحرارة التي يتطلبها صهره في الفرن.

✓ **ماذا قرأت؟** فسر يجب استبدال قضبان الجرافيت (الأنود) باستمرار.

تنقية الخامات يستعمل التحليل الكهربائي أيضًا في تنقية الفلزات، ومنها النحاس. ويستخرج معظم النحاس على شكل خامات الكالكوبرايت CuFeS_2 والكالكوسايت Cu_2S والملاكايت $\text{Cu}_2\text{CO}_3(\text{OH})_2$. وتعد الكبريتيدات أكثر توافرًا، وتنتج فلز النحاس عند تسخينها بقوة في وجود الأكسجين.



ويحتوي النحاس المستخلص من هذه العملية على الكثير من الشوائب، ومن ثم يلزم تنقيته. لذا يصب مصهور النحاس في قوالب كبيرة وسميكة تستعمل مصاعد في خلية تحليل كهربائي تحتوي على محلول كبريتات النحاس II. أما كاثود الخلية فهو شريحة رقيقة من النحاس النقي. وتتأكسد ذرات النحاس غير النقي على الأنود خلال مرور التيار الكهربائي في الخلية إلى أيونات النحاس II. وتنتقل أيونات النحاس خلال المحلول إلى الكاثود؛ حيث يتم اختزالها إلى ذرات النحاس مرة أخرى، وتصبح هذه الذرات جزءاً من الكاثود، في حين ترسب الشوائب في قاع الخلية.

الطلاء بالكهرباء يمكن طلاء الأشياء كهربائياً بفلز مثل الفضة بطريقة تشبه طريقة تنقية النحاس؛ حيث يوصل الجسم المراد طلاؤه بالفضة بكاثود خلية تحليل كهربائي، ويكون الأنود عبارة عن قطعة فضة نقية، كما في الشكل 5-23، فتتأكسد الفضة عند الأنود إلى أيونات الفضة عند انتزاع الإلكترونات منها بواسطة مصدر الطاقة. وتختزل عند الكاثود أيونات الفضة إلى فلز الفضة بواسطة إلكترونات من مصدر الطاقة الخارجي، فتكوّن الفضة طبقة رقيقة تغلف الجسم. لذا يجب مراقبة شدة التيار المار في الخلية والتحكم فيها للحصول على طبقة تغليف فلزية ناعمة ومتساوية.

وتستعمل فلزات أخرى للطلاء الكهربائي. ولعل المجوهرات المطلية بالذهب تكون مألوفة لديك، وقد تُعجب بسيارة طليت أجزاءها الفولاذية - مثل ماصات الصدمات - لتكون مقاومة للتآكل؛ حيث تطلّى بالنيكل أولاً ثم بالكروم.



الشكل 5-23 هناك حاجة إلى الطاقة لتأكسد الفضة على الأنود واختزالها على الكاثود. وفي خلية التحليل الكهربائي المستعملة للطلاء بالفضة، يوضع الجسم أو الشيء المراد طلاؤه على الكاثود؛ حيث يتم اختزال أيونات الفضة في المحلول إلى ذرات الفضة، وترسب على الجسم.

التقويم 5-3

الخلاصة

- يسبب مصدر خارجي للطاقة في خلية التحليل الكهربائي حدوث تفاعل أكسدة واختزال غير تلقائي.
- يُنتج التحليل الكهربائي لمصهور كلوريد الصوديوم فلز الصوديوم وغاز الكلور، في حين ينتج التحليل الكهربائي لماء البحر غاز الكلور والهيدروجين وهيدروكسيد الصوديوم.
- يتم تنقية الفلزات ومنها النحاس في خلايا التحليل الكهربائي.
- يستعمل التحليل الكهربائي في طلاء الأجسام والأشياء وإنتاج الألومنيوم النقي من خامه.

22. الفكرة الرئيسية عرّف التحليل الكهربائي، واربطه مع تلقائية تفاعل الأكسدة والاختزال.
23. فسّر اختلاف نواتج التحليل الكهربائي لكل من مصهور كلوريد الصوديوم وماء البحر.
24. صف كيف تتم تنقية النحاس المستخرج من مصهور خامه بالتحليل الكهربائي؟
25. فسّر أهمية إعادة تدوير الألومنيوم، بالرجوع إلى عملية هول-هيروليت.
26. صف الأنود والكاثود في خلية تحليل كهربائي يستعمل فيها الذهب لطلاء الأشياء والأجسام.
27. فسّر لماذا يحتاج إنتاج كيلوجرام واحد من أيونات الفضة بواسطة التحليل الكهربائي إلى طاقة كهربائية أقل من إنتاج كيلوجرام واحد من أيونات الألومنيوم؟
28. احسب جهد خلية داون باستعمال الجدول 1-5، وهل يجب أن يكون هذا الجهد موجباً أو سالباً؟
29. لخص اكتب فقرة تتعلق بكل هدف من الأهداف الثلاثة للقسم 3-5 بلغتك الخاصة.

كيف تعمل الأشياء؟

منظم ضربات القلب، The Pacemaker

يتكون القلب من أنسجة عضلية تنقبض وتنبسط باستمرار، وينتج هذا الخفقان عن نبضات كهربائية تتحرك على طول مسارات تتخلل القلب. وتولد مجموعة من الخلايا المتخصصة في الجدار العلوي من الأذين الأيمن للقلب - الحجرة العلوية - نبضات كهربائية، وإذا فشلت هذه الخلايا في العمل أو تعطلت طرائق النبضات الكهربائية فإن القلب لا يخفق بصورة طبيعية. ومنظم ضربات القلب جهاز كهربائي يراقب ضربات القلب غير الاعتيادية ويصححها. فكيف يعمل هذا الجهاز؟

1 **منظم ضربات القلب** جهاز يحتوي على بطارية وهوائي ودوائر حاسوبية، ويرتبط به سلك يوصل بقلب المريض. يزرع الجهاز تحت الجلد أسفل عظمة الترقوة. يتطلب استبدال الجهاز - نتيجة نفاذ البطارية أو عطل في الدوائر - عملية جراحية.

2 **الأسلاك معزولة**، تحمل الإشارات الكهربائية بين القلب وجهاز تنظيم ضربات القلب، وتزرع في الأوعية الدموية، ومن ثم في حجرة القلب. ويستعمل الجهاز سلكاً أو سلكين أو ثلاثة؛ كل منها في حجرة مختلفة.



سلك توصيل

3 **البطارية** يستعمل في معظم منظمات ضربات القلب بطاريات الليثيوم واليود؛ حيث يكون الليثيوم هو الأنود، واليود هو الكاثود، وهذه البطاريات مثالية لهذه الأجهزة؛ لأن عمرها طويل (5-8) سنوات، كما أنها تنفذ تدريجياً، ولا تنتج غازات.

4 **آلية عمل الجهاز** ترسل أطراف الأسلاك الموصلة في أنسجة القلب نبضات كهربائية وفحص ضربات القلب المنتظمة. يستطيع الجهاز تحفيز ضربات القلب البطيئة. ويصحح الضربات غير المنتظمة أو ينشط ضربات القلب المتوقف.

الكتابة في الكيمياء

لخص منظم ضربات القلب هو مثال على تقدم التكنولوجيا الطبية. اكتب فقرة عن طريقة غيرت فيها التكنولوجيا الطبية حياتك أو حياة من تعرفه. كيف يمكن للتكنولوجيا الطبية أن تغير المستقبل؟

مختبر الكيمياء

قياس جهد الخلية الجلفانية

وإذا حصلت على قراءة مقياس فرق الجهد بالسالب فاعكس التوصيل.

5. سجّل في جدول البيانات أي الفلزات أنود، وأيها كاثود في كل خلية. فالطرف الأسود لمقياس فرق الجهد يوصل بالأنود، في حين يوصل الطرف الأحمر لمقياس فرق الجهد بالكاثود.

6. سجّل فرق الجهد لكل خلية.

7. التنظيف والتخلص من النفايات استعمل الملاقط لإزالة القطع الفلزية من طبق التفاعلات، ونظفها بورق الزجاج أو الصوف، ثم اغسلها بالماء.

التحليل والاستنتاج

1. طبق اكتب في جدول البيانات معادلات أنصاف التفاعل التي تحدث عند الأنود والكاثود في كل خلية جلفانية، ثم ابحث عن جهود أنصاف التفاعل في الجدول 1-5، وسجلها في الجدول.

2. احسب الجهد النظري لكل خلية جلفانية وسجله.

3. توقع ترتيب الفلزات، بدءاً من أكثرها نشاطاً إلى أقلها، اعتماداً على بياناتك.

4. تحليل الخطأ احسب النسبة المئوية للخطأ، ولماذا تكون هذه النسبة مرتفعة في بعض الخلايا ومنخفضة في بعضها الآخر؟

الاستقصاء

صمّم تجربة لتقليل النسبة المئوية للخطأ التي نوقشت في السؤال 4.

الخلفية النظرية عند توصيل نصفي خلية ينتج فرق جهد يمكن قياسه بالفولتметр.

السؤال كيف يقارن الجهد المقيس بالجهد المحسوب للخلية الجلفانية؟

المواد والأدوات اللازمة

- قطع فلزية من النحاس والألومنيوم والخارصين والماغنسيوم قياسها (0.6 cm × 1.3 cm) تقريباً
- 1M نترات النحاس II
- 1M نترات الألومنيوم
- 1M نترات الخارصين
- 1M نترات الماغنسيوم
- طبق تفاعلات بلاستيكي ذو 24 فجوة
- عدد 5 ماصات
- مقياس فرق الجهد (فولتметр)
- 1M نترات البوتاسيوم
- ملاقط
- صوف أو ورق زجاج
- جدول جهود الاختزال القياسية



خطوات العمل

1. اقرأ تعليمات السلامة في المختبر.
2. خَطِّط كيف تقوم بترتيب الخلايا الجلفانية باستعمال مجموع الفلزات الأربعة في طبق التفاعلات البلاستيكي (24 فجوة). دع معلمك يوافق على الخطة.
3. انقع قطعاً من ورق الترشيح في محلول نترات البوتاسيوم لا تخاذاً قنطرة ملحية، وثبتها بملاقط .
4. ركب الخلايا باستعمال الفلزات الأربعة و 1M من محاليلها، وضع الفلزات في التجويف الذي يحتوي على المحلول المناسب. ضع الخارصين مثلاً في التجويف الذي يحتوي على نترات الخارصين، واستعمل قنطرة ملحية مختلفة لكل خلية، ثم اربط مقياس فرق الجهد بالفلزات.

يمكن تحويل الطاقة الكيميائية إلى طاقة كهربائية، كما يمكن تحويل الطاقة الكهربائية إلى طاقة كيميائية.

الفكرة العامة

5-1 الخلايا الجلفانية

الفكرة الرئيسية

تحدث الأكسدة في الخلايا الجلفانية عند الأنود (المصعد) منتجة إلكترونات تتدفق نحو الكاثود (المهبط)، حيث يحدث الاختزال.

المفردات

- القنطرة الملحية
- الخلية الكهروكيميائية
- الخلية الجلفانية
- نصف الخلية
- الأنود
- الكاثود
- جهد الاختزال
- قطب الهيدروجين القياسي

المفاهيم الرئيسية

- يحدث تفاعل الأكسدة والاختزال في الخلايا الجلفانية على أقطاب منفصلة بعضها عن بعض.
- الجهد القياسي لنصف خلية التفاعل هو جهد التيار الناتج عند اقترانها بقطب الهيدروجين القياسي تحت الظروف القياسية.
- يكون جهد اختزال نصف خلية سالبًا إذا حدث لها تأكسد عند توصيلها بقطب الهيدروجين القياسي، ويكون لها جهد اختزال موجب إذا حدث لها اختزال عند توصيلها بقطب الهيدروجين القياسي.
- الجهد القياسي لخلية جلفانية هو الفرق بين جهود الاختزال لأنصاف الخلايا:

$$E^0_{\text{cell}} = E^0_{\text{cathode}} - E^0_{\text{anode}}$$

5-2 البطاريات

الفكرة الرئيسية

البطاريات خلايا جلفانية تستعمل تفاعلات تلقائية لإنتاج الطاقة لأغراض متعددة.

المفردات

- البطارية
- الخلية الجافة
- البطارية الأولية
- البطارية الثانوية
- خلية الوقود
- التآكل
- الجلفنة

المفاهيم الرئيسية

- تستعمل البطارية الأولية مرة واحدة، في حين يمكن شحن البطارية الثانوية.
- يتم تزويد البطارية عند شحنها بطاقة كهربائية تعكس اتجاه تفاعل البطارية التلقائي.
- تحصل بطاريات خلايا الوقود على المادة المتأكسدة من مصدر خارجي.
- طرائق الحماية من التآكل هي: الطلاء، والتغليف بفلز آخر (الجلفنة)، واستعمال الأنود المضحى.

5-3 التحليل الكهربائي

الفكرة الرئيسية

يؤدي وجود مصدر تيار كهربائي في التحليل الكهربائي إلى حدوث تفاعل غير تلقائي في الخلايا الكهروكيميائية.

المفردات

- التحليل الكهربائي
- خلية التحليل الكهربائي

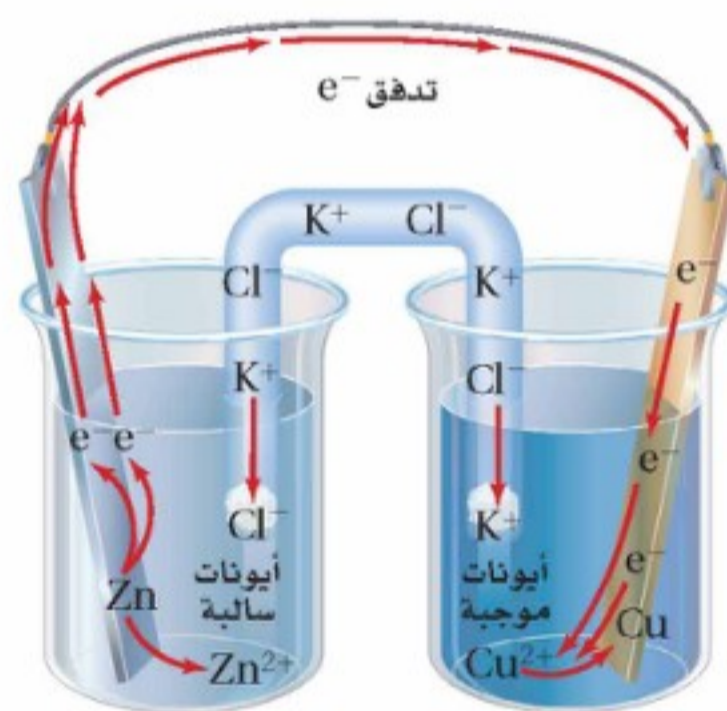
المفاهيم الرئيسية

- يؤدي وجود مصدر خارجي للتيار في خلية التحليل الكهربائي إلى حدوث تفاعل أكسدة واختزال غير تلقائي.
- ينتج عن التحليل الكهربائي لمصهور كلوريد الصوديوم فلز الصوديوم وغاز الكلور، في حين ينتج عن التحليل الكهربائي لماء البحر غاز الكلور والهيدروجين وهيدروكسيد الصوديوم.
- تُنقى الفلزات ومنها النحاس بواسطة خلايا التحليل الكهربائي.
- يستعمل التحليل الكهربائي في طلاء الأجسام والأشياء وإنتاج الألومنيوم النقي من خامه.

5-1

إتقان المفاهيم

30. ما الخواص التي تسمح باستعمال تفاعلات الأكسدة والاختزال في توليد تيار كهربائي؟
31. صف العملية التي تنتج الإلكترونات في الخلية الجلفانية خارصين - نحاس.
32. ما وظيفة القنطرة الملحية في الخلية الجلفانية؟
33. ما المعلومات اللازمة لتحديد الجهد القياسي للخلية الجلفانية؟
34. في الخلية الجلفانية الممثلة بالرموز الآتية:
 $Al|Al^{3+}_{(IM)}||Cu^{2+}_{(IM)}|Cu$
 ما الذي يتأكسد، وما الذي يختزل عندما يمر التيار في الخلية؟
35. عند أي ظروف يتم قياس جهد الاختزال القياسي؟

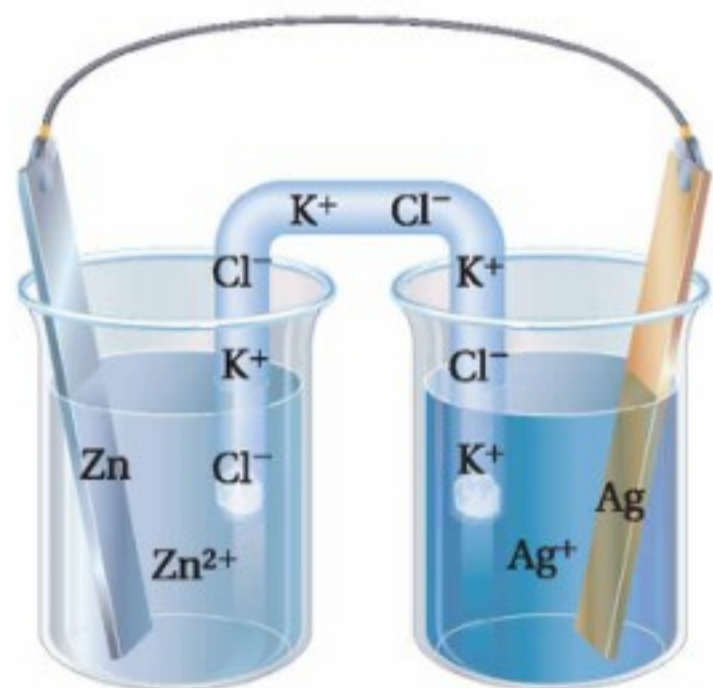


الشكل 5-24

36. حدّد كلاً من الفلز الذي يتأكسد والكاثود في الشكل 5-24.
37. تملأ القنطرة الملحية بـ KNO_3 . فسر لماذا يُعد من الضروري أن تتحرك أيونات البوتاسيوم عبر القنطرة الملحية إلى الكاثود؟
38. تذكّر أن العامل المختزل هو المادة التي تتأكسد، وأن العامل المؤكسد هو المادة التي تختزل. استعمل الجدول 5-1 لاختيار العامل المؤكسد الذي سيحوّل Au^{3+} إلى Au ولا يحول Co^{2+} إلى Co^{3+} .

إتقان حل المسائل

39. استعمل الجدول 5-1 في كتابة رمز الخلية القياسية لكل نصف خلية مما يأتي وموصلة بقطب الهيدروجين القياسي.
- a. $Zn|Zn^{2+}_{(IM)}$.c. $Cu|Cu^{2+}_{(IM)}$
- b. $Hg|Hg^{2+}_{(IM)}$.d. $Al|Al^{3+}_{(IM)}$
40. اكتب معادلة كيميائية موزونة لكل ترميز يمثل الخلايا القياسية الآتية:
- a. $I^- | I_{2(IM)} || Fe^{3+}_{(IM)} | Fe^{2+}$
- b. $Sn | Sn^{2+}_{(IM)} || Ag^+_{(IM)} | Ag$
- c. $Zn | Zn^{2+}_{(IM)} || Cd^{2+}_{(IM)} | Cd$



الشكل 5-25

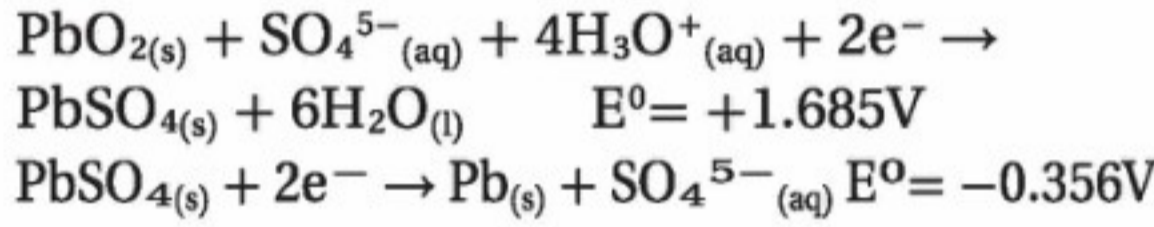
41. يوضح الشكل 5-25 خلية جلفانية تتكون من قطعة خارصين في 1.0 M من محلول نترات الخارصين، وقطعة فضة في 1.0 M من محلول نترات الفضة. استعمل الشكل والجدول 5-1 في الإجابة عن الأسئلة الآتية:
- a. حدّد الأنود.
- b. حدّد الكاثود.
- c. أين تحدث الأكسدة؟
- e. أين يحدث الاختزال؟
- f. ما اتجاه مرور التيار خلال أسلاك التوصيل؟
- g. ما اتجاه مرور الأيونات الموجبة خلال القنطرة الملحية؟
- h. ما جهد الخلية عند $25^\circ C$ و 1 atm ؟

50. الصوف حزمة من الشعيرات الفولاذية المصنوعة من الفولاذ، وهي سبيكة من الحديد والكربون. ما أفضل طريقة لتخزين سلك المواعين المستعمل في غسل الأواني؟
- تخزينه في الماء.
 - تخزينه في الهواء الطلق.
 - تخزينه في وعاء التجفيف.

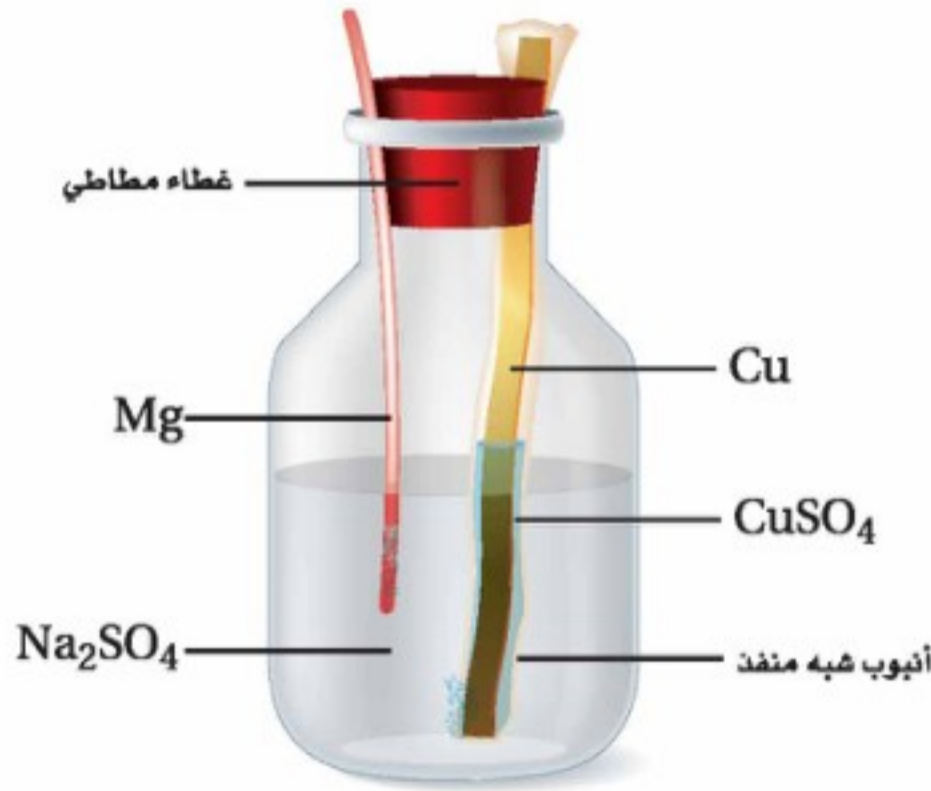
51. الحماية من التآكل اذكر ثلاث طرائق لحماية الفلز من التآكل؟

إتقان حل المسائل

52. فيما يأتي أنصاف تفاعل بطاريات تخزين المراكم الرصاصية:



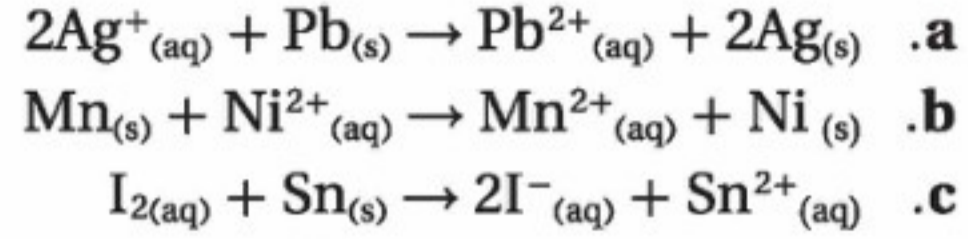
ما جهد الخلية القياسي لخلية واحدة في بطارية السيارة؟



الشكل 5-26

53. التركيب في الشكل 5-26 يعمل عمل بطارية.
- حدّد التفاعل الذي يحدث عند قطعة النحاس.
 - حدّد التفاعل الذي يحدث عند سلك الماغنسيوم.
 - حدّد الأنود.
 - حدّد الكاثود.
 - احسب جهد الخلية القياسي لهذه البطارية.

42. بالرجوع إلى الجدول 1-5، احسب جهد الخلية لكل من الخلايا الجلفانية الآتية:



5-2

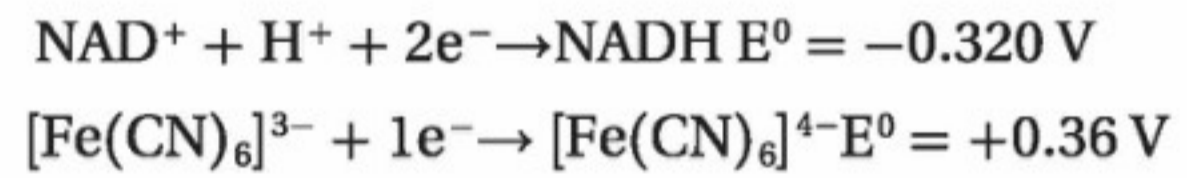
إتقان المفاهيم

43. أي جزء في خلية الخارصين والكربون الجافة يمثل الأنود؟ وما التفاعل الذي يحدث عنده؟

44. كيف تختلف البطاريات الأولية عن الثانوية؟

45. بطارية الرصاص الحمضية ما المادة التي تختزل في بطاريات تخزين المراكم الرصاصية؟ وما المادة التي تتأكسد؟ وما المواد التي تنتج في كل تفاعل؟

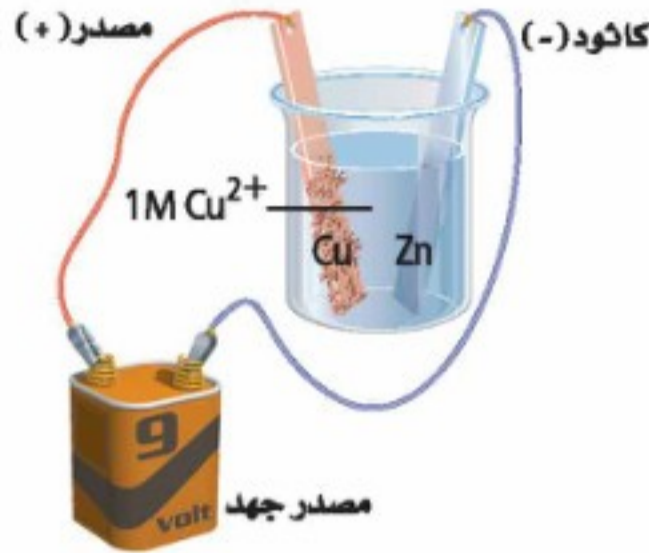
46. خلية الوقود الحيوي يختزل Fe^{3+} عند كاثود خلية الوقود الحيوي في بوتاسيوم سداسي سيانيد الحديد III ($\text{K}_3[\text{Fe}(\text{CN})_6]$) إلى Fe^{2+} في بوتاسيوم سداسي سيانيد الحديد II ($\text{K}_4[\text{Fe}(\text{CN})_6]$). ويختزل عند الأنود نيكوتين أميد - أدنين - ثنائي النيوكليوتيد (NADH) الذي يتأكسد إلى NAD^+ . استعمل جهود الاختزال القياسية الآتية لتحديد جهد الخلية:



47. خلايا الوقود اذكر طريقتين تختلف فيهما خلية الوقود عن البطارية العادية.

48. الجلفنة ما الجلفنة؟ وكيف تحمي الجلفنة الحديد من التآكل؟

49. البطاريات فسّر لماذا لا تنتج بطاريات المراكم الرصاصية التيار عند انخفاض تركيز H_2SO_4 ؟



الشكل 5-28

62. اعتمادًا على الشكل 5-28، أجب عن الأسئلة الآتية:
- a. أي الأقطاب يزداد حجمه؟ اكتب معادلة التفاعل الذي يحدث عند هذا القطب.
- b. أي الأقطاب يقل حجمه؟ اكتب معادلة التفاعل الذي يحدث عند هذا القطب.
63. مستعينًا بالشكل 5-28، فسر ماذا يحدث لأيونات النحاس في المحلول؟

مراجعة عامة

64. لماذا تتدفق الإلكترونات من قطب إلى آخر في الخلية الجلفانية؟
65. إنتاج الألمنيوم ما المادة التي يتم تحليلها كهربائيًا في العملية الصناعية لإنتاج فلز الألمنيوم؟
66. اكتب أنصاف تفاعل الأكسدة والاختزال للخلية الجلفانية فضة-كروم، وحدد الأنود والكاثود واتجاه تدفق الإلكترونات.
67. حدّد ما إذا كانت تفاعلات الأكسدة والاختزال الآتية تلقائية أو غير تلقائية:

- a. $Mn^{2+}_{(aq)} + 2Br^{-}_{(aq)} \rightarrow Br_2(l) + Mn(s)$
- b. $2Fe^{2+}_{(aq)} + Sn^{2+}_{(aq)} \rightarrow 2Fe^{3+}_{(aq)} + Sn(s)$
- c. $Ni^{2+}_{(aq)} + Mg(s) \rightarrow Mg^{2+}_{(aq)} + Ni(s)$
- d. $Pb^{2+}_{(aq)} + 2Cu^{+}_{(aq)} \rightarrow Pb(s) + 2Cu^{2+}_{(aq)}$

54. إذا قمت بتصميم بطارية تستعمل نصف خلية تتكون من Sn و Sn^{2+} ، ونصف خلية أخرى تتكون من Cu و Cu^{2+} ، مع العلم أن قطب النحاس هو الكاثود وقطب القصدير هو الأنود. فارسم البطارية، ثم اكتب أنصاف التفاعل التي تحدث في كل نصف خلية. ما أكبر جهد يمكن أن تنتجه هذه الخلية؟

5-3

إتقان المفاهيم

55. كيف يمكن عكس تفاعل الأكسدة والاختزال التلقائي لخلية جلفانية؟
56. أين يحدث تفاعل الأكسدة في خلية التحليل الكهربائي؟
57. خلية داون ما التفاعل الذي يحدث عند الكاثود في أثناء التحليل الكهربائي لمصهور كلوريد الصوديوم؟
58. صناعة فسر لماذا يستعمل التحليل الكهربائي لماء البحر في جميع أرجاء العالم بكميات كبيرة؟
59. إعادة تدوير فسر كيف تحفظ عملية إعادة تدوير الألومنيوم الطاقة؟
60. صف ماذا يحدث عند الأنود والكاثود في التحليل الكهربائي لمحلول KI؟



الشكل 5-27

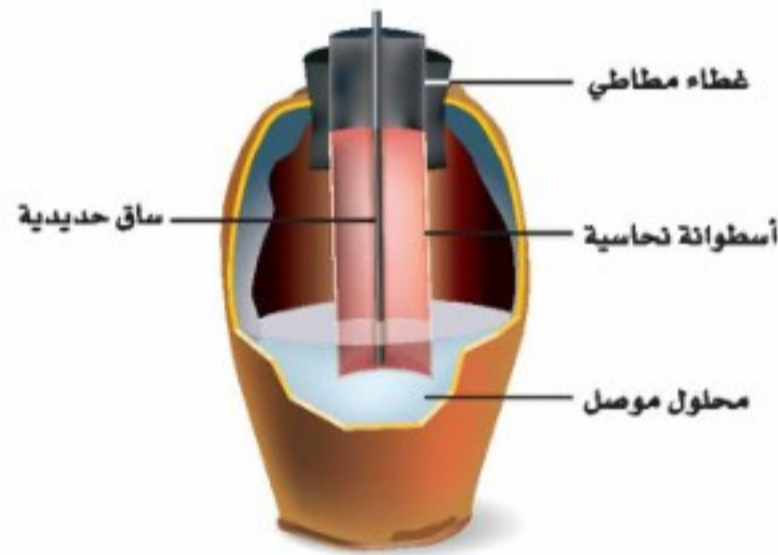
61. الطلاء بالكهرباء يوضح الشكل 5-27 مفتاحًا يُطلى كهربائيًا بالنحاس في خلية تحليل كهربائي. فأين تحدث الأكسدة؟ فسر إجابتك.

فما مقدار جهد قطب الهيدروجين إذا كان قطب النحاس هو القطب القياسي؟ وكيف يمكن أن تتغير العلاقات بين جهود الاختزال القياسية؟

76. طبق افتراض أن لديك خلية جلفانية يتكون أحد أنصافها من قطعة من القصدير مغموسة في محلول من أيونات القصدير II.

- a. كيف تعرف من قياس جهد الخلية إذا كانت شريحة القصدير تمثل الكاثود أو الأنود؟
b. كيف تعرف عن طريق الملاحظة البسيطة ما إذا كانت شريحة القصدير تمثل الكاثود أو الأنود؟

77. ضع فرضية لما كان جهد نصف الخلية يتغير بتغير تركيز المتفاعلات والنواتج فإن الجهود القياسية تقاس عند تركيز 1M. كما أن الحفاظ على ضغط 1atm له أهمية خاصة في أنصاف الخلايا التي تحتوي على غازات بوصفها متفاعلات أو نواتج. فلماذا يعد ضغط الغاز نقطة حرجة في هذه الخلايا؟



الشكل 5-30

78. حُلِّل تم اكتشاف وعاء فخاري سنة 1938م بالقرب من بغداد. وكان هذا الوعاء القديم يحتوي على قضيب من الحديد محاط بأسطوانة من النحاس، كما في الشكل 5-30. وعند ملء هذا الوعاء بمحلول موصل كالخل فإنه قد يعمل عمل بطارية.

- a. حدّد الكاثود.
b. حدّد الأنود.
c. احسب جهد الخلية القياسي لهذه البطارية.

68. حدّد جهد الخلية المتكونة من كل نصف خلية مما يأتي مرتبطة مع نصف خلية $Ag|Ag^+$:



69. التآكل فسر لماذا يعد وجود الماء ضرورياً لحدوث تآكل الحديد؟

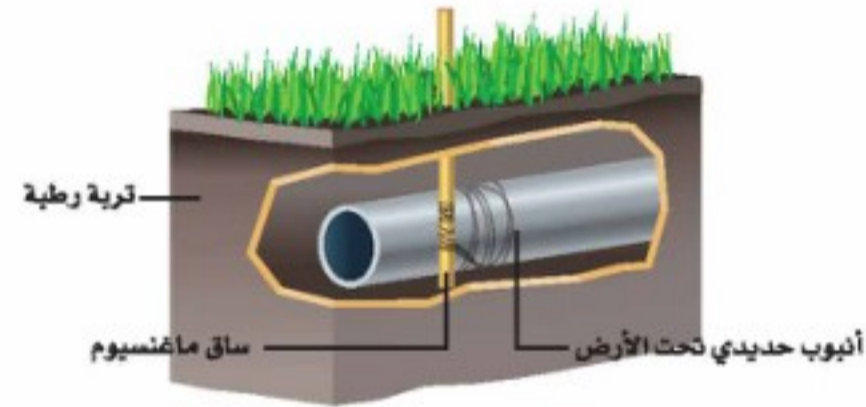
70. السفر عبر الفضاء تستخدم السفن الفضائية خلايا الوقود H_2/O_2 في إنتاج الكهرباء.

- a. ما التفاعل الذي يحدث عند الأنود والكاثود؟
b. ما جهد الخلية القياسي لخلية الوقود؟

71. خلايا الوقود فسر الاختلاف بين تأكسد الهيدروجين في خلية الوقود وتأكسده عند احتراقه في الهواء.

72. تنقية النحاس عند تنقية النحاس بالتحليل الكهربائي، ما العوامل التي تحدد أي قطعة نحاس هي الأنود، وأيها الكاثود؟

73. بطاريات التخزين تسمى المراكم الرصاصية وغيرها من البطاريات التي يمكن إعادة شحنها أحياناً بطاريات التخزين، فما الذي يخزن في هذه البطاريات؟



الشكل 5-29

74. منع التآكل يوضح الشكل 5-29 كيف يتم حماية أنابيب الحديد المدفونة من التآكل؛ إذ توصل هذه الأنابيب بفلز أكثر نشاطاً يتآكل بدلاً من الحديد.

- a. حدّد الكاثود والأنود.
b. فسر كيف يعمل الماغنسيوم على حماية الأنابيب.

التفكير الناقد

75. التوقع افتراض أن العلماء قد اختاروا نصف خلية $Cu^{2+}_{(IM)} | Cu$ على أنها خلية قياسية بدلاً من نصف الخلية $H^+_{(IM)} | H_2$.

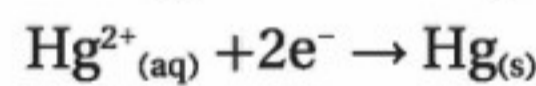
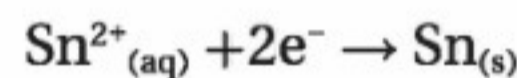
84. اعتماداً على نموذج التصادم للتفاعلات الكيميائية، فسّر كيف يمكن لجزيئين أن يتصادما ولا يتفاعلا؟
85. عدد خمسة عوامل تؤثر في سرعة التفاعل.
86. يصل تفاعل التفكك $A_2B \rightarrow 2A + B$ إلى الاتزان عند 499°C ، ويوضح تحليل خليط الاتزان أن $2.045 \text{ mol/L} = [A]$ و $0.855 \text{ mol/L} = [A_2B]$ و $1.026 \text{ mol/L} = [B]$. فما قيمة K_{eq} ؟
87. ما ذائبية يوديد الفضة AgI بوحدة mol/L إذا علمت أن قيمة K_{sp} لـ يوديد الفضة تساوي 3.5×10^{-15} ؟
88. إذا كان لديك محلول من حمض قوي، فهل يعني ذلك أن لديك محلولاً مركزاً من ذلك الحمض؟ فسّر إجابتك.
89. ما أعداد التأكسد لكل عنصر في الأيون PO_4^{3-} ؟

79. طبق نتج خلية تحليل كهربائي أبخرة البروم وغاز الهيدروجين خلال عملية تحليل كهربائي. وقد تبين بعد انتهاء التحليل الكهربائي أن الخلية تحتوي على محلول مركز من هيدروكسيد البوتاسيوم. ما محتويات الخلية قبل عملية التحليل الكهربائي؟

80. ضع فرضية افترض أنه في إحدى عمليات الجلفنة تم طلاء الحديد بالنحاس بدلاً من الخارصين، فهل يمكن للنحاس أن يحمي الحديد من التآكل مثل الخارصين، حتى لو تصدعت طبقة النحاس؟ فسّر إجابتك.

مسألة تحفيز

81. تم تركيب بطارية باستعمال القصدير والزئبق، وكانت أنصاف تفاعلات الاختزال فيها على النحو الآتي:



- a. اكتب معادلة موزونة لتفاعل الخلية.
- b. ما الذي تأكسد؟ وما الذي اختزل؟ حدد العامل المؤكسد والعامل المختزل.
- c. ما التفاعل الذي يحدث عند كل من الأنود والكاثود؟
- d. ما جهد الخلية؟ استخدم الجدول 1-5.
- e. إذا كانت القنطرة الملحية تحتوي على محلول كبريتات الصوديوم، ففي أي اتجاه تتحرك أيونات الكبريتات؟

مراجعة تراكمية

82. فسّر، لماذا تجد الكرسي المصنوع من الألومنيوم أكثر سخونة من الكرسي المصنوع من الخشب عند وضع الكرسيين تحت أشعة الشمس الفترة الزمنية نفسها.
83. علام تدل الإشارة السالبة للطاقة الحرة للتفاعل؟

$$\Delta G_{\text{system}} = \Delta H_{\text{system}} - \Delta T_{\text{system}}$$



الجدول 5-2

E°	القطب
-0.4141	$2H^+_{(aq)} + 2e^- \rightarrow H_{2(g)}$
-0.320	$NAD^+ + H^+_{(aq)} + 2e^- \rightarrow NADH$
+0.19	$HOCCOCH_3^* + 2H^+_{(aq)} + 2e^- \rightarrow HOOCCHOHCH_3^{**}$
+0.769	$Fe^{3+}_{(aq)} + e^- \rightarrow Fe^{2+}_{(aq)}$
+0.8147	$O_{2(g)} + 4H^+_{(aq)} + 4e^- \rightarrow 2H_2O_{(l)}$

* حمض البيروفيك ($HOCCOCH_3$)

** حمض اللاكتيك ($HOOCCHOHCH_3$)

92. اكتب نصفي التفاعل اللذين يحدثان في هذا التفاعل.

93. احسب جهد الخلية لهذا التفاعل باستعمال الجدولين 5-1 و 5-2.

94. هل يستطيع NAD^+ أكسدة Fe^{2+} إلى Fe^{3+} ؟ فسّر إجابتك.

تقويم إضافي

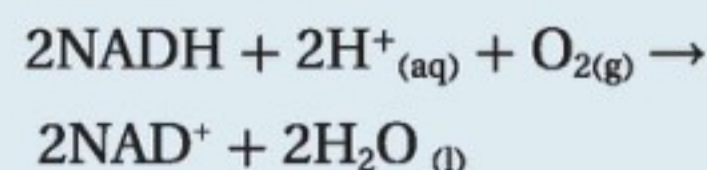
90. **الكتابة في الكيمياء** السفن الغارقة كشفت دراسة سفينة التيتانك الغارقة في المحيط مجالاً لاحتمال أن سبب تلف الهيكل الحديدي يعود جزئياً إلى وجود بيئات ملائمة للصدأ. ابحث كيف يؤدي هذا النشاط الحيوي إلى تأكسد الحديد، واكتب مقالاً تصف فيه دور المجتمعات الملائمة للصدأ في تدمير التيتانك.

91. العملات المعدنية الأثرية: تتعرض العملات المعدنية الأثرية لعمليات الصدأ الذي ينتج عن تفاعل المعدن مع الأكسجين في وجود الرطوبة وعوامل مساعدة أخرى.

ابحث عن المواد التي صيغت منها العملات المعدنية، ولماذا تأكلت بصورة سيئة جداً؟ اكتب تقريراً تفسر فيه العمليات الكيميائية التي حدثت وجعلت العملات المعدنية الأثرية تبدو في هذه الصورة.

أسئلة المستندات

التفاعلات البيولوجية الكهروكيميائية: يتضمن الجدول 5-2 قائمة بجهود الاختزال القياسية لبعض التفاعلات الحيوية المهمة، ويعد الأكسجين أقوى العوامل المؤكسدة الموجودة في الأنظمة الحيوية. تأمل تأكسد مادة نيكوتين أميد - أدنين - ثنائي النيوكليوتيد ($NADH$) المختزلة بواسطة جزيء أكسجين، والذي يمكن تمثيله على النحو الآتي:



أسئلة الاختيار من متعدد

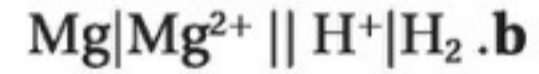
استخدم الجدول الآتي للإجابة عن الأسئلة من 1 إلى 4.

جهود الاختزال القياسية لبعض أنصاف الخلايا عند 25°C و 1M	
الاسم	E° (V)
$Mg^{2+} + 2e^{-} \rightarrow Mg$	-2.372
$Al^{3+} + 3e^{-} \rightarrow Al$	-1.662
$Pb^{2+} + 2e^{-} \rightarrow Pb$	-0.1262
$Ag^{+} + e^{-} \rightarrow Ag$	0.7996
$Hg^{2+} + 2e^{-} \rightarrow Hg$	0.851

1. أي الأيونات الآتية أسهل اختزالاً؟

- a. Mg^{2+} b. Hg^{2+}
c. Ag^{+} d. Al^{3+}

2. اعتماداً على جهود الاختزال القياسية الموضحة في الجدول، أي رمز للخلية يمثل خليته الجلفانية بصورة صحيحة؟

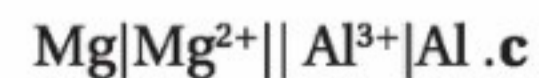
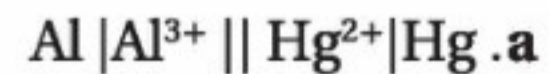


3. خلية جلفانية تتكون من قضيب من الماغنسيوم مغموس في محلول أيونات Mg^{2+} تركيزه 1M، وقضيب من الفضة مغموس في محلول أيونات Ag^{+} تركيزه 1M. ما الجهد القياسي لهذه الخلية؟

a. 1.572 v b. 3.172 v

c. 0.773 v d. 3.971 v

4. لو افترضنا توافر الشروط القياسية، فأى الخلايا الآتية تعطي جهداً مقداره 2.513 V؟



5. أي العبارات الآتية غير صحيحة؟

- a. البطاريات نماذج مضغوطة من الخلايا الجلفانية.
b. البطاريات الثانوية من بطاريات التخزين.
c. يمكن أن تتكون البطاريات من خلية واحدة.
d. تفاعل الأكسدة والاختزال في البطاريات التي يمكن إعادة شحنها تفاعل معكوس.

6. ما الذي تتوقع حدوثه إذا غمرت شريحة من الفضة في

محلول مائي يحتوي أيونات Cu^{2+} ؟

- a. عدم حدوث تفاعل
b. تأكسد الفضة
c. يترسب النحاس على شريحة الفضة
d. اختزال أيونات النحاس

7. ما المادة التي تتكون على المهبط عند التحليل الكهربائي

لمحلول مائي من NaCl؟

- a. اليود
b. الأكسجين
c. الهيدروجين
d. البوتاسيوم

8. ما الذي يحدث عند وضع قطعة من الخارصين Zn في

محلول $1.0 M Cu(NO_3)_2$ ؟

- a. يقل $[Cu^{2+}]$
b. يقل $[Zn^{2+}]$
c. يزداد $[NO_3^{-}]$
d. لا يحدث تغير



أسئلة الإجابات القصيرة

استعمل الشكل الآتي للإجابة عن الأسئلة من 9 إلى 11.



9. حدد القطب الموجب والقطب السالب في هذا الجهاز.
10. اكتب نصف تفاعل الأكسدة.
11. اشرح وظيفة القنطرة الملحية في هذا الجهاز.

أسئلة الإجابات المفتوحة

استعمل الجدول الآتي في الإجابة عن السؤال 12.

جهود اختزال قياسية مختارة عند 25°C و 1 atm
وتركيز 1 M

0.7996	$\text{Ag}^+ + \text{e}^- \rightarrow \text{Ag}$
-0.744	$\text{Cr}^{3+} + 3\text{e}^- \rightarrow \text{Cr}$

12. إذا وصل قطب فضة بقطب كروم في خلية جلفانية فأى القطبين سيتأكسد، وأيها سيختزل؛ اعتماداً على جهود الاختزال القياسية أعلاه؟ فسر إجابتك.

كيمياء الحياة (المركبات العضوية الحيوية)

The Chemistry of Life



الفكرة العامة تقوم المركبات العضوية الحيوية (البروتينات والكربوهيدرات والليبيدات -الدهون- والأحماض النووية) بالأنشطة الضرورية للخلايا الحية.

6-1 البروتينات

الفكرة الرئيسة تؤدي البروتينات وظائف أساسية تشمل تنظيم التفاعلات الكيميائية الحيوية، والدعم البنائي، ونقل المواد، وتقلصات العضلات.

6-2 الكربوهيدرات

الفكرة الرئيسة تزود الكربوهيدرات المخلوقات الحية بالطاقة والمواد البنائية.

6-3 الليبيدات

الفكرة الرئيسة تكوّن الليبيدات الأغشية الخلوية، وتحتزن الطاقة، وتنظم العمليات الخلوية.

6-4 الأحماض النووية

الفكرة الرئيسة تخزن الأحماض النووية المعلومات الوراثية وتنقلها.

حقائق كيميائية

- يعطي جرام واحد من الدهون أكثر من ضعف الطاقة التي تعطيها الكمية نفسها من الكربوهيدرات والبروتينات.
- الليبيدات الفوسفورية هي لبيدات خاصة تكوّن الأغشية الخلوية للخلايا الحية.
- يتكوّن الكروموسوم البشري الواحد من جزيء DNA الذي يبلغ طوله 5 cm تقريباً إذا قمنا بشدّه.

نشاطات تمهيدية

المركبات العضوية الحيوية :
اعمل المطوية الآتية لمساعدتك
على تنظيم المعلومات المتعلقة
بالمركبات العضوية الحيوية.

المطويات

منظمات الأفكار

الخطوة 1 اطو ورقة من
أوراق دفتر الملاحظات طولياً،
تاركاً حاشية على الجانب
الأيسر.



الخطوة 2 قصّ الجزء العلوي
إلى أربع أشرطة.



الخطوة 3 اكتب العنوان
الآتي على الحاشية. "المركبات
العضوية الحيوية". وكتب
على كل من الأشرطة الأربعة
أحد المصطلحات الآتية:
البروتينات، الكربوهيدرات،
الليبيدات، الأحماض النووية.



المطويات استخدم هذه المطوية مع الأقسام
6-1، 6-2، 6-3، و6-4 لخص في أثناء
قراءتك هذه الأقسام التركيب العام ووظيفة المركبات
العضوية الحيوية، وأعط أمثلة على كل منها.

تجربة استهلاكية

كيف تختبر وجود السكريات البسيطة؟

تزود العديد من مصادر الغذاء المختلفة الجسم بالطاقة التي
يستعملها باستمرار. وتُخزن هذه الطاقة في روابط جزيئات
تسمى السكريات.

خطوات العمل

1. اقرأ نموذج السلامة في المختبر.
2. املاً كأساً سعتها 400 mL بالماء إلى ثلثها، وضعها على
سخان كهربائي، وسخنه حتى يغلي الماء.
3. استخدم مخبراً مدرجاً لقياس 5 mL من محلول جلوكوز
تركيزه 10%، واسكبه في أنبوب اختبار.
4. أضف 3.0 mL من محلول بندكت إلى أنبوب الاختبار،
واخلط المحلولين مستخدماً ساق التحريك. وأضف حجر
الغليان إلى أنبوب الاختبار، وهي قطعة صخرية صغيرة
توضع لمنع فوران السائل في أثناء الغليان.
- تحذير: محلول بندكت مهيج للعيون والجلد.
5. ضع أنبوب الاختبار في حمام الماء المغلي باستعمال الملقط،
مدة 5 دقائق.
6. يدل تغير اللون إلى الأصفر أو البرتقالي على وجود سكر
بسيط. سجل مشاهداتك.
7. كرر الخطوات السابقة مستعملاً محلول النشا 10% ومعلق
الجيلاتين 10%، وبضع قطرات من معلق العسل في الماء.

تحليل النتائج

1. صف تغيرات الألوان التي شاهدتها.
 2. صنّف أي الأغذية تحتوي على سكر بسيط؟
- استقصاء** فكر في وجبة العشاء التي تناولتها أمس. ما الأغذية
التي احتوت على سكريات بسيطة؟ وكيف يمكن اختبار هذه
الأغذية للكشف عن ذلك؟



6-1

الأهداف

- تصف تركيب الأحماض الأمينية والبروتينات.
- تشرح وظيفة البروتينات في الخلايا.

مراجعة المفردات

البوليمرات مركبات كبيرة تتكون من وحدات متكررة عديدة تسمى المونومرات.

المفردات الجديدة

- البروتينات
- الأحماض الأمينية
- الرابطه البيتيدي
- البيتيد
- تغير الخواص الطبيعية الإنزيم
- المادة الخاضعة لفعل الإنزيم
- الموقع النشط

البروتينات Proteins

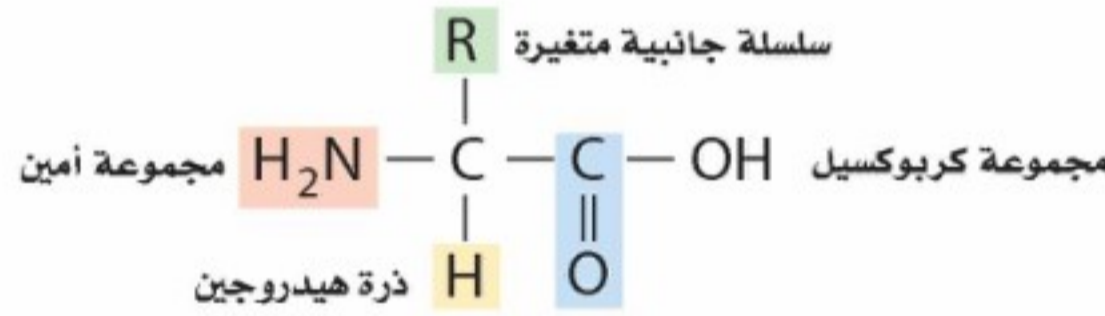
الفكرة الرئيسية تؤدي البروتينات وظائف أساسية تشمل تنظيم التفاعلات الكيميائية الحيوية، والدعم البنائي، ونقل المواد، وتقلصات العضلات.

الربط مع الحياة تحتوي بعض منتجات التنظيف - ومنها محلول تنظيف العدسات اللاصقة - على الإنزيمات. هل تساءلت يوماً ما الإنزيم؟


تركيب البروتين Protein Structure

تعد الإنزيمات نوعاً من البروتينات. والبروتينات بوليمرات عضوية تتكون من أحماض أمينية مرتبطة معاً بترتيب معين. والبروتينات ليست مجرد سلاسل كبيرة من الأحماض الأمينية المرتبة عشوائياً. ويجب أن يكون البروتين مطوياً في تركيب معين ثلاثي الأبعاد حتى يعمل بشكل صحيح. وجميع المخلوقات الحية؛ ومنها الإبل والنباتات المبينة في الشكل 6-1، تتكون من البروتينات.

الأحماض الأمينية توجد مجموعات وظيفية كثيرة ومختلفة من الأحماض الأمينية في المركبات العضوية. والأحماض الأمينية، كما يدل اسمها، جزيئات عضوية توجد فيها مجموعة الأمين ومجموعة الكربوكسيل الحمضية. والشكل الآتي يبين التركيب العام للحمض الأميني:



يوجد في كل حمض أميني ذرة كربون مركزية محاطة بأربع مجموعات: مجموعة الأمين ($-\text{NH}_2$)، ومجموعة الكربوكسيل ($-\text{COOH}$)، وذرة هيدروجين، وسلسلة جانبية متغيرة R. وتتفاوت السلسلة الجانبية من ذرة هيدروجين واحدة إلى تركيب معقد ذي حلقتين.



الشكل 6-1 تحتوي جميع المخلوقات الحية على البروتينات؛ فشعر الإبل وعضلاته جميعها تتكون من بروتينات بنائية، كما هو الحال لجذور النباتات وأوراقها.

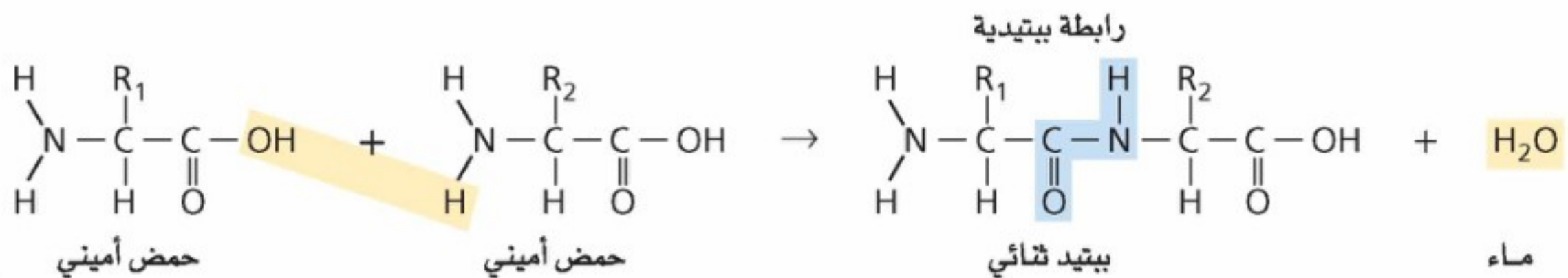
$\begin{array}{c} \text{CH}_2 - \text{NH}_2 \\ \\ \text{CH}_2 \\ \\ \text{CH}_2 \\ \\ \text{CH}_2 \\ \\ \text{H}_2\text{N} - \text{C} - \text{C} - \text{OH} \\ \quad \quad \quad \\ \text{H} \quad \quad \quad \text{O} \end{array}$ <p>اللايسين</p>	$\begin{array}{c} \text{SH} \\ \\ \text{CH}_2 \\ \\ \text{H}_2\text{N} - \text{C} - \text{C} - \text{OH} \\ \quad \quad \quad \\ \text{H} \quad \quad \quad \text{O} \end{array}$ <p>السيستين</p>	$\begin{array}{c} \text{OH} \\ \\ \text{CH}_2 \\ \\ \text{H}_2\text{N} - \text{C} - \text{C} - \text{OH} \\ \quad \quad \quad \\ \text{H} \quad \quad \quad \text{O} \end{array}$ <p>السيرين</p>	$\begin{array}{c} \text{H} \\ \\ \text{H}_2\text{N} - \text{C} - \text{C} - \text{OH} \\ \quad \quad \quad \\ \text{H} \quad \quad \quad \text{O} \end{array}$ <p>الجلاليسين</p>
$\begin{array}{c} \text{C}_6\text{H}_5 \\ \\ \text{CH}_2 \\ \\ \text{H}_2\text{N} - \text{C} - \text{C} - \text{OH} \\ \quad \quad \quad \\ \text{H} \quad \quad \quad \text{O} \end{array}$ <p>فينيل الألانين</p>	$\begin{array}{c} \text{CH}_3 \quad \text{CH}_3 \\ \diagdown \quad / \\ \text{CH} \\ \\ \text{H}_2\text{N} - \text{C} - \text{C} - \text{OH} \\ \quad \quad \quad \\ \text{H} \quad \quad \quad \text{O} \end{array}$ <p>الفالين</p>	$\begin{array}{c} \text{O} \quad \text{NH}_2 \\ \diagdown \quad / \\ \text{C} \\ \\ \text{CH}_2 \\ \\ \text{CH}_2 \\ \\ \text{H}_2\text{N} - \text{C} - \text{C} - \text{OH} \\ \quad \quad \quad \\ \text{H} \quad \quad \quad \text{O} \end{array}$ <p>الجلوتامين</p>	$\begin{array}{c} \text{O} \quad \text{OH} \\ \diagdown \quad / \\ \text{C} \\ \\ \text{CH}_2 \\ \\ \text{CH}_2 \\ \\ \text{H}_2\text{N} - \text{C} - \text{C} - \text{OH} \\ \quad \quad \quad \\ \text{H} \quad \quad \quad \text{O} \end{array}$ <p>حمض الجلوتامك</p>

ادرس السلاسل الجانبية المختلفة للأحماض الأمينية المبينة في الجدول 6-1، وحدد الألكانات غير القطبية، ومجموعات الهيدروكسيل القطبية، والمجموعات الحمضية والقاعدية مثل مجموعات الكربوكسيل والأمين، والحلقات الأروماتية، والمجموعات التي تحتوي على الكبريت. يزود هذا التنوع الواسع للسلاسل الجانبية الأحماض الأمينية المختلفة بتنوع كبير من الخواص الكيميائية والفيزيائية، ويساعد البروتينات على أداء وظائف عديدة ومختلفة.

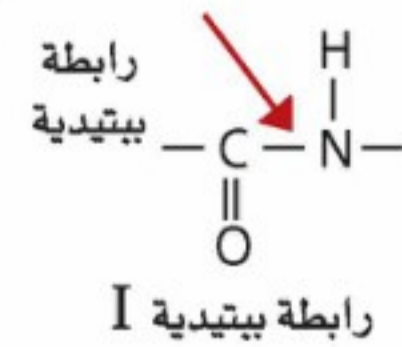
الرابطة الببتيدية توفر مجموعات الأمين والكربوكسيل مواضع ربط مناسبة لربط الأحماض الأمينية معاً. ولأن الحمض الأميني هو في الوقت نفسه أمين وحمض كربوكسيلي، لذا يستطيع حمضان أمينيان أن يتحدا لتكوين أميد، وينطلق ماء في هذه العملية. هذا التفاعل هو تفاعل تكثف. وكما يبين الشكل 6-2، فإن مجموعة الكربوكسيل لأحد الحمضين الأمينيين تتحد مع مجموعة الأمين في الحمض الثاني لتكوين مجموعة الأמיד الوظيفية.

✓ **ماذا قرأت؟** اشرح كيف تتكون مجموعة الأמיד الوظيفية.

الشكل 6-2 ترتبط مجموعة الأمين لأحد الحمضين الأمينيين بمجموعة الكربوكسيل لحمض أميني آخر لتكوين ببتيد ثنائي وماء. والمجموعة العضوية الوظيفية التي تتكون تسمى رابطة ببتيدية.



يطلق المختصون في الكيمياء الحيوية على رابطة الأמיד المبينة في الشكل 3-6، والتي تجمع حمضين أميين اسم **الرابطة الببتيدية**. كما يطلق على السلسلة المكونة من حمضين أميين أو أكثر مرتبطة معاً بروابط ببتيدية **الببتيد**. أما الجزيء المكون من حمضين أميين مرتبطين معاً برابطة ببتيدية فيسمى ثنائي الببتيد. ويبين الشكل 4a-6 تركيب ثنائي ببتيد مكوناً من الحمضين الأميين الجلايسين (Gly) وفينيل الألنيل (Phe). في حين يبين الشكل 4b-6 ثنائي ببتيد آخر مختلفاً مكوناً أيضاً من الجلايسين وفينيل الألنيل. فهل Gly-Phe هو المركب Phe-Gly نفسه؟ لا، إنها مختلفان. تفحص هذين المركبين ثنائي الببتيد لترى أن الترتيب الذي يرتبط فيه ثنائي الببتيد مهم، فما زال كل طرف من وحدة الحمضين الأميين في ثنائي الببتيد لديه مجموعة حرة: أحد الطرفين لديه مجموعة كربوكسيل حرة، والطرف الآخر لديه مجموعة أمين حرة. وتستطيع كل من هاتين المجموعتين الارتباط مع الطرف المقابل من حمض أميني آخر، مكونة المزيد من الروابط الببتيدية. وتقوم الخلايا الحية دائماً ببناء الببتيدات بإضافة أحماض أمينية إلى الطرف الكربوكسيلي من الطرف النامي.



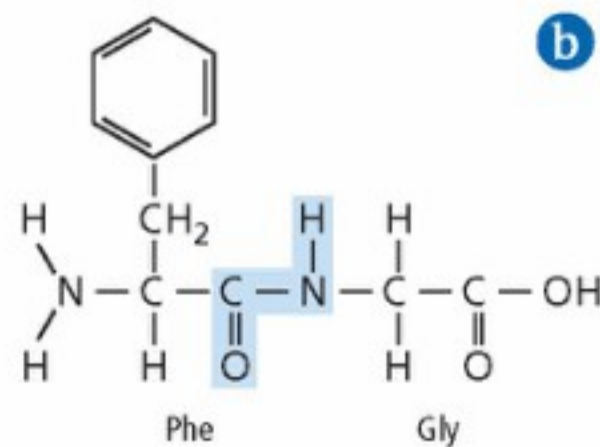
الشكل 3-6 تجمع الرابطة الببتيدية حمضين أميين لتكوين ثنائي الببتيد.

✓ **ماذا قرأت؟ اشرح الفرق بين الببتيد وثنائي الببتيد.**

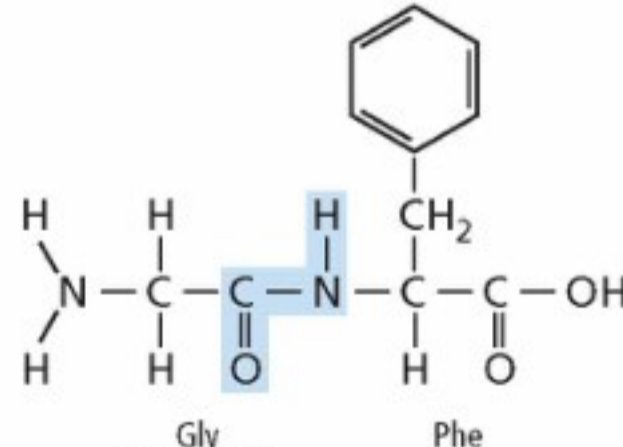
عديد الببتيد كلما زاد طول السلاسل الببتيدية أصبح من الضروري إعطاؤها أسماء أخرى. فالسلسلة المكونة من عشرة أحماض أمينية أو أكثر متصلة معاً بروابط ببتيدية تسمى عديد الببتيد. ويتضمن الشكل 5-6 مثالا على عديد الببتيد. وعندما يصل طول السلسلة نحو 50 حمضاً أمينياً يطلق عليها اسم بروتين.

ولأن هناك 20 حمضاً أمينياً فقط تستطيع تكوين البروتينات، لذا فقد يبدو منطقيًا وجود عدد محدود فقط من تراكيب البروتينات. ولكن البروتين يمكن أن يحتوي على 50 حمضاً أمينياً على الأقل، أو أكثر من 1000 حمض أميني مرتبة في أي تتابع ممكن. ولحساب عدد التتابعات الممكنة لهذه الأحماض الأمينية افترض أن كل موقع على السلسلة يمكن أن يكون فيه 20 حمضاً أمينياً محتملاً. الببتيد الذي يحتوي على n من الأحماض الأمينية فهناك 20^n من التتابعات المحتملة للأحماض الأمينية. وهكذا فإن ثنائي الببتيد الذي يتكون من حمضين أميين فقط يمكن أن يكون له 20^2 ، أو 400 تتابع محتمل للأحماض الأمينية. وحتى أصغر البروتينات، والذي يحتوي على 50 حمضاً أمينياً فقط لديه 20^{50} أو أكثر من 1×10^{65} احتمال من ترتيبات الأحماض الأمينية! ولأن خلايا الإنسان تصنع ما بين 80,000 و 100,000 بروتين مختلف، لذا يمكنك أن ترى أن هذا عبارة عن جزء صغير فقط من مجموع عدد البروتينات المحتملة.

✓ **ماذا قرأت؟ احسب عدد التتابعات المحتملة لسلسلة ببتيد تتكون من أربعة أحماض أمينية.**



فينيل الألنيل جلايسين (Phe - Gly)

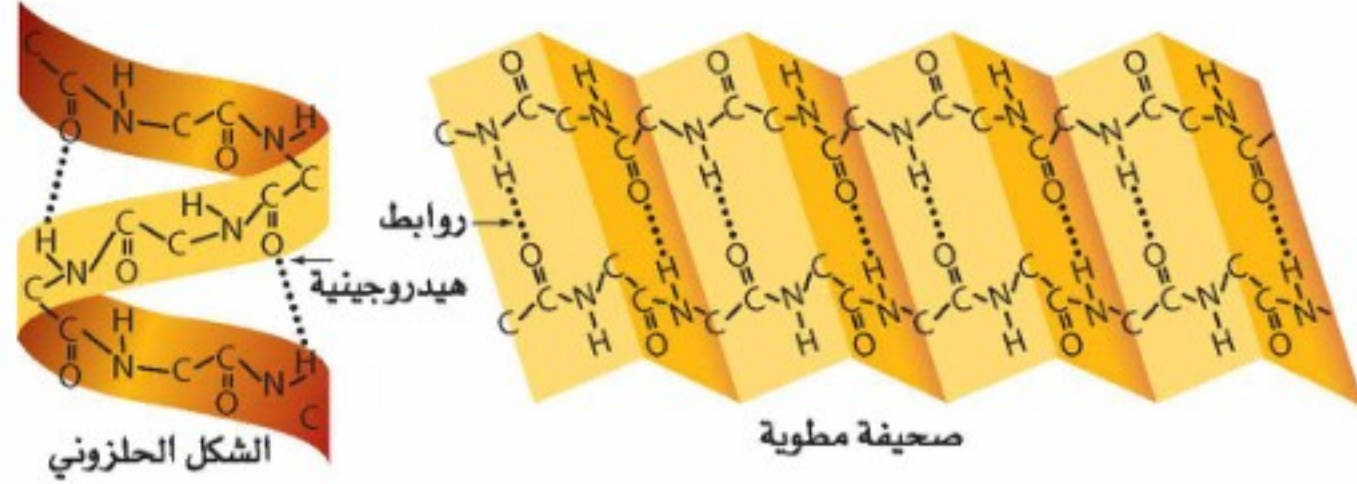


جلايسين فينيل الألنيل (Gly - Phe)

الشكل 4-6 يمكن أن يتحد الجلايسين (Gly) مع الفينيل الألنيل (Phe) بطريقتين. اشرح لماذا يعد هذان التركيبان مادتين مختلفتين؟



الشكل 5-6 يتضمن طي سلاسل الببتيد في صورة شكل حلزوني أو صحيفة مطوية تثبيت الأحماض الأمينية في مواقع معينة بواسطة الروابط الهيدروجينية. وهناك عدد من التفاعلات بين السلاسل لا تظهر هنا، ولكنها تؤدي دوراً مهماً في تحديد الشكل الثلاثي الأبعاد لعديد الببتيد.



واقع الكيمياء في الحياة

الإنزيمات



البابايين هو أحد أمثلة الإنزيمات التي قد تكون استعملتها ويوجد في البابايا، والأناناس، ومصادر نباتية أخرى. ويعمل هذا الإنزيم عاملاً مساعداً في التفاعل الذي يفكك جزيئات البروتين، ويحوّلها إلى أحماض أمينية حرة. والبابايين هو العامل الفعّال في بقاء اللحوم طرية؛ فعندما تنشر البابايين المجفف على اللحم الرطب فإنه يكون محلولاً يكسر ألياف البروتين القاسية في اللحم فيجعله أكثر طراوة.

تركيب البروتين الثلاثي الأبعاد تبدأ السلاسل الطويلة المكونة من الأحماض الأمينية بالطي مكونة أشكالاً ثلاثية الأبعاد قبل أن يكتمل تكوينها. ويتحدد الشكل الثلاثي الأبعاد عن طريق التفاعلات بين الأحماض الأمينية. فقد تتكون بعض أجزاء عديد الببتيد في صورة شكل حلزوني يشبه لفات سلك الهاتف. وقد تتشني بعض الأجزاء الأخرى إلى الأمام وإلى الخلف بصورة متكررة مكونة تركيباً على هيئة صحيفة مطوية عدة طيات. وقد تتشني سلسلة عديد الببتيد إلى الخلف على نفسها وتغير اتجاهها. كما يمكن أن يحتوي بروتين معين على عدة لولاب، وصحائف، ولفات، وقد لا يحتوي على أي منها. ويبين الشكل 5-6 نمط الطي للولب نموذجي وصحيفة. والشكل الكلي الثلاثي الأبعاد للعديد من البروتينات شكل كروي غير منتظم. وهناك أنواع أخرى من البروتينات لها شكل ليفي طويل. وشكل البروتين مهم لعمله، فإذا تغير هذا الشكل فقد لا يستطيع أن يقوم بعمله داخل الخلية.

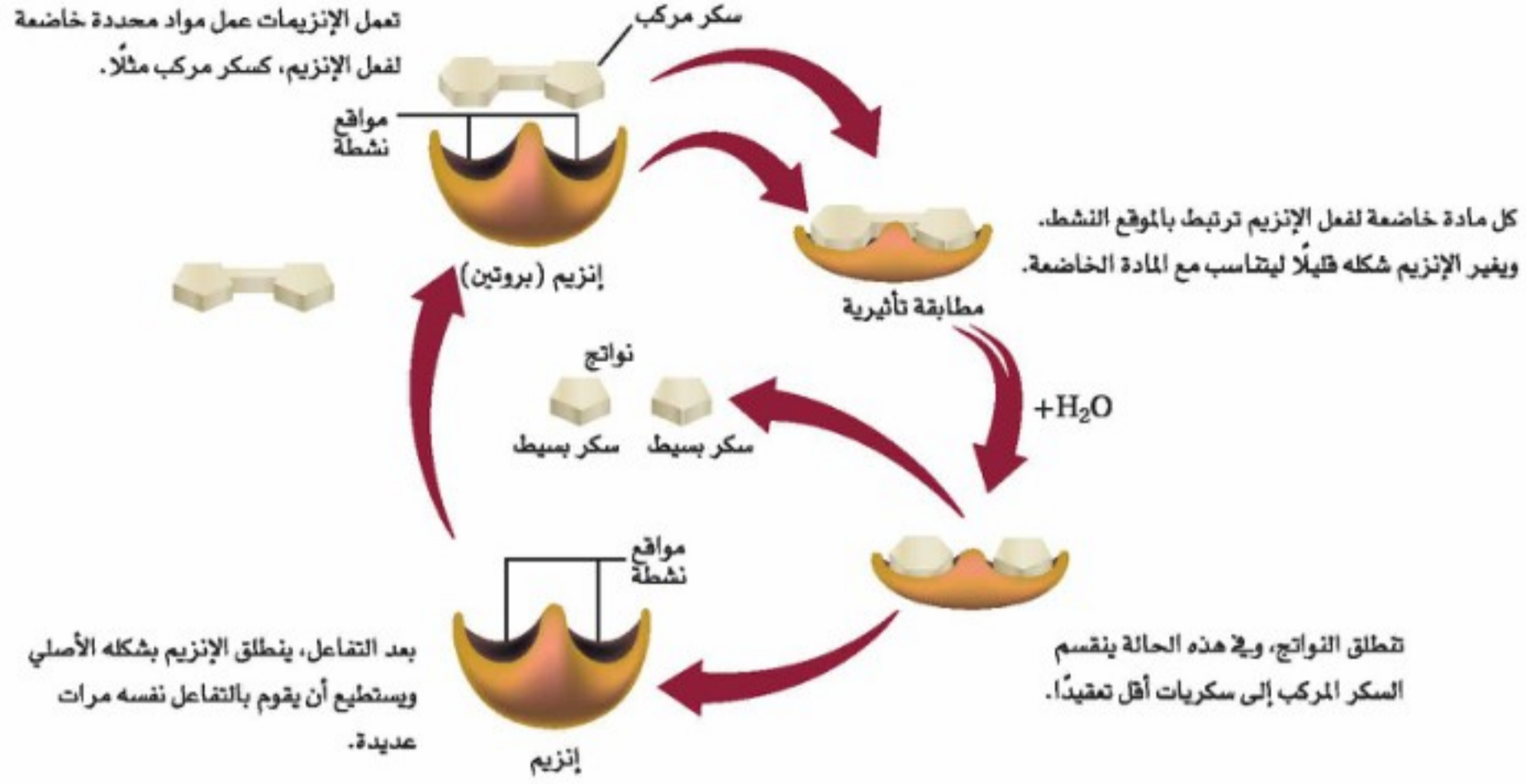
تغير الخواص الطبيعية ينتج عن التغيرات في درجة الحرارة وقوة الرابطة الأيونية والرقم الهيدروجيني pH والعوامل الأخرى انفكك طيات البروتين ولولابه، فيؤدي هذا إلى **تغير الخواص الطبيعية** (Denaturation) الأصلية للبروتين، وهي العملية التي تشوه تركيب البروتين الطبيعي الثلاثي الأبعاد وتمزقه أو تتلفه. ويؤدي الطبخ عادة إلى تغير الخواص الطبيعية للبروتينات في الأغذية. فعند سلق بيضة تصبح صلبة لأن زلال البيضة الغني بالبروتين يتصلب نتيجة تغير الخواص الطبيعية للبروتين. ولما كانت البروتينات تعمل بصورة صحيحة فقط عندما تكون مطوية، لذا فإنها تصبح غير فعالة بصورة عامة إذا حدث لها تحويل في خواصها الطبيعية.

الوظائف المتعددة للبروتينات

The Many Functions of Proteins

تؤدي البروتينات أدواراً كثيرة في الخلايا الحية؛ فهي تقوم بتسريع التفاعلات الكيميائية، ونقل المواد، وتنظيم العمليات الخلوية، والدعم البنائي للخلايا، والاتصالات داخل الخلايا وفيما بينها، وتسريع حركة الخلايا، وتعمل عمل المصدر للطاقة عند شح المصادر الأخرى.

تسريع التفاعلات يعمل العدد الأكبر من البروتينات في معظم المخلوقات الحية عمل الإنزيمات والعوامل المحفزة للتفاعلات الكثيرة التي تحدث في الخلايا الحية. يعد **الإنزيم** عاملاً محفزاً حيوياً؛ حيث يعمل على تسريع التفاعل الكيميائي دون أن يُستهلك في هذا التفاعل. ويؤدي عادة إلى تخفيض طاقة تنشيط التفاعل عن طريق تثبيت الحالة الانتقالية.



الشكل 6-6 تخفض الإنزيمات طاقة التنشيط اللازمة لحدوث التفاعل، وتغير السرعة التي يحدث بها التفاعل دون أن تتغير هي في التفاعل.

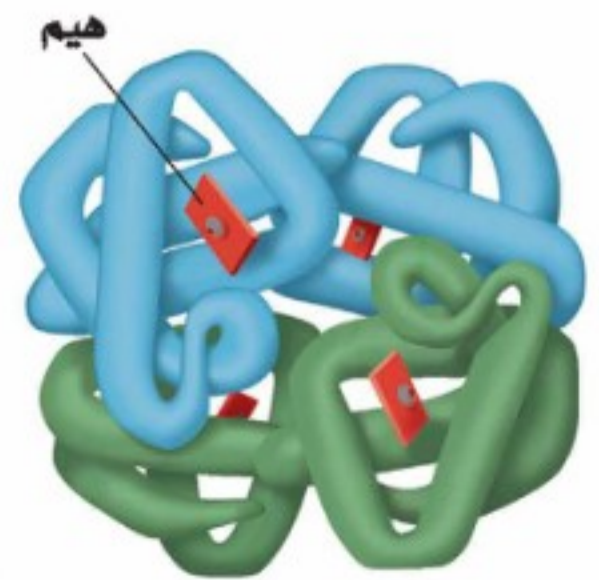
كيف تعمل الإنزيمات؟ إن مصطلح **مادة خاضعة لفعل الإنزيم** يشير إلى مادة متفاعلة في تفاعل يعمل الإنزيم فيه عمل عامل محفز، كما في الشكل 6-6. وترتبط المواد الخاضعة لفعل الإنزيم بمواقع معينة على جزيئات الإنزيم، وهي عادة عبارة عن جيوب أو شقوق. وتسمى النقطة التي ترتبط بها المواد الخاضعة لفعل الإنزيم **الموقع النشط** للإنزيم. وعندما ترتبط المادة الخاضعة بالموقع النشط يغير هذا الموضع شكله قليلاً ليحيط بالمادة الخاضعة بصورة أكثر إحكاماً، وتسمى هذه العملية **المطابقة التأثيرية**؛ إذ يجب أن تتطابق أشكال المواد الخاضعة مع شكل الموقع النشط، بالطريقة نفسها التي تتطابق بها قطع الألباز أو القفل والمفتاح. ولن يرتبط الجزيء الذي يختلف شكله قليلاً عن شكل المادة الخاضعة المعتادة للإنزيم بصورة جيدة بالموقع النشط، وقد لا يحدث التفاعل. ويسمى التركيب المتكون من الإنزيم والمادة الخاضعة عند ارتباطهما مركب الإنزيم والمادة الخاضعة. فالحجم الكبير لجزيئات الإنزيم يمكنها من تكوين روابط متعددة مع المواد الخاضعة، كما يسمح التنوع الكبير للسلاسل الجانبية للأحماض الأمينية في الإنزيم بتكوين عدد من القوى بين الجزيئية المختلفة. وتخفض القوى بين الجزيئية هذه طاقة التنشيط اللازمة للتفاعل؛ حيث تتكسر الروابط وتتحول المادة الخاضعة لفعل الإنزيم إلى نواتج.

✓ **ماذا قرأت؟** صف بكلماتك الخاصة كيف يعمل الإنزيم؟

بروتينات النقل تنقل بعض البروتينات جسيمات أصغر منها في أرجاء الجسم. ويبين الشكل 6-7 بروتين الهيموجلوبين، الذي ينقل الأكسجين في الدم من الرئتين إلى سائر الجسم. وهناك بروتينات أخرى تتحد بجزيئات حيوية تسمى **ليبيدات**؛ لتنقلها من جزء من الجسم إلى جزء آخر خلال مجرى الدم.

الشكل 6-7

الهيموجلوبين بروتين كروي، فيه أربع سلاسل عديدة الببتيد، يحتوي كل منها على مجموعة حديد تسمى هيم، يرتبط معها الأكسجين.





الشكل 6-8 يتكون شعر الإنسان من بروتين ليفي يسمى الكيراتين.

الدعم البنائي تقتصر بعض البروتينات على وظيفة وحيدة هي تكوين تراكيب حيوية للمخلوقات الحية، وتعرف هذه الجزيئات باسم البروتينات البنائية. والبروتين البنائي الأكثر توافراً في معظم الحيوانات هو الكولاجين، وهو جزء من الجلد والأوتار والأربطة والعظام. وتشمل البروتينات البنائية الأخرى: الريش والفرو والصوف والحوافر والأظفار والشرنقات، والشعر، كما في الشكل 6-8.

الإشارات الخلوية cell signalling الهرمونات جزيئات تحمل الإشارات من أحد أجزاء الجسم إلى جزء آخر. وبعض الهرمونات بروتينات. فالأنسولين -وهو مثال مألوف للبروتينات- هرمون بروتيني صغير يتكون من 51 حمضاً أمينياً تنتجه بعض خلايا البنكرياس. وعندما يُطلق الأنسولين إلى مجرى الدم يعطي إشارات لخلايا الجسم أن سكر الدم متوافر بكثرة ويجب تخزينه. يؤدي عدم توافر الأنسولين في كثير من الأحوال إلى مرض السكري الذي ينتج عن كثرة السكر في مجرى الدم. ولما كانت التقنية الحديثة قد جعلت تصنيع البروتينات في المختبر ممكناً، لذا فقد تم صناعة بعض الهرمونات البروتينية لاستعمالها أدوية. ومن ذلك الأنسولين، وهرمونات الغدة الدرقية، وهرمونات النمو. وتستعمل البروتينات الطبيعية والصناعية في العديد من المنتجات، من محاليل التنظيف إلى وسائل المساعدة الصحية والتجميلية.

المطويات

ضمّن مطويتك معلومات من هذا القسم.

التقويم 6-1

الخلاصة

- البروتينات بوليمرات حيوية تتكون من أحماض أمينية ترتبط بروابط ببتيدية.
- تنطوي سلاسل البروتينات مكونة تراكيب معقدة ثلاثية الأبعاد.
- للبروتينات وظائف عديدة في جسم الإنسان تشتمل على وظائف داخل الخلايا وأخرى بينها، ووظائف دعم بنائي.

1. **الفكرة الرئيسة** صف ثلاثة بروتينات، وحدد وظائفها.

2. قارن بين بناء الأحماض الأمينية، وثنائي الببتيد، وعديد الببتيد، والبروتين، أيها له أكبر كتلة جزيئية، وأيها له أصغر كتلة جزيئية؟
3. ارسم تركيب ثنائي الببتيد Gly-Ser، وضع دائرة حول الرابطة الببتيدية.
4. قوّم ما خواص البروتينات التي تجعلها عوامل مساعدة مفيدة؟ وفيم تختلف عن عوامل مساعدة أخرى سبق أن درستها؟
5. اشرح ثلاث وظائف للبروتينات في الخلايا، وأعط مثلاً على كل وظيفة.
6. صنّف حمضاً أمينياً من الجدول 6-1 يمكن تصنيفه في كل فئة من الأزواج الآتية:
 - a. غير قطبي مقابل قطبي
 - b. أروماتي مقابل أليفاتي
 - c. حمضي مقابل قاعدي



الكربوهيدرات Carbohydrates

الأهداف

- تصف تراكيب السكريات الأحادية، والثنائية، وعديدة السكر.
- تشرح وظائف الكربوهيدرات في المخلوقات الحية.

مراجعة المفردات

المتشكلات الفراغية نوع من المتشكلات ترتبط ذراتها بالترتيب نفسه، ولكنها تتجه في اتجاهات مختلفة في الفراغ.

المفردات الجديدة

الكربوهيدرات
السكريات الأحادية
السكريات الثنائية
السكريات عديدة السكر



King Faisal
INTERNATIONAL PRIZE



مُنح البروفيسور ريمون أرغل لوميو جائزة الملك فيصل فرع العلوم عام ١٤١٠ هـ لنجاحه مع زميله البروفيسور فرانك ألبرت كوتن؛ كونهما أول من رُكّب السكروز كيميائياً، ويعد ريمون من أكبر العلماء المعاصرين في كيمياء السكريات التي لها شأن عظيم في العمليات الحيوية.

المصدر*: موقع جائزة الملك فيصل / فرع العلوم
<http://kingfaisalprize.org/ar/science/>

الفكرة الرئيسية تزود الكربوهيدرات المخلوقات الحية بالطاقة والمواد البنائية.

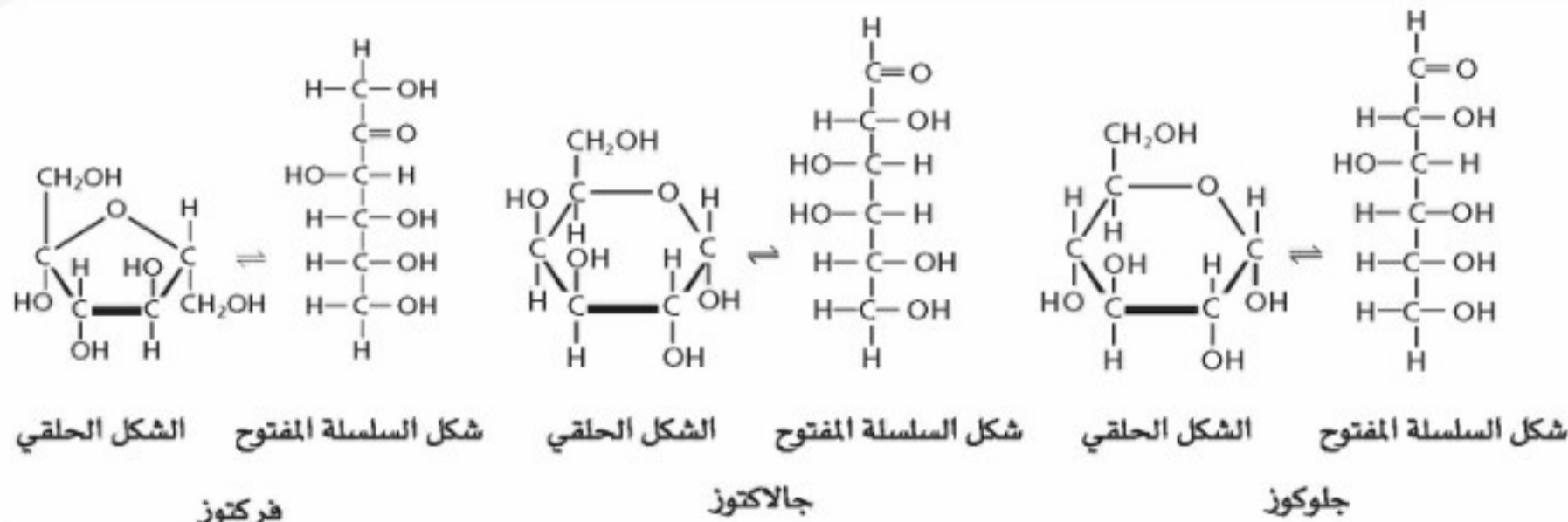
الربط مع الحياة هناك تركيز كبير من وسائل الإعلام على الكربوهيدرات. فقد أصبح النظام الغذائي القليل الكربوهيدرات طريقة مفضلة للتحكم في الوزن، إلا أن الكربوهيدرات مصدر مهم لطاقة الجسم.

أنواع الكربوهيدرات Kinds of Carbohydrates

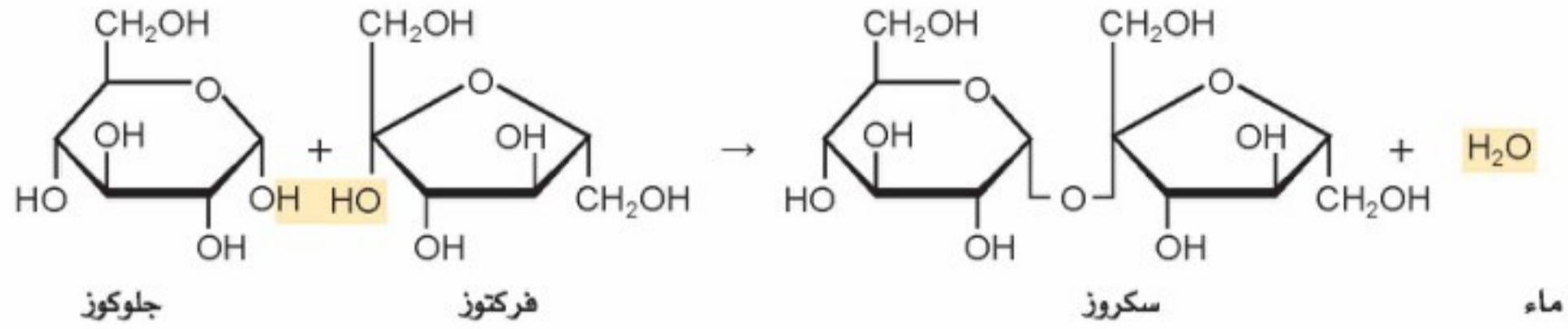
يعطي تحليل كلمة كربوهيدرات لمحة عن تركيب هذه المجموعة من الجزيئات. لقد أدت الملاحظات القديمة - التي بينت أن الصيغة الكيميائية العامة لهذه المركبات هي $C_n(H_2O)_n$ ، والتي تبدو وكأنها هيدرات الكربون - إلى تسميتها كربوهيدرات. ومع أن العلماء الآن يعرفون أنه لا توجد جزيئات ماء كاملة مرتبطة مع الكربوهيدرات إلا أن الاسم بقي من دون تغيير.

الوظيفة الرئيسة للكربوهيدرات في المخلوق الحي هي أنها مصدر للطاقة المخزنة. وتضم الأغذية الغنية بالكربوهيدرات الحليب والفواكه والخبز والبطاطس. والكربوهيدرات مركبات عضوية تحتوي على عدة مجموعات من الهيدروكسيل ($-OH$)، بالإضافة إلى مجموعة الكربونيل الوظيفية ($C=O$). وهذه الجزيئات تتراوح في قياسها بين وحدة بنائية واحدة إلى بوليمرات مكونة من مئات أو حتى آلاف وحدات البناء الأساسية.

السكريات الأحادية أبسط أنواع الكربوهيدرات، والتي كثيراً ما تسمى سكريات بسيطة هي **السكريات الأحادية**. تحتوي أكثر السكريات الأحادية شيوعاً خمس أو ست ذرات كربون. ويبين الشكل 9-6 أمثلة على السكريات الأحادية. لاحظ وجود مجموعة كربونيل على إحدى ذرات الكربون ومجموعات هيدروكسيل على معظم ذرات الكربون الأخرى. إن وجود مجموعة الكربونيل يجعل هذه المركبات إما ألدهايدات وإما كيتونات، وذلك بحسب موقع مجموعة الكربونيل. كما أن تعدد المجموعات القطبية يجعل السكريات الأحادية قابلة للذوبان في الماء، ويعطيها درجات انصهار عالية.



الشكل 9-6 الجلوكوز، والجالاكتوز، والفركتوز سكريات أحادية. وتكون في المحاليل المائية في حالة اتزان بين الشكل الحلقي وشكل السلسلة المفتوح.



الشكل 10-6 عندما يتحد الجلوكوز والفركتوز يتكون السكر الثنائي السكروز. لاحظ أن الماء أيضًا ناتج تفاعل هذا التكثف، وتذكر أن كل تركيب حلقي يتكون من ذرات كربون غير ظاهرة في الشكل حتى لا يبدو معقدًا.

المفردات

أصل الكلمة

العديدة السكر (Polysaccharide) اشتق هذا الاسم من الكلمة اليونانية Polys، والتي تعني "متعدد"، والكلمة السنسكريتية القديمة Sakkara، والتي تعني "سكر".

الجلوكوز سكر سداسي الكربون، وله تركيب ألدهيدي. ويوجد بتركيز عالٍ في الدم؛ لأنه يعمل بوصفه مصدرًا رئيسًا للطاقة الفورية للجسم. ولهذا السبب يسمى الجلوكوز في كثير من الأحيان سكر الدم.

والجلاكتوز سكر على علاقة وثيقة بالجلوكوز، ويختلف عنه فقط في كيفية اتجاه ذرة الهيدروجين ومجموعة الهيدروكسيل في الفراغ حول إحدى ذرات الكربون الست. وتجعل هذه العلاقة من الجلوكوز والجلاكتوز متشكّلين هندسيين. فالفركتوز، الذي يعرف بسكر الفاكهة لأنه موجود في معظم الفواكه، هو سكر أحادي يتكون من ست ذرات كربون له تركيب كيتوني. كما أن الفركتوز متشكّل بنائي للجلوكوز. عندما تكون السكريات الأحادية في محلول مائي فإنها توجد في الصورة الحلقية و تركيب السلسلة المفتوحة، ولكنها تغير شكلها باستمرار وبسرعة. والتراكيب الحلقية هي الأكثر استقرارًا، وهي الشكل السائد للسكريات الأحادية في حالة الاتزان. وتلاحظ في الشكل 9-6 أن مجموعات الكربونيل توجد فقط في تركيب السلسلة المفتوحة. وفي التركيب الحلقي تتحول مجموعات الكربونيل إلى مجموعات هيدروكسيل.

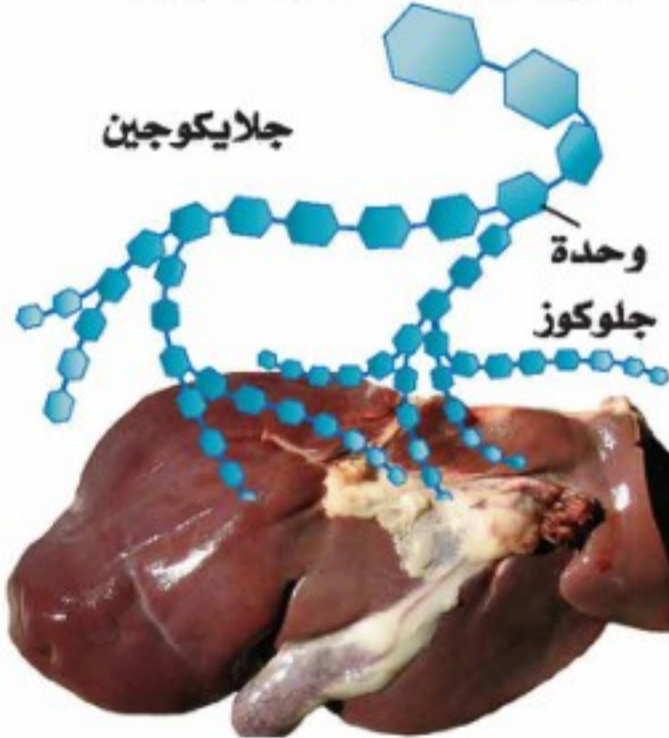
السكريات الثنائية تستطيع السكريات الأحادية أن ترتبط معًا عن طريق تفاعل التكثف الذي يطلق الماء، كما هو الحال في الأحماض الأمينية. وعندما يرتبط سكران أحاديان معًا يتكون **سكر ثنائي**، كما في الشكل 10-6، ويطلق على الرابطة الجديدة المتكوّنة الرابطة الإثيرية C-O-C.

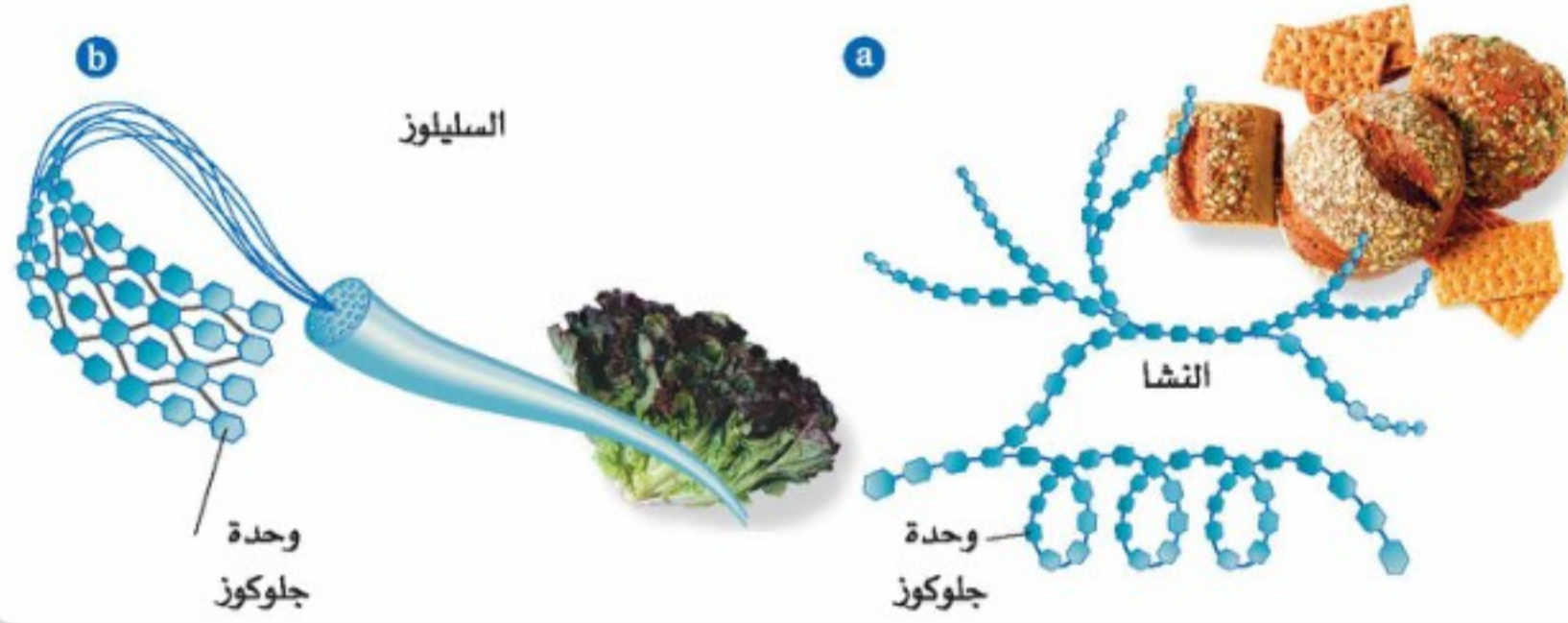
والسكروز هو أحد السكريات الثنائية، ويعرف أيضًا بسكر المائدة؛ لأنه يستعمل بشكل رئيس في التحلية. ويتكون السكروز من اتحاد الجلوكوز مع الفركتوز. كما أن اللاكتوز سكر ثنائي شائع أيضًا، وهو الكربوهيدرات الأهم في الحليب، ويسمى غالبًا سكر الحليب. ويتكون اللاكتوز عندما يتحد الجلوكوز والجلاكتوز.

السكريات عديدة السكر يستعمل اسم الكربوهيدرات المعقدة أو السكريات عديدة السكر للبوليمرات التي تتكون من السكريات البسيطة وتحتوي على 12 وحدة بناء أساسية أو أكثر. وترتبط الوحدات الأساسية في عديدة السكر بنفس نوع الروابط التي تجمع سكرين أحاديين لتكوين سكر ثنائي. أما الجلايكوجين، الميبين في الشكل 11-6، فهو من السكريات عديدة السكر، ويتألف من وحدات جلوكوز تحتزن الطاقة، ويوجد غالبًا في الكبد وعضلات الإنسان وحيوانات أخرى. كما يوجد في بعض أنواع المخلوقات المجهرية، ومنها البكتيريا والفطريات.

✓ **ماذا قرأت؟** قارن بين السكريات الأحادية والثنائية وعديدة السكر.

الشكل 11-6 يعد الجلايكوجين الموجود في عضلات وكبد الحيوانات من السكريات عديدة السكر؛ حيث يتكون من وحدات من الجلوكوز.





الشكل 6-12 النشا والسليولوز نوعان مهمان من السكريات العديدة التسكر .
a. للنشا تركيب متفرع أو غير متفرع.
b. للسليولوز تركيب غير متفرع يشبه السياج ذا السلاسل المتقاطعة.

يبين الشكل 6-12 نوعين آخرين مهمين من السكريات العديدة التسكر، هما: النشا والسليولوز. وعلى الرغم من أن كلاهما يتكوّن من وحدات أساسية من الجلوكوز، إلا أنهما يختلفان في خواصهما ووظائفهما. تصنع النباتات النشا والسليولوز. والنشا جزيء طري لا يذوب في الماء ويستعمل لتخزين الطاقة، في حين أن السليولوز بوليمر لا يذوب في الماء، ويكون الجدران القاسية للخلية النباتية، كتلك الموجودة في الخشب. ويعود السبب في هذا الاختلاف إلى أن الروابط التي تربط الوحدات الأساسية معاً تتجه اتجاهات مختلفة في الفراغ. وبسبب هذا الاختلاف في شكل الروابط يستطيع الإنسان أن يهضم الجللايكوجين والنشا، ولكنه لا يستطيع أن يهضم السليولوز. كما لا تستطيع إنزيمات الهضم أن تستوعب السليولوز في مواقعها النشطة. والسليولوز الذي في الفواكه والخضراوات والحبوب التي نأكلها، يسمى أليافاً غذائية؛ لأنه يمر في الجهاز الهضمي دون أن يتغير كثيراً.

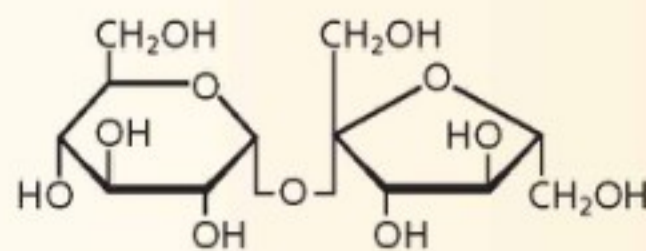
المطويات

ضمّن مطويتك معلومات من هذا القسم.

التقويم 6-2

الخلاصة

7. **الفكرة الرئيسية** اشرح وظائف الكربوهيدرات في المخلوقات الحية.
 8. صف تراكيب السكريات الأحادية والثنائية وعديدة التسكر؟
 9. قارن بين تراكيب النشا والسليولوز. كيف تؤثر الاختلافات في التركيب في قدرتنا على هضم هذين النوعين من السكريات؟
 10. احسب إذا كان لأحد الكربوهيدرات 2^n متشكل محتمل، حيث n تساوي عدد ذرات الكربون في التركيب، فاحسب عدد المتشاكلات المحتملة للسكريات الأحادية الأتية: الجللاكتوز، والجلوكوز، والفركتوز.
 11. تفسر الرسوم العلمية انسخ رسم السكروز على ورقة منفصلة، وضع دائرة حول مجموعة الإيثر الوظيفية التي تربط الوحدات الأساسية السكرية معاً.
- الكربوهيدرات مركبات تحتوي على مجموعات هيدروكسيل ($-OH$) متعددة، ومجموعة الكربونيل الوظيفية ($C=O$). يتراوح حجم الكربوهيدرات بين وحدات بناء أساسية مفردة إلى بوليمرات تتكون من مئات أو آلاف الوحدات الأساسية. توجد السكريات الأحادية في المحاليل المائية في تراكيب حلقية ومفتوحة السلسلة.





الليبيدات Lipids

الأهداف

الفكرة الرئيسية تكوّن الليبيدات الأغشية الخلوية، وتخزن الطاقة وتنظم العمليات الخلوية.

الربط مع الحياة ما الشيء المشترك بين الشمع الذي يستعمل في تلميع السيارات والدهن الذي يقطر من اللحم المشوي، وفيتامين (د) الذي يضاف إلى الحليب الذي يشربه الناس؟ جميعها ليبيدات.

ما الليبيد؟ What is a lipid?

الليبيدات جزيئات حيوية كبيرة غير قطبية. ولما كانت الليبيدات غير قطبية فهي غير قابلة للذوبان في الماء. وتؤدي الليبيدات وظيفتين رئيسيتين في المخلوقات الحية؛ تخزن الطاقة بشكل فعال، وتكوّن معظم تركيب الأغشية الخلوية، كما أنها تختلف عن البروتينات والكربوهيدرات في أنها ليست بوليمرات ذات وحدات بناء أساسية متكررة.

الأحماض الدهنية على الرغم من أن الليبيدات ليست بوليمرات، إلا أن لها وحدة بناء رئيسية مشتركة. ووحدات البناء هذه هي **الأحماض الدهنية**، وهي أحماض كربوكسيلية ذات سلاسل طويلة. وتحتوي معظم الأحماض الدهنية الطبيعية ما بين 12 و 24 ذرة كربون. ويمكن تمثيل تركيبها بالصيغة الآتية: $CH_3(CH_2)_nCOOH$

تحتوي معظم الأحماض الدهنية على عدد زوجي من ذرات الكربون، وهذا ناتج عن إضافتها ذرتين معاً في الوقت نفسه في تفاعلات إنزيمية. كما يمكن وضع الأحماض الدهنية في مجموعتين رئيسيتين؛ اعتماداً على وجود أو عدم وجود روابط ثنائية بين ذرات الكربون. وتُعرف الأحماض الدهنية التي لا تحتوي على روابط ثنائية بالمشبعة، في حين تسمى غير المشبعة إذا احتوت على رابطة ثنائية أو أكثر. ويبين الشكل 6-13 تركيب حمضين دهنيين شائعين.

✓ **ماذا قرأت؟** اشرح لماذا يوصف حمض الأوليك بأنه غير مشبع؟

- تصف تراكيب الأحماض الدهنية، والجليسريدات الثلاثية، والليبيدات الفوسفورية والستيرويدات.
- تشرح وظائف الليبيدات في المخلوقات الحية.
- تحدد بعض تفاعلات الأحماض الدهنية.

- تربط بين تركيب الأغشية الخلوية ووظيفتها.

مراجعة المفردات

غير قطبي من دون منطقتين منفصلتين موجبة وسالبة أو من دون قطبين.

المفردات الجديدة

- الليبيدات
- الأحماض الدهنية
- الجليسريدات الثلاثية
- التصبن
- الليبيدات الفوسفورية
- الشموع
- الستيرويدات

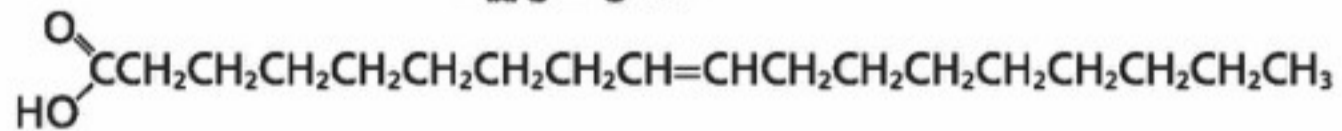
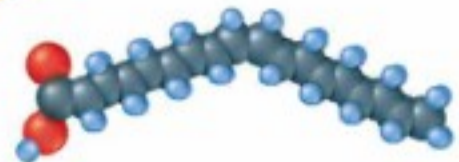
زبدة



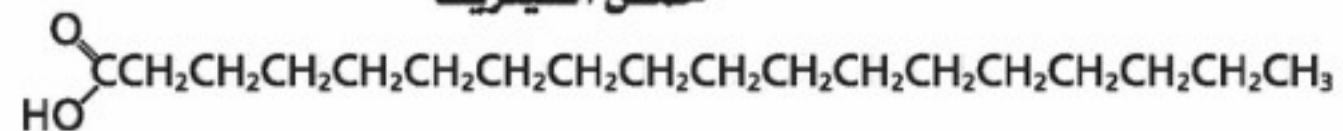

الشكل 6-13 حمض الأوليك غير المشبع ذو 18 ذرة كربون وحمض السيتريك المشبع يوجدان في العديد من الأطعمة، ومنها الزبد.

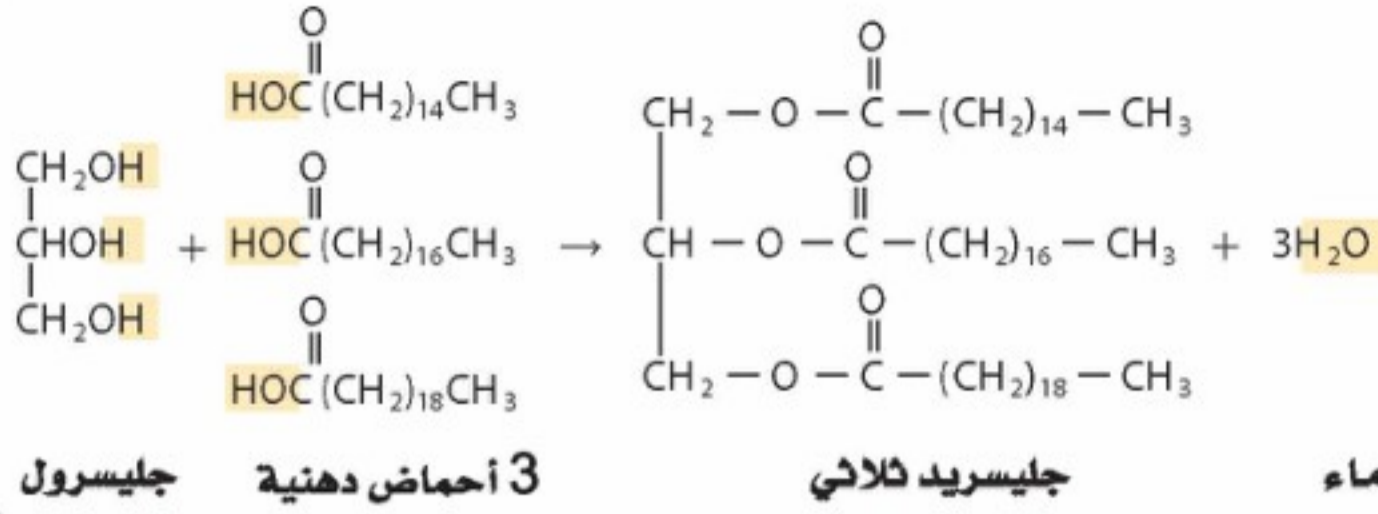
فسر كيف يتأثر تركيب الجزيء بوجود الرابطة الثنائية؟

حمض الأوليك



حمض السيتريك





الشكل 14-6 تتكون روابط الإستر في الجليسيريد الثلاثي عندما تتحد مجموعات الهيدروكسيل الموجودة في الجليسرول بمجموعات الكربوكسيل الموجودة في الأحماض الدهنية.

يمكن أن يتشبع الحمض الدهني غير المشبع إذا تفاعل مع الهيدروجين. ومن المعروف أن الهدرجة هي تفاعل إضافة يتم فيه تفاعل غاز الهيدروجين مع ذرات الكربون المرتبطة بروابط متعددة. وتستطيع كل ذرة كربون غير مشبعة أن تستوعب ذرة هيدروجين إضافية واحدة لتصبح مشبعة. فمثلاً، يمكن أن تتم هدرجة حمض الأوليك Oleic acid، في الشكل 13-6، ليكون حمض السيتريك.

توجد الروابط الثنائية في الأحماض الدهنية الطبيعية جميعها تقريباً في صورة المتشكل الهندسي سيس. ونظراً إلى اتجاه سيس فإن هذا لا يساعد على وجود تركيب الأحماض الدهنية غير المشبعة مترابطة. ونتيجة لذلك لا تتكون قوى تجاذب كثيرة بين الجزيئات كما في جزيئات الأحماض الدهنية المشبعة، ولذلك تكون درجات انصهار الأحماض الدهنية غير المشبعة أقل.

الجليسيريدات الثلاثية على الرغم من أن الأحماض الدهنية موجودة بكثرة في المخلوقات الحية، إلا أنها نادراً ما تكون وحدها. فهي تكون غالباً مرتبطة بالجليسرول، وهو جزيء من ثلاث ذرات كربون، ترتبط كل منها مع مجموعة هيدروكسيل. وعندما ترتبط ثلاثة أحماض دهنية بالجليسرول بروابط إستر يتكون **الجليسيريد الثلاثي**. ويبين الشكل 14-6 تكوين الجليسيريد الثلاثي. ويمكن أن تكون الجليسيريدات الثلاثية صلبة أو سائلة في درجة حرارة الغرفة، كما في الشكل 15-6. وعندما تكون سائلة تسمى عادة زيوتاً. أما إذا كانت صلبة في درجة حرارة الغرفة فتسمى دهوناً.

✓ **ماذا قرأت؟** حدد اثنين من الزيوت النباتية واثنين من الدهون الحيوانية.

المفردات

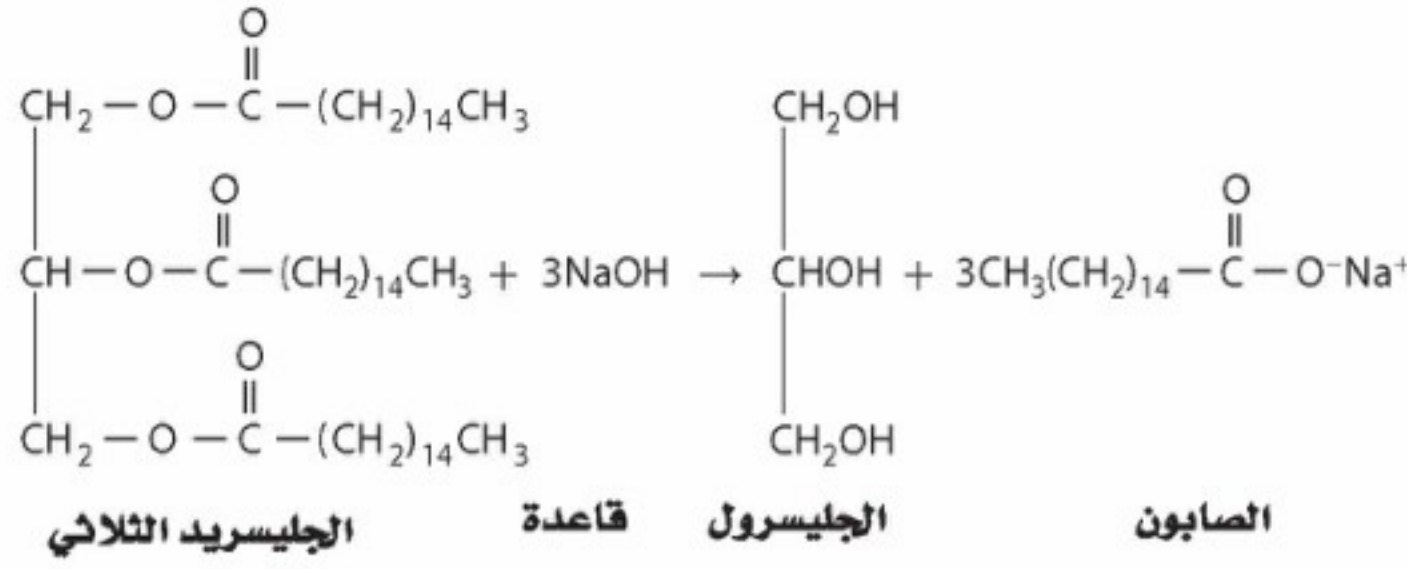
الاستخدام العلمي والاستخدام الشائع

يُشَبَّع (Saturate)

الاستخدام العلمي: يضيف شيئاً إلى حد أنه يمكن معه استيعاب المزيد أو ذوبانه أو الاحتفاظ به، مثل تشبّع الماء بالمح. الاستخدام الشائع: يزود السوق بمنتج أو منتجات إلى الحد الأقصى لطاقته الاستهلاكية.

الشكل 15-6 معظم مخاليط ثلاثي الجليسيريدات النباتية المصدر توجد في الحالة السائلة؛ لأن ثلاثي الجليسيريدات يحتوي على أحماض دهنية غير مشبعة، في حين تحتوي الدهون الحيوانية على كمية أكبر من الأحماض الدهنية المشبعة، لذا تكون عادة صلبة في درجة حرارة الغرفة.





الشكل 6-16 يتكون

الصابون من تفاعل

الجليسيريد الثلاثي وقاعدة

قوية.

وعندما تتوفر الطاقة بكثرة تخزن الخلايا الدهنية الطاقة الفائضة في الأحماض الدهنية على هيئة جليسيريد ثلاثي. وعندما تقل الطاقة تقوم الخلايا بتحليل الجليسيريد الثلاثي مطلقة الطاقة التي استعملت في تكوينها. ومع أن الإنزيمات تحلل الجليسيريد الثلاثي داخل الخلايا الحية إلا أنه يمكن إجراء تفاعل مشابه لذلك خارج الخلايا باستعمال قاعدة قوية مثل هيدروكسيد الصوديوم. ويسمى هذا التفاعل - تميته الجليسيريد الثلاثي مع وجود محلول مائي لقاعدة قوية لتكوين أملاح الكربوكسيلات والجليسرول - **التصبن**. ويستعمل تفاعل التصبن كما في الشكل 6-16، في إنتاج الصابون، وهو عبارة عن أملاح الصوديوم للأحماض الدهنية. ولجزء الصابون طرفان: طرف قطبي، وآخر غير قطبي.

يستعمل الصابون مع الماء في تنظيف الأوساخ والزيوت غير القطبية؛ لأن جزيئات الأوساخ والزيوت غير القطبية ترتبط بالطرف غير القطبي لجزيئات الصابون، في حين يكون الطرف القطبي لجزيئات الصابون قابلاً للذوبان في الماء. وهكذا يمكن إزالة جزيئات الصابون المحملة بالأوساخ باستعمال الماء.

تجربة

تفاعل التصبن (عملية صناعة الصابون) (saponification)

5. كيف يصنع الصابون؟ يُسمى التفاعل بين الجليسيريد الثلاثي وقاعدة قوية التصبن، كما في الشكل 6-16.

خطوات العمل

1. اقرأ نموذج السلامة في المختبر.
2. ضع كأساً سعتها 250mL على سخان كهربائي. وأضف 25g من السمن النباتي الصلب إليها. ثم أشعل السخان الكهربائي على درجة حرارة متوسطة.
3. استخدم مخباراً مدرجاً سعته 25ml لإضافة 12mL إيثانول ببطء في أثناء انصهار السمن النباتي، ثم أضف 5mL من NaOH تركيزه 6.0M إلى الكأس.

8. ضع الكأس جانباً، باستعمال الملقط، وعندما يجمد الخليط دعه يبرد مدة 5 دقائق، ثم ضعه في كأس سعتها 600 mL مملوءة بالماء البارد.

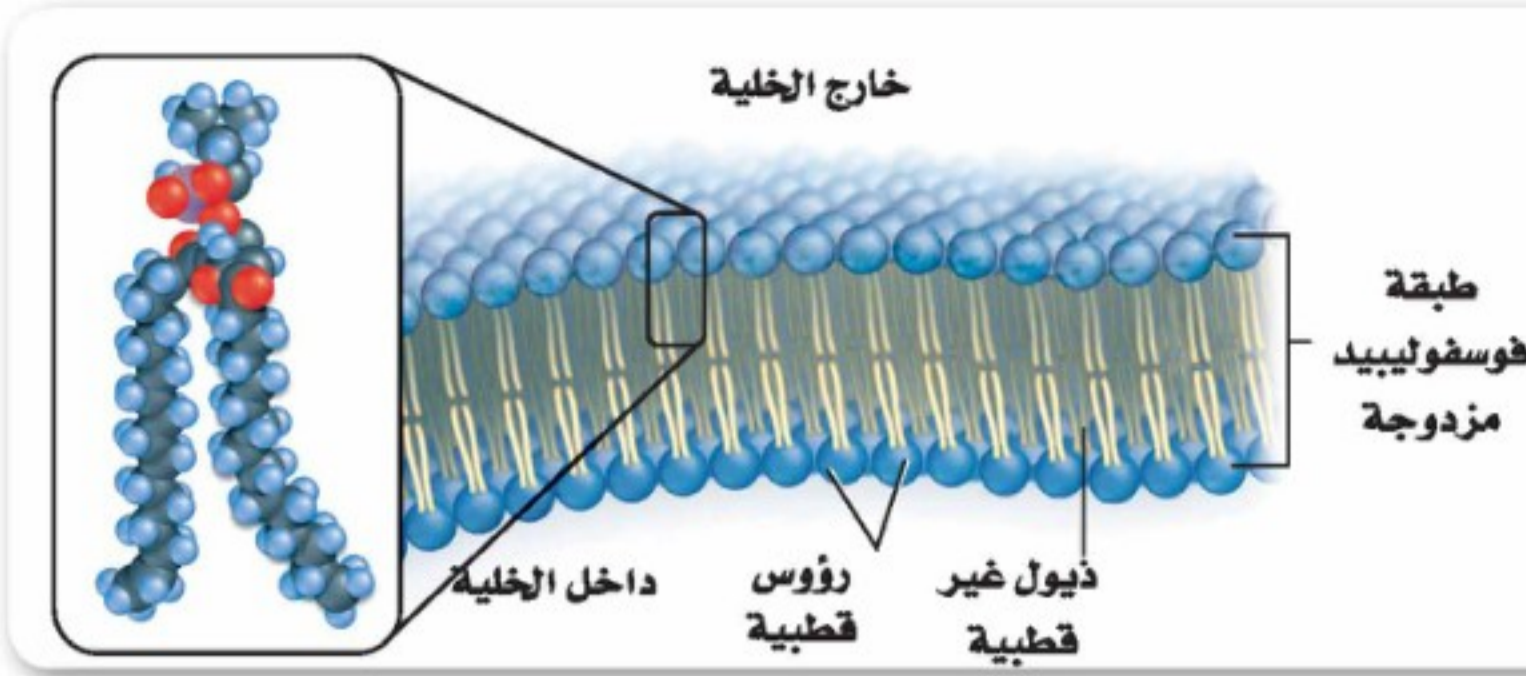
6. أضف 25mL من محلول NaCl المشبع إلى الخليط الذي في الكأس. ولأن الصابون ليس شديد الذوبان في الماء المالح فإنه سيبدو في صورة كتل صغيرة.

7. اجمع كتل الصابون بترشيحها خلال قطعة قماش موجودة كبطانة لقمع.

8. اضغط الصابون داخل طبق تبخير وأنت تلبس القفازين، ثم انزعها واغسل يديك.

التحليل

1. فسّر ما نوع الروابط التي تتحلل في الجليسيريد الثلاثي في أثناء تفاعل التصبن؟
2. حدّد نوع الملح الذي تكوّن في هذا التفاعل الكيميائي.
3. حدّد ما الطرف القطبي لجزء الصابون؟ وما الطرف غير القطبي؟

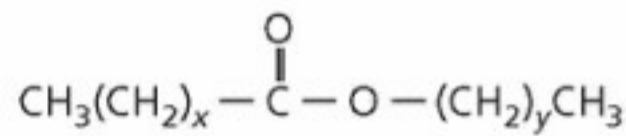


الشكل 6-17 تحتوي الليبيدات الفوسفورية على رأس قطبي وذيلين غير قطبيين. تتكون أغشية الخلايا من طبقة مزدوجة من الليبيدات تسمى ثنائية الطبقة. وتوجد الرؤوس القطبية في هذه الطبقة على المحيط الخارجي، بينما توجد الذيل غير القطبية في الداخل.

اللايبينز الفوسفوري (فوسفولايبينز) phospholipase هناك نوع مهم آخر من الجليسيريد الثلاثي يُسمى الليبيد الفوسفوري، يوجد بكثرة في الأغشية البلازمية. والليبيدات الفوسفورية جليسيريدات ثلاثية استبدل فيها أحد الأحماض الدهنية بمجموعة فوسفات قطبية، تكوّن الجزء القطبي من الجزيء رأساً، كما في الشكل 6-17، وتبدو الأحماض الدهنية غير القطبية في صورة ذيول. ويتكون الشكل النموذجي للغشاء البلازمي من طبقتين من الليبيد الفوسفوري، وهي مرتبة بحيث تكون ذيولها غير القطبية متجهة نحو الداخل ورؤوسها القطبية متجهة إلى الخارج. ويسمى هذا الترتيب الليبيد الثنائي الطبقة. ولما كان تركيب هذا الليبيد يعمل بوصفه حاجزاً، فإن الخلية تستطيع أن تنظم المواد التي تدخل خلال هذا الغشاء وتخرج منه.

الرابط مع علم الأحياء يحتوي سُم الأفاعي السامة على نوع من الإنزيمات يعرف بالليباز الفوسفوري. وتعمل هذه الإنزيمات عاملاً محفزاً لتحليل الليبيد الفوسفوري - وهو جليسيريد ثلاثي استبدل فيه أحد الأحماض الدهنية بمجموعة فوسفات. ويحتوي سُم أحد أنواع الأفاعي على الليبيز الفوسفوري الناتج عن تفكك (تميته) رابطة الإستر لذرة الكربون الوسطى في الليبيد الفوسفوري. وإذا دخل الجزء الأكبر من ناتج هذا التفاعل إلى مجرى الدم فإنه يذيب أغشية كريات الدم الحمراء فتتمزق. إن لدغة هذه الأفعى يمكن أن تؤدي إلى الموت إذا لم يتم علاجها فوراً.

الشموع عبارة عن نوع آخر من الليبيدات تحتوي أيضاً على أحماض دهنية. والشموع ليبيدات تتكون من اتحاد حمض دهني مع كحول ذي سلسلة طويلة. وتبين الصيغة أدناه التركيب العام لهذه الدهون الصلبة الطرية ذات درجات الانصهار المنخفضة، حيث تمثل x و y أعداداً مختلفة من مجموعات CH_2 .



تنتج النباتات والحيوانات الشمع، وكثيراً ما تُغطى أوراق النبات بالشمع الذي يمنع فقدان الماء. ويبين الشكل 6-18 كيف أن قطرات المطر تكون كرات كالحرز على أوراق النبات، مما يشير إلى وجود طبقة شمعية. كما أن أقراص العسل التي يبنها النحل مصنوعة أيضاً من الشمع الذي يعرف عادة باسم شمع النحل. واتحاد حمض البالميتيك المكون من حمض دهني ذي 16 ذرة كربون مع كحول يحتوي على سلسلة من 30 ذرة كربون يؤدي إلى تكوين نوع شائع من شمع النحل. وتُصنع الشموع أحياناً من شمع العسل؛ لأنه يميل إلى الاحتراق ببطء وهدوء.

الشكل 6-18 تنتج النباتات شمعاً يغطي أوراقها ويحميها من الجفاف.



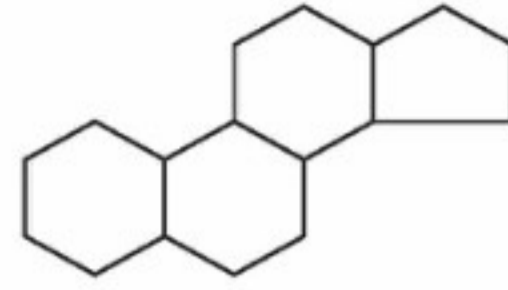


الشكل 6-19 يستعمل العلجوم البحري العملاق سُمًا ستيرويديًا يُدعى بوفوتوكسين بوصفه آلية دفاع. ويُعدّ هذا السمّ قاتلاً لبعض الحيوانات كالكلاب والقطط.

المطويات

ضمّن مطويتك معلومات من هذا القسم.

الستيرويدات لا تحتوي جميع الستيرويدات على سلاسل أحماض دهنية؛ فالستيرويدات لبيدات تحتوي تراكيبيها على حلقات متعددة. وجميع الستيرويدات مبنية من تركيب الستيرويد الأساسي المكوّن من الحلقات الأربع الميئة أدناه.



وبعض الهرمونات - ومنها العديد من الهرمونات الجنسية - هي ستيرويدات تنظم عمليات الأيض. ويُعد الكولسترول - وهو ستيرويد آخر - مكوناً بنائياً مهماً للأغشية الخلوية، كما أن فيتامين (د) أيضاً يحتوي على تركيب الستيرويد ذي الحلقات الأربع، ويؤدي دوراً في تكوين العظام. أما العلجوم البحري العملاق *Bufo marinus*، كما في الشكل 6-19، فيستعمل ستيرويد يسمى بوفوتوكسين بوصفه آلية دفاعية؛ إذ يفرز السم من نتوءات صغيرة على ظهره ومن غدد خلف عينيه مباشرة. هذا السمّ هو مجرد مادة مهيجة للإنسان. أما للحيوانات الصغيرة فإنه يؤدي إلى إسالة لعابها، وفقدان التوازن، والتشنجات، والموت.

التقويم 6-3

الخلاصة

- الأحماض الدهنية أحماض كربوكسيلية طويلة السلاسل تحتوي عادة على ما بين 12 و 24 ذرة كربون.
- لا تحتوي الأحماض الدهنية المشبعة على روابط ثنائية؛ في حين تحتوي الأحماض الدهنية غير المشبعة على رابطة ثنائية أو أكثر.
- يمكن أن ترتبط الأحماض الدهنية مع الجليسرول لتكوّن الجليسرود الثلاثي.
- الستيرويدات لبيدات تحتوي على تراكيبي متعددة الحلقات.

12. الفكرة الرئيسية صف وظيفة الستيرويدات.

13. صف تراكيبي الأحماض الدهنية، والجليسرودات الثلاثية، والستيرويدات الفوسفورية، والستيرويدات، والشمع.

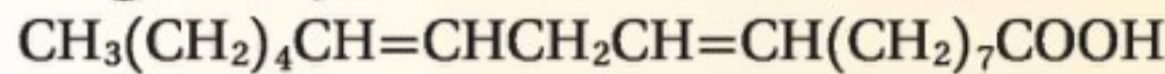
14. اعمل قائمة بوظيفة مهمة لكل من الستيرويدات الآتية:

- a. الجليسرودات الثلاثية c. الشموع
b. الستيرويدات الفوسفورية d. الستيرويدات

15. اذكر تفاعلين من تفاعلات الأحماض الدهنية.

16. صف تركيب الأغشية الخلوية وعملها.

17. اكتب معادلة الهدرجة الكاملة للحمض الدهني غير المشبع وحمض اللينوليك.



18. تفسير الرسوم العلمية ارسم البناء العام الخاص ب الستيرويدات الفوسفورية، وعيّن عليه الأجزاء القطبية وغير القطبية.



الأحماض النووية Nucleic Acids

الأهداف

- تحديد المكونات البنائية للأحماض النووية.
- ترابط وظيفة DNA بتركيبه.
- تصف تركيب RNA ووظيفته.

الفكرة الرئيسية: تخزين الأحماض النووية المعلومات الوراثية ونقلها.

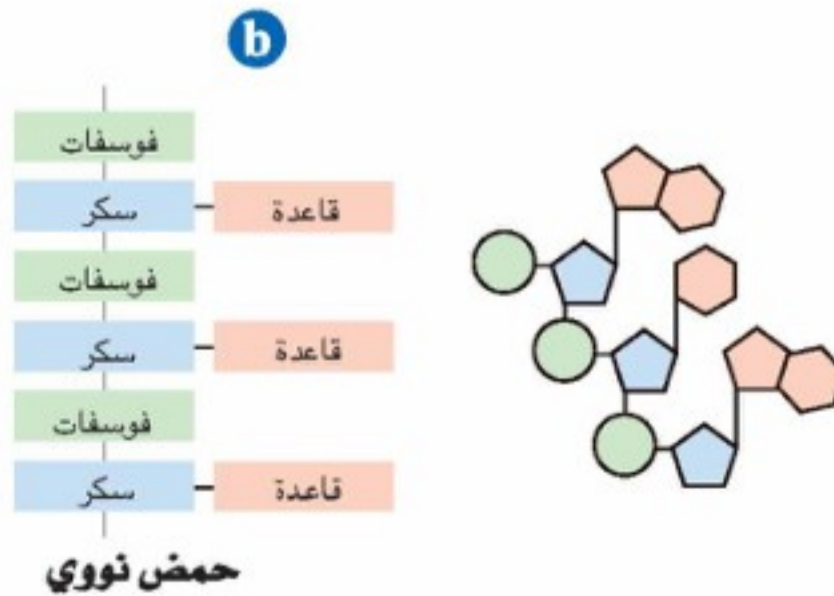
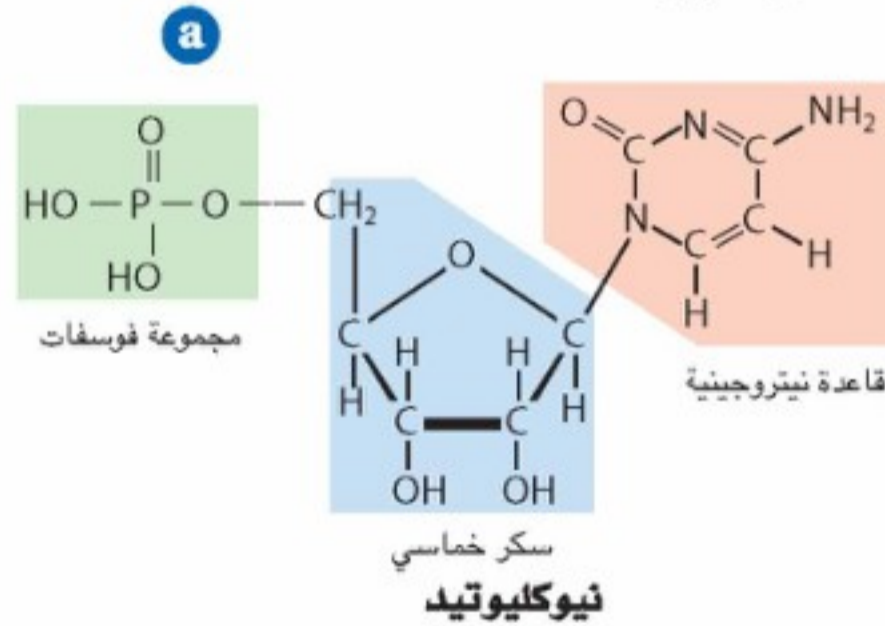
الربط مع الحياة أصبح فحص DNA شيئاً عادياً في الطب والعلم الجنائي، وعلم الأنساب، والتعرف على ضحايا الكوارث. ولقد مكنتنا التقنية الحديثة من الحصول على عينة DNA مفيدة من مصادر مدهشة كشعرة أو لعاب جاف على طابع بريدي.

تركيب الأحماض النووية Structure of Nucleic Acids

تشكل الأحماض النووية نوعاً رابعاً من الجزيئات الحيوية. وهي جزيئات تخزن المعلومات في الخلية. وقد أخذت هذه الجزيئات اسمها من الموقع الخلوي الذي توجد فيه هذه الجزيئات بشكل رئيس، وهو النواة. وتقوم الأحماض النووية بوظائفها الرئيسية من مركز التحكم هذا. والحمض النووي بوليمر حيوي يحتوي على النيتروجين، ويقوم بتخزين المعلومات الوراثية ونقلها. وتسمى وحدة البناء الأساسية للحمض النووي النيوكليوتيد. ولكل نيوكليوتيد ثلاثة أجزاء: مجموعة فوسفات غير عضوية، وسكر أحادي ذو خمس ذرات كربون، وتركيب يحتوي على نيتروجين يسمى قاعدة نيتروجينية. تفحص أجزاء الشكل 6-20a، فعلى الرغم من أن مجموعة الفوسفات هي نفسها في جميع النيوكليوتيدات، إلا أن السكر والقاعدة النيتروجينية يختلفان.

يحتوي الحمض النووي على سكر أحادي مكون من 5 ذرات كربون ويسمى سكر (بتوز) pentose من أحد النيوكليوتيدات مرتبط بفوسفات نيوكليوتيد آخر، كما في الشكل 6-20b. وهكذا تشكل النيوكليوتيدات سلسلة، أو شريطاً، يحتوي على سكر خماسي ومجموعات فوسفات متناوبة. وكل سكر خماسي يرتبط أيضاً بقاعدة نيتروجينية تبرز من السلسلة. وتتكدس القواعد النيتروجينية على وحدات النيوكليوتيدات المتجاورة واحدة فوق الأخرى في وضع منحرف قليلاً، فتشبه درجات السلم، كما في الشكل 6-20b. وتبقي القوى بين الجزيئية كل قاعدة نيتروجينية قريبة من القواعد النيتروجينية التي فوقها والتي تحتها.

الشكل 6-20 النيوكليوتيدات وحدات البناء الأساسية التي تتكون منها بوليمرات الأحماض النووية.



يحتوي كل نيوكليوتيد على قاعدة تحتوي على نيتروجين وسكر خماسي ومجموعة فوسفات.

الأحماض النووية سلاسل طويلة من سكريات ومجموعات فوسفات متعاقبة. ويرتبط بكل سكر قاعدة نيتروجينية، ولأن النيوكليوتيدات ملتوية فإن السلاسل تشبه درجات السلم.



DNA: The Double Helix اللولب المزدوج DNA

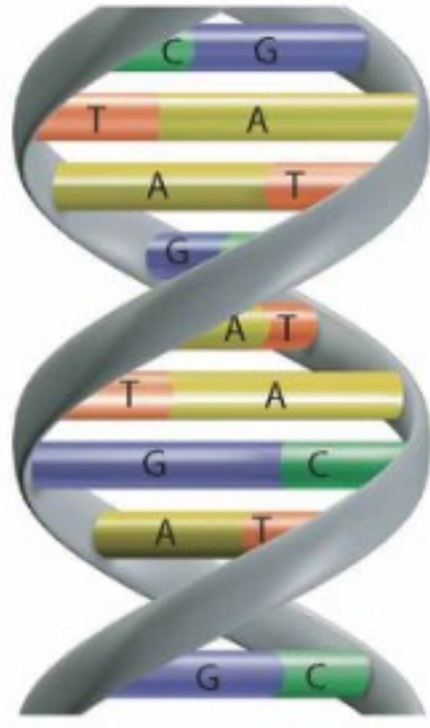
ربما سمعت عن حمض ديوكسي رايبونوكليك DNA، وهو أحد نوعين من الأحماض النووية التي توجد في الخلايا الحية؛ إذ يحتوي DNA على الخطط الرئيسية لبناء جميع بروتينات جسم المخلوق الحي.

تركيب DNA يتكون DNA من سلسلتين طويلتين من النيوكليوتيدات ملتفتين معاً لتشكلا بناءً حلزونياً كما في الشكل 21-6. ويحتوي كل نيوكليوتيد في DNA على مجموعة فوسفات، وسكر ديوكسي رايبوز ذي الخمس ذرات من الكربون وهو عبارة عن سكر خماسي منقوص الأوكسجين Deoxyribose، وقاعدة نيتروجينية. وتشكل جزيئات السكر ومجموعات الفوسفات المتعاقبة في كل سلسلة الجزء الخارجي، أو العمود الفقري للتركيب اللولبي. أما القواعد النيتروجينية فتوجد داخل التركيب. ولأن البناء اللولبي يتكون من سلسلتين فهو يعرف باللولب المزدوج.

يحتوي DNA على أربع قواعد نيتروجينية مختلفة هي: الأدينين (A)، الثايمين (T)، السيتوسين (C)، والجوانين (G). إذ يحتوي كل من الأدينين والجوانين على حلقة مزدوجة، كما في الشكل 22-6. أما الثايمين والسيتوسين فلها تركيبان أحادي الحلقة. انظر مرة أخرى إلى الشكل 21-6 تلاحظ أن كل قاعدة نيتروجينية على شريط من اللولب تقابلها قاعدة نيتروجينية على الشريط المقابل، بالطريقة نفسها التي تتقابل بها أسنان السحاب المنزلق. وتتقارب أزواج القواعد المتجاورة إلى حد تتكون بينها روابط هيدروجينية. ولما كانت كل قاعدة نيتروجينية لديها ترتيب فريد من المجموعات الوظيفية العضوية التي تستطيع أن تكون روابط هيدروجينية، فإن القواعد النيتروجينية تشكل دائماً أزواجاً بطريقة معينة، حيث يتكون دائماً العدد الأفضل من الروابط الهيدروجينية.

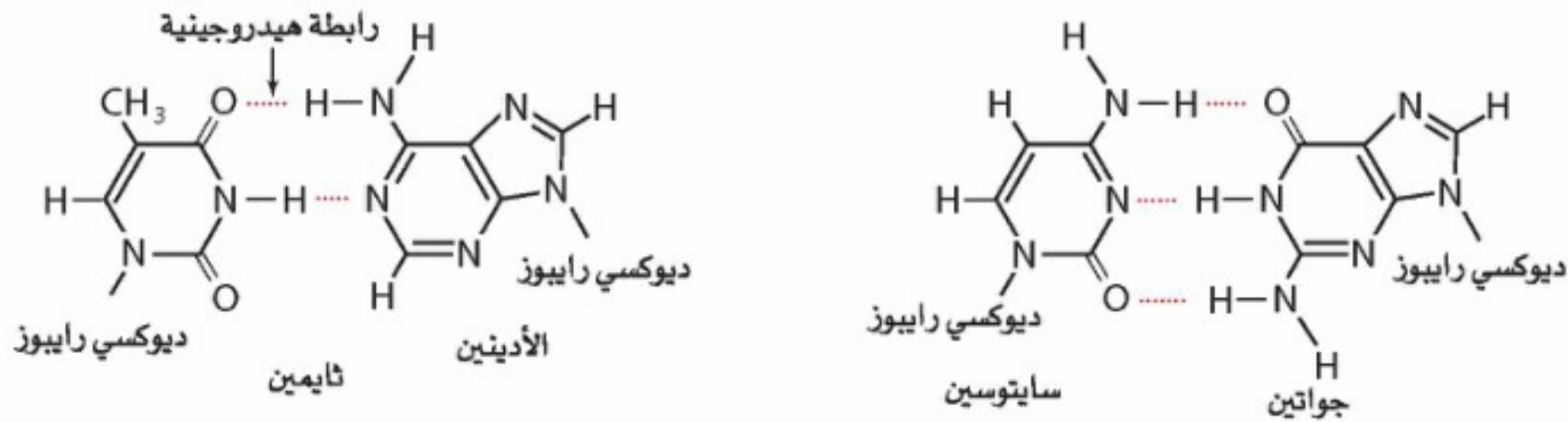
✓ ماذا قرأت؟ صف مم يتكون أسنان سحاب DNA المنزلق؟

ويرتبط الجوانين دائماً بالسيتوسين، ويرتبط الأدينين دائماً بالثايمين، كما في الشكل 22-6. وتسمى أزواج G-C و A-T أزواجاً قاعدية متطابقة. ولذلك تساوي كمية الأدينين في جزيء DNA دائماً كمية الثايمين، وكمية السيتوسين دائماً تساوي كمية الجوانين. وفي عام 1953م استخدم جيمس واطسون وفرانسيس كريك هذه الملاحظة ليقوما بأحد أعظم الاكتشافات العلمية في القرن العشرين عندما حددا تركيب DNA ذا اللولب المزدوج. لقد حققا هذا الإنجاز دون أن يقوموا بالعديد من التجارب المخبرية، بل قاما بدلاً من ذلك بتجميع أعمال عدد كبير من العلماء الذين قاموا بدراسة DNA وتحليلها.



الشكل 21-6 تركيب DNA هو لولب مزدوج يشبه سحاباً منزلقاً ملتويًا. ويتكون العمودان الفقريان من السكر والفوسفات، ويشكلان الجانبين الخارجيين للسحاب المنزلق.

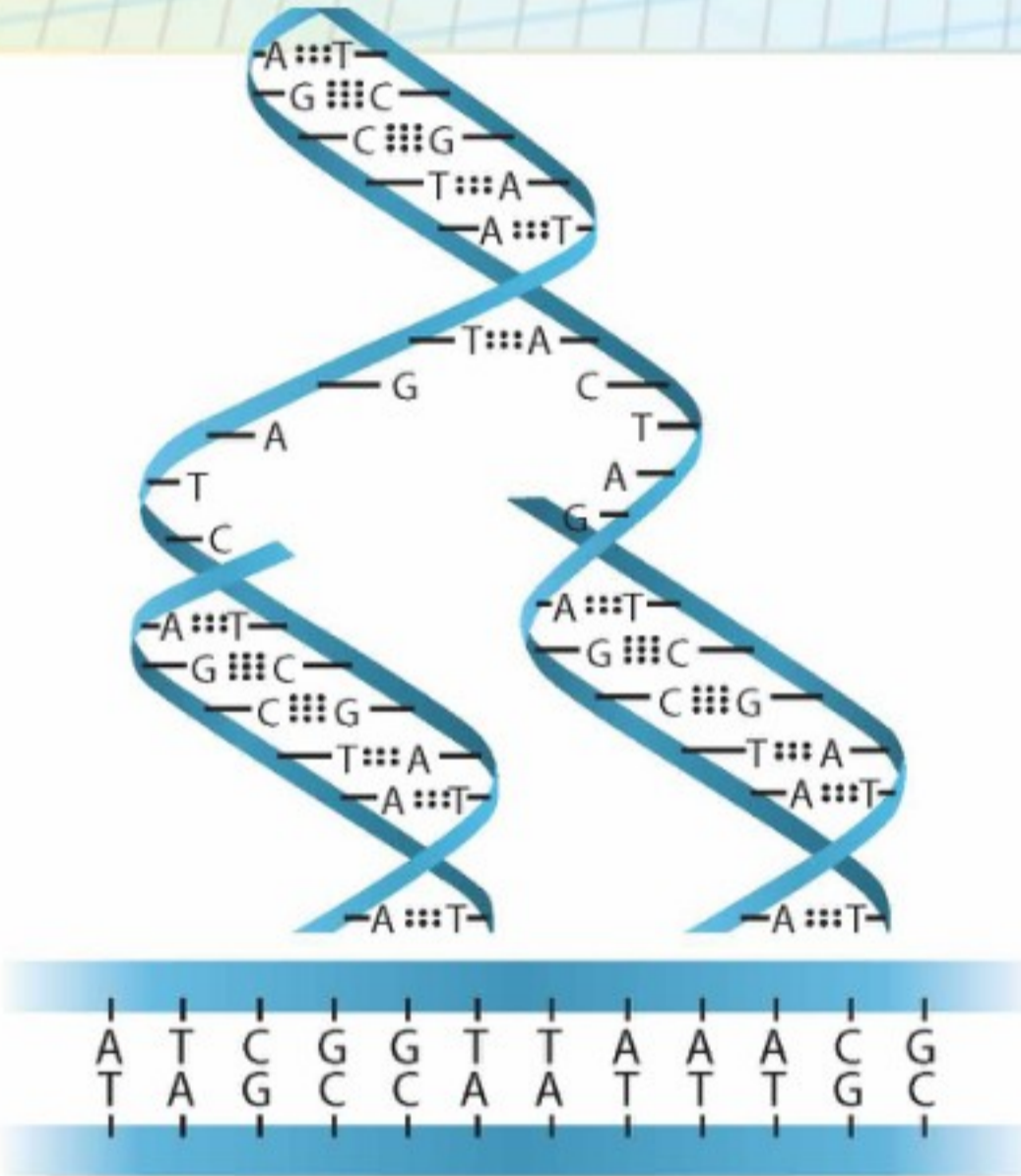
الشكل 22-6 يحدث تزاوج القواعد في DNA بين قاعدة ذات حلقتين وقاعدة ذات حلقة واحدة؛ حيث يتزاوج الأدينين والثايمين دائماً ويشكلان زوجاً بينهما رابطتان هيدروجينيتان، ويتزاوج الجوانين والسيتوسين دائماً فيكونان زوجاً يرتبطان بثلاث روابط هيدروجينية.



وظيفة DNA استخدم واطسون وكريك نموذجها لتوقع كيف يمكن أن يؤدي تركيب DNA الكيميائي وظيفته. يخزن DNA المعلومات الوراثية للخلية في النواة، ويُنسخ DNA قبل انقسام الخلية حتى يحصل الجيل الجديد من الخلايا على المعلومات الوراثية نفسها. وبعد أن قرر واطسون وكريك أن سلسلتي لولب DNA تكمل إحداهما الأخرى، أدركا أن الأزواج القاعدية المتطابقة تنسخ المادة الوراثية للخلية بطريقة آلية. فقواعد DNA النيتروجينية الأربع تتخذ حروفاً أبجدية في لغة تخزين المعلومات للخلايا الحية. ويمثل التسلسل المحدد لهذه الحروف التعليمات الشاملة للمخلوق الحي، كما يحمل تسلسل الحروف في كلمات جملة ما معنى خاصاً. ويختلف تسلسل القواعد في كل نوع من المخلوقات الحية، مما يسمح بتنوع ضخم من أشكال الحياة - وكل ذلك عن طريق لغة تستخدم أربعة حروف فقط. ويقدر أن DNA الخلية البشرية يحتوي على نحو ثلاثة مليارات زوج من القواعد النيتروجينية المتطابقة، مرتبة في تسلسل خاص بالبشر.

مختبر حل المشكلات

كُون نموذجًا



كيف يتضاعف DNA؟ يتضاعف DNA قبل انقسام الخلية؛ حيث تحصل كل من الخليتين الجديدتين على مجموعة كاملة من التعليمات الوراثية. وعندما يبدأ DNA في التضاعف، يبدأ شريطا النيوكليوتيد بالانفكاك، ويقوم إنزيم بفك الروابط الهيدروجينية بين القواعد النيتروجينية فينفصل الشريطان. كما تقوم إنزيمات أخرى بإيصال نيوكليوتيدات حرة من الوسط المحيط إلى القواعد النيتروجينية المكشوفة، فيرتبط الأدينين بروابط هيدروجينية مع الثايمين، ويرتبط السائتوسين بالجوانين. وهكذا يقوم كل شريط ببناء شريط مكمل عن طريق مزاجية القواعد بالنيوكليوتيدات الحرة. وهذه العملية موضحة في الرسم المجاور. وبعد أن يتم ارتباط النيوكليوتيدات الحرة بالروابط الهيدروجينية في أماكنها، تقوم السكريات والفوسفات بالارتباط بروابط تساهمية بالسكريات ومجموعات الفوسفات على النيوكليوتيدات المجاورة لتكوّن عموداً فقرياً جديداً. ويرتبط كل شريط من جزيء DNA الأصلي بشريط جديد.

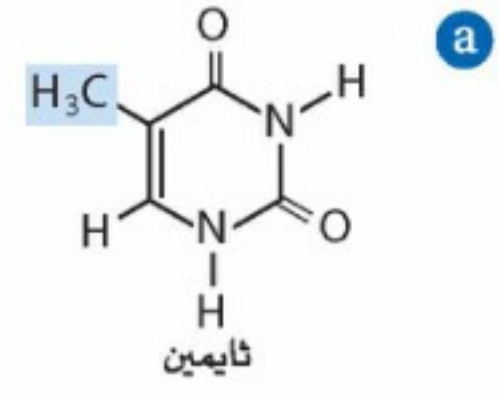
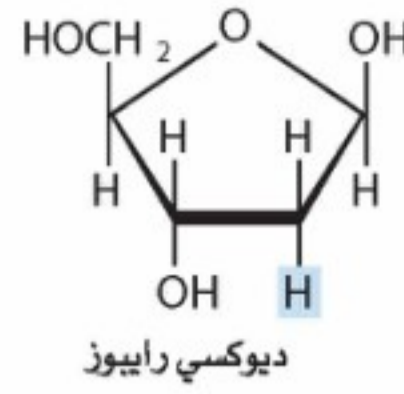
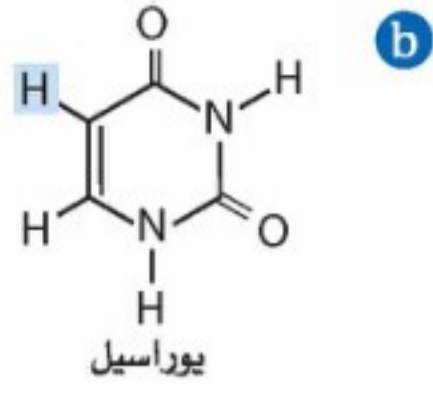
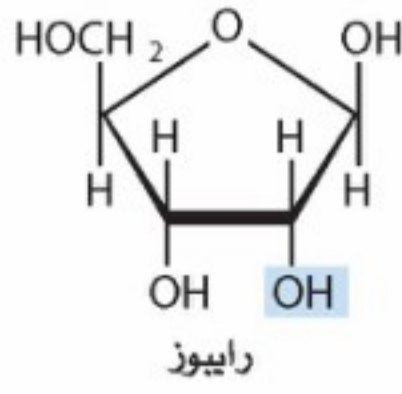
التحليل

يبين الرسم السفلي إلى اليسار قطعة صغيرة من جزيء DNA. انسخ تسلسل القواعد على ورقة نظيفة، وكن حذراً حتى لا تخطئ في النسخ. وبيّن خطوات التضاعف لإنتاج قطعتين من DNA.

التفكير الناقد

1. قارن بين التسلسل في الشريط الذي صنع حديثاً والتسلسل في الشريط الأصلي الذي يرتبط به.

2. اشرح إذا لَوْنت قطعة DNA الأصلية باللون الأحمر ولَوْنت النيوكليوتيدات الحرة باللون الأزرق، فما نمط الألوان الذي سيكون في قطعة DNA التي تكوّن حديثاً؟ وهل ستكون جميع القطع الجديدة لها الألوان نفسها؟
3. اشرح كيف يمكن أن يتأثر المخلوق الحي إذا حدث خطأ في أثناء تضاعف DNA فيه؟ وهل التأثيرات دائمة؟ وضح إجابتك.



الشكل 6-23 يختلف DNA و RNA من حيث مكوناتهما؛ فالتركيبان عن اليمين موجودان في DNA، أما التركيبان عن اليسار فموجودان في RNA. حدّد اختلافين في تركيب RNA و DNA.

RNA

حمض الرايبونوكليك حمض نووي، يختلف تركيبه العام عن تركيب DNA في ثلاث طرائق مهمة، كما في الشكل 6-23. أولاً أن DNA يحتوي على القواعد النيتروجينية الأدينين، والسيتوسين، والجوانين، والثايمين. في حين يحتوي RNA على الأدينين، والسيتوسين، والجوانين، واليوراسيل. ولا يوجد الثايمين أبداً في RNA. ثانياً، يحتوي RNA على سكر الرايبوز، في حين يحتوي DNA على سكر الديوكسي رابيوز الذي يوجد فيه ذرة هيدروجين بدل مجموعة هيدروكسيل في أحد المواقع.

المطويات
ضمّن مطويتك معلومات من هذا القسم.

أما الفرق الثالث بين DNA و RNA فهو في الشكل؛ إذ يكون DNA عادة على شكل لولب ثنائي؛ حيث تقوم الروابط الهيدروجينية بربط السلسلتين معاً عن طريق قواعدهما. في حين يتكون RNA من شريط واحد دون وجود روابط هيدروجينية بين القواعد.

ويخزن DNA المعلومات الوراثية، في حين يمكن RNA الخلايا من استخدام المعلومات الموجودة في DNA. لقد تعلمت أن المعلومات الوراثية للخلية موجودة في تسلسل من القواعد النيتروجينية في جزيء DNA. وأن الخلايا تقوم باستعمال تسلسل القواعد هذا لتكوّن RNA بتسلسل متطابق. ومن ثم يستعمل RNA لصنع بروتينات بتسلسل من الأحماض الأمينية يتقرر بترتيب القواعد النيتروجينية في RNA، وتسمى هذه التسلسلات باسم الشفرة الوراثية. ولما كانت البروتينات هي الأدوات الجزيئية التي تقوم بمعظم النشاطات في الخلية، لذا يعد اللولب المزدوج لـ DNA هو المسؤول في النهاية عن التحكم في آلاف التفاعلات الكيميائية التي تحدث في الخلايا.

التقويم 6-4

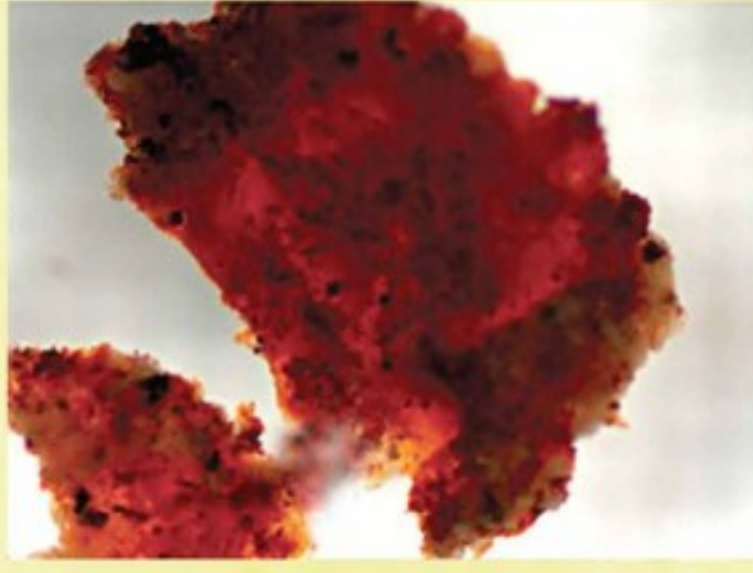
الخلاصة

- الأحماض النووية بوليمرات من النيوكليوتيدات التي تتكون من قاعدة نيتروجينية، ومجموعة فوسفات، وسكر خماسي
- DNA و RNA هي جزيئات تخزين معلومات للخلية.
- يتكون DNA من شريطين، في حين يتكون RNA من شريط واحد.

19. الفكرة الرئيسية: اشرح الوظيفة الأساسية لكل من DNA و RNA.
20. حدّد المكونات البنائية الخاصة لكل من DNA و RNA.
21. اربط وظيفة DNA بتركيبه.
22. حلّل تركيب الأحماض النووية، ثم حدّد التركيب الذي يجعلها أحماضاً.
23. توقع ماذا يحدث إذا احتوى DNA الذي يحمل شفرة صنع بروتين على تسلسل قواعد خاطئ؟

في الممدان

المهنة: عالم البيولوجيا الجزيئية فحص الدمض يكشف مفاجأة



شكل 2 وجد العلماء أيضاً أوعية دموية وخلايا منفردة في النسيج اللين للديناصور.

الاختبار الحمضي The Acid Test لدراسة العظم النخاعي عن كذب أذابت شفايتزر كسرًا من العظم في حمض مخفف للتخلص من فوسفات الكالسيوم، وهذه تقنية تستعمل عادة في فحص النسيج الحديث. ولما كان العظم المتحجر قد تحوّل عادة إلى مادة معدنية، لذا كان يُفترض أن يذوب كليًا في الحمض المخفف، إلا أن هذه الخطوة أعطت نتائج مذهلة؛ إذ وجد نسيج لين داخل العظم. وقد ظهر تحت المجهر أن هذا النسيج عبارة عن أوعية دموية محفوظة، بالإضافة إلى خلايا منفردة، كما في الشكل 2.

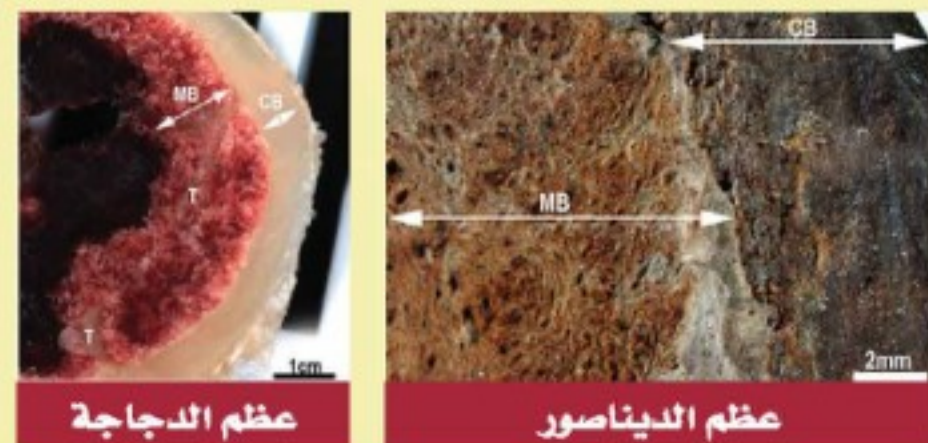
ولكن كيف يمكن أن يبقى النسيج طرياً مدة 68 مليون سنة في الأرض؟

المزيد من العمل More Work قامت شفايتزر بعد ذلك بفحص عظام أخرى بالاختبار الحمضي نفسه ووجدت نسيجاً ليناً وتراكيب دقيقة مشابهة. ولا يعلم أحد حتى الآن ما الذي تظهره هذه التراكيب الدقيقة. إلا أن أحد العلماء يقول: "ربما تكون هناك أشياء كثيرة غفلنا عنها بسبب افتراضنا كيف تحدث عملية الحفظ"، ومن الواضح أن ذلك يتطلب المزيد من البحث.

"لا يوجد عالم بيولوجيا جزيئية ذو تفكير صحيح يعمل ماعملته ماري شفايتزر Mary Schweitzer. نحن لا نبذل كل هذا الجهد لإخراج هذه الأشياء من الأرض لندمرها في حمض". هذا ما قاله أحد زملاء ماري شفايتزر، العاملة التي استخدمت تقنيات البيولوجيا الجزيئية لتكشف نسيجاً ليناً يجب ألا يكون موجوداً في عظم فخذ ديناصور متحجر منذ 68 مليون سنة.

الأم بوب Mother Bob عندما قام علماء البيولوجيا الجزيئية باستخراج الديناصور المتحجر الذي أطلق عليه لقب "بوب" عام 2003 م من منطقة نائية في ولاية مونتانا الأمريكية، وضعت العظام في غطاء من الجبس لحمايتها في أثناء عملية النقل. ولكن كان وزن العظام والجبس يفوق قدرة الطائرة العمودية على حمله، مما اضطر علماء البيولوجيا الجزيئية أن يكسروا عظم الفخذ لكي يستطيعوا نقل الديناصور من تلك المنطقة النائية. وقد أخذت شفايتزر كسرًا من عظم الفخذ لدراستها دراسة إضافية. وقد جاءت المفاجأة الأولى بسرعة؛ حيث كانت "بوب" أنثى، وكانت تتج البيض عند وفاتها. والعظم الذي درسته شفايتزر يسمى عظمًا نخاعياً. وكان هذا النسيج العظمي معروفاً سابقاً في الطيور فقط، كما في الشكل 1. إذ ينتج الدجاج البيض العظم النخاعي، ويستعمل لاحقاً الكالسيوم المخزن في العظم لتكوين قشر البيض. وبعد إنتاج البيض يختفي هذا العظم. ويبين الشكل 1 العظم النخاعي الموجود في عظم الديناصور "بوب".

شكل 1 يحتوي كل من عظم الدجاجة وعظم الديناصور على عظم خارجي قاس يسمى العظم القشري (CB)، وعظم أليّن يسمى العظم النخاعي (MB).



عظم الدجاجة

عظم الديناصور

الكيمياء

الكتابة في كتابة للاقتناع من غير المحتمل أن يوجد DNA الديناصور في هذه الأنسجة اللينة. وعلى الرغم من ذلك فإن هذا الاكتشاف يثير السؤال الآتي: هل يمكن استنساخ الحيوانات المنقرضة من DNA الذي يتم الحصول عليه؟ اكتب مقالة إقناعية تعبر فيها عن رأيك حول هذا السؤال.

مختبر الكيمياء

فعل الإنزيم ودرجة الحرارة

13. أعد الخطوات من 4 إلى 12 مستعملاً 2 mL من معجون الكبد بدلاً من معجون لب البطاطس.

جدول البيانات		
حوض ماء	درجة الحرارة (°C)	ارتفاع الرغوة (cm)
البطاطس		
ماء مثلج		
ماء في درجة حرارة الغرفة		
ماء في درجة حرارة الجسم		
ماء مغلي (قريب من 100 °C)		
الكبد		
ماء مثلج		
ماء في درجة حرارة الغرفة		
ماء في درجة حرارة الجسم		
ماء مغلي (قريب من 100 °C)		

14. التنظيف والتخلص من النفايات تخلص مما تبقى من المحاليل بحسب توجيهات معلمك، ثم اغسل أدوات المختبر، وأعدّها إلى أماكنها المخصصة.

التحليل والاستنتاج

1. الرسوم البيانية واستعمالها مثل البيانات بالأعمدة واضعاً درجة الحرارة على محور السينات وارتفاع الرغوة على محور الصادات، واستعمل لوناً مختلفاً لكل من بيانات البطاطس، والكبد، وأعمدتها.
2. لخص كيف تؤثر درجة الحرارة في عمل الإنزيمات؟ واستنتج لماذا كان التفاعل الأنشط في درجة الحرارة التي وجدتها؟
3. السبب والنتيجة أيّ الأنابيب كانت فيها الرغوة لكل من البطاطس والكبد هي الأقل؟ اقترح تفسيراً لما حدث.
4. قارن هل أيّدت البيانات المخبرية فرضيتك في الخطوة 2؟ وضح إجابتك.
5. نموذج اكتب معادلة موزونة لتحلل فوق أكسيد الهيدروجين لكل تفاعل. كيف يتشابه التفاعل؟ ولماذا؟
6. تحليل الخطأ حدّد مصادر الخطأ المحتملة لهذه التجربة، واقترح طرائق لتصحيحها.

الاستقصاء

صمّم تجربة هل يؤثر التغير في pH في النتائج؟ صمّم تجربة لتكتشف الإجابة.

الخلفية النظرية الإنزيمات عوامل محفزة طبيعية تستعملها المخلوقات الحية لتسريع التفاعلات، وهذه البروتينات تراكيب متخصصة تمكنها من التفاعل مع مواد محددة.

سؤال كيف تؤثر درجة الحرارة في عمل الإنزيمات؟

المواد والأدوات اللازمة

لب البطاطس الحمراء	مخبار مدرج 25 mL
فوق أكسيد الهيدروجين (3% H ₂ O ₂)	مقياس درجة حرارة
ماء	مسطرة
كأس سعتها 250 mL عدد 4	قطع ثلج
أنبوب اختبار عدد 4	ساعة
حامل أنابيب اختبار	سخان كهربائي
ماسك أنابيب اختبار	كبدة طازجة ونيئة

إجراءات السلامة 

خطوات العمل

1. اقرأ نموذج السلامة في المختبر.
2. اكتب فرضية تحدد درجة الحرارة التي تكون الإنزيمات عندها أكثر نشاطاً.
3. انسخ جدول البيانات على ورقة منفصلة.
4. ضع أنابيب الاختبار الأربعة في حامل الأنابيب.
5. ضع 2.0 mL من معجون لب البطاطس في كل أنبوب اختبار.
6. مستعمل السخان الكهربائي والثلج جهز أربع كؤوس عند درجات حرارة مختلفة؛ تحتوي الأولى على ماء مثلج، والثانية على ماء في درجة حرارة الغرفة، والثالثة على ماء في درجة حرارة الجسم، والرابعة على ماء في درجة الغليان (100 °C) أو قريباً منها.
7. ضع أنبوب اختبار واحداً في كل من الكؤوس الأربع مستخدماً ماسك أنابيب الاختبار.
8. قس درجة حرارة كل كأس وسجلها.
9. قس بعد 5 min من وضع الأنابيب في الكؤوس 5.0 mL من 3% H₂O₂، وضعها في كل أنبوب اختبار.
10. دع التفاعل يستمر مدة 5 min.
11. قس ارتفاع الرغوة الناتجة في كل أنبوب.
12. اغسل الأنابيب بعد التخلص من محتوياتها.

الفكرة العامة تقوم المركبات العضوية الحيوية: البروتينات، والكربوهيدرات، والليبيدات بالأنشطة الضرورية للخلايا الحية.

6-1 البروتينات

الفكرة الرئيسية

تؤدي البروتينات وظائف ضرورية تشمل تنظيم التفاعلات الكيميائية، والدعم البنائي، ونقل المواد، وتقلصات العضلات.

المفردات

- البروتينات
- الأحماض الأمينية
- الرابطة الببتيدية
- البيبتيدات
- تغير الخواص الطبيعية
- الإنزيمات
- المادة الخاضعة لفعل الإنزيم
- الموقع النشط

المفاهيم الرئيسية

- البروتينات بوليمرات حيوية تتكون من أحماض أمينية ترتبط بروابط ببتيدية.
- تنطوي سلاسل البروتينات مكونة تراكيب معقدة ثلاثية الأبعاد.
- للبروتينات وظائف عديدة في جسم الإنسان، منها: وظائف داخل الخلايا، وأخرى بينها، ووظائف دعم بنائي.

6-2 الكربوهيدرات

الفكرة الرئيسية

تزود الكربوهيدرات المخلوقات الحية بالطاقة والمواد البنائية.

المفردات

- الكربوهيدرات
- السكريات الأحادية
- السكريات الثنائية
- السكريات عديدة التسكر

المفاهيم الرئيسية

- الكربوهيدرات مركبات تحتوي على مجموعات هيدروكسيل (-OH) متعددة، ومجموعة الكربونيل الوظيفية (C=O).
- يتراوح حجم الكربوهيدرات بين وحدات بناء أساسية مفردة إلى بوليمرات تتكون من مئات أو آلاف الوحدات الأساسية.
- توجد السكريات الأحادية في المحاليل المائية في تراكيب حلقيه ومفتوحة السلسلة.

6-3 الليبيدات

الفكرة الرئيسية

تكوّن الليبيدات الأغشية الخلوية، وتخزن الطاقة، وتنظم العمليات الخلوية.

المفردات

- الليبيدات
- الأحماض الدهنية
- الجليسيريدات الثلاثية
- التصبّن (صناعة الصابون)
- الليبيدات الفوسفورية
- الشموع
- الستيرويدات

المفاهيم الرئيسية

- الأحماض الدهنية أحماض كربوكسيلية طويلة السلاسل تحوي عادة ما بين 12 و 24 ذرة كربون.
- لا تحتوي الأحماض الدهنية المشبعة على روابط ثنائية؛ في حين تحتوي الأحماض الدهنية غير المشبعة على رابطة ثنائية أو أكثر.
- يمكن أن ترتبط الأحماض الدهنية بالجليسرول لتكوّن الجليسيريد الثلاثي.
- الستيرويدات ليبيدات تحتوي على تراكيب متعددة الحلقات.

6-4 الأحماض النووية

الفكرة الرئيسية

تخزن الأحماض النووية المعلومات الوراثية وتنقلها.

المفردات

- الحمض النووي
- النيوكليوتيد

المفاهيم الرئيسية

- الأحماض النووية بوليمرات من النيوكليوتيدات التي تتكون من قاعدة نيتروجينية، ومجموعة فوسفات، وسكر خماسي.
- DNA و RNA جزيئات تخزين معلومات للخلية.
- يتكون DNA من شريطين، في حين يتكون RNA من شريط واحد.

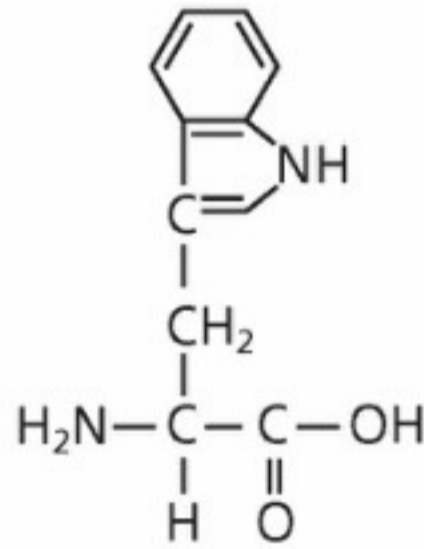


6-1

إتقان المفاهيم

24. ماذا تُسمى السلسلة المكوّنة من ثمانية أحماض أمينية؟
والسلسلة المكوّنة من 200 حمض أميني؟
25. سمّ نوعين من المجموعات الوظيفية التي تتفاعل معاً لتكوين رابطة ببتيدية، وسمّ أيضاً المجموعة الوظيفية في الرابطة الببتيدية نفسها.
26. استعمل الرموز المبينة لتمثيل تراكيب أربعة أحماض أمينية مختلفة، لرسم تراكيب أربعة ببتيدات ممكنة يتكون كل منها من أربعة أحماض أمينية يمكن ربطها بترتيبات مختلفة:
- الحمض الأميني 1: ■ الحمض الأميني 3: ◆
الحمض الأميني 2: ▲ الحمض الأميني 4: ●
27. تشريح جسم الإنسان سمّ خمسة أجزاء من الجسم تحتوي على بروتينات بنائية.
28. عدّد أربع وظائف رئيسة للبروتينات، وأعط مثلاً واحداً على بروتين يقوم بكل وظيفة من هذه الوظائف.
29. صف شكلين شائعين لتركيب البروتين الثلاثي الأبعاد.
30. سمّ المجموعات الوظيفية في السلاسل الجانبية للأحماض الأمينية الآتية:
- a. الجلوتامين
b. السيرين
c. حمض الجلوتاميك
d. اللايسين
31. اشرح كيف يعمل الموقع النشط للإنزيم.
32. أعط مثلاً على حمض أميني له حلقة أروماتية في سلسلته الجانبية.
33. سمّ حمضين أمينيين لا قطبيين، وآخرين قطبيين.

34. التركيب المبين في الشكل 24-6 للتريبتوفان. صف بعض الخواص التي تتوقعها للتريبتوفان، بناءً على تركيبه. وإلى أي المركبات العضوية الحيوية ينتمي التريبتوفان؟ وضح إجابتك.



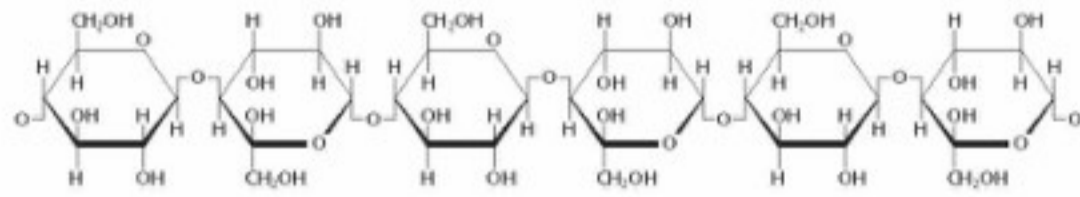
الشكل 24-6

35. هل ثنائي ببتيد اللايسين - الفالين هو المركب ثنائي ببتيد الفالين - اللايسين نفسه؟ وضح إجابتك.
36. إنزيمات كيف تخفّض الإنزيمات طاقة التنشيط لتفاعل ما؟
37. كيمياء الخلية معظم البروتينات ذات الشكل الكروي موجهة، بحيث تكون معظم أحماضها الأمينية اللاقطبية في الجهة الداخلية والأحماض القطبية موجودة على السطح الخارجي. فهل يمكن أن يكون ذلك معقولاً من حيث طبيعة بيئة الخلية؟ وضح إجابتك.

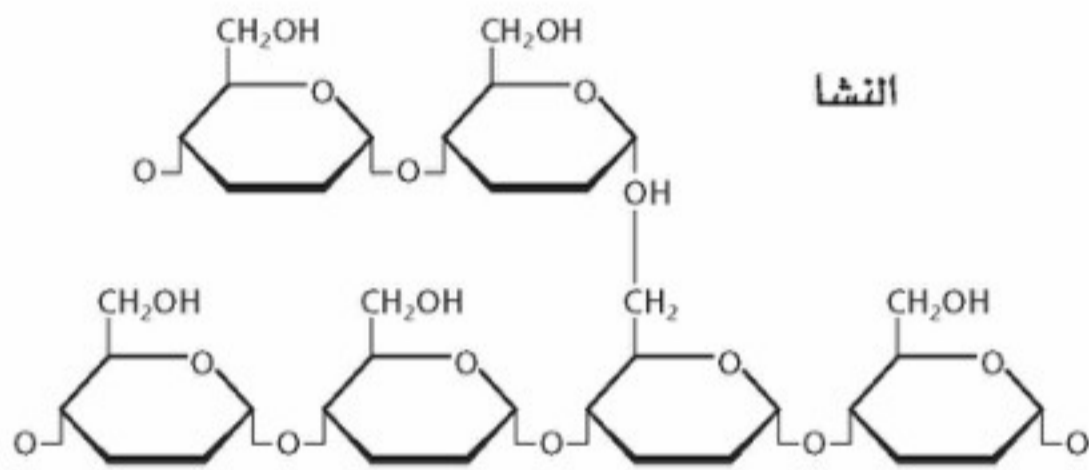
إتقان حل المسائل

38. بكم طريقة يمكنك ترتيب ثلاثة أو أربعة أو خمسة أحماض أمينية مختلفة في الببتيد؟
39. كم رابطة ببتيدية توجد في ببتيد يحوي خمسة أحماض أمينية؟
40. البروتينات متوسط الكتلة المولية لحمض أميني في ببتيد متعدد هو 110. فما الكتلة المولية التقريبية للبروتينين الآتين؟
- a. الأنسولين (51 حمضاً أمينياً)
b. المايوسين (1750 حمضاً أمينياً)

47. السليلوز والنشا قارن بين التراكيب الجزيئية للسليلوز والنشا المبينة في الشكل 6-26.



السليلوز



النشا

الشكل 6-26

48. الكيمياء في النباتات قارن بين وظائف النشا والسليلوز في النباتات، ووضح أهمية التركيب الجزيئي لكل منهما بالنسبة لوظيفته.

49. استنتج كيف تعطي الاختلافات في ترتيبات الروابط في السليلوز والنشا خواص مختلفة؟

50. يتكون السكر الثنائي المالتوز من وحدتي جلوكوز. ارسم تركيبه.

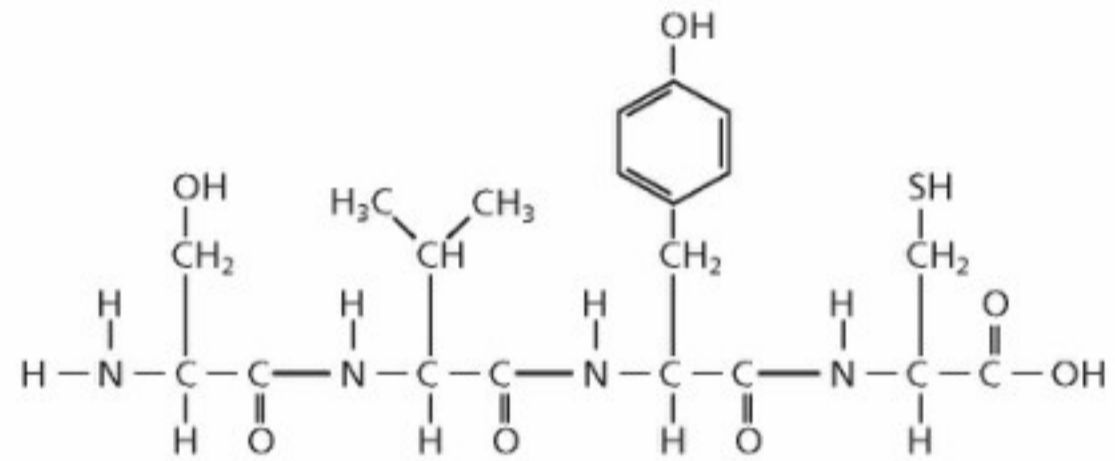
51. لماذا يُنتج تميّه السليلوز، والجللايكوجين، والنشا سكرًا أحاديًا واحدًا فقط؟ وما السكر الأحادي الذي ينتج؟

52. الهضم لماذا لا يمكن أن يتحلل السكر الثنائي أو العديد التسكر عند عدم وجود الماء؟ دَعِّم إجابتك بمعادلة.

53. ارسم تراكيب الفركتوز عندما يكون في صورة سلسلة مفتوحة. ضع دائرة حول كل ذرة كربون غير متماثلة، ثم احسب عدد المتشكلات الفراغية التي لها صيغة الفركتوز نفسها.

54. السكريات قارن بين الجلوكوز والفركتوز من حيث الصيغة الجزيئية والكتلة المولية والمجموعات الوظيفية.

41. حدّد عدد الأحماض الأمينية والروابط الببتيدية التي توجد في الببتيد المبين في الشكل 6-25.



الشكل 6-25

42. معدل الكتلة المولية لحمض أميني هو 110 g/mol، احسب عدد الأحماض الأمينية التقريبي في بروتين كتلته المولية 36,500 g/mol

6-2

إتقان المفاهيم

43. الكربوهيدرات صنّف الكربوهيدرات الآتية إلى سكريات أحادية، أو ثنائية، أو عديدة التسكر:

- | | |
|-------------|-----------------|
| a. النشا | e. السليلوز |
| b. الجلوكوز | f. الجللايكوجين |
| c. السكروز | g. الفركتوز |
| d. الرايبوز | h. اللاكتوز |

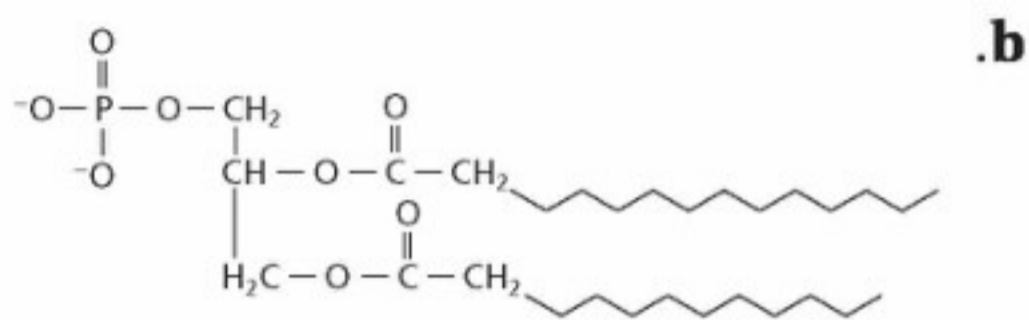
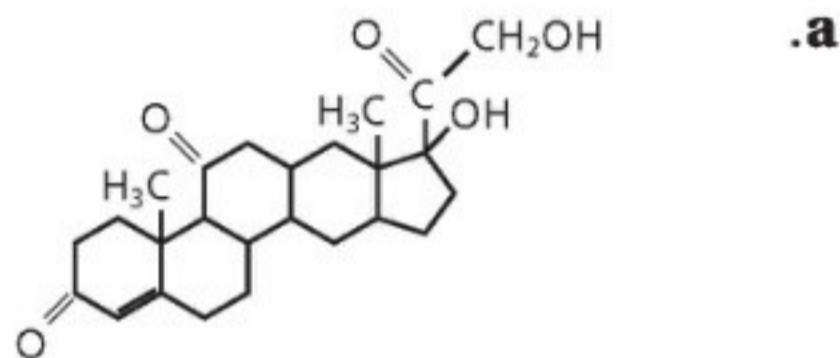
44. سمّ متشكلين للجلوكوز.

45. ما نوع الرابطة التي تتكون عند اتحاد سكرين أحاديين لتكوين سكر ثنائي؟

46. السكريات أعط مصطلحًا علميًا لكل مما يأتي:

- | |
|----------------|
| a. سكر الدم |
| b. سكر المائدة |
| c. سكر الفاكهة |
| d. سكر الحليب |

64. حدّد هل يعد كل تركيب مما يأتي: حمضاً دهنيًا، أو جليسيريد ثلاثيًا، أو ليبيد فوسفوريًا، أو ستيرويد، أو شمعًا؟ فسّر إجابتك.



إتقان حل المسائل

65. إذا كانت كثافة حمض البالميتيك الدهني 0.853g/mL عند 62 °C، فما كتلة عينة من حمض البالميتيك حجمها 0.886 L عند درجة الحرارة نفسها؟

66. الدهون غير المشبعة كم مولاً من غاز الهيدروجين تتطلبه هدرجة تامة لـ 1 mol من حمض اللينولينيك؟ اكتب معادلة موزونة لتفاعل الهدرجة. علماً بأن الصيغة الكيميائية لحمض اللينولينيك هي:



6-4

إتقان المفاهيم

67. ما التراكيب الثلاثة التي تكوّن النيوكليوتيد؟
68. سمّ حمضين نوويين موجودين في المخلوقات الحية.
69. اشرح دور DNA و RNA في إنتاج البروتينات.
70. أين يوجد DNA في الخلايا الحية؟

55. منظور تاريخي الكربوهيدرات ليست هيدرات الكربون كما يوحي الاسم بذلك. اشرح كيف حدث هذا المفهوم غير الصحيح.

إتقان حل المسائل

56. الكربوهيدرات المعقدة الستاكيوز سكر رباعي يحتوي على وحدتي D- جالاكتوز، ووحدة D- جلوكوز، ووحدة D- فركتوز. والكتلة المولية لكل وحدة سكر هي 180 g/mol قبل ارتباطها معاً في هذا السكر الرباعي. فإذا كان جزيء ماء واحد يتحرر مقابل كل وحدتي سكر ترتبطان معاً، فما الكتلة المولية للستاكيوز؟

6-3

إتقان المفاهيم

57. قارن بين تركيب الجليسيريد الثلاثي والليبيد الفوسفوري.
58. توقع أيهما تكون درجة انصهاره أعلى: الجليسيريد الثلاثي المأخوذ من دهن البقر، أو الجليسيريد الثلاثي المأخوذ من زيت الزيتون؟ فسّر إجابتك.
59. الصابون والمنظفات اشرح كيف أن تركيب الصابون يجعله عامل تنظيف فعالاً؟
60. ارسم جزءاً من غشاء ليبيدي ذي طبقتين، وأشر إلى الأجزاء القطبية وغير القطبية من الغشاء.
61. أين تُخزن الأحماض الدهنية في جسم الإنسان؟ وفي أي صورة؟
62. ما نوع الليبيد الذي لا يحتوي على سلاسل أحماض دهنية؟ ولماذا تُصنّف هذه المركبات على أنها ليبيدات؟
63. الصابون ارسم تركيب صابون بالمتات الصوديوم. (الالمتات هي القاعدة المرافقة للحمض الدهني المشبع ذي 16 ذرة كربون والمعروف باسم حمض البالميتيك)، وأشر إلى طرفيه: القطبي واللاقطبي.

الوراثية البشرية؟

78. كم جراماً من الجلوكوز يمكن أن يتأكسد كلياً بـ 2.0 L من غاز O_2 في الظروف المعيارية في أثناء التنفس الخلوي؟
79. الطاقة احسب مجموع الطاقة بوحدة kJ التي تتحول إلى ATP في أثناء عمليات التنفس الخلوي والتخمير، وقارن بينها.

مراجعة عامة

80. ارسم مجموعات الكربونيل الوظيفية في الجلوكوز والفركتوز. فيم تتشابه هذه المجموعات، وفيم تختلف؟
81. سمِّ وحدات البناء الأساسية التي تكوّن البروتينات والكربوهيدرات المركبة.
82. صف وظائف البروتينات، والكربوهيدرات، والليبيدات، في الخلايا الحية.
83. اكتب معادلة كيميائية موزونة تمثل تميّه اللاكتوز.
84. اكتب معادلة موزونة لتركيب السكروز من الجلوكوز والفركتوز.

التفكير الناقد

85. احسب يتكون 38 mol تقريباً من ATP عند التأكسد الكامل للجلوكوز في أثناء التنفس الخلوي. فإذا كانت حرارة الاحتراق لمول واحد من الجلوكوز تساوي 2.82×10^3 kJ/mol ، وكل مول من ATP يخزن 30.5 kJ من الطاقة، فما كفاءة التنفس الخلوي بدلالة النسبة المئوية من حيث الطاقة المتاحة المخزونة في روابط ATP الكيميائية؟
86. تعرّف السبب والنتيجة تقترح بعض الأنظمة الغذائية تحديداً شديداً لكمية الليبيدات، فلماذا لا يُعد حذف الليبيدات من الغذاء كلياً فكرة جيدة؟
87. الرسوم البيانية واستعمالها يبين الجدول 2-6 عدداً من الأحماض الدهنية المشبعة وقيم بعض خواصها الفيزيائية. a. مثل بيانياً عدد ذرات الكربون ودرجة الانصهار.

71. صف أنواع الروابط والتجاذبات التي تربط وحدات البناء الأساسية معاً في جزيء DNA.



72. صنّف التركيب النووي المبين في الشكل 27-6 إلى DNA أو RNA، فسر إجابتك.
73. ترتبط القاعدة جوانين في تركيب DNA ثنائي اللولب دائماً بالسيتوسين، ويرتبط الأدينين دائماً بالثايمين. فإذا توقع أن تكون النسب بين كميات C و T و A و G في طول معين من DNA؟
74. نسخ DNA يحتوي أحد أشرطة جزيء DNA الترتيب القاعدي التالي. فما تعاقب القواعد على الشريط الآخر في جزيء DNA؟

C-C-G-T-G-G-A-C-A-T-T-A

75. العمليات الحيوية قارن بين التفاعلات الكلية للبناء الضوئي والتنفس الخلوي من حيث المواد المتفاعلة، والنواتج، والطاقة.

إتقان حل المسائل

76. الشفرة الوراثية هي شفرة ثلاثية؛ أي أنه تعاقب من ثلاث قواعد في RNA يدل على كل حمض أميني في سلسلة ببتيدية أو بروتين. ما عدد قواعد RNA الضرورية للدلالة على بروتين يحتوي على 577 حمضاً أمينياً؟
77. مقارنات DNA تحتوي خلية البكتيريا إيشيريكيا كولايا (إي كولايا) E.coli على 4.2×10^6 زوجاً من قواعد DNA، في حين تحتوي كل خلية بشرية على نحو 3×10^9 زوجاً من قواعد DNA. ما النسبة المئوية التي يمثلها DNA في إيشيريشيا كولايا بالنسبة إلى الخريطة

تقويم إضافي

الكتابة في الكيمياء

91. الكولسترول استعمل المكتبة أو الإنترنت لعمل بحث عن الكولسترول، واكتب مقالة صحفية تتعلق بالكولسترول موجهة إلى القراء في سن المراهقة. وتأكد من الإجابات عن الأسئلة الآتية في المقالة: أين يستعمل هذا المركب في جسمك؟ ما وظيفته؟ لماذا يعد الإكثار من الكولسترول في الغذاء غير مناسب؟ هل الوراثة عامل في ارتفاع الكولسترول؟

أسئلة المستندات

الأحماض الدهنية أوميغا-3 وأوميغا-6 أحماض دهنية أخذت أسماؤها من تراكييها. فهي تحتوي على رابطة ثنائية إما على بعد 3 ذرات كربون أو 6 ذرات كربون من نهاية سلسلة الحمض الدهني. وتأثير هذه الأحماض الدهنية مفيد في الصحة؛ لأنها تخفض مستويات الكولسترول السيئ، وترفع مستويات الكولسترول الجيد في الدم. لقد درست مستويات الأحماض الدهنية أوميغا-3 وأوميغا-6 في سمك السلمون من ثلاثة مصادر مختلفة، وفي الغذاء المستعمل في مزارع السلمون أيضاً. ويبين الشكل 28-6 النسبة المئوية للأحماض الدهنية أوميغا-3 وأوميغا-6 مقارنة بمجموع كمية الليبيدات في العينات.



الشكل 28-6

92. أي أنواع الأسماك تحتوي على أكبر كمية من الأحماض الدهنية أوميغا-3؟
93. بناءً على هذه الدراسة، أي أنواع السلمون تنصح به لشخص يريد الإكثار من كمية الأحماض الدهنية أوميغا-3 وأوميغا-6 في غذائه؟
94. استنتج من الرسم البياني لماذا يحتوي سلمون المزارع والأسواق الكبرى على كمية من الأحماض الدهنية أوميغا-3 وأوميغا-6 أكبر من تلك الموجودة في السلمون البري؟

- b. مثل بيانياً عدد ذرات الكربون والكثافة.
- c. استنتج العلاقات بين عدد ذرات الكربون في الحمض الدهني وكثافته ودرجة انصهاره.
- d. توقع درجة الانصهار التقريبية لحمض دهني مشبع فيه 24 ذرة كربون.

الجدول 2-6 الخواص الفيزيائية لبعض الأحماض الدهنية المشبعة

الاسم	عدد ذرات الكربون	درجة الانصهار (°C)	الكثافة (g/ml) (عند 60-80 °C)
حمض البالميتك	16	63	0.853
حمض الميريستيك	14	58	0.862
حمض الأراكيدك	20	77	0.824
حمض الكابريك	8	16	0.910
حمض الدوكوسانويك	22	80	0.822
حمض الستيريك	18	70	0.847
حمض اللوريك	12	44	0.868

مسألة تحفيز

88. احسب كم مولاً من ATP يمكن أن ينتج الجسم البشري من السكر الموجود في 28 kg من التفاح الأحمر. استخدم الإنترنت للحصول على معلومات لحل المسألة.

مراجعة تراكمية

89. حدد الحمض والقاعدة في المواد المتفاعلة لكل مما يلي:
- a. $\text{HBr} + \text{H}_2\text{O} \rightarrow \text{H}_3\text{O}^+ + \text{Br}^-$
- b. $\text{NH}_3 + \text{HCOOH} \rightarrow \text{NH}_4^+ + \text{HCOO}^-$
- c. $\text{HCO}_3^- + \text{H}_2\text{O} \rightarrow \text{CO}_3^{2-} + \text{H}_3\text{O}^+$
90. ما الخلية الجلفانية؟

أسئلة الاختيار من متعدد

- أي مما يأتي لا ينطبق على الكربوهيدرات؟
 - توجد السكريات الأحادية باستمرار بين التركيب الحلقي وتركيب السلسلة المفتوحة.
 - ترتبط السكريات الأحادية في النشا بنفس نوع الروابط التي ترتبط بها في اللاكتوز.
 - لجميع الكربوهيدرات الصيغة العامة $C_n(H_2O)_n$.
 - تقوم النباتات فقط بصنع السليلوز، ويهضمه الإنسان بسهولة.
- أي مما يلي غير صحيح فيما يتعلق بالأحماض النووية DNA و RNA؟
 - يحتوي DNA على السكر الرايبوزي منقوص الأكسجين، بينما يحتوي RNA على السكر الرايبوزي.
 - يحتوي RNA على القاعدة النيتروجينية اليوراسيل، بينما لا يحتوي DNA على ذلك.
 - يتكون RNA من شريط مفرد، بينما يتكون DNA من شريط مزدوج.
 - يحتوي DNA على القاعدة النيتروجينية الأدينين، بينما لا يحتوي RNA على ذلك.

استخدم الجدول الآتي في الإجابة عن السؤالين 3 و 4.

بيانات النيوكليوتيدات لعينات من DNA

العينة	محتوى كل نيوكليوتيد	A	G	C	T
I	العدد	195	?	231	?
	النسبة	20.8	?	29.2	?
II	العدد	?	402	?	?
	النسبة	?	32.5	?	?
III	العدد	?	?	194	234
	النسبة	?	?	22.7	27.3
IV	العدد	266	203	?	?
	النسبة	28.4	21.6	?	?

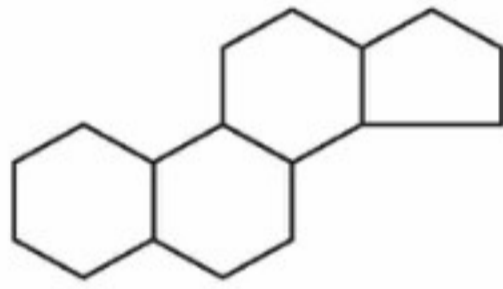
3. ما النسبة المئوية للثايمين (T) في العينة IV؟

- 28.4%
- 78.4%
- 71.6%
- 21.6%

4. ما عدد جزيئات السايروسين في جزيء واحد من

العينة (II)؟

- 402
- 434
- 216
- 175



5. تمثل الصيغة أعلاه:

- سليلوز
- نشا
- بروتين
- ستيرويد

6. تعد الأحماض الأمينية الوحدات البنائية في:

- الكربوهيدرات
- الأحماض النووية
- الليبيدات
- البروتينات

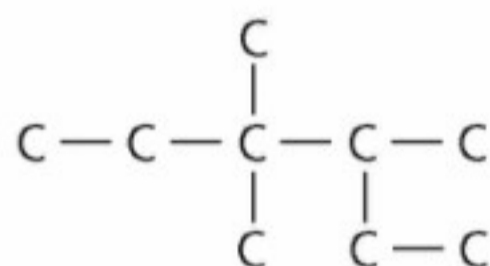
7. يتكون السكر من:

- جزيئات من الفركتوز
- جزيئات من الجلوكوز
- جزيء من الفركتوز وآخر من الجلوكوز
- جزيء من الفركتوز وآخر من الجالاكتوز



أسئلة الإجابات المفتوحة

استخدم الشكل أدناه للإجابة عن السؤال 12.



12. سجل أحد الطلاب اسم الألكان الممثل بالسلسلة الكربونية أعلاه كما يلي: 2 - إيثيل 3، 3 - ثنائي ميثيل بتان. هل إجابة زميلك صحيحة؟ إذا لم تكن صحيحة فما الاسم الصحيح لهذا المركب؟

13. قارن بين المركبات الأليفاتية، والمركبات الأروماتية.

8. الجللايكوجين من السكريات عديدة التسكر التي تستخدم لتخزين الطاقة في:

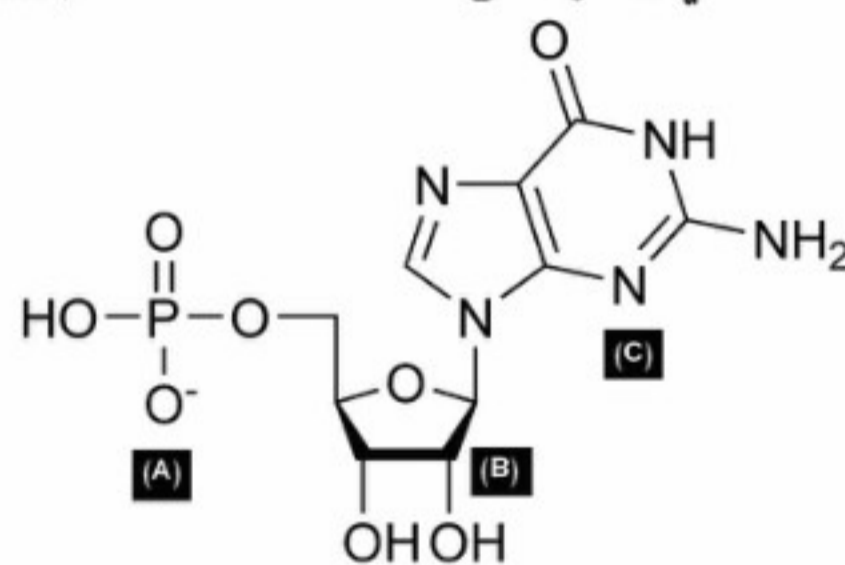
- a. الحيوانات
- b. النباتات
- c. الفطريات
- d. البكتيريا

9. يعد الجلوكوز والفركتوز من السكريات:

- a. الأحادية
- b. الثنائية
- c. السداسية
- d. عديدة التسكر

أسئلة الإجابات القصيرة

10. يحدد ترتيب القواعد النيتروجينية في RNA ترتيب الأحماض الأمينية المكونة للبروتين؛ فمثلاً الشفرة الوراثية CAG خاصة بالحمض الأميني الجلوتامين. ما عدد الأحماض الأمينية التي يمكن تشفيرها في شريط من RNA الذي يتكون من 2.73×10^4 قاعدة نيتروجينية؟



11. استخدم الشكل أعلاه في الإجابة عما يلي:

- a. ما الذي يمثله الشكل؟
- b. ما الذي تمثله الأجزاء المشار إليها بالأحرف A، B، C؟

(أ)

الأحماض الدهنية Fatty Acid أحماض كربوكسيلية ذات سلاسل طويلة. وتحتوي معظم الأحماض الدهنية الطبيعية ما بين 12 و 24 ذرة كربون. ويمكن تمثيل تركيبها بالصيغة العامة: $\text{CH}_3(\text{CH}_2)_n\text{COOH}$.

الأحماض الأمينية Amino Acid جزيئات عضوية توجد فيها مجموعة الأمين ومجموعة الكربوكسيل الحمضية.

الاختزال Reduction اكتساب ذرات المادة للإلكترونات.

الارتفاع في درجة الغليان Boiling Point Elevation خاصية جامعة تناسب قيمتها تناسبًا طرديًا مع مولالية المحلول.

الأزواج المترافقة Conjugate Pairs مادتان ترتبطان معًا عن طريق منح واستقبال أيون الهيدروجين.

الأكسدة Oxidation فقدان ذرات المادة للإلكترونات.

الانخفاض في درجة التجمد Freezing-Point Depression الفرق بين درجة غليان المحلول ودرجة غليان المذيب النقي.

الانخفاض في الضغط البخاري Vapor Pressure Lowering الضغط الذي تحدثه جزيئات السائل في وعاء مغلق والتي تتطاير من سطح السائل متحولة إلى الحالة الغازية.

الإنزيمات Enzymes عوامل محفزة حيوية تعمل على تسريع التفاعلات الكيميائية دون أن تستهلك.

الأنود Anode القطب الذي يحدث عنده تفاعل الأكسدة في الخلية الجلفانية.

الأيون المشترك Common Ion أيون مشترك بين مادتين أيونيتين أو أكثر.

(ب)

الببتيدات Peptides السلاسل المكونة من حمضين أمينيين أو أكثر، ترتبط معًا بروابط ببتيدية.

البروتينات Proteins مركبات عضوية حيوية تتكون من أحماض أمينية مرتبطة معًا بترتيب معين.

البطارية Battery عبارة عن خلية جلفانية أو أكثر في عبوة واحدة تنتج التيار الكهربائي.

البطارية الأولية Primary Battery خلية الخارصين والكربون، أو القلوية، أو الفضة التي تنتج طاقة كهربائية من تفاعل

التأكسد والاختزال الذي لا يحدث بشكل عكسي بسهولة، وتصبح البطارية غير صالحة للاستعمال بعد انتهاء التفاعل.



البطارية الثانوية Secondary Battery بطارية تعتمد على تفاعل الأكسدة والاختزال العكسي، لذلك يمكن إعادة شحنها، ومن ذلك بطارية السيارة والحاسوب المحمول.

(ت)

التآكل Corrosion خسارة الفلز الناتج عن تفاعل الأكسدة واختزال بين الفلز والمواد التي في البيئة؛ مثل تآكل الحديد المعروف بالصدأ.

تأثير تندال Tendall Effect قدرة جسيمات المخاليط الفردية على تثبيت الضوء.

التحليل الكهربائي Electrolysis استعمال الطاقة الكهربائية لإحداث تفاعل كيميائي.

التركيز Concentration قياس كمية المذاب في كمية محددة من المذيب.

التصبن Saponification تميئه الجلسريد الثلاثي بوجود محلول مائي لقاعدة قوية لتكوين أملاح الكربوكسيلات والجلسرول.

تغيير الخواص الطبيعية الأصلية Denaturation العملية التي تشوه تركيب البروتين الطبيعي الثلاثي الأبعاد وتمزقه أو تتلفه.

تفاعل الأكسدة والاختزال Redox Reaction تفاعل يتضمن انتقال الإلكترونات من إحدى الذرات إلى ذرة أخرى خلال التفاعل الكيميائي.

تفاعل التعادل Neutralization Reaction تفاعل حمض وقاعدة لإنتاج ملح وماء.

التميه Hydrate مركب متبلور يحتوي على عدد محدد من جزيئات ماء التبلور.

تميه الملح Salt Hydrolysis عملية اكتساب الشق السالب من الملح أيونات الهيدروجين، واكتساب الشق الموجب أيونات الهيدروكسيد من الماء عند إذابة الملح في الماء.

(ث)

ثابت تأين الحمض Acid Ionization Constant قيمة تعبير ثابت الاتزان لتأين الحمض.

ثابت تأين القاعدة Base Ionization Constant قيمة تعبير ثابت الاتزان لتأين القاعدة.

ثابت تأين الماء Water Ionization Constant تعبير ثابت الاتزان للتأين الذاتي للماء ويساوي حاصل ضرب تراكيز أيون الهيدروجين وأيون الهيدروكسيد في المحاليل المخففة.

ثابت الغاز المثالي Ideal Gas Constant (R) ثابت يحدد تجريبيًا وتعتمد قيمته على وحدات ضغط الغاز.

(ج)

الجلسريد الثلاثي Triglyceride تركيب يتكون من ارتباط ثلاثة أحماض دهنية بالجلسرول بواسطة روابط إستر.

الجلفنة Galvanization عملية كيميائية يغلف فيها الفلز بفلز أكثر مقاومة للتأكسد. يغلف الحديد مثلاً بطبقة من الخارصين؛ إما عن طريق غمس القطعة الحديدية في مصهور الخارصين، أو بطلاء الحديد بالخارصين كهربائيًا.

جهد الاختزال Reduction Potential مدى قابلية المادة لاكتساب الإلكترونات.

(ح)

الحجم المولاري Molaric mass الحجم الذي يشغله 1mol منه عند درجة حرارة 0°C وضغط جوي 1atm.

حرارة الذوبان Melting heat التغير الكلي للطاقة الذي يحدث خلال عملية تكون المحلول.

حرارة المحلول Heat of Solution التغير الكلي في الطاقة في أثناء عملية تكوّن المحلول.

الحركة البراونية Brownin Motion الحركة العشوائية لجسيمات المذاب في المخاليط الغروية السائلة.

الحمض الضعيف Weak Acid حمض يتأين جزئيًا في الماء.

الحمض القوي Strong Acid الحمض الذي يتأين بشكل تام في الماء.

الحمض المرافق Conjugate Acid المركب الكيميائي الذي ينتج عندما تستقبل القاعدة أيون الهيدروجين من حمض.

الحمض النووي Nucleic Acid مبلمر حيوي يحتوي على النيتروجين، ويقوم بتخزين المعلومات الوراثية ونقلها.

(خ)

الخاصية الأسموزية Osmotic Property انتشار المذيب خلال غشاء شبه منفذ من المحلول الأقل تركيزًا إلى المحلول الأكثر تركيزًا.

الخاصية الجامعة Colligative Property خاصية المحلول التي تعتمد على نوع جزيئات المذاب وليس عددها.



خلية التحليل الكهربائي Electrolytic Cell خلية كهروكيميائية يحدث فيها تحليل كهربائي.

الخلية الجافة Dry Cell خلية جلفانية، يكون فيها المحلول الموصل للتيار عجينة رطبة تتكون من خليط من كلوريد الخارصين وأكسيد المنجنيز IV وكلوريد الأمونيوم وكمية قليلة من الماء داخل حاوية من الخارصين.

الخلية الجلفانية Voltaic Cell نوع من الخلايا الكهروكيميائية التي تحول الطاقة الكيميائية إلى طاقة كهربائية بواسطة تفاعل التأكسد والاختزال التلقائي.

الخلية الكهروكيميائية Electrochemical Cell جهاز يستعمل تفاعل الأكسدة والاختزال لإنتاج طاقة كهربائية، أو يستعمل الطاقة الكهربائية لإحداث تفاعل كيميائي.

خلية الوقود Fuel Cell خلية جلفانية، تنتج فيها الطاقة الكهربائية من أكسدة الوقود الذي يتم تزود به باستمرار من مصدر خارجي.

(ذ)

الذوبان Solvation عملية إحاطة جسيمات المذاب بجسيمات المذيب.

(ر)

الرابطه الببتيدية Peptide Bond رابطة الأמיד التي تجمع حمضين أميين.

الرقم الهيدروجيني pH القيمة السالبة اللوغارتم تركيز أيون الهيدروجين في المحلول.

الرقم الهيدروكسيدي pOH القيمة السالبة اللوغارتم تركيز أيون الهيدروكسيد في المحلول.

(س)

الستيرويدات Steroids ليبيدات تحتوي تراكيبيها على حلقات متعددة. وجميع الستيرويدات مبنية من تركيب الستيرويد الأساسي المكوّن من الحلقات الأربع.

السكريات الأحادية Monosaccharides أبسط الكربوهيدرات تركيبًا، وتدعى السكريات البسيطة أيضًا.

السكريات الثنائية Disaccharides وهي السكريات الناتجة من اتحاد جزيئين من السكريات الأحادية.

السكريات العديدة التسكر Polysaccharides بوليمر من السكريات البسيطة يحتوي على 12 وحدة بناء أساسية أو أكثر.

(ش)

الشموع Waxes لبيدات تتكون من اتحاد حمض دهني مع كحول ذي سلسلة طويلة.

(ص)

الصفر المطلق Absolute Zero درجة الحرارة التي ينعدم عندها ضغط الغاز المثالي.

(ض)

الضغط الأسموزي Osmotic Pressure كمية الضغط الإضافي الناتج عن انتقال جزيئات الماء إلى المحلول المركز.

(ط)

طريقة عدد التأكسد Oxidation-Number Method طريقة في موازنة معادلات الأكسدة والاختزال تعتمد على وجوب أن يكون مجموع الزيادة في عدد التأكسد مساوياً لمجموع الانخفاض في عدد التأكسد للذرات المشتركة في تفاعل التأكسد والاختزال.

(ع)

العامل المؤكسد Oxidizing Agent مادة تقوم بأكسدة مادة أخرى من خلال اكتساب ذراتها للإلكترونات.

العامل المختزل Reducing Agent مادة تقوم باختزال مادة أخرى من خلال فقدان ذراتها للإلكترونات.

(ق)

القاعدة الضعيفة Weak Base قاعدة تتأين جزئياً في الماء.

القاعدة القوية Strong Base القاعدة التي تتأين بشكل تام في الماء.

القاعدة المرافقة Conjugate Base المركب الكيميائي الذي ينتج عندما يمنح الحمض أيون الهيدروجين.

قانون بويل Boyle's Law يتناسب حجم كمية محددة من الغاز عكسياً مع ضغطه عند ثبوت درجة الحرارة.

قانون جاي- لوساك Gay-Lussac's Law ينص على أن ضغط مقدار محدد من الغاز يتناسب طردياً مع درجة حرارته

بالكلفن عند ثبوت الحجم.



قانون جراهام لانتشار الغازات Graham's Law Of Effusion ينص على أن معدل سرعة انتشار جزيئات الغاز يتناسب عكسيًا مع الجذر التربيعي لكتلة الغاز المولية.

قانون شارل Charles's Law يتناسب حجم كتلة محددة من الغاز طرديًا مع درجة حرارته بمقياس كلفن عند ثبوت الضغط.

القانون العام للغازات Combined Gas Law قانون جامع لقوانين الغازات ويجمع خواص الحجم والضغط ودرجة الحرارة.

قانون الغاز المثالي Ideal Gas Law قانون يصف السلوك الطبيعي للغاز المثالي اعتمادًا على ضغط الغاز وحجمه ودرجة حرارته وعدد مولاته.

قانون هنري Henry's law تتناسب ذائبية الغاز في سائل تناسبًا طرديًا مع ضغط الغاز الموجود فوق السائل عند ثبوت درجة الحرارة.

قطب الهيدروجين القياسي Standard Hydrogen Electrode شريحة صغيرة من البلاتين مغموسة في محلول حمض الهيدروكلوريك HCl الذي يحتوي على أيونات هيدروجين بتركيز 1M. ويتم ضخ غاز الهيدروجين H_2 في المحلول عند ضغط 1 atm ودرجة حرارة $25^\circ C$ ، ويكون فرق الجهد لقطب الهيدروجين القياسي، المسمى جهد الاختزال القياسي (E^0)، مساويًا 0.000 V.

القنطرة الملحية Salt Bridge ممر لتدفق الأيونات من جهة إلى أخرى في الخلية الجلفانية. وتتكون من أنبوب يحتوي على محلول موصل للتيار الكهربائي لملح ذائب في الماء مثل KCl، يحفظ داخل الأنبوب بواسطة جل هلامي أو أي غطاء يسمح للأيونات بالحركة من خلاله، على ألا يختلط المحلولان في الخلية.

(ك)

الكاثود Cathode قطب يحدث عنده تفاعل الاختزال في الخلية الجلفانية.

كاشف الحمض والقاعدة Acid-base indicator أصباغ كيميائية تتأثر ألوانها بالمحاليل الحمضية والقاعدية.

الكربوهيدرات Carbohydrates مركبات تحتوي على عدة مجموعات من الهيدروكسيل ($-OH$) بالإضافة إلى مجموعة الكربونيل الوظيفية ($C=O$).

الكسر المولي Mole Fraction نسبة عدد مولات المذاب أو المذيب في المحلول إلى عدد المولات الكلية للمذاب والمذيب.

(ل)

الليبيدات Lipids مركبات عضوية حيوية غير قطبية كبيرة جداً، تختلف في تركيبها، وتعمل على تخزين الطاقة في المخلوقات الحية، وتدخل في معظم تركيب غشاء الخلية.

الليبيدات الفوسفورية Phospholipids ثلاثي الجلسريد استبدل فيه أحد الأحماض الدهنية بمجموعة فوسفات قطبية.

(م)

المادة الخاضعة لفعل الإنزيم Substrate يشير إلى مادة متفاعلة في تفاعل يعمل فيه الإنزيم عمل عامل محفز.

المادة الذائبة Soluble المادة التي تذوب في مادة أخرى (المذيب).

المادة غير الذائبة Insoluble المادة التي لا تذوب في مادة أخرى (المذيب).

مبدأ أفوجادرو Avogadro's Principle الحجم المتساوية من الغازات عند نفس درجة الحرارة والضغط تحتوي العدد نفسه من الجسيمات.

المحلول الحمضي Acidic Solution المحلول الذي يحتوي على تركيز أيونات هيدروجين أكثر من الهيدروكسيد.

المحلول غير المشبع Unsaturated Solution محلول يحتوي كمية من المذاب أقل مما يحتويه المحلول المشبع عند نفس الضغط ودرجة الحرارة.

المحلول القاعدي Basic Solution المحلول الذي يحتوي على تركيز أيونات الهيدروكسيد أكثر من الهيدروجين.

المحلول القياسي Titrant محلول معروف التركيز يستعمل لمعايرة محلول مجهول التركيز.

المحلول المشبع Saturated Solution محلول يحتوي أكبر مقدار من المذاب عند ضغط ودرجة حرارة معينين.

المحلول المنظم Buffered Solution محلول يقاوم التغير في pH عند إضافة كميات محددة من الأحماض أو القواعد.

المخلوط الغروي Colloid مخلوط غير متجانس يتكون من جسيمات متوسطة الحجم تتراوح أقطارها بين 1nm و1000 nm.

المخلوط المعلق Suspension مخلوط يحتوي على جسيمات يمكن أن تترسب بالترويق إذا ترك فترة دون تحريك.

المركبات العضوية Organic Compounds مركبات تحتوي الكربون ما عدا أكاسيد الكربون والكربيدات والكربونات فهي غير عضوية.

المعايرة Titration تفاعل حمض وقاعدة لمعرفة تركيز أحدهما.

الملح Salt مركب أيوني أيونه الموجب من القاعدة، وأيونه السالب من الحمض.

الموقع النشط Active Site النقطة التي ترتبط بها المواد الخاضعة لفعل الإنزيم.

المولارية Molarity عدد مولات المذاب في لتر واحد من المحلول.

المولالية Molality عدد مولات المذاب المذابة في كيلوجرام من المذيب.

(ن)

نقطة التكافؤ Equivalence Point النقطة التي يكون عندها تركيز أيونات الهيدروجين مساوياً لتركيز أيونات الهيدروكسيد.

نقطة النهاية End Point النقطة التي يغير عندها الكاشف لونه.

نموذج أرهينيوس Arrhenius Model نموذج يعرف الحمض بالمادة التي تطلق أيونات الهيدروجين عند إذابتها في الماء، والقاعدة تطلق أيونات الهيدروكسيد.

نموذج برونستد ولوري Bronsted-Lowry Model نموذج يعرف الحمض على أنه مادة مانحة للبروتونات والقاعدة مادة مستقبلة لها.

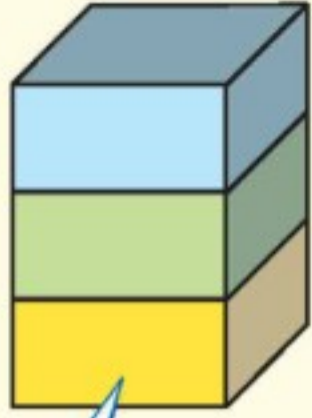
نموذج لويس Lewis Model نموذج يعرف الحمض على أنه مادة تستقبل زوجاً من الإلكترونات في حين أن القاعدة مادة تمنح زوجاً من الإلكترونات.

نصف التفاعل Half Reaction أحد جزأي تفاعل الأكسدة والاختزال؛ أي تفاعل التأكسد أو تفاعل الاختزال.

نصف الخلية Half Cell أحد نصفي الخلية الكهروكيميائية. ويحتوي كل نصف خلية على قطب ومحلول يشتمل على أيونات.

النيوكليوتيد Nucleotide وحدة البناء الأساسية للحمض النووي. ويتكون كل نيوكليوتيد من ثلاثة أجزاء: مجموعة فوسفات غير عضوية، وسكر أحادي ذو خمس ذرات كربون، وتركيب يحتوي على نيتروجين يدعى قاعدة نيتروجينية.

الجدول الدوري للعناصر



يدل لون صندوق كل عنصر على ما إذا كان فلزاً أو شبه فلز أو لافلزاً.

			13	14	15	16	17	18
			Boron 5 B 10.811	Carbon 6 C 12.011	Nitrogen 7 N 14.007	Oxygen 8 O 15.999	Fluorine 9 F 18.998	Helium 2 He 4.003
			Aluminum 13 Al 26.982	Silicon 14 Si 28.086	Phosphorus 15 P 30.974	Sulfur 16 S 32.065	Chlorine 17 Cl 35.453	Neon 10 Ne 20.180
10	11	12						
Nickel 28 Ni 58.693	Copper 29 Cu 63.546	Zinc 30 Zn 65.409	Gallium 31 Ga 69.723	Germanium 32 Ge 72.64	Arsenic 33 As 74.922	Selenium 34 Se 78.96	Bromine 35 Br 79.904	Krypton 36 Kr 83.798
Palladium 46 Pd 106.42	Silver 47 Ag 107.868	Cadmium 48 Cd 112.411	Indium 49 In 114.818	Tin 50 Sn 118.710	Antimony 51 Sb 121.760	Tellurium 52 Te 127.60	Iodine 53 I 126.904	Xenon 54 Xe 131.293
Platinum 78 Pt 195.078	Gold 79 Au 196.967	Mercury 80 Hg 200.59	Thallium 81 Tl 204.383	Lead 82 Pb 207.2	Bismuth 83 Bi 208.980	Polonium 84 Po (209)	Astatine 85 At (210)	Radon 86 Rn (222)
Darmstadtium 110 Ds (269)	Roentgenium 111 Rg (272)	Copernicium 112 Cn (277)	Ununtrium * 113 Uut (Unknown)	Flerovium 114 Fl (289)	Ununpentium * 115 Uup (Unknown)	Livermorium 116 Lv (298)	Ununseptium * 117 Uus (Unknown)	Ununoctium * 118 Uuo (Unknown)

* أسماء ورموز العناصر 113، 115، 117، 118 مؤقتة، وسيتم اختيار رموز وأسماء نهائية لها فيما بعد من الاتحاد الدولي للكيمياء البحتة والتطبيقية (IUPAC).

Europium 63 Eu 151.964	Gadolinium 64 Gd 157.25	Terbium 65 Tb 158.925	Dysprosium 66 Dy 162.500	Holmium 67 Ho 164.930	Erbium 68 Er 167.259	Thulium 69 Tm 168.934	Ytterbium 70 Yb 173.04	Lutetium 71 Lu 174.967
Americium 95 Am (243)	Curium 96 Cm (247)	Berkelium 97 Bk (247)	Californium 98 Cf (251)	Einsteinium 99 Es (252)	Fermium 100 Fm (257)	Mendelevium 101 Md (258)	Nobelium 102 No (259)	Lawrencium 103 Lr (262)



جداول مرجعية

جداول مرجعية

العناصر في كل عمود تسمى مجموعة، ولها خواص كيميائية متشابهة.

غاز
سائل
صلب
مُصنَّع

العنصر
العدد الذري
الرمز
الكتلة الذرية المتوسطة

حالة المادة

الرموز الثلاثة العليا تدل على حالة العنصر في درجة حرارة الغرفة، بينما يدل الرمز الرابع على العناصر المصنَّعة.

1	Hydrogen 1 H 1.008	2							
2	Lithium 3 Li 6.941	Beryllium 4 Be 9.012							
3	Sodium 11 Na 22.990	Magnesium 12 Mg 24.305	3	4	5	6	7	8	9
4	Potassium 19 K 39.098	Calcium 20 Ca 40.078	Scandium 21 Sc 44.956	Titanium 22 Ti 47.867	Vanadium 23 V 50.942	Chromium 24 Cr 51.996	Manganese 25 Mn 54.938	Iron 26 Fe 55.845	Cobalt 27 Co 58.933
5	Rubidium 37 Rb 85.468	Strontium 38 Sr 87.62	Yttrium 39 Y 88.906	Zirconium 40 Zr 91.224	Niobium 41 Nb 92.906	Molybdenum 42 Mo 95.94	Technetium 43 Tc (98)	Ruthenium 44 Ru 101.07	Rhodium 45 Rh 102.906
6	Cesium 55 Cs 132.905	Barium 56 Ba 137.327	Lanthanum 57 La 138.906	Hafnium 72 Hf 178.49	Tantalum 73 Ta 180.948	Tungsten 74 W 183.84	Rhenium 75 Re 186.207	Osmium 76 Os 190.23	Iridium 77 Ir 192.217
7	Francium 87 Fr (223)	Radium 88 Ra (226)	Actinium 89 Ac (227)	Rutherfordium 104 Rf (261)	Dubnium 105 Db (262)	Seaborgium 106 Sg (266)	Bohrium 107 Bh (264)	Hassium 108 Hs (277)	Meitnerium 109 Mt (268)

صفوف العناصر الأفقية تسمى دورات. يزداد العدد الذري من اليسار إلى اليمين في كل دورة.

يدل السهم على المكان الذي يجب أن توضع فيه هذه العناصر في الجدول. لقد تم نقلها إلى أسفل الجدول توفيراً للمكان.

سلسلة اللانثانيدات
سلسلة الأكتينيدات

الرقم المحاط بقوسين هو العدد الكتلي للنظير الأطول عمراً للعنصر.

Cerium 58 Ce 140.116	Praseodymium 59 Pr 140.908	Neodymium 60 Nd 144.24	Promethium 61 Pm (145)	Samarium 62 Sm 150.36
Thorium 90 Th 232.038	Protactinium 91 Pa 231.036	Uranium 92 U 238.029	Neptunium 93 Np (237)	Plutonium 94 Pu (244)

